

## شكراً لتحميلك هذا الملف من موقع المناهج العمانية



## اختبار قصير

[موقع المناهج](#) ← [المناهج العمانية](#) ← [الصف الخامس](#) ← [علوم](#) ← [الفصل الثاني](#) ← [الملف](#)

## التواصل الاجتماعي بحسب الصف الخامس



## روابط مواد الصف الخامس على تلغرام

[الرياضيات](#)

[اللغة الانجليزية](#)

[اللغة العربية](#)

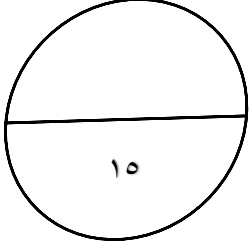
[التربية الاسلامية](#)

## المزيد من الملفات بحسب الصف الخامس والمادة علوم في الفصل الثاني

<a href="#">الاختبار النهائي الرسمي في محافظة جنوب الشرقية</a>	1
<a href="#">نموذج إجابة الاختبار النهائي الرسمي في محافظة الظاهرة</a>	2
<a href="#">نموذج إجابة الاختبار النهائي الرسمي في محافظة مسقط</a>	3
<a href="#">الاختبار النهائي الرسمي في محافظة ظفار</a>	4
<a href="#">الاختبار النهائي الرسمي في محافظة شمال الباطنة</a>	5



طالبتى المجيدة.  
الصف الخامس



طريق النجاح مزدحم  
لكن طريق التميز خالٍ  
فكوني أتي أول من يمرون به

مدرسة راس الجبل للتعليم الاساسي ١-١٢



١. كان عمر يبحث عن لعبته التي سقطت أسفل الدرج ومع أنه استخدم مصدراً للضوء لكنه لم يستطع رؤيتها

ما السبب في رأيك لعدم وصول الضوء لمكان اللعبة؟ (درجة)

تم تحميل هذا الملف من

موقع المناهج العُمانية

٢. صلي درجة الظل المناسبة لكل مادة مما يلي (درجتين)

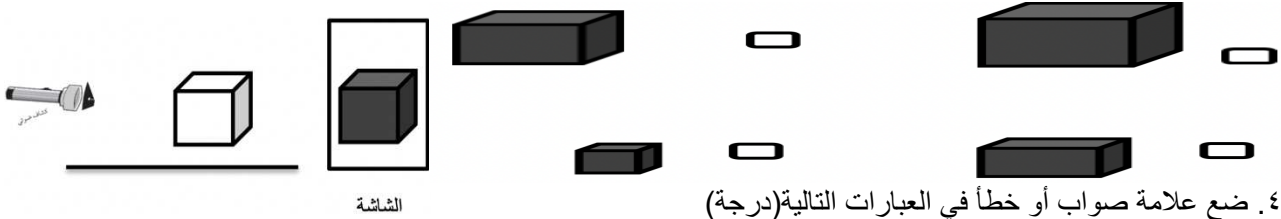


منديل ورقي

قطعة خشب

زجاج شفاف

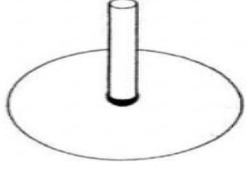
٣. عند تقرب الجسم من مصدر الضوء، ما هو حجم الظل المتكون على الشاشة (اختاري الصواب) (درجة)



الشاشة

٤. ضع علامة صواب أو خطأ في العبارات التالية (درجة)

صواب أو خطأ	العبارة
	شدة الضوء كمية الضوء الساقطة على مساحة معينة
	تتغير أطوال الظلال طوال اليوم



٥. الشكل المقابل يمثل مزولة شمسية، من خلال موضع وحجم الظل فإن الوقت سيكون تقريباً (اختاري الصواب) (درجة)

٦ عصرأ ٦ عصرأ ١٢ ظهرأ ٤ عصرأ ٧٠ صباحأ

٦. استخدمت ريم منشوراً زجاجياً لتشكيل قوس المطر في يوم ملبد بالغيوم. (درجة)

هل تعتقدي أنها سوف تتجح في تشكيل قوس المطر؟ نعم لا (اختاري الصواب)

فسري السبب .....

٧. الوحدة المستخدمة لقياس الضوء؟ (اختاري الصواب) (درجة)

٠ النيوتن ٠ اللوكس ٠ الجرام ٠ المتر

٨. كان أحمد وفهد يلعبان لعبة الصورة الظلية ،

أ. عددي شرطين لا بد من توفرهما ليتكون الظل

..... (درجتين)

ب. ماذا استخدم فهد وأحمد كمصدر الضوء..... (درجة)

ج. ما الذي قد يحدث لظل كلاً من أحمد وفهد إذا

اقترب أحمد من الجدار..... (درجة)

ابتعد فهد عن الجدار..... (درجة)

٩. ما اسم الأداة الموجودة في الشكل؟ (درجة)

.....

ما هي استخداماتها؟ (درجة)

.....



" انتهت الأسئلة مع تمنياتنا للجميع بالنجاح والتفوق "