

تم تحميل هذا الملف من موقع المناهج العُمانية



*للحصول على أوراق عمل لجميع الصفوف وجميع المواد اضغط هنا

<https://almanahj.com/om>

* للحصول على أوراق عمل لجميع مواد الصف الخامس اضغط هنا

<https://almanahj.com/om/5>

* للحصول على جميع أوراق الصف الخامس في مادة اجتماعيات ولجميع الفصول, اضغط هنا

<https://almanahj.com/om/5social>

* للحصول على أوراق عمل لجميع مواد الصف الخامس في مادة اجتماعيات الخاصة بـ الفصل الثاني اضغط هنا

<https://almanahj.com/om/5social2>


* لتحميل كتب جميع المواد في جميع الفصول للـ الصف الخامس اضغط هنا

<https://almanahj.com/om/grade5>

* لتحميل جميع ملفات المدرس علي بن محمد الحسان اضغط هنا

للتحدث إلى بوت على تلغرام: اضغط هنا

https://t.me/omcourse_bot



مذكرة إثرائية لمادة

الدراسات الاجتماعية

2020-2021

الصف الخامس

الفصل الدراسي الثاني

الوحدة الأولى

(جغرافية الوطن العربي البشرية)

سؤال وجواب

إعداد :

علي بن محمد الحسان

للتواصل :

99493923

Ali 47536@moe.om

" مصادر الطاقة في الوطن العربي "

السؤال الأول : ضع علامة (✓) أو (✗) أمام العبارة المناسبة مع تصحيح ماتحته خط إذا كانت العبارة خطأ :

- ١- (✓) الطاقة عنصر مهم في إحداث التقدم الحضاري وهي في كل مكان حولنا .
- ٢- (✗) تقع ولاية شليم وجزر الحلايبات في محافظة الوسطى . . ظفار
- ٣- (✗) من أهم مصادر الطاقة الغير متجددة في الوطن العربي مصدر الفحم الحجري . النفط

السؤال الثاني : أكمل مايلي بكلمات مناسبة من عندك :

- ١- تنقسم الطاقة إلى نوعين مصادر متجددة ومصادر غير متجددة .
- ٢- نفذت وزارة التربية والتعليم بالتعاون مع شركة شل للتنمية مشروعاً للطاقة الشمسية .
- ٣- أكبر الدول العربية إنتاجاً للنفط عام ٢٠١٦ كانت السعودية .

السؤال الثالث : ضع دائرة حول الإجابة الصحيحة من بين البدائل المعطاه :

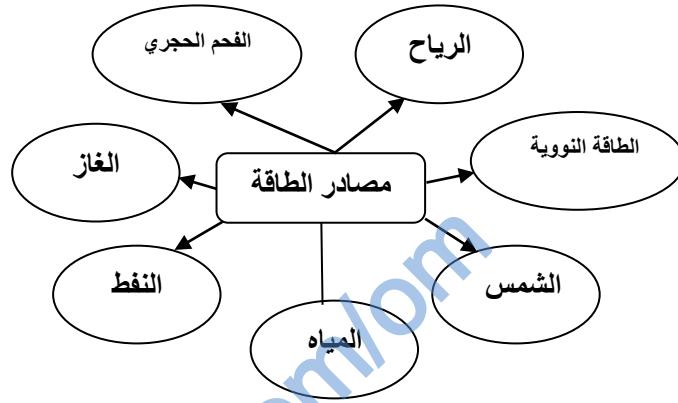
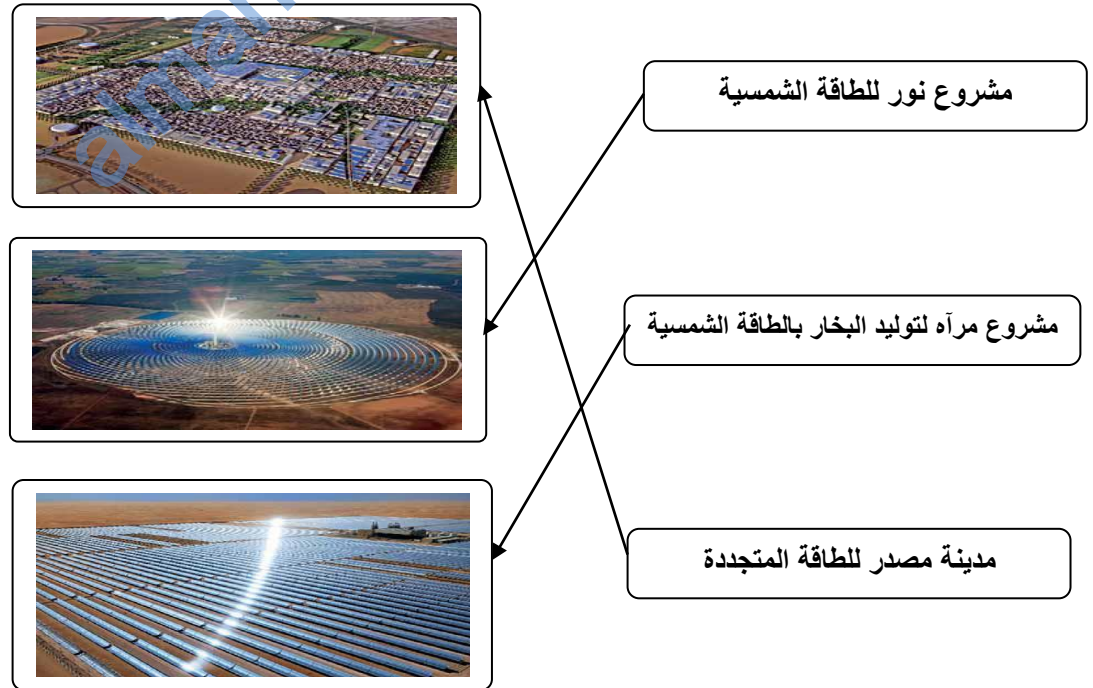
- ١- تتصدر دولة ... الدول العربية في إنتاج الغاز الطبيعي .
(سلطنة عمان - قطر - الكويت)
- ٢- يعد ... من مصادر الطاقة المهمة في الوطن العربي نظرا لتوفره بكميات كبيرة .
(النفط - الطاقة الشمسية - الغاز الطبيعي)
- ٣- يعتبر مشروع حقل ... في محافظة الظاهرة من أكبر مشاريع إنتاج الغاز الطبيعي في سلطنة عمان .
(خزان - وهران - ميزان)
- ٤- يعتبر مشروع بولاية شليم وجزر الحلايبات من المشاريع القائمة على الطاقة المتجددة .
(شمس - نور - مرآه)

السؤال الرابع : علل مايلي " أذكر السبب " :

- س ١ : تسمية الطاقة غير المتجددة بهذا الإسم ؟
ج١ : لأنها توجد في الطبيعة بكميات محدودة فإذا نضبت لا يمكن تجديدها .
- س ٢ : يعد الوطن العربي من المواقع الملائمة لإقامة مشاريع من الطاقة الشمسية ؟
ج٢ : لأن الوطن العربي يقع ضمن المنطقة الحارة على خط الاستواء

السؤال الخامس : أكمل الجدول التالي :

الدولة	حقل نفط	ميناء تصدير نفط
سلطنة عمان	فهود - مرمول	ميناء الفحل
العراق	كركوك	ميناء البصرة
ليبيا	آمال - زلطن	البريقة

السؤال السادس : أكمل الشكل التالي بكتابة مصادر الطاقة :**السؤال السابع : صل بخط بين إسم المشروع وصورته :**

السؤال الثامن : أجب عن الأسئلة التالية :

س ١ : عرف الطاقة ؟

ج ١ : هي القوة المحركة للأشياء

س ٢ : ما الفرق بين الطاقة المتجددة والطاقة غير المتجددة ؟

ج ٢ : الطاقة المتجددة : هي مصادر الطاقة التي لا تنضب وتتجدد تلقائياً في الطبيعة .
- الطاقة غير المتجددة : هي التي توجد في الطبيعة بكميات محدودة فإذا نضبت لا يمكن تجديدها .

س ٣ : " للغاز الطبيعي عدة استخدامات " اذكر ثلاثة منها ؟

ج ٣ : ١- توليد الطاقة الكهربائية .

٢- تشغيل محطات تحلية مياه البحر .

٣- تعتبر مادة خام لبعض الصناعات .

٤- يعتبر وقود للطبخ والتدفئة .

almanahj.com/om

درس : " الأنشطة الاقتصادية في الوطن العربي "

السؤال الأول : ضع علامة (✓) أو (✗) أمام العبارة المناسبة مع تصحيح ما تحته خط إذا كانت العبارة خطأ :

- ١- (✗) عرف السكان في الوطن العربي الزراعة منذ القدم على ضفاف البحار . الأنهار
- ٢- (✗) في إطار اهتمام السلطنة بالزراعة فقد وجه جلاله السلطان قابوس "طيب الله ثراه" بتنفيذ مشروع الألف نخله عام ٢٠٠٩ . مليون
- ٣- (✓) يقصد بالمواد الخام هي المواد الطبيعية (زراعية أو حيوانية أو معدنية) غير مصنعة وقابلة للتصنيع .
- ٤- (✗) يعتبر استخراج النفط والغاز والتقيب عن المعادن من الصناعات التحويلية . الاستخراجية

السؤال الثاني : أكمل ما يلي بكلمات مناسبة من عندك :

- ١- من أهم الأنشطة الاقتصادية التي يمارسها السكان في الوطن العربي الزراعة والصناعة والسياحة .
- ٢- ينتج الوطن العربي العديد من المحاصيل الزراعية مثل الحبوب الغذائية والخضروات والفواكه .
- ٣- ساعد توفر النفط والغاز الطبيعي في الوطن العربي على قيام الصناعات الحديثة مثل البتروكيماويات والأسمدة والألمنيوم .
- ٤- الصناعات القائمة على البتروكيماويات صناعة البلاستيك ومواد التنظيف .

السؤال الثالث : ضع دائرة حول الإجابة الصحيحة من بين القوسين :

- ١- من أكثر المحاصيل الزراعية إنتاجاً في سلطنة عمان
(الطماطم - التمور - الليمون)
- ٢- يطلق على تغير شكل وطبيعة المواد الخام إلى شكل آخر تلبية لحاجات الإنسان اسم ...
(صناعة - زراعة - تجارة)
- ٣- إنشأت السلطنة عدداً من المناطق الصناعية وتعد إحدى المناطق المهمة للاستثمار المحلي والعالمي .
(نزوى - صلالة - صحار)
- ٤- حركة الأفراد والجماعات من أماكن إقامتهم إلى أماكن أخرى بغرض أداء مهمة معينة أو زيارة مكان أو بغرض الترفيه .
(التجارة - السياحة - الصناعة)

السؤال الرابع : اختر من بين القوسين الصناعة المناسبة وضعها في مكانها الصحيح في الجدول التالي

- (صناعة المنسوجات الصوفية - صناعة الذهب - صناعة الألبان - صناعة السكر -
صناعة الزيوت النباتية - صناعة الأسلاك الكهربائية)

معدنية	حيوانية	زراعية
صناعة الذهب	صناعة المنسوجات الصوفية	صناعة السكر
صناعة الاسلاك الكهربائية	صناعة الألبان	صناعة الزيوت النباتية

السؤال الخامس : صنف ما بين القوسين إلى صناعات استخراجية وصناعات تحويلية وضعها في الجدول التالي

(صيد الأسماك - صناعة البلاستيك - استخراج النفط والغاز - صناعة الزجاج - التنقيب عن المعادن -
تعليب الخضار والفواكه - صناعة الأثاث - استخراج اللؤلؤ)

**السؤال السادس : من خلال الجدول أجب عن الأسئلة التالية :**

الإنتاج بالآلف طن (عام ٢٠١٤)					الدولة
الليمون	التمور	الطماطم	البطاطس	القمح	
٦	٣١٧	٧٥	٥	٣	سلطنة عمان
٢٦	١٠	٥٩٤	٣٦٦	٣٩	الأردن
٢٥٥	٤٤١	٥٦٧	٣٤٧	١٩٢	السودان
٤٤	١٩٥	١٢٠٠	٣٨٥	١٥١٣	تونس

- ١- أكثر المحاصيل الزراعية إنتاجاً في سلطنة عمان هي التمور وأقلها القمح .
- ٢- أكثر الدول العربية إنتاجاً للقمح هي تونس والليمان السودان .
- ٣- أقل الدول العربية إنتاجاً للبطاطس هي سلطنة عمان والتمور الأردن .
- ٤- ما عدد الأطنان للمحاصيل في الدول التالية : السودان (الطماطم) ٥٦٧ والأردن (البطاطس) ٣٦٦ تونس (الليمان) ٤٤ .

السؤال السابع : أجب عن الأسئلة التالية :

س ١ : " ساعدت عدة عوامل في تنوع الأنشطة الاقتصادية التي يمارسها السكان في الوطن العربي " أذكر هذه العوامل ؟

ج ١ : ١- الموقع الجغرافي ٢- المناخ ٣- العوامل الطبيعية

س ٢ : تعد الزراعة من الأنشطة الاقتصادية المهمة في الوطن العربي وذلك لعدة أسباب " أذكر ثلاثة من هذه الأسباب ؟

ج ٢ : ١- مصدر رئيس للغذاء . ٢- مصدر مهم للدخل الوطني ,
٣- توفر فرص عمل للسكان . ٤- توفر المواد الخام اللازمة للصناعة

س ٣ : تعد الصناعة من الأنشطة الاقتصادية المهمة في الوطن العربي " لماذا ؟

ج ٣ : لأن الصناعة تعتبر مصدر مهم للدخل ويوفر فرص عمل للسكان .

س ٤ : " اهتمت دول الوطن العربية بتطوير قطاع الصناعات الغذائية التي تعتمد على الزراعة " أذكر ثلاثة من هذه الصناعات ؟

ج ٤ : ١- الالبان ومشتقاتها ٢- تكرير السكر ٣- تعليب الخضروات والفواكه ٤- استخراج الزيوت النباتية ٥- تغليف التمور

س ٥ : " تعد السياحة من الأنشطة الاقتصادية المهمة في الوطن العربي " وضح ذلك ؟

ج ٥ : ١- لأنها تشكل مصدراً مهماً للدخل . ٢- توفر فرص عمل لعدد كبير من السكان ,
٣- تنمي العلاقات والتبادل الثقافي بين الشعوب .

س ٦ : " هناك عدة عوامل للجذب السياحي في الوطن العربي " أذكر ثلاثة من هذه العوامل ؟

ج ٦ : ١- تنوع المناخ ٢- المحميات الطبيعية
٣- الخدمات السياحية ٤- المواقع الأثرية

س ٧ : " أهتمت الدول العربية بالسياحة حيث أنشأت الخدمات السياحية وتطويرها " أذكر ثلاثة من هذه الخدمات ؟

ج ٧ : ١- وفرت وسائل النقل ٢- أنشأت الفنادق والمطاعم ٣- إقامة المهرجانات المختلفة .
٤- إقامة المعارض ٥- أنشأت المتنزهاة

س ٨ : " تزخر سلطنة عمان بمقومات سياحية عديدة جعلتها وجهة سياحية مهمة " وضح ذلك ؟

ج ٨ : تتميز السلطنة بتنوع مناخها وبيئاتها الطبيعية كالجبال والصحاري والشواطئ والكهوف والأودية كذلك تتميز بقلعتها وحصونها وأسواقها الشاهدة على تاريخها العريق .