

## شكراً لتحميلك هذا الملف من موقع المناهج العمانية



## مراجعة دروس الوحدة السادسة حركات الأرض

[موقع المناهج](#) ⇐ [المناهج العمانية](#) ⇐ [الصف الخامس](#) ⇐ [علوم](#) ⇐ [الفصل الثاني](#) ⇐ [الملف](#)

تاريخ نشر الملف على موقع المناهج: 2024-02-12 04:17:06 | اسم المدرس: منى الشبلي وإيمان الشبلي

## التواصل الاجتماعي بحسب الصف الخامس



## روابط مواد الصف الخامس على تلغرام

[الرياضيات](#)

[اللغة الانجليزية](#)

[اللغة العربية](#)

[التربية الاسلامية](#)

## المزيد من الملفات بحسب الصف الخامس والمادة علوم في الفصل الثاني

[مراجعة عامة في الوحدة السادسة حركات الأرض](#)

1

[مراجعة الوحدة الخامسة الظلال](#)

2

[مراجعة دروس الوحدة الخامسة الظلال](#)

3

[مراجعة دروس الوحدة الرابعة الطريقة التي نرى بها الأشياء](#)

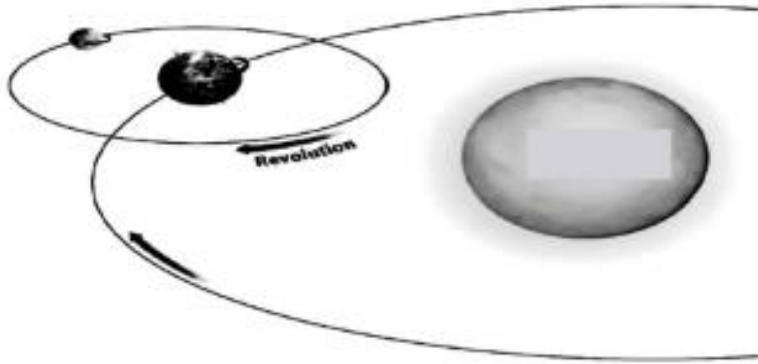
4

[كراسة التفوق في الوحدة الرابعة الطريقة التي نرى بها الأشياء](#)

5

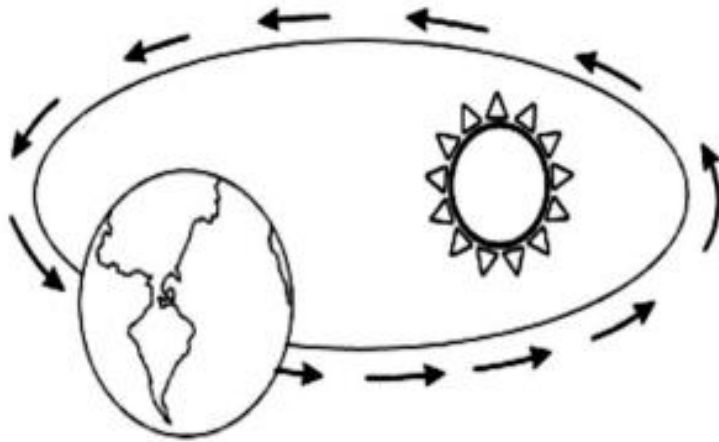
### نشاط صفي (١):

يوضح الشكل حركات الأرض والقمر حول الشمس :  
 (أ) ضع الكلمات التالية في مكانها المناسب على الرسم السابق (الشمس ، القمر ، الأرض ، مدار القمر حول الأرض ، مدار الأرض حول الشمس)



### نشاط صفي (٢):

يوضح الشكل حركة الأرض حول الشمس  
 أكمل الرسم السابق برسم القمر والمدار الذي يدور فيه



### الوحدة السادسة : الدرس الأول : الشمس والأرض والقمر (٦-١)

استطيع أن : تقييم معايير النجاح

- ١- أستطيع أن أصنع نموذج لعرض كيف يدور القمر حول الأرض بينما تدور الأرض حول الشمس.
- ٢- أستطيع أن أقوم بملاحظات واعية ومفيدة لتحديد أوجه التشابه أو الاختلافات الطفيفة أو التغيرات.

الدرس الأول: (الشمس والأرض والقمر)

يدور القمر حول الأرض وتدور الأرض حول الشمس... (لأن الأجرام الصغيرة تدور حول الأجرام الكبيرة)

نطلق جميع النجوم الضوء كالشمس. تعكس الكواكب ضوء الشمس مثل الأرض. يعكس القمر كذلك ضوء الشمس.



المدار : هو المسار الذي يسلكه جرم في الفضاء حول جرم أكبر منه مثل دوران الأرض حول الشمس ودوران القمر حول الأرض..  
 ويكون الدوران عكس عقارب الساعة  
 شكل المدار : بيضاوي

### ١- الفرق بين النجم والكوكب

.....

## الوحدة السادسة: الدرس الثاني : (٦-٢) هل تتحرك الشمس؟

استطيع أن :

تقييم معايير النجاح



- ١/ أستخدم نموذج لشرح لماذا تبدو الشمس وكأنها تتحرك عبر السماء.
- ٢- أستخدم معرفتي العلمية لشرح الملاحظات والقياسات.
- ٣- اتبأ مستخدماً المعرفة العلمية وأن أشرح كيف يمكنني اختبار تنبؤاتي.
- ٤- أقوم بملاحظات واعية ومفيدة لتحديد أوجه التشابه أو الاختلافات الطفيفة أو التغيرات.
- ٥- أفسر متى أحتاج لتكرار القياس أو الملاحظة للتحقق من النتائج.

الدرس الثاني: (هل تتحرك الشمس؟)

رغم مشاهدتنا للشمس وكأنها تتحرك خلال النهار إلا ان الأرض هي التي تتحرك (لأنه لا يمكن لجرم كبير ان يدور حول جرم أصغر منه)



فشروق وغروب الشمس يختلف من شهر لآخر، فالشروق يكون في منتصف الجهة تماماً (شرق) فقط في الربيع أو الخريف.

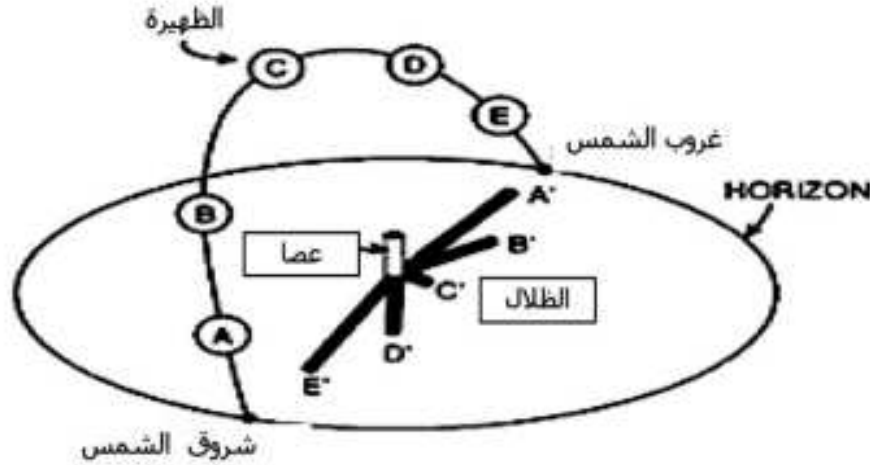
ويكون مائلاً ناحية الشمال (الشمال الشرقي) في الصيف وناحية الجنوب (الجنوب الشرقي) في الشتاء.

وكذلك الحال بالنسبة للغروب ويمكن ملاحظة ذلك من خلال الرسم في الشكل

الشمس تشرق من الشرق وتغرب الى الغرب . الشمس على اليسار : فترة المساء (والظل يمين) الشمس على اليمين : فترة الصباح (والظل يسار) الظل طويل : اول النهار واخر النهار ، الظل قصير منتصف النهار

**نشاط تحدي (١):** يوضح الشكل متابعة أحد الطلبة لحركة الشمس الظاهرية

في السماء وقام برسم تقريبي لحركة الشمس كما بالشكل



أ/ المناطق التي تكون فيها الشمس في فترة الصباح هي

.....و.....

ب/ المنطقة التي تكون فيها الشمس في ساعات المساء هي

.....و.....

ج/ تبدأ حركة الشمس من المنطقة ..... و تنتهي عند المنطقة

.....

د/ أقصر طول للظل يكون عندما تكون الشمس في المنطقة .....

س/ هل تتحرك الشمس فعلاً في المخطط السابق ؟

( ) نعم ( ) لا ( تخير الصواب)

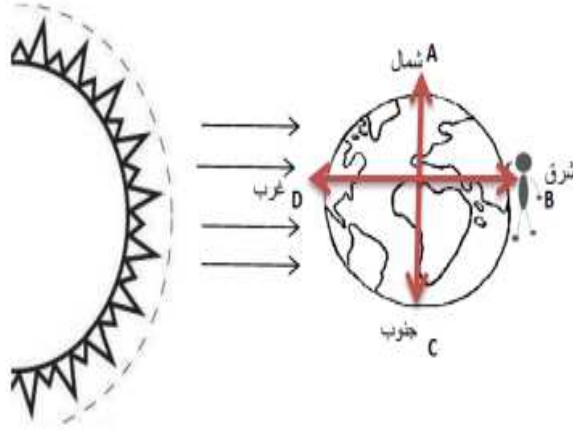
فسر اجابتك

.....

.....

مثال:

في حال طلب تحديد الاتجاه الصحيح لدوران الأرض حول محورها باستخدام الرمز نرسم الاتجاهات:



بما أنا اتجاه دوران الأرض حول محورها  
من الغرب إلى الشرق سيكون الرمز  
الصحيح من (D إلى B)

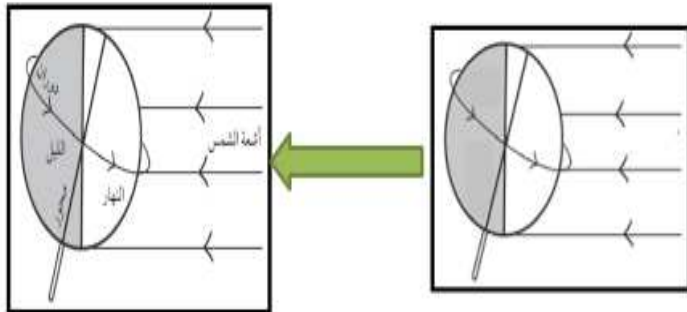
عند B يكون ليلاً ، وعند D يكون نهارة

في حال بقي الشخص الموجود في الشكل في مكانه أي عند الموقع B فلهذا:

إذا دار الكوكب دوره كامله سيكون الوقت ليلاً

إذا دار الكوكب نصف دوره سيكون الوقت نهارة

• حدد على الشكل المسمى الصحيح لدوران الأرض حول محورها :



## الوحدة السادسة : الدرس الثالث (٦-٣) دوران الأرض حول محورها

- استطيع أن :** **تقييم معايير النجاح**
- ١- أحدد المدة الزمنية التي تستغرقها الأرض للدوران حول محورها مرة واحدة.
  - ٢- أستخدم نموذج لتوضيح كيف تدور الأرض حول نفسها وأن أصف محورها.
  - ٣- اتنبأ مستخدماً المعرفة العلمية وأن أشرح كيف يمكنني اختبار تنبؤاتي.
  - ٤- أستطيع أن أقوم بملاحظات واعية ومفيدة لتحديد أوجه التشابه أو الاختلافات الطفيفة أو التغيرات.

١- الدوران هو .....  
تدور الأرض حول محورها من الغرب إلى الشرق خلال يوم كامل فينتج عنه .....

لا نشعر بحركة الأرض لان حجم الأرض كبير جداً.

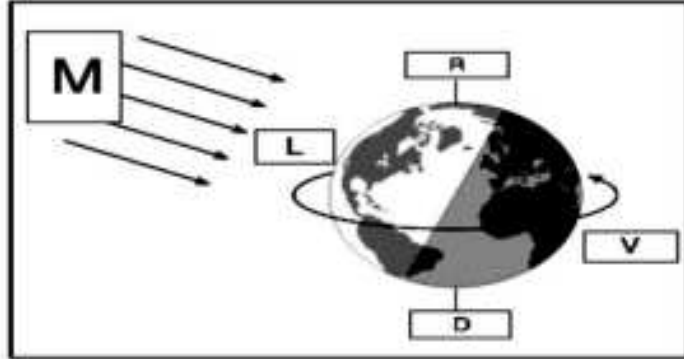
الجهة المقابلة للشمس (نهار) والبعيدة عن الشمس (الليل)

لذلك يختلف الوقت من بلد إلى آخر حسب الموقع من الأرض

يختلف دوران الكواكب حول نفسها فمنها ما يستغرق اباناً (مثل: عطارد والزهرة) ومنها يستغرق ساعات مثل (الأرض والمريخ والمشتري)



**نشاط تحدي (١):** يوضح الشكل رصد مناطق مختلفة على الأرض ومتابعة حدوث الليل والنهار فيها :

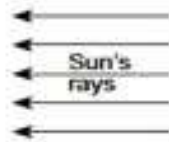
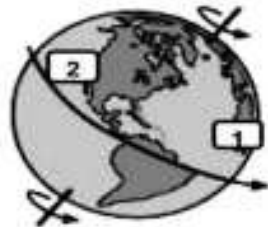


أ/ تدور الأرض حول نفسها خلال .....  
 ب/ الوقت اللازم لتصل النقطة (L) الى نفس موقعها مرة أخرى .....  
 ج/ إذا أراد شخص يسكن في المنطقة (L) الاتصال بشخص ساكن في المنطقة (V) فما هو الوقت الأنسب للاتصال ؟ ( ) صباحا ( ) مساء  
 فسر اجابتك .....

**نشاط تحدي (٢):** من الشكل المقابل :

أ/ الوقت اللازم لوصول النقطة (١) الى مكان النقطة (٢) هو :

( ) ١٢ س ( ) ٦ س ( ) ٢٤ س ( ) ٤ س  
 ب/ يكون التوقيت في المنطقة (٢) .....



ج/ ما سبب تعاقب الليل والنهار .....

**نشاط صفي (١):** ضع علامة (√) أو (x) أمام العبارة حسب ما يناسبها

م	العبارة
١	تكون الأرض عمودية حول محورها
٢	تدور الأرض حول محورها من الغرب الى الشرق
٣	تكمل الأرض دورة واحدة حول محورها خلال ٤٢ ساعة
٤	ينتج الليل والنهار من دوران الأرض حول نفسها

**نشاط صفي (٢):** يوضح الشكل الحركات التي تتحركها الأرض :



أ/ رمز الحركة التي تنتج ظاهرة الليل والنهار .....  
 فسر اجابتك .....

**نشاط صفي (٣):** ادرس الشكل الذي يوضح دوران الأرض حول محورها :

أ/ رقم المناطق التي يحدث فيها النهار هي

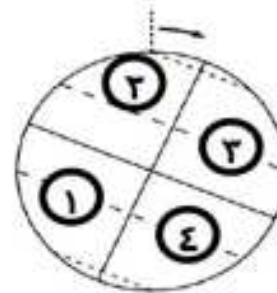
..... و.....

ب/ رقم المناطق التي يحدث فيها الليل هي

..... و.....

ج/ ضع كلمة (محور الأرض) في مكانها

المناسب على الشكل



## الوحدة السادسة : الدرس الرابع (٦-٤) شروق الشمس وغروبها.

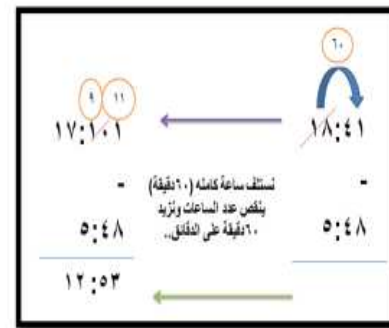
**استطيع أن :** **تقييم معايير النجاح** 😊 😐 😞

- ١- أشرح طول النهار وكيف يؤدي دوران الأرض إلى شروق الشمس وغروبها .
- ٢- أفسر متى أحتاج لتكرار القياس أو الملاحظة للتحقق من النتائج.
- ٣- أستخدم معرفتي العلمية لشرح الملاحظات والقياسات.
- ٤- انتبأ مستخدماً المعرفة العلمية وأن أشرح كيف يمكنني اختيار تنبؤاتي.
- ٥- أرسم جدول منظم وتمثيل بياني بالأعمدة يتسم بالدقة.
- ٦- أرسم تمثيل خطي على محاور معدة مسبقاً.
- ٧- أستخدم بيانات استقصاء ما للتوصل إلى استنتاج.
- ٨- أفسر ما إذا كانت البيانات المتاحة كافية للتوصل إلى استنتاج أم لا.

١- الأفق هو.....

**شروق الشمس:** تبدو الشمس وكأنها تشرق أعلى الأفق. **غروب الشمس:** تبدو الشمس وكأنها تنزل أسفل الأفق .

**يبدو لنا أن الشمس تتحرك أثناء الشروق والغروب بسبب دوران الأرض حول محورها**



التاريخ	وقت الشروق الشمس	وقت غروب الشمس	طول النهار	الفرق
٢٠١٩/٤/١٨	٥:٤٨	١٨:٤١	١٢ ساعة و٥٣ دقيقة	
٢٠١٩/٤/١٩	٥:٤٧	١٨:٤٢	١٢ ساعة و٥٥ دقيقة	٢ دقيقة
٢٠١٩/٤/٢٠	٥:٤٦	١٨:٤٢	١٢ ساعة و٥٦ دقيقة	١ دقيقة

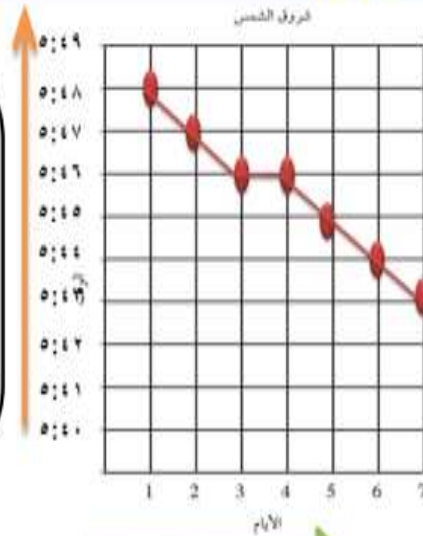
**طريقة حساب طول النهار تحسب بطرح وقت الغروب من وقت الشروق**  
اما الفرق فيحسب فرق الدقائق وهل يطول اليوم ام يقصر

**اختلاف اوقات الشروق والغروب في اشهر السنة بسبب دوران الأرض حول الشمس**

في الصيف يكون النهار طويل والليل قصير، وفي الشتاء يكون النهار قصير والليل طويل

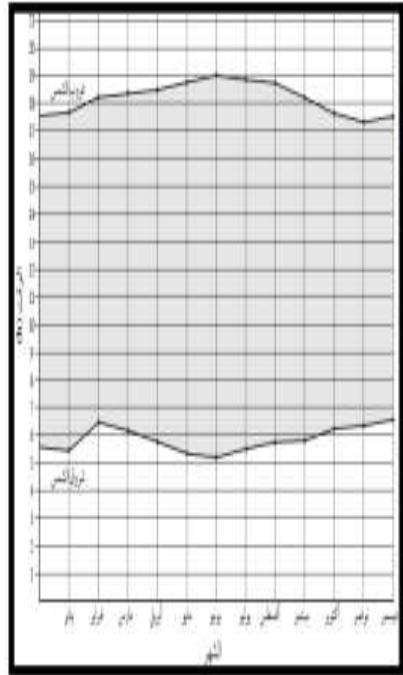
في عمان (الصيف في : مايو ويونيو ويوليو وأغسطس، الشتاء في: ديسمبر ويناير وفبراير وبداية مارس)

### التمثيل البياني للشروق:



من خلال الرسم البياني نلاحظ ان شروق الشمس يتقدم ففي اليوم الاول الشروق الساعة ٥:٤٨ صباحا ومع مرور الأيام يصل الشروق في اليوم السابع الساعة ٥:٤٣ صباحا.

تقدم شروق الشمس دليل على ان طول النهار يزداد اي انه من خلال الرسم البياني نستنتج انه يمثل فترة الصيف



مثال:

ماذا تمثل المساحة تحت المنحنى؟

طول النهار لأنه يدرس (الفرق بين الشروق والغروب)

اي الأشهر يكون طول النهار اقصر ما يمكن؟ فبراير

من خلال الرسم البياني اذا علمت ان طول النهار في ٢٤ أبريل (١٢ ساعة و ١٠ دقائق) كيف سيكون طول النهار بعد شهرين؟

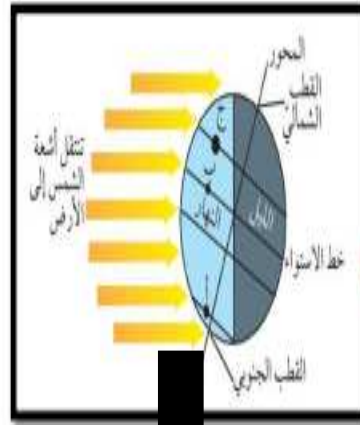
( اطول لان النهار يزداد طولاً بسبب الانتقال لفصل الصيف (شهر يونيو) نتيجة اقتراب الأرض من الشمس وميلان محور دورانها حول نفسها)



الوحدة السادسة : الدرس الخامس : (٦-٥) دوران الأرض حول الشمس

استطيع أن : **تقييم معايير النجاح** 😊 😐 😞

- ١- أحدد المدة الزمنية التي تستغرقها الأرض لتدور حول الشمس.
- ٢- اكتباً مستخدماً المعرفة العلمية وأن أشرح كيف يمكنني اختبار تنبؤاتي..



من خلال الشكل نلاحظ الخط المنصف الليل والنهار ثم نلاحظ محور الأرض

القطب الشمالي يقع بالكامل في منطقة الليل فيكون (٢٤ ساعة ليلاً) أي فصل الشتاء..

أما القطب الجنوبي فيقع بالكامل في منطقة النهار أي (٢٤ ساعة نهار) كما في الجزء (أ)

عند النقطة (ج) يكون الجزء الأكبر في منطقة الليل والجزء الأقل في منطقة النهار.. (أي نهار قصير والليل طويل)

المنطقة (ب) تمثل مناطق خط الاستواء يعني يتساوى الليل مع النهار (١٢ ساعة نهار) (١٢ ساعة ليل) ..

إذاً من خلال الشكل يكون الجزء الشمالي شتاءً والجزء الجنوبي صيفاً..

التغير في طول النهار هو علامة على تغير الفصول.

تنشأ فصول السنة بسبب :

دوران الأرض حول الشمس مرة في العام  
وميلان محور الأرض.

تدور الأرض حول الشمس في مدار بيضاوي الشكل

تستغرق هذه الدورة لإكمال دورة واحدة

سنة واحدة

٣٦٥ يوماً

تدور الأرض حول

محورها

الشمس

تعتمد الفصول على أي نصف كرة تعيش فيه

عندما يسود الصيف في

**نصف الكرة الشمالي**

يسود الشتاء في

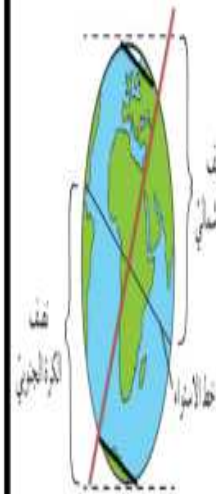
**نصف الكرة الجنوبي**

والسبب في هذا أن نصف الكرة الشمالي يميل باتجاه الشمس.

في الصيف: يكون النهار طويلاً والليل قصيراً.

عند خط الاستواء: لا تكون هناك

فصول مختلفة يتساوى طول النهار والليل في كل يوم من أيام السنة.

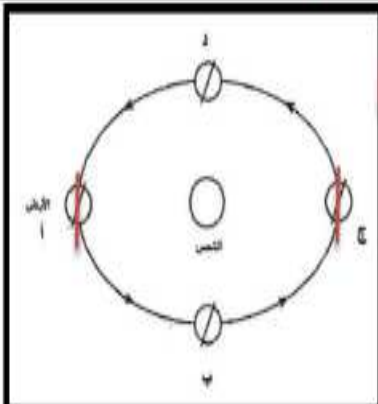


(أ) يمثل فصل الصيف في الجزء الشمالي

وبما الدوران عكس عقارب الساعة فيكون (ب) خريف و(ج) شتاء و(د) ربيع..

وعندما يكون الجزء الشمالي صيفاً يكون الجزء الجنوبي شتاءً..

ترتيب الفصول : **شتاء ثم ربيع ثم صيف ثم خريف** فإذا ابتدأ بأي فصل يمتد عليه نفس الترتيب مثلاً: (ربيع-صيف-خريف-شتاء) أو (خريف-شتاء-ربيع-صيف)



**نشاط صفي (٢):** ضع علامة ✓ أو × أمام العبارة حسب ما يناسبها:

م	العبارة
١	تحدث الفصول الأربعة نتيجة دوران الأرض حول نفسها
٢	من علامات تغير الفصول تغير طول النهار
٣	يتميز فصل الشتاء بنهار طويل وليل قصير
٤	عند خط الاستواء يتساوى طول الليل والنهار

**نشاط صفي (٣):** يوضح الشكل حركات الأرض المختلفة، ادرس الشكل ثم أجب عن الأسئلة:

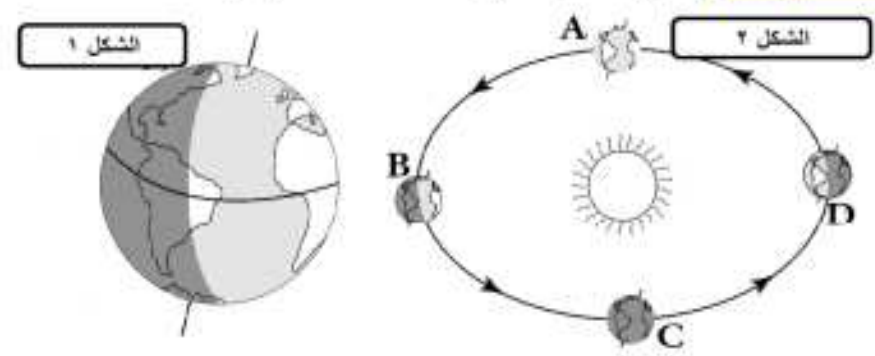


أ/ أكمل الجدول التالي وفقاً لمعرفتك السابقة حول حركات الأرض:

الشكل	مدة الدوران
(١)	
(٢)	

ب/ رقم الحركة التي ينتج عنها الفصول الأربعة هي.....

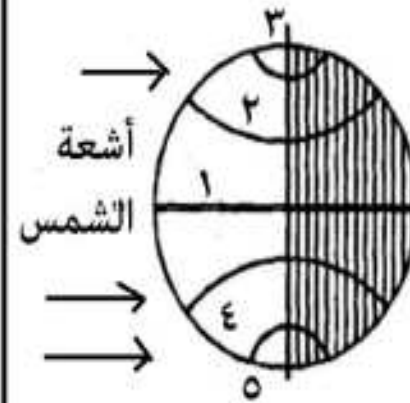
**نشاط صفي (١):** يوضح الشكل الحركات المختلفة للأرض .



أ/ أكمل الجدول التالي بعد دراستك للشكل :

الشكل	نوع حركة الأرض	ناتج الحركة (اسم الظاهرة)
(١)		
(٢)		

ب/ يوضح الشكل دوائر العرض في الكرة الأرضية ، حدد ارقام المناطق التالية :



١/ منطقة خط الاستواء .....

٢/ المناطق التي تقع في نصف الكرة الشمالي .....

٣/ المناطق التي تقع في نصف الكرة الجنوبي .....

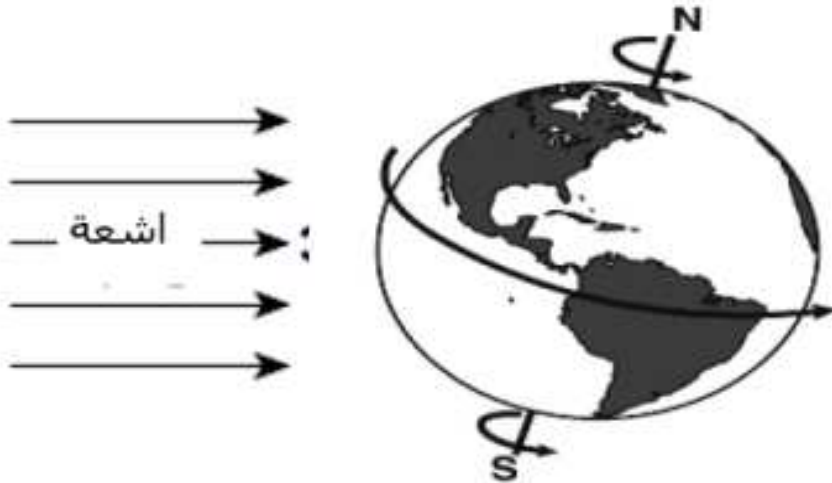


## نشاط تحدي (٧):

يوضح الجدول بعض البيانات التي أخذت من مناطق مختلفة ، ادرسه جيدا ثم أجب عن الأسئلة :

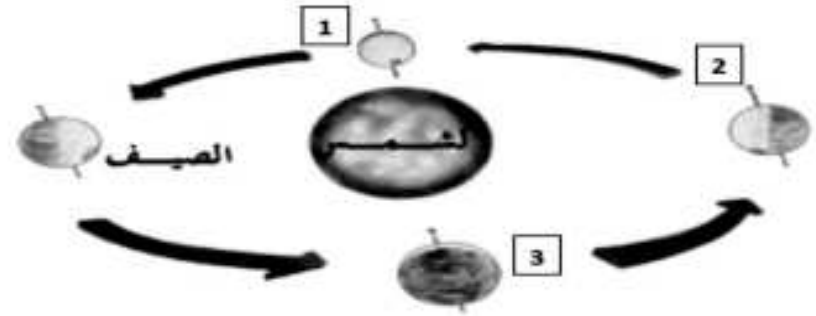
المنطقة	طول النهار	طول الليل
١	طويل	قصير
٢	قصير	طويل
٣	١٢ ساعة	١٢ ساعة

أ/ ضع النقاط ( ١,٢,٣ ) في مكانها المناسب على الشكل مستخدما معلومات الجدول السابق



ب/ صف النمط المتغير لطول النهار في منطقتك خلال الفترة من سبتمبر الى فبراير .....

## نشاط تحدي (٥): يوضح الشكل الآتي فصول السنة على الأرض:



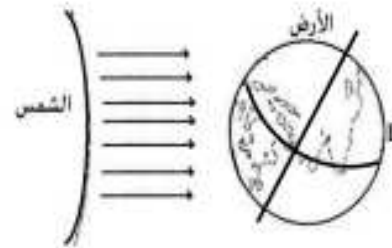
أ/ تنشأ فصول السنة بسببين هما:

- .....
- .....

ب/ أكمل ما يلي:

- الرقم ١ يمثل فصل .....
- الرقم ٢ يمثل فصل .....
- الرقم ٣ يمثل فصل .....

## نشاط تحدي (٦): أدرس الشكل الآتي:



أ/ إذا كان يوسف يقف عند النقطة (D)

ما التوقيت عند هذه النقطة ؟.....

ب/ تدور الأرض حول محورها في..... يوم

ج) ما نصف الكرة الذي يمر بفصل الشتاء ؟.....

د) ما الفصل الذي يأتي بعد فصل الشتاء ؟.....

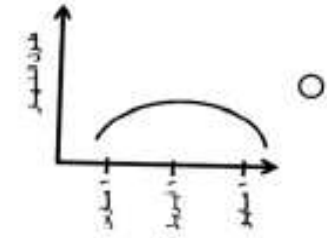
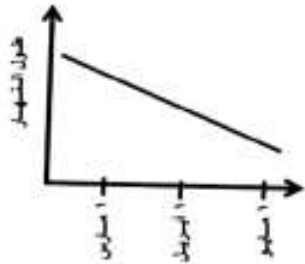
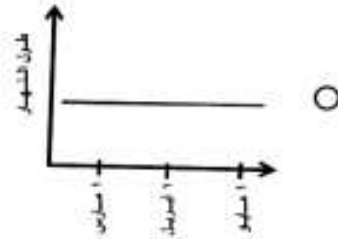
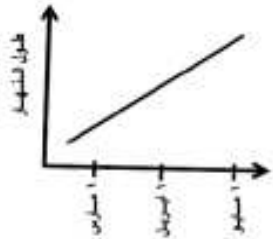
قامت فاطمة بدراسة أوقات الشروق والغروب لمدينة مسقط بداية كل شهر لثلاثة أشهر متتالية، فتوصلت إلى البيانات في الجدول الآتي:

١ مايو	١ أبريل	١ مارس	
05 : 33	06 : 00	06 : 29	الشروق
18 : 33	18 : 21	18 : 08	الغروب
			طول الليل

- (أ) يحدث الشروق والغروب بفعل حركة: [ ١ ]  
 (ظلل الدائرة المرسومة بجوار الإجابة الصحيحة)  
 الأرض حول الشمس.  الأرض حول محورها.  
 الشمس في الفضاء.  الشمس من الشرق إلى الغرب.

- (ب) أكمل الفراغ في الجدول السابق. [ ٢ ]

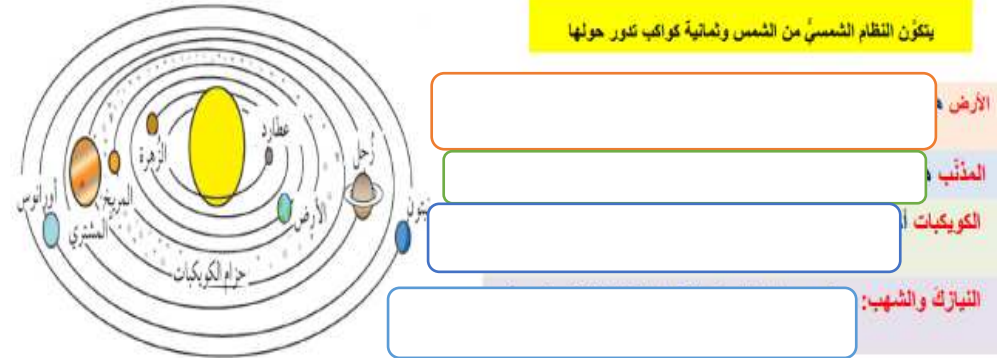
- (ج) أي الأنماط الآتية تمثل طول النهار حسب بيانات الجدول السابق؟ [ ١ ]  
 (ظلل الدائرة المرسومة بجوار الإجابة الصحيحة)



## الوحدة السادسة : الدرس السادس : (٦-٦) أستكشف النظام الشمسي.

- استطيع أن :** تقييم معايير النجاح 
- ١- أسمى عالمين على الأقل من العلماء الذين اكتشفوا النظام الشمسي وأصف ما اكتشفاه.  
 ٢- أتحدث عن كيفية استخدام أكثر من عالم الأدلة والتفكير الإبداعي للوصول إلى شئ جديد

يتكوّن النظام الشمسي من الشمس وثمانية كواكب تدور حولها



وصف اكتشافات العلماء للنظام الشمسي

**بطليموس** كيف يدور القمر والشمس والكواكب والنجوم حول الأرض.

**فراهامبيريرا وبراهماغويتا** أبدا مبدأ كروية الأرض والكواكب

**أريابهاتا** اتفق على أن الأرض كروية وذكر أن الدوران الظاهر للكواكب هو نتيجة للدوران الفعلي للأرض

**كوبرنيكوس**، لاحظ حركات الكواكب وأن الأرض وجميع الكواكب الأخرى تتحرك حول الشمس وقرّر أنّ بطليموس كان مخطئاً.

**غاليليو**، استخدم التليسكوب. ولاحظ أنّ كوكب الزهرة به أوجه مختلفة تتم إضاءتها بواسطة الشمس. أي أنّ كوكب الزهرة يتحرك حول الشمس.


وهذا ما اتفق غاليليو عليه مع كوبرنيكوس

**نشاط صفي (٣):** أكمل الجدول الآتي:

اسم العالم	اقتراح العالم
	ايدا مبدا كروية الارض والكواكب
	قرر ان نموذج بطليموس مخطئ وان جميع الكواكب
	اتفق مع كوبرنيكس ان كوكب الزهرة والكواكب الأخرى
	تدور حول الشمس
	وصف ان جميع الكواكب تدور حول الارض

**نشاط صفي (٤):**

أكتب أسماء الكواكب المشار عليها بالأرقام:

**نشاط صفي (٥):** ضع الكلمات المناسبة في اماكنها الصحيحة

(محطة الفضاء الدولية ، المسبار )

( مركبة فضائية غير مأهولة تسير الى كواكب أقمار )

مختلفة ويتم التحكم بها من الأرض لتلتقط صور وتجمع معلومات.

( محطة تدور حول الأرض لالتقاط صور مختلفة )

بواسطة التلسكوب

**نشاط صفي (١):** صل بين القائمة (أ) وما يناسبها من القائمة (ب)

المصطلح (أ)

النظام الشمسي

- صخور وجزيئات تدخل من الفضاء الى الغلاف الجوي للأرض

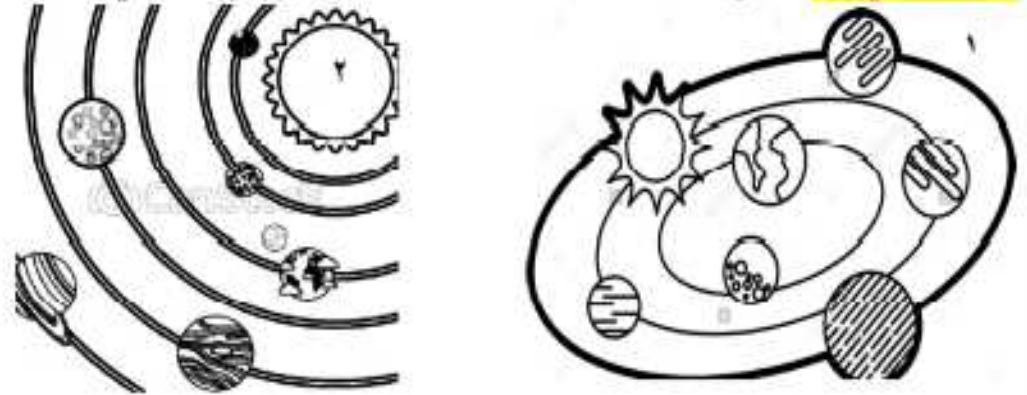
المذنب

- اجرام صخرية بين المريخ والمشتري

الكويكبات

- كتلة من الثلج والأتربة تدور حول الشمس

- الشمس وثمانية كواكب تدور حول الشمس

**نشاط صفي (٢):** يوضح الشكل نموذجين اقترحها العلماء للنظام الشمسي:**أ) أكمل الجدول بالاستناد إلى الأشكال أعلاه:**

الشكل	اسم العالم الذي اقترح النموذج
(١)	
(٢)	

ب) عدد الطرق التي استخدمها العلماء لاكتشاف النظام الشمسي في العصر

الحديث.....



نشاط تحدي (٣): يوضح الجدول الآتي المسافة بين الشمس ومجموعة من الكواكب:

المسافة بينه والشمس بالمليون كيلومتر	الكوكب
228	A
58	B
777	C
108	D
149	الأرض

أ/ صل كل كوكب بالرمز المناسب له:

عطارد

A

الزهرة

B

المريخ

C

المشتري

D

ب/رتباً بما يمكن أن يحدث لو كانت:

- الأرض مكان عطارد:

- الأرض مكان نبتون:

نشاط تحدي (١): ضع علامة ✓ أمام اسم العالم الذي اكتشف الآتي:

الاكتشاف	كوبرنيكوس	بطليموس	أريابهاتا	غاليليو
كوكب الزهرة يدور حول الشمس.				
الكواكب تدور حول الأرض.				
القمر والكواكب وجميع النجوم تدور حول الأرض.				
الأرض وجميع الكواكب تدور حول الشمس.				

نشاط تحدي (٢): يصف الجدول ثلاثة أجرام سماوية مختلفة:

1	أجرام صخرية توجد بين المريخ والمشتري وتدور حول الشمس.
2	قطع من الصخور والرمال تدخل من الفضاء إلى الغلاف الجوي للأرض.
3	كتلة من الثلج والأتربة تتحرك حول الشمس.

أي الخيارات الآتية تمثل التوصيف الصحيح للأجرام السماوية في الجدول السابق؟ (ظلل الدائرة الدالة على الإجابة الصحيحة)

1	المذنبات
2	النيازك
3	الكويكبات

○

1	المذنبات
2	الكويكبات
3	النيازك

○

1	الكويكبات
2	المذنبات
3	النيازك

○

1	الكويكبات
2	النيازك
3	المذنبات

○

## الوحدة السادسة : الدرس السابع : (٦-٧) استكشاف النجوم

- استطيع أن :** تقييم معايير النجاح 😊 😐 😞
- ١- أصف ما اكتشفه العالم إيدوين هابل.
  - ٢- أسمى أهم الأدوات التي يستخدمها العلماء لدراسة النجوم ووصفها .
  - ٣- أقوم بملاحظات واعية ومفيدة لتحديد أوجه التشابه أو الاختلافات الطفيفة أو التغيرات

الدرس السابع: (استكشاف النجوم؟)

### مفاهيم أساسية

**الكون** هو الفضاء الكلي، ويحتوي على مليارات النجوم بمجموعات كبيرة

**المجرة** مجموعة كبيرة من النجوم

النظام الشمسي هو جزء صغير من أحد هذه المجرات ونظامنا الشمسي موجود في مجرة **درب التبانة** ..

**التليسكوب البصري**: أداة تستخدم للبحث في النجوم الذي يجعل الأجسام البعيدة مثل النجوم تبدو أكبر وأكثر سطوعاً.

وتعمل المرايا الموجودة داخل التليسكوب على تجميع الضوء و**تركيزه** من أجل التقاط صور للأجرام السماوية.

دور العالم **إيدوين هابل** في استكشاف الكون

دراسته : بدأ بدراسة سحابة غازية بعيدة باستخدام **تليسكوب قوي**..

اكتشفه: أن هذه السحابة هي كتلة من النجوم، وهذا يعني أن هناك مجرة أخرى وبالتالي حجم الكون هائل للغاية

ملاحظته : باستخدام التليسكوب على مدار عدة سنوات، أدرك أن الكون **يتمدد**

مثال:

ما اسم هذا الجهاز : **التلسكوب البصري**

ما هو التلسكوب البصري ؟


أداة تجعل الأجسام البعيدة مثل النجوم تبدو أكبر وأكثر سطوعاً

ما الهدف من وجود المرايا بالتلسكوب؟

تجميع وتركيز الضوء الصادر عن النجوم البعيدة ليتم التقاط الصور

ما هو أفضل مكان لوضع التلسكوبات؟

في مكان مرتفع عن الأرض وبعيد عن الأضواء وتلوث المدينة



**نشاط صفي (٤):** ضع علامة ✓ أو × أمام العبارة حسب ما يناسبها:

م	العبارة
١	يوجد النظام الشمسي في مجرة درب التبانة
٢	استطاع العالم بطليموس اكتشاف ان الكون يتمدد
٣	نظام الكون أكبر من نظام المجرة
٤	يستطيع علماء الفلك جمع معلومات الفضاء باستخدام التلسكوب البصري

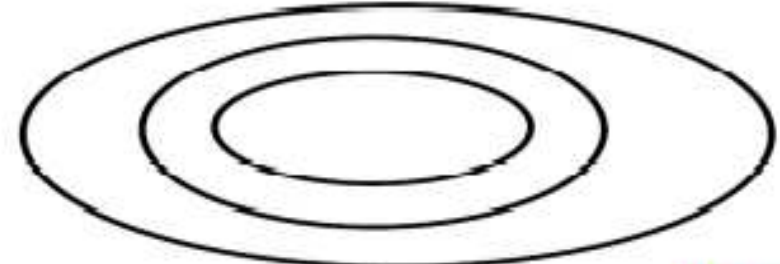
**نشاط صفي (٥):**

الشكل يوضح موقع الشمس والأرض في شهر ديسمبر .  
أين سيكون موقع الأرض في مدارها في شهر يونيو ؟  
ارسم علامة × على الشكل في المكان الذي يوضح موقعها



**نشاط صفي (١):**

ضع الكلمات التالية في مكانها المناسب ( المجرة ، الكون ، النظام الشمسي )



**نشاط صفي (٢):** انظر للنموذج الذي يحاكي تمدد الكون صفحة ٥٢

أ/ البالون يمثل .....

والملصقات تمثل .....

ب/ اشرح كيف يوضح النموذج

ان الكون يتمدد

.....

.....

**نشاط صفي (٣):** ادرس الشكل المقابل :

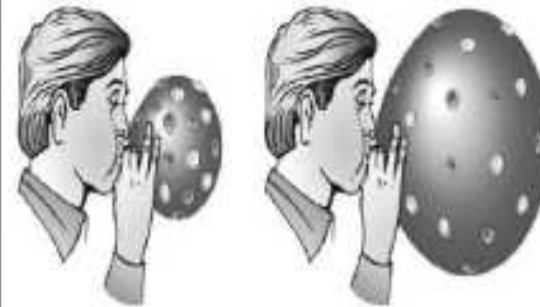
أ/ ما اسم الأداة ؟ .....

ب/ ما فكرة عمله ؟

.....

.....

ج/ ما فائدة الأداة ؟ .....





**أنشطة عامة:** استخرجت أمل ويمنى المعلومات التالية عن الكواكب من

الإنترنت .

الكوكب	عدد سنوات دورانها حول الشمس	عدد أيام دورانها حول الشمس
الأرض	سنة الأرض	365
المشتري	سنة المشتري	4332
المريخ	سنة المريخ	687
عطارد	سنة عطارد	88
الزهرة	سنة الزهرة	225

١/ أي الكواكب تستغرق وقتاً أطول لتدور حول الشمس ؟ (اختر الاجابة)

○ الأرض ○ المشتري ○ المريخ ○ عطارد

٢/ أي كوكب من الكواكب لها أقصر سنة ( عام ) ؟

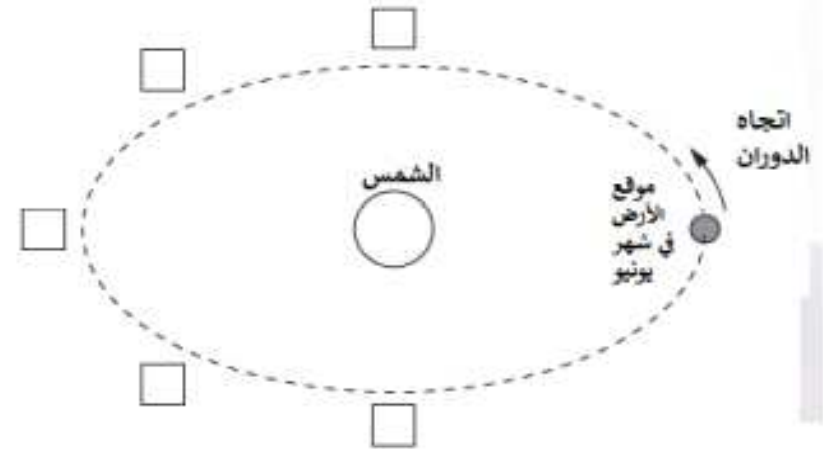
○ الأرض ○ المشتري ○ المريخ ○ عطارد

٣/ كلما زاد طول مدار الكواكب حول الشمس كلما زاد عدد أيام دورانها حول الشمس .

ضعي دائرة على الكوكبين اللذين لهما أقصر مدار شمسي عن الأرض ؟  
الأرض      المشتري      المريخ      عطارد      الزهرة

**أنشطة عامة:** رسمت ليلي المخطط التالي لتوضح موقع الأرض في شهر يونيو .

١) ضع الرقم ٦ في المربع الذي يوضح موقع الأرض بعد ستة أشهر لاحقة .



وضع الرقم ٩ في المربع الذي يوضح موقع الأرض بعد تسعة أشهر لاحقة .

## التدريبات والمراجعة على الوحدة السادسة

١-٦

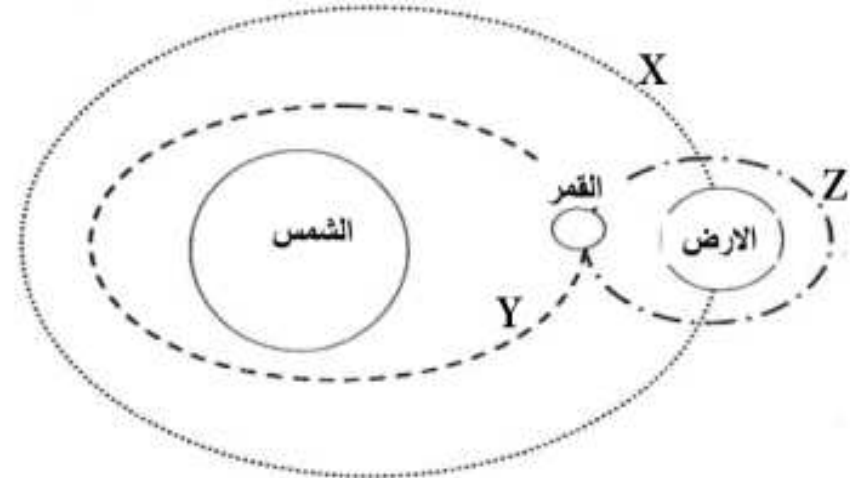
نشاط صفي (٣): ضع علامة (✓) أو أمام العبارة حسب ما يناسبها

م	العبارة
١	يعكس كوكب الأرض ضوء الشمس
٢	القمر له القدرة على بعث الضوء والحرارة
٣	تعتبر الشمس من النجوم
٤	النجم والكوكب يبعثان الضوء والحرارة

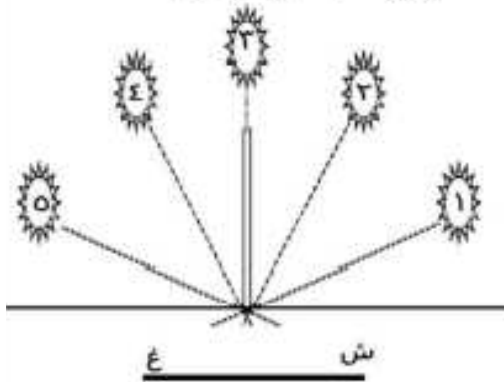
نشاط صفي (٤): يوضح الشكل حركة القمر حول الأرض وحركة الأرض حول الشمس

أ/ رمز المسار الذي يوضح مسار القمر حول الأرض هو .....

ب/ رمز المسار الذي يوضح مسار الأرض حول الشمس .....



نشاط صفي (١): يوضح الشكل حركة الشمس في السماء في مواقع مختلفة



خلال النهار

أ- الأرقام التي تمثل حركة الشمس صباحا هي .....

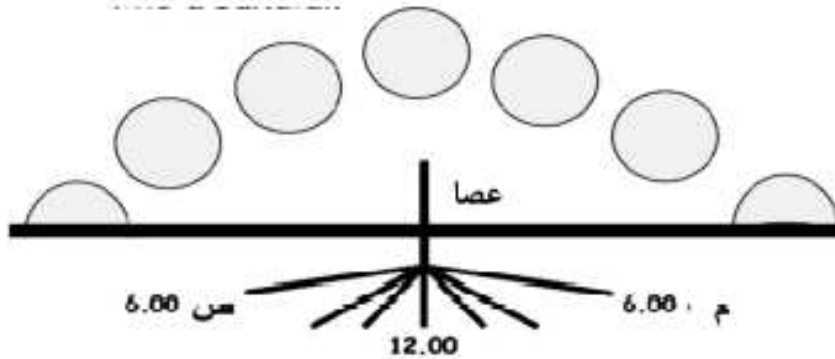
ب- الأرقام التي تمثل حركة الشمس مساءا هي .....

ج- اقصر ظل يتكون عند الرقم .....

د- أطول الظلال سكون عند الرقم .....

نشاط صفي (٢):

يوضح الشكل حركة الشمس الظاهرية وتكوين ظل للعصا بمرور اليوم :









أ/ الساعة التي كانت الشمس فيها منخفضة جدا جهة الشرق هي .....

ب/ الساعة التي كانت الشمس فيها منخفضة جدا جهة الغرب هي .....

ج/ تكون الشمس مرتفعة في وسط السماء في الساعة .....

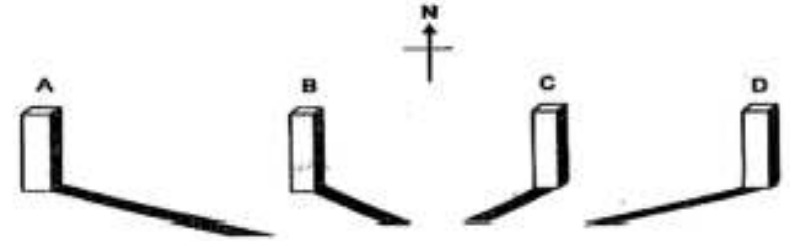
٢-٦

**نشاط تحدي (٢):** يبين الشكل رصد حركة الشمس الظاهرية في السماء من قبل مجموعة من الطلاب :



أ/ الساعات التي تكون فيها الشمس شرقا هي ..... و.....  
 ب/ الساعات التي تكون فيها الشمس غربا هي ..... و.....  
 ج/ أقصر طول للظلال عندما تكون الساعة .....

**نشاط صفي (٣):** يوضح الشكل حركة ظل لعصا موضوعة تحت الشمس ، ادرس المخطط ثم أجب عن الأسئلة يمثل الساعة السابعة صباحا الرمز (A)



أ/ رتب أطوال الظل من بداية حدوثها صباحا وحتى نهاية اليوم

ب/ رمز المناطق التي تكون فيها الشمس وقت المساء هي ..... و.....  
 ج/ رمز المناطق التي تكون فيها الشمس في جهة الشرق هي ..... و.....

**نشاط صفي (٤):**

يوضح الشكل متابعة أحد الطلبة لظل أحد الأشخاص في ساعات مختلفة (السابعة صباحا - والحادية عشرة).



الرسم الذي يمثل ظل الشخص في الساعة التاسعة صباحا هو :.....  
 فسر اجابتك .....

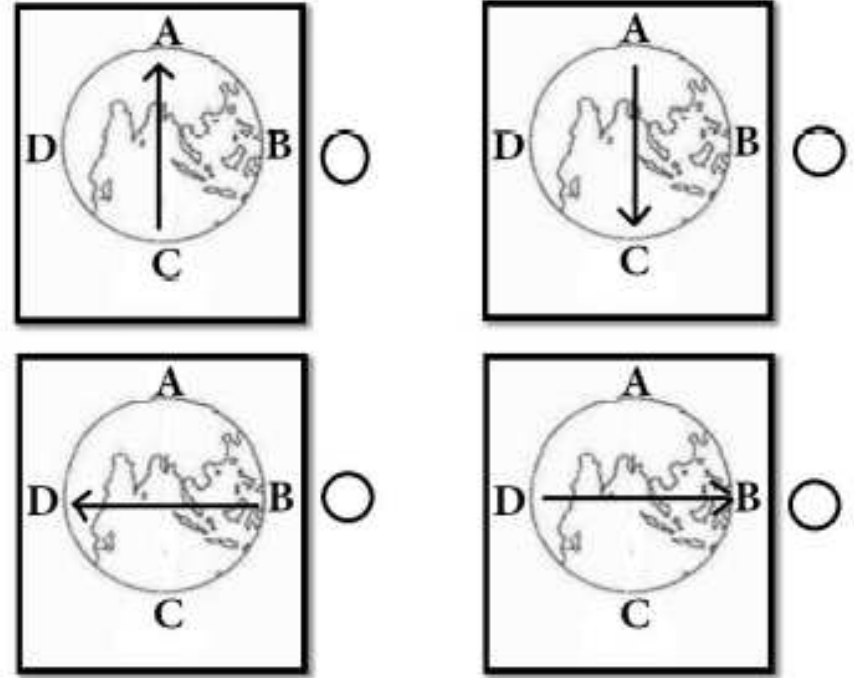


**نشاط صفي (٤):**

تظهر الشمس وكأنها تتحرك من جهة الشرق إلى جهة الغرب عندما نراها كل يوم وذلك بسبب :  
( ) دوران الشمس حول الأرض ( ) دوران الأرض حول محورها  
فسر إجابتك ؟

**نشاط صفي (٥):**


أي الأشكال توضح الإتجاه الصحيح لدوران الأرض حول محورها:

**نشاط صفي (٦):** يمثل الجدول المقابل

عدة كواكب و زمن دورانها حول محورها ، رمز الكوكب الذي يمثل كوكب الأرض :  
A ( ) B ( ) C ( ) D ( )  
(اختر الإجابة الصحيحة)

**نشاط صفي (٧):**

يمثل الشكل المقابل عدد دورات الأرض حول محورها خلال ساعات معينة ممثلة بالرموز (A , B , C ):



أ) كم دورة تدورها الأرض حول محورها عند الرمز (B) ؟

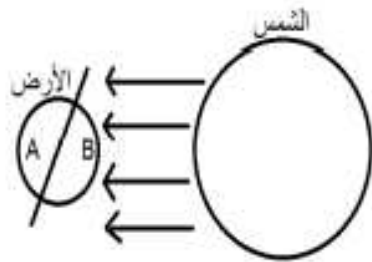
ب) تنبأ بعدد الساعات التي ستقضيها الأرض لتدور ٤ دورات ؟

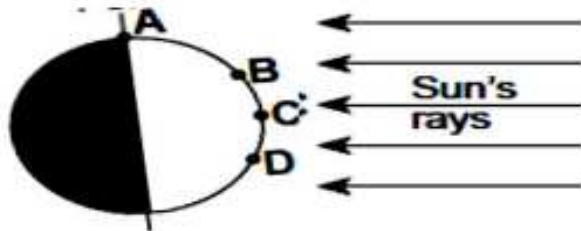
**نشاط صفي (٨):** الشكل المقابل يوضح موقع شخصان (A و B) على سطح

الأرض، تأمل الشكل ثم اجب :

• يكون الوقت عند الشخص في الموقع A :  
( ) ليل ( ) نهار

• فسر إجابتك:

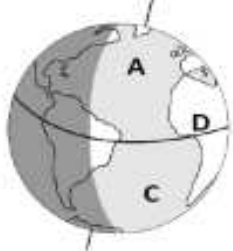


**نشاط تحدي (٣):** من الشكل الآتي:

- أ/ المنطقة التي يتساوى فيها طول الليل والنهار .....
- ب/ المنطقة التي يكون في النهار طويل .....
- ج/ المنطقة التي يكون فيها الليل قصيرا.....
- د/ نصف الكرة الذي به فصل الصيف.....

**نشاط تحدي (٤):**

يوضح الشكل المقابل نموذج الكرة الأرضية أثناء دورانه حول الشمس .  
أ/ رمز المنطقة التي يسود فيها الشتاء هي .....



- فسر اجابتك.....
- ب/ رمز المنطقة التي تتميز بوجود ليل قصير ونهار طويل هي .....
- ج/ رمز المنطقة التي تتميز بتساوي طول الليل والنهار هي.....
- ج/ رتب طول النهار في النقاط المحددة على الكرة الأرضية من الأطول نهار للأقصر نهار. ....
- د/ اشهر السنة التي يحدث فيها الفصل المحدد بالمنطقة (A) هي .....

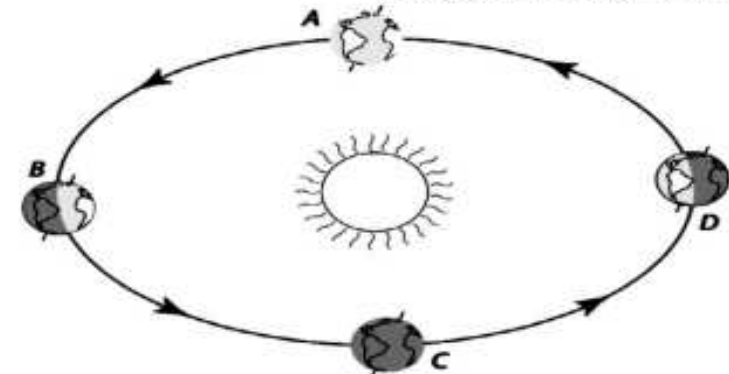
**نشاط تحدي (١):** يوضح المخطط نموذج للكرة الأرضية ، ضع الكلمات

التالية في مكانها المناسب

( محور الأرض - نصف الكرة الشمالي - نصف الكرة الجنوبي - خط الاستواء )

**نشاط تحدي (٢):** تدور الأرض حول الشمس كما بالمخطط ، ادرس المخطط

جيدا ثم أجب عن الأسئلة التي تليه :



أ/ المنطقة التي يوجد فيها فصل الصيف شمالا هي:.....

- فسر اجابتك .....
- ب/ المنطقة التي يكون فيها الربيع جنوبا هي .....
- ج/ المنطقة التي يكون فيها الخريف شمالا هي .....