

تم تحميل هذا الملف من موقع المناهج العمانية



الملف أوراق عمل اختبارية في درس تضاريس الوطن العربي

[موقع المناهج](#) ← [المناهج العمانية](#) ← [الصف الخامس](#) ← [اجتماعيات](#) ← [الفصل الأول](#)

روابط مواقع التواصل الاجتماعي بحسب الصف الخامس



روابط مواد الصف الخامس على تلغرام

[الرياضيات](#)

[اللغة الانجليزية](#)

[اللغة العربية](#)

[التربية الاسلامية](#)

المزيد من الملفات بحسب الصف الخامس والمادة اجتماعيات في الفصل الأول

[امتحان وإجابة الأسئلة الرسمية للفصل الدراسي الأول الدور الأول 2017/2016](#)

1

[امتحان وإجابة الأسئلة التدريبية في محافظة شمال الباطنة للفصل الدراسي الأول الدور الأول 2017/2016](#)

2

[امتحان وإجابة الأسئلة الرسمية في محافظة الظاهرة للفصل الدراسي الأول الدور الثاني 2015/2016](#)

3

[امتحان وإجابة الأسئلة الرسمية في محافظة جنوب الشرقية للفصل الدراسي الأول الدور الثاني 2015/2016](#)

4

[امتحان وإجابة الأسئلة الرسمية في محافظة شمال الباطنة للفصل](#)

5

المزيد من الملفات بحسب الصف الخامس والمادة اجتماعيات في الفصل الأول

[الدراسي الأول الدور الأول 2015/2016](#)



(أ)

السؤال الأول: - أجب عن الأسئلة التالية: -

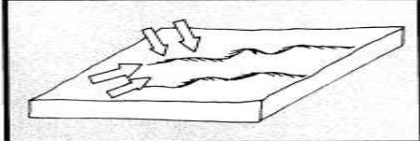
١ - امامك شكلان من الاشكال الرملية التي تظهر في

الصحاري العربية، ادرسهما جيدا ثم اجب عن الأسئلة التي تليه: -

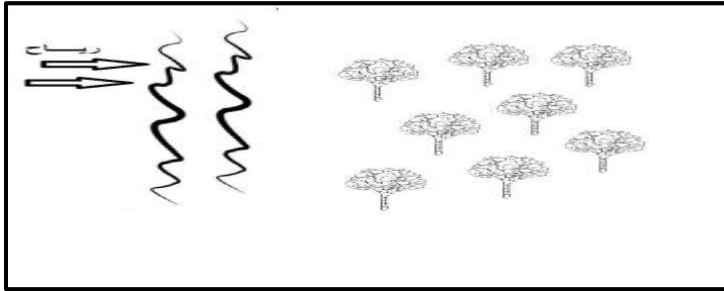
أ- ما اسم الشكل (أ) والشكل (ب)

ب- ما العامل الطبيعي التي يتحكم في شكله وحجمه؟

(ب)



.....



٢- انظر إلى الشكل المقابل، ثم اجب عن الأسئلة التي تليه: -

أ- ما اسم المشكلة الظاهرة بالصورة؟

ب- اقترح حلا لهذه المشكلة؟

.....

٣ - امامك ثلاث صور ادرسها جيدا، ثم اجب عن الأسئلة التي تليها: -



أ- يشير الرقم (١) إلى الشكل التضاريسي المسمى بـ

ب- ما الفرق بين الشكل رقم (٢) والشكل رقم (٣) من حيث السطح؟

أوجه الفروق	٢	٣
السطح		

٤- اذكر اثنين من: -


أ- المناطق الرملية في سلطنة عمان

ب- الأنشطة الاقتصادية التي يمارسها سكان الجبال

٥- اكتب نوع السهل للأمثلة في الجدول الآتي :-

نوع السهل	الأمثلة
	دلتا نهر النيل
	سهل الباطنة

٦ - امامك شكلان من أشكال سطح الأرض، ادرسهما جيدا ثم صنف في الجدول العبارات التالية حسب خصائص كل شكل: - (ترتفع إلى ما يزيد عن ٣٠٠٠ م - أراضي منبسطة قليلة الانحدار - تتميز بشدة الانحدار - يستخرج منها النفط)

شكل (ب)	شكل (أ)
	

٧- امامك خريطة السهول في الوطن العربي، ادرسها جيدا ثم اجب عن الأسئلة التي تليها: -

أ- استخرج اثنين من السهول الساحلية

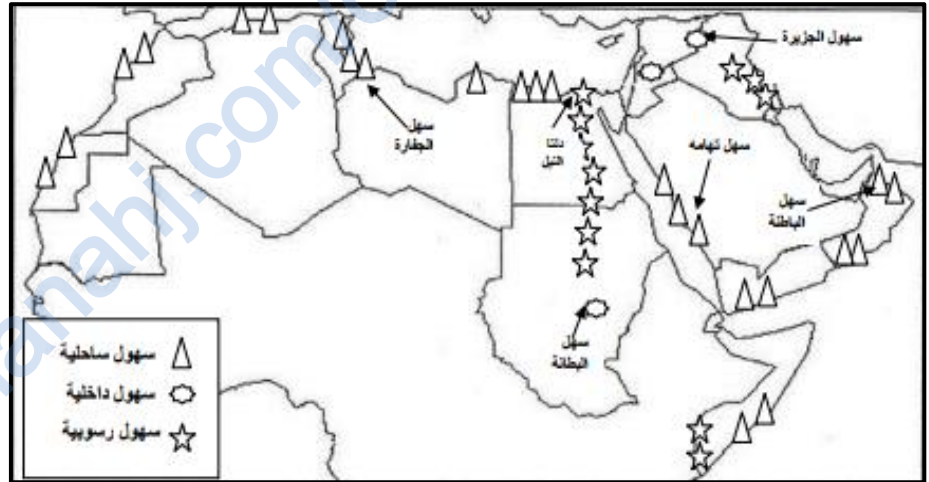
.....،

ب- ما نوع السهل التي تمثلها دلتا نهر

النيل؟

ج- ما نوع السهل الموجود في دولة

السودان؟



٨ - صنف المسميات في الجدول أدناه إلى ظواهرها الطبيعية الآتية (هضبة - صحراء - سهل - جبال)

المسمى	الظاهرة التي تمثلها
الربع الخالي	
نجد	
حجر عمان	
الرافدين	

٩- " يختلف نمط حياة السكان في المناطق الجبلية عنه في المناطق السهلية أو المنخفضة "

أ - فسر صعوبة ممارسة الإنسان للزراعة على سفوح المناطق الجبلية.

ب - الأسلوب الذي لجأ إليه الإنسان لزراعة المناطق الجبلية؟ مع ذكر أمثلة عليها.