

تم تحميل هذا الملف من موقع المناهج العمانية




الامتحان النهائي الرسمي الدور الأول الفترة الصباحية في محافظة الظاهرة

[موقع المناهج](#) ⇨ [المناهج العمانية](#) ⇨ [الصف الخامس](#) ⇨ [اجتماعيات](#) ⇨ [الفصل الثاني](#) ⇨ [الملف](#)

تاريخ إضافة الملف على موقع المناهج: 09:31:56 2024-06-06

التواصل الاجتماعي بحسب الصف الخامس



اضغط هنا للحصول على جميع روابط "الصف الخامس"

روابط مواد الصف الخامس على تلغرام

[الرياضيات](#)

[اللغة الانجليزية](#)

[اللغة العربية](#)

[التربية الاسلامية](#)

المزيد من الملفات بحسب الصف الخامس والمادة اجتماعيات في الفصل الثاني

[الامتحان النهائي الرسمي الدور الأول الفترة الصباحية في محافظة جنوب الشرقية](#)

1

[الامتحان النهائي الرسمي الدور الأول الفترة الصباحية في محافظة جنوب الباطنة](#)

2

[الامتحان النهائي الرسمي الدور الأول الفترة الصباحية في محافظة ظفار](#)

3

المزيد من الملفات بحسب الصف الخامس والمادة اجتماعيات في الفصل الثاني

[الامتحان النهائي الرسمي الدور الأول الفترة الصباحية في محافظة شمال الباطنة](#)

4

[الامتحان النهائي الرسمي الدور الأول الفترة الصباحية في محافظة جنوب الشرقية](#)

5

١	١٢
٢	١٣
٣	١٤
٤	١٥
٥	١٦
٦	١٧
٧	١٨
٨	١٩
٩	٢٠
١٠	٢١
١١	٢٢
١٢	٢٣
١٣	٢٤
١٤	٢٥
١٥	٢٦
١٦	٢٧
١٧	٢٨
١٨	٢٩
١٩	٣٠
٢٠	٣١
٢١	٣٢
٢٢	٣٣
٢٣	٣٤
٢٤	٣٥
٢٥	٣٦
٢٦	٣٧
٢٧	٣٨
٢٨	٣٩
٢٩	٤٠
٣٠	٤١
٣١	٤٢
٣٢	٤٣
٣٣	٤٤
٣٤	٤٥
٣٥	٤٦
٣٦	٤٧
٣٧	٤٨
٣٨	٤٩
٣٩	٥٠
٤٠	٥١
٤١	٥٢
٤٢	٥٣
٤٣	٥٤
٤٤	٥٥
٤٥	٥٦
٤٦	٥٧
٤٧	٥٨
٤٨	٥٩
٤٩	٦٠
٥٠	٦١
٥١	٦٢
٥٢	٦٣
٥٣	٦٤
٥٤	٦٥
٥٥	٦٦
٥٦	٦٧
٥٧	٦٨
٥٨	٦٩
٥٩	٧٠
٦٠	٧١
٦١	٧٢
٦٢	٧٣
٦٣	٧٤
٦٤	٧٥
٦٥	٧٦
٦٦	٧٧
٦٧	٧٨
٦٨	٧٩
٦٩	٨٠
٧٠	٨١
٧١	٨٢
٧٢	٨٣
٧٣	٨٤
٧٤	٨٥
٧٥	٨٦
٧٦	٨٧
٧٧	٨٨
٧٨	٨٩
٧٩	٩٠
٨٠	٩١
٨١	٩٢
٨٢	٩٣
٨٣	٩٤
٨٤	٩٥
٨٥	٩٦
٨٦	٩٧
٨٧	٩٨
٨٨	٩٩
٨٩	١٠٠

المادة: الدراسات الاجتماعية الصف: الخامس الدور الأول - الفصل الدراسي الثاني العلم الدراسي ٢٠٢٣ / ٢٠٢٤ م

(٢)

٧- الغلاف الذي يعالج من المشكلة الموضحة في الصورة المقابلة:



- أ- الجوى.
- ب- الجوى.
- ج- الصخري.
- د- المائي.

٨- المؤسسات الوطنية التي تقدم الرعاية الصحية و الاجتماعية:

- أ- القضائية
- ب- الثقافية
- ج- الأمنية
- د- الخدمية

٩- التاريخ الذي خصصته سلطنة عُمان من كل عام للاحتفال بيوم المرأة العمانية:

- أ- ١٧ / سبتمبر
- ب- ١٧ / أكتوبر
- ج- ١٧ / نوفمبر
- د- ١٧ / ديسمبر

١٠- الرقم الذي يشير إلى الولاية التي ينتهي إليها أول من أسلم من عُمان:



- أ- ١
- ب- ٢
- ج- ٣
- د- ٤

١١- الدولة التي حصلت على جائزة مجلس التعاون الخليجي للحياة الفطرية عامي ٢٠١٣ و ٢٠١٤ م:

- أ- الكويت
- ب- قطر
- ج- سلطنة عمان
- د- البحرين

١٢- الكوكب الذي يُطلق عليه اسم (الكوكب المائي):

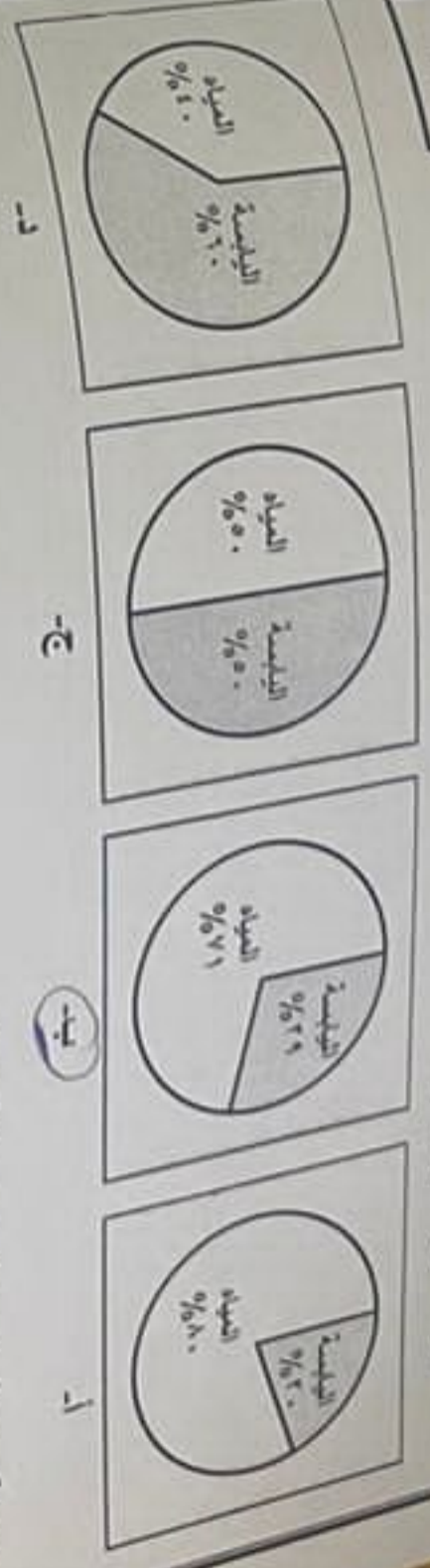
- أ- الأرض
- ب- المشتري
- ج- المريخ
- د- نبتون

المادة: الدراسات الاجتماعية الصف: الخامس الدور الأول - الفصل الدراسي الثاني العلم الدراسي ٢٠٢٣ / ٢٠٢٤ م

(١)

أجب عن جميع الأسئلة الآتية:

السؤال الأول: ضع دائرة حول رمز الاتجاه الصحيحة لكل مفردة من المفردات الآتية:



١- مدينة صقبة سميت قديماً بتوام أو توام:

- أ- البريمي
- ب- نزوى
- ج- قريات
- د- صوري

٢- أول غزوة خاضها المسلمون والتصروا فيها:

- أ- بدر
- ب- أحد
- ج- الخندق
- د- تبوك

٣- من حقوق الطفل تمثلها الصورة المقابلة:

- أ- حماية الطفل من أداء الأعمال الخطرة.
- ب- حماية الطفل من العنف والإساءة.
- ج- تمتع الطفل من ذوي الإعاقة برعاية آمنة وحياة كريمة.
- د- حق الطفل في التمتع بمستوى صحي عالي.



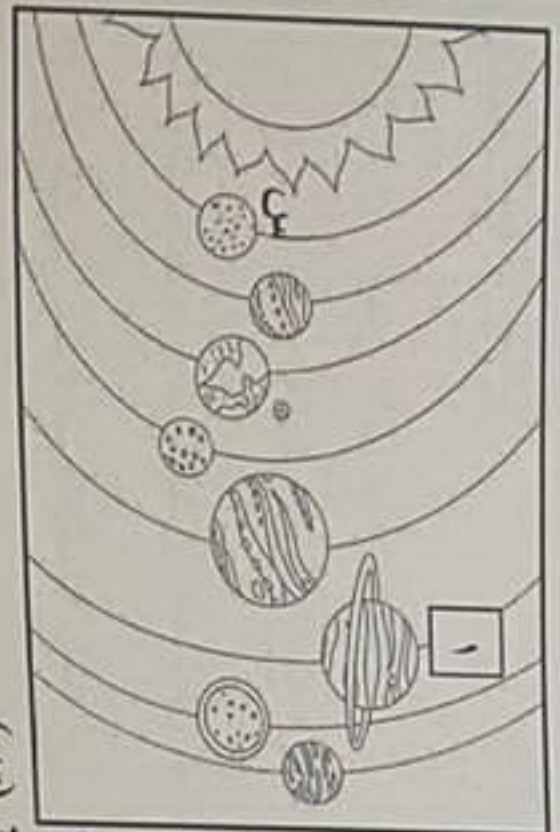
٤- المورد الطبيعي الذي يحتاج إلى فترة زمنية طويلة لكي يتجدد:

- أ- الثروة الحيوانية
- ب- الثروة السمكية
- ج- المياه الجوفية
- د- التربة

٥- شخصية عمانية كان مستشاراً للملكي عُمان جيفر و عبد النبي الجندى:

- أ- كعب بن برةشة
- ب- أبو صفرة العكي
- ج- سلمة بن عباد
- د- صالح بن المتوكل

(٤)



تابع / السؤال الثاني:

ثالثاً: ادرس الشكل الذي أمامك ثم اجب على الأسئلة التالية:

١- إلى ماذا يشير الشكل المقابل؟

٢- ما اسم الكوكب المشير إليه بالرقم (١)؟

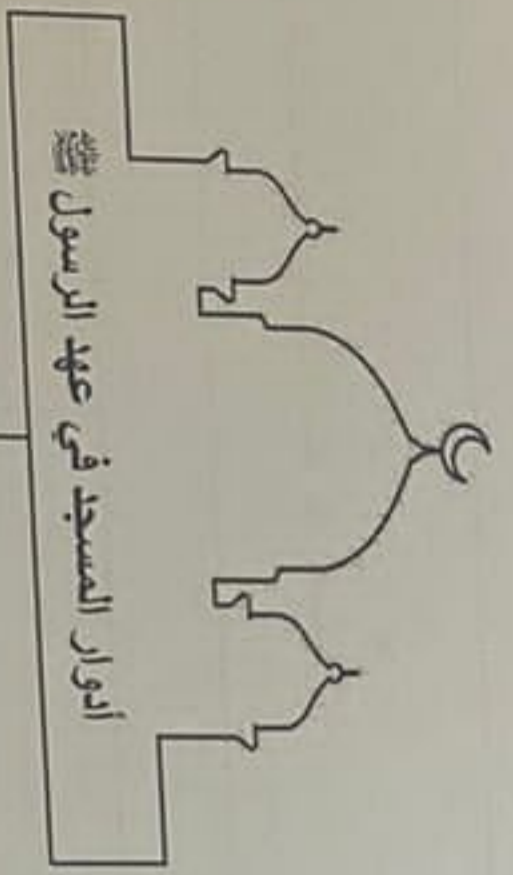
٣- فير / ارتفاع درجة الحرارة في الكوكب المشير إليه بالرمز (س).

الجواب: ١- كوكب المريخ ٢- عطارد ٣- ١٠٠ درجة مئوية

٨

السؤال الثالث: (٨ درجات)

أولاً: أكمل الشكل التالي:



مسكنات الاحرار

سوق الفوائد

مسكنات ربيعيون الوغور

ثانياً: علل ما يلي:

١- تزايد الاستهلاك على الموارد الطبيعية.

٢- إرسال الرسول ﷺ رسائل إلى ملوك الدول المجاورة.

الجواب: ١- تزايد الاستهلاك على الموارد الطبيعية. ٢- إرسال الرسول ﷺ رسائل إلى ملوك الدول المجاورة.

(٣)

السؤال الثاني: (٨ درجات)

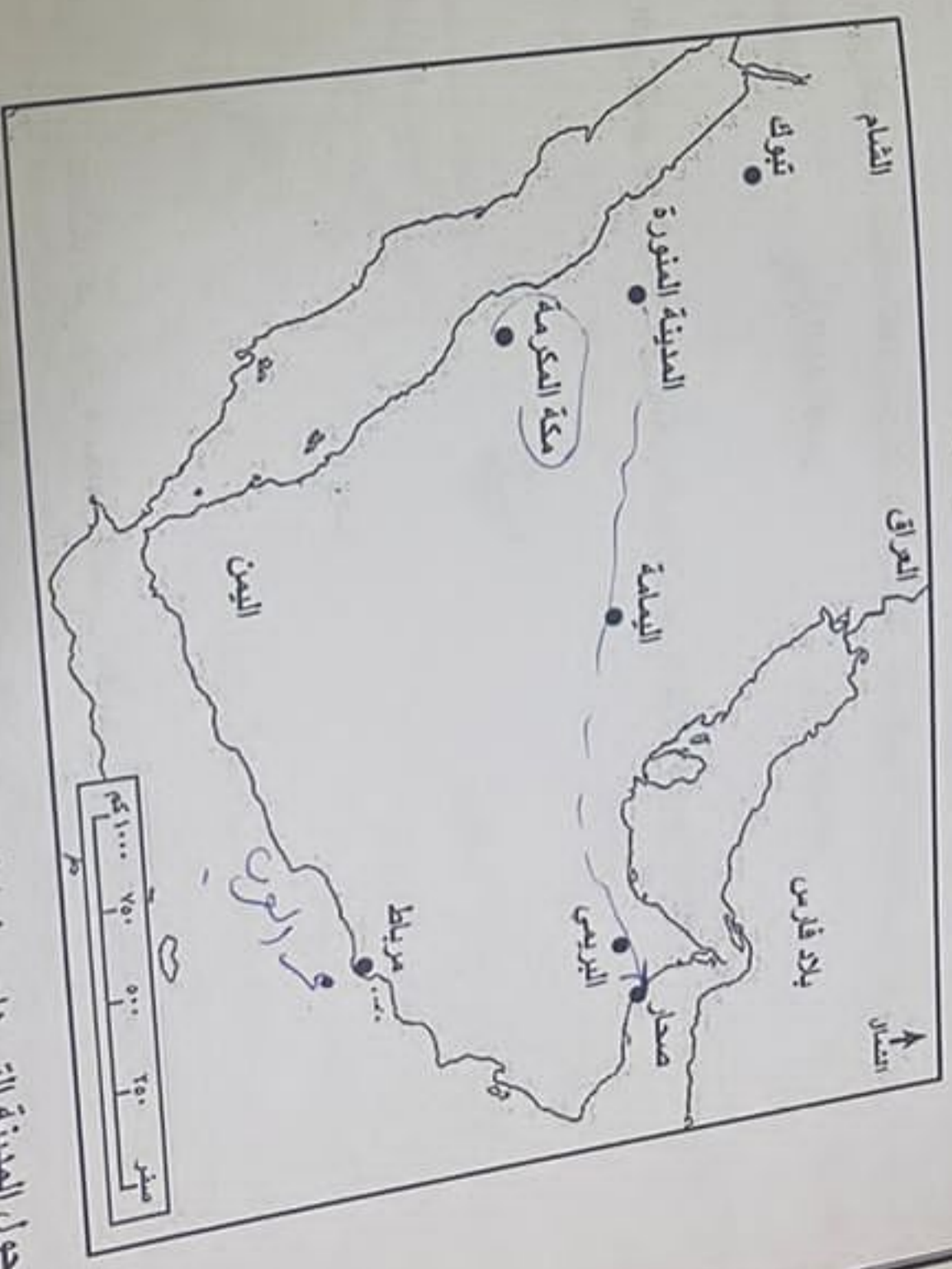
أولاً: اذكر اثنين من:

١- الأهمية الاقتصادية للموارد الطبيعية:

٢- سكان المدينة المنورة زمن الرسول ﷺ:

١- الزراعة ٢- التجارة ٣- الرعي ٤- التجارة

ثانياً: انظر إلى الخريطة التي أمامك ثم اجب عن الأسئلة التي تليها:



١- ضع دائرة حول المدينة التي هاجر منها الرسول ﷺ.

٢- ارسم على الخريطة باستخدام الرمز → خط سير عمرو بن العاص إلى عمان.

٣- اكتب على الخريطة (بحر العرب) في مكانه الصحيح.



المادة: الدراسات الاجتماعية الصف: الخامس الدور الأول - الفصل الدراسي ٢٠٢٣ / ٢٠٢٤ م
 تاريخ: الموافق ١٠ / ١٠ / ٢٠٢٣ م
 الصف: الخامس
 المادة: الدراسات الاجتماعية
 المعلم: /
 الطالب: /

المادة: الدراسات الاجتماعية الصف: الخامس الدور الأول - الفصل الدراسي ٢٠٢٣ / ٢٠٢٤ م
 تاريخ: الموافق ١٠ / ١٠ / ٢٠٢٣ م

(٦)
 المادة: الدراسات الاجتماعية الصف: الخامس الدور الأول - الفصل الدراسي ٢٠٢٣ / ٢٠٢٤ م

تابع: السؤال الرابع

ثانياً: قارن بين الصورة (أ) والصورة (ب) في الجدول التالي:

وجه المقارنة		
اسم الغلاف	الرحوي	الرحوي
الأهمية		

ثالثاً: اكتب المصطلح الدال على العبارات التالية:

- أ- الأمطار التي تحتوي على نسبة عالية من الأحماض، نتيجة لتلوث الهواء بمواد كيميائية وغازات سامة.
 ب- كتاب أو وثيقة وضعتها الرسول ﷺ، وضّح فيها الحقوق والواجبات لسكان المدينة المنورة.

(٥)

المادة: الدراسات الاجتماعية الصف: الخامس الدور الأول - الفصل الدراسي ٢٠٢٣ / ٢٠٢٤ م
 تاريخ: الموافق ١٠ / ١٠ / ٢٠٢٣ م

تابع: السؤال الثالث

ثالثاً: أقرأ النص الآتي ثم أجب:

(خرج أحمد وأسرته لت قضاء وقت ممتع في إحدى الحدائق العامة وفي نهاية اليوم غادرت الأسرة الحديقة تاركةً التفاليات في غير المكان المخصص لها).

١- ما رأيك في سلوك أسرة أحمد؟ ولماذا؟

٢- اقترح حلاً واحداً للحد من هذه التصرفات.

ب- أحد مظاهر السطح التي تشكلت نتيجة احتكاك الماء مع الصخور.
 الرصوي

السؤال الرابع: (٦ درجات)

أولاً: صنف العبارات الآتية إلى حقوق وواجبات بوضع علامة (✓) في المكان المناسب:

٦			
العبرة	حقوق	واجبات	
الالتزام بالانظمة والقوانين	✓		
تقديم خدمات الرعاية الصحية للمواطنين		✓	
المحافظة على الممتلكات العامة		✓	
حترام العادات والتقاليد		✓	

