

شكراً لتحميلك هذا الملف من موقع المناهج العمانية



سؤال قصير ثالث

[موقع المناهج](#) ← [المناهج العمانية](#) ← [الصف الخامس](#) ← [رياضيات](#) ← [الفصل الثاني](#) ← [الملف](#)

تاريخ نشر الملف على موقع المناهج: 07:10:50 2024-03-15

التواصل الاجتماعي بحسب الصف الخامس



روابط مواد الصف الخامس على تلغرام

[الرياضيات](#)

[اللغة الانجليزية](#)

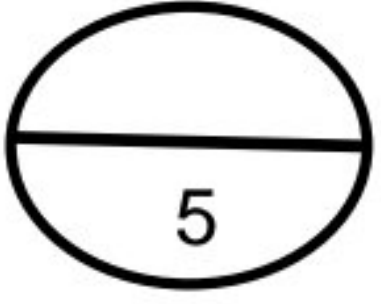
[اللغة العربية](#)

[التربية الاسلامية](#)

المزيد من الملفات بحسب الصف الخامس والمادة رياضيات في الفصل الثاني

اختبار قصير أول	1
تجميع اختبارات قصيرة مع نماذج الإجابة	2
المراجعة الثانية للمادة مع الحل	3
المراجعة الأولى للمادة مع الحل	4
اختبار قصير أول	5

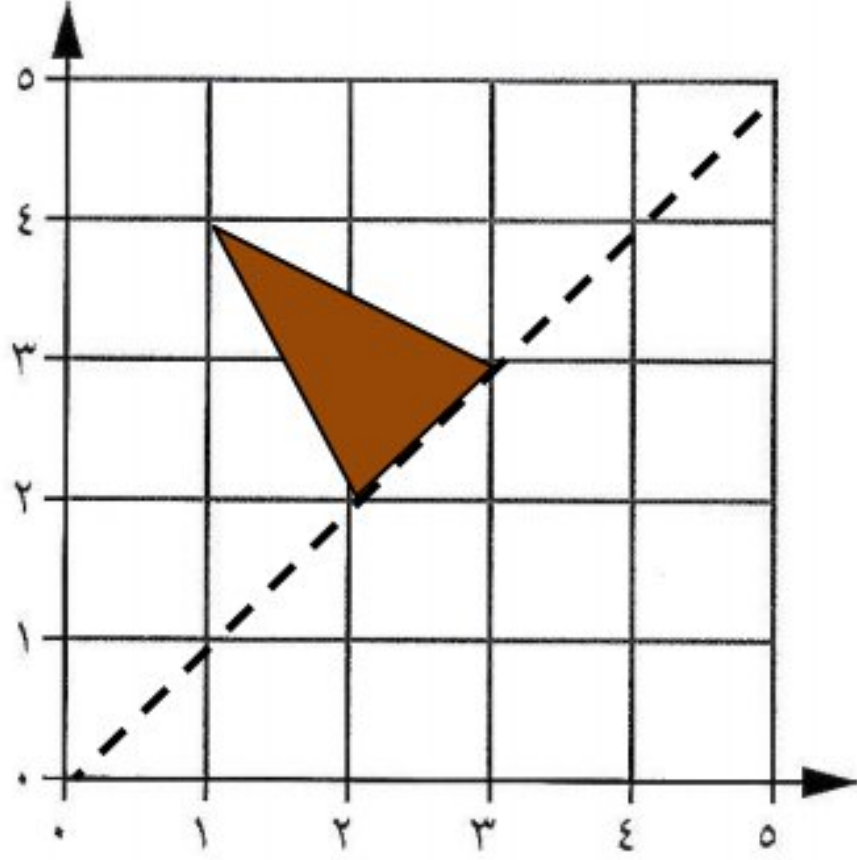
السؤال القصير الثالث



((سؤال قصير (3) صف الخامس، مادة الرياضيات، الفصل الثاني))

الاسم:

الصف: 15/..... الرقم:



أجب عن جميع الأسئلة التالية :

(1) من خلال الشبكة التالية أوجد التالي :

أ- ارسم انعكاسا للمثلث حول خط المرآة ؟

ب- اكتب إحداثيات المثلث الناتج من الانعكاس ؟

.....

[2]

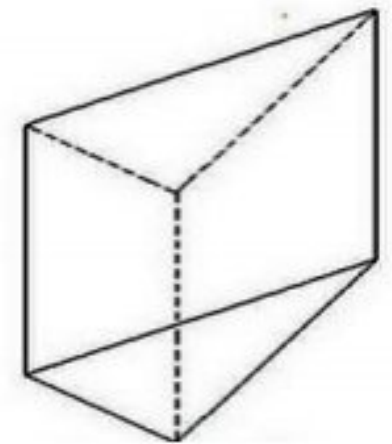
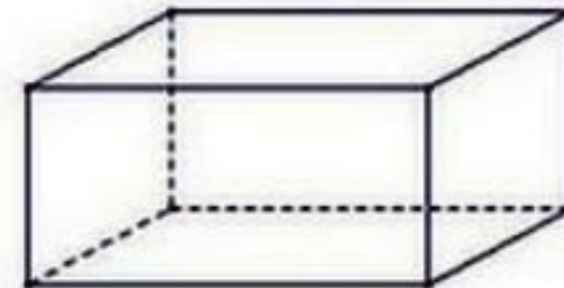
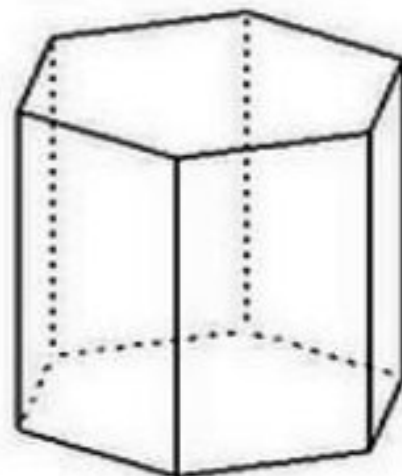
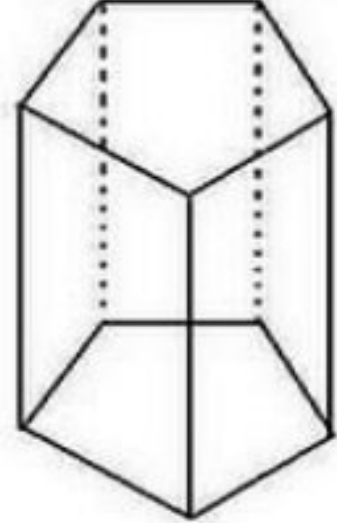
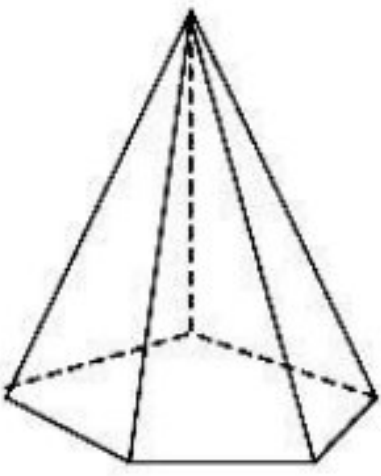
(2) ارسم كل خطوط التماثل الانعكاسي للشكل التالي :



م :

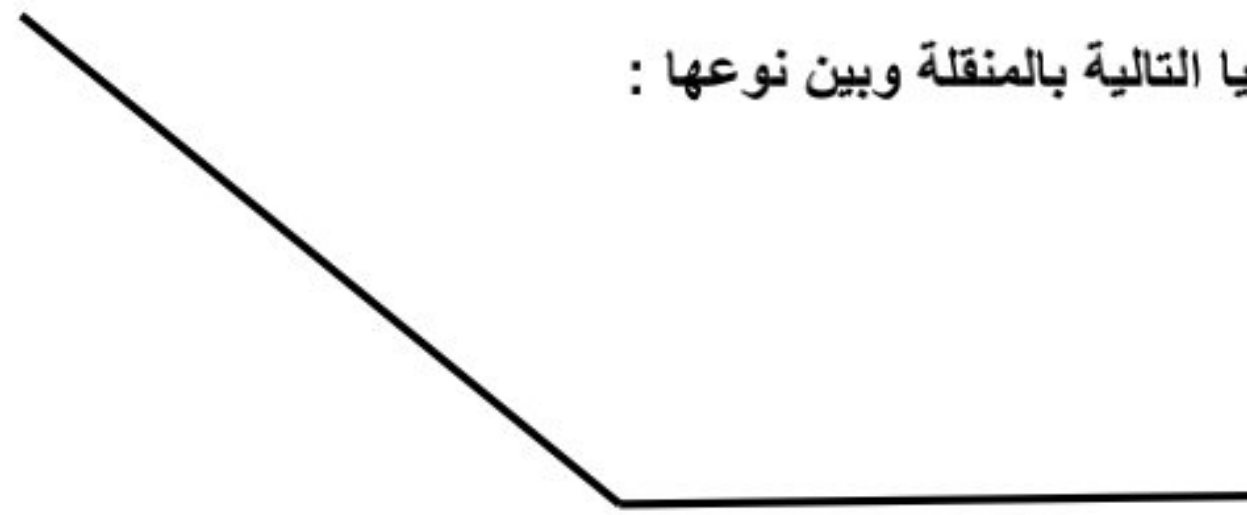
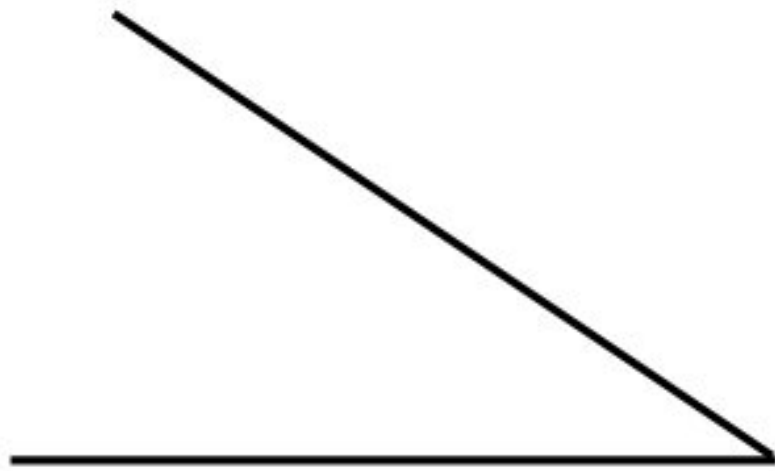
[1]

(3) حوِّط على المنشور الخماسي من بين المجسمات التالية :



[1]

(4) قس الزوايا التالية بالمنقلة وبين نوعها :



[1]

.....

.....