

تم تحميل هذا الملف من موقع المناهج العُمانية



* للحصول على أوراق عمل لجميع الصفوف وجميع المواد اضغط هنا

<https://almanahj.com/om>

* للحصول على أوراق عمل لجميع مواد الصف الخامس اضغط هنا

<https://almanahj.com/om/5>

* للحصول على جميع أوراق الصف الخامس في مادة اجتماعيات ولجميع الفصول, اضغط هنا

<https://almanahj.com/om/5social>

* للحصول على أوراق عمل لجميع مواد الصف الخامس في مادة اجتماعيات الخاصة بـ الفصل الأول اضغط هنا

<https://almanahj.com/om/5social1>

* لتحميل كتب جميع المواد في جميع الفصول للـ الصف الخامس اضغط هنا

<https://almanahj.com/om/grade5>

للتحدث إلى بوت على تلغرام: اضغط هنا

https://t.me/omcourse_bot

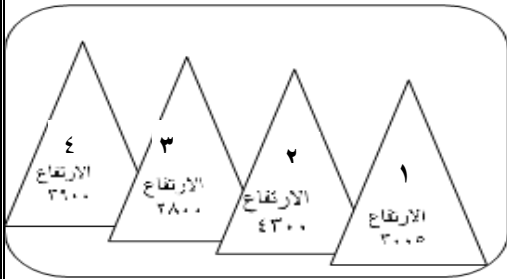


المديرية العامة للتربية والتعليم بمحافظة جنوب الباطنة دائرة التقويم قسم مراقبة وتقويم التحصيل الدراسي
للعام الدراسي ١٤٤٠/١٤٤١ هـ — ٢٠١٩ / ٢٠٢٠ م
أسئلة تدريبية لمادة الدراسات الاجتماعية للصف الخامس - الفصل الدراسي الأول

السؤال الأول: ضع دائرة حول رمز الإجابة الصحيحة لكل مفردة من المفردات الآتية:

(١) الشخصية العمانية التي تولت القضاء بمدينة البصرة في عهد الخليفة عمر بن الخطاب:

أ- كعب بن برشة ب- يبرح بن أسد ج- كعب بن سور د- زهير بن قرضم



(٢) المنطقة الأقل حرارة حسب المعطيات في الشكل المقابل:

أ- ١ ب- ٢

ج- ٣ د- ٤

(٣) المحافظة العمانية التي اطلق عليها قديما بشحر عمان:

أ- الداخلية ب- الظاهرة ج- مسقط د- ظفار

(٤) الجدول الصحيح الذي يمثل تصنيف النبات حسب الأقليم الذي ينمو فيه:

النبات	الأقليم
الصنوبر	البحر المتوسط
السمر	الصحراوي
الصمغ العربي	المداري الرطب

النبات	الأقليم
الصنوبر	الصحراوي
السمر	البحر المتوسط
الصمغ العربي	المداري الرطب

النبات	الأقليم
الصنوبر	المداري الرطب
السمر	الصحراوي
الصمغ العربي	البحر المتوسط

النبات	الأقليم
الصنوبر	الصحراوي
السمر	المداري الرطب
الصمغ العربي	البحر المتوسط

د-

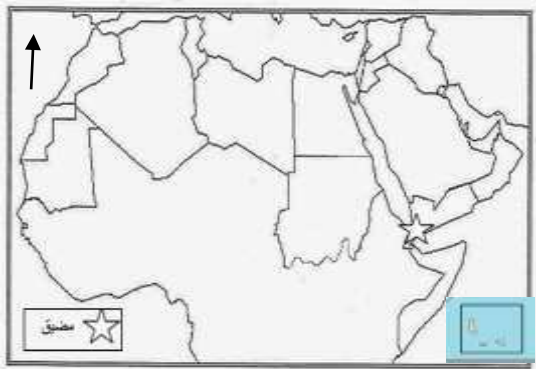
ج-

ب-

أ-


تابع السؤال الأول: ضع دائرة حول رمز الإجابة الصحيحة لكل مفردة من المفردات الآتية:

٥) الدولتان العربيتان اللتان تشرفان على المضيق المشار إليه (*) في الخريطة المقابلة:



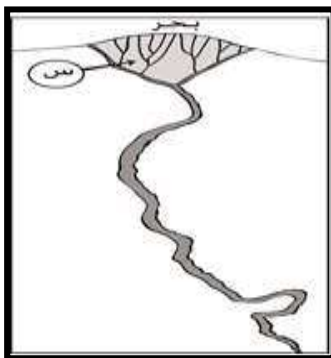
- أ- عمان والإمارات
ب- عمان واليمن
ج- اليمن وجيبوتي
د- مصر والسودان

٦) المنطقة التي مارس العمانيون فيها نظام الزراعة الواضح في الشكل المقابل:



- أ- جبال ظفار
ب- الجبل الأخضر
ج- سهول الظاهرة
د- مال الشرقية

٧) تصنف التربة في المنطقة المشار إليها بالرمز (س) في الشكل المقابل:



- أ- فيضية
ب- رملية
ج- مدارية
د- صحراوية

٨) أولى مراحل جداد النخل التي يقوم بها أفراد المجتمع العماني:

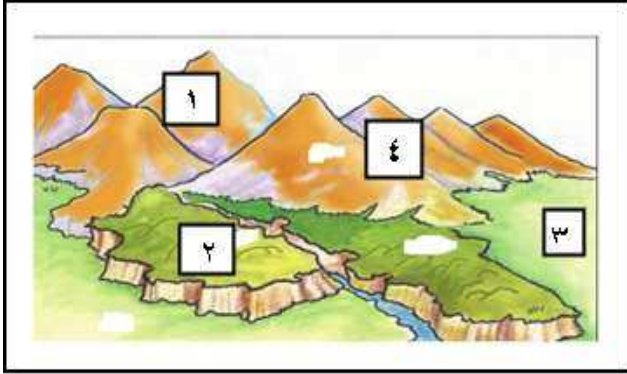
- أ- حفظ التمور بالتعبئة في الجراب
ب- حصاد التمور من أعلى النخلة
ج - تجفيف التمور في مكان واحد
د- تجميع التمر في مكان واحد وفرزه

تابع السؤال الأول: ضع دائرة حول رمز الإجابة الصحيحة لكل مفردة من المفردات الآتية:

(٩) الرقم الذي يشير إلى الشكل التضاريسي الذي يمثل هضاب محافظة الوسطى في عُمان:

أ) ١ ب- ٢

ج- ٣ د- ٤



(١٠) الوزارة التي تتولى الإشراف على معهد عمر للمكفوفين:

أ- وزارة التربية والتعليم ب- الإسكان ج- الصحة د- الأوقاف والشؤون الدينية

(١١) القيمة الاجتماعية التي تحثنا عليها الآية القرآنية {وتعاونوا على البر والتقوى}:

أ- التفرقة ب- التجسس ج- الحرب د- التعاون

(١٢) المدينة العمانية التي استقبلت الرسول الذي بعثه محمد عليه السلام لأهل عمان:

أ- أدم ب- بهلا ج- صحار د- دبا

السؤال الثاني: أجب عن جميع الأسئلة الآتية:

أولاً: أ- عرف المصطلحات الآتية:

١ - العمل الاجتماعي:

.....

٢ - المواطن الإيجابي

.....

ب- ١- فسر العبارة الآتية (يساعد القرب من المسطحات المائية على تلطيف درجة حرارة الجو في المناطق الساحلية صيفاً).

.....

.....

أسئلة تدريبية الصف الخامس المادة: الدراسات الاجتماعية – الفصل الدراسي الأول ٢٠١٩/٢٠٢٠م

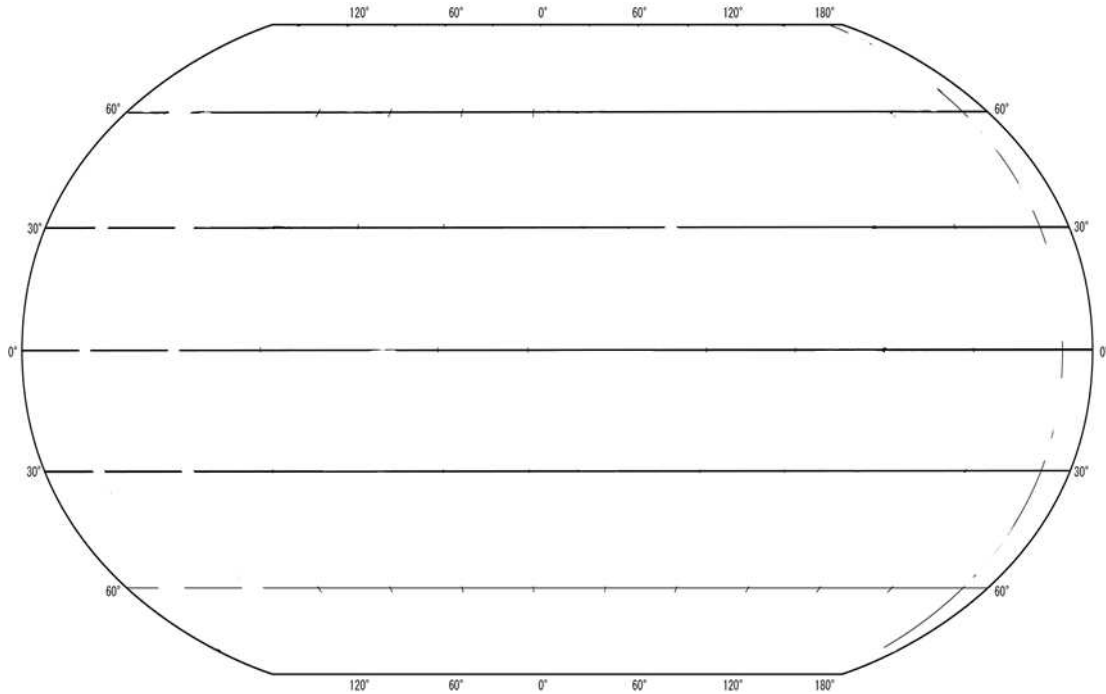
ب: ٢- أكمل البطاقة التعريفية الآتية عن الشخصية التاريخية (مصقلة بن رقة):

الفترة الزمنية التي عاش فيها	
الأعمال التي قام بها	
الدولة التي ينتمي لها	

ثانيا أ- انسب المدن العمانية الواردة بين القوسين (مرباط – توأم – دبا) حسب مواصفات موقعها في الجدول

المدينة	مواصفات المدينة
	١- واحة زراعية تقع على الطرق التجارية البرية وهي بوابة عمان الشمالية
	٢- مدينة قديمة تقع على بحر عمان لها ميناء مشهور قبل الإسلام، ولها سوق سنوي
	٣- مدينة تقع على بحر العرب ولها ميناء مشهور ونشطت فيها تجارة اللبان والخيول ويقام بالقرب منها سوق سنوي

ب- أدرس الشكل المقابل ثم اجب عن الأسئلة التي تليه:



١- ارسم كلا من (دائرة الإستواء، مدار السرطان، خط جرينتش) في أماكنها الصحيحة على الشكل.

٢- إذا اردنا معرفة مناخ دولة ما فإنّ نستخدم (دوائر العرض ، خطوط الطول)
(ضع دائرة حول الإجابة الصحيحة)

السؤال الثالث:

أولاً أ – اذكر نتيجة واحدة ترتبت على كلا من الظواهر الآتية في الجدول:

الظاهرة	النتيجة المترتبة
١- اكتساء جبال ظفار بالأشجار والأعشاب الخضراء في فصل الصيف
٢- سقوط أمطار غزيرة في منطقة صحراوية

ب- صنف مستويات التعاون التي تعبر عنها الصور الآتية إلى:
(تعاون على مستوى افراد الأسرة، تعاون بين دول وشعوب العالم)



٢-.....

١-.....

ثانيا: ادرس الشكل الآتي ثم أجب عن الأسئلة التي تليه:

١- ما واجبك اتجاه الأشخاص الذين تخدمهم الإشارة المشار إليها بالسهم في الشكل؟

.....

٢- اذكر اثنين من المؤسسات الحكومية في السلطنة التي تقدم الرعاية والتأهيل لهذه الفئة.....

.....

ثالثاً - دُل على كلا من:

أ - إسلام أهل عمان في عهد النبي محمد عليه السلام.

.....

ب- اتجاه دول الخليج العربي لمعالجة مشكلة نقص المياه.

.....



أسئلة تدريبية الصف الخامس المادة: الدراسات الاجتماعية – الفصل الدراسي الأول ٢٠١٩/٢٠٢٠م

السؤال الرابع

أولاً - أ - اذكر دوراً واحداً للمؤسسات العمانية الآتية:



(٢)



(١)

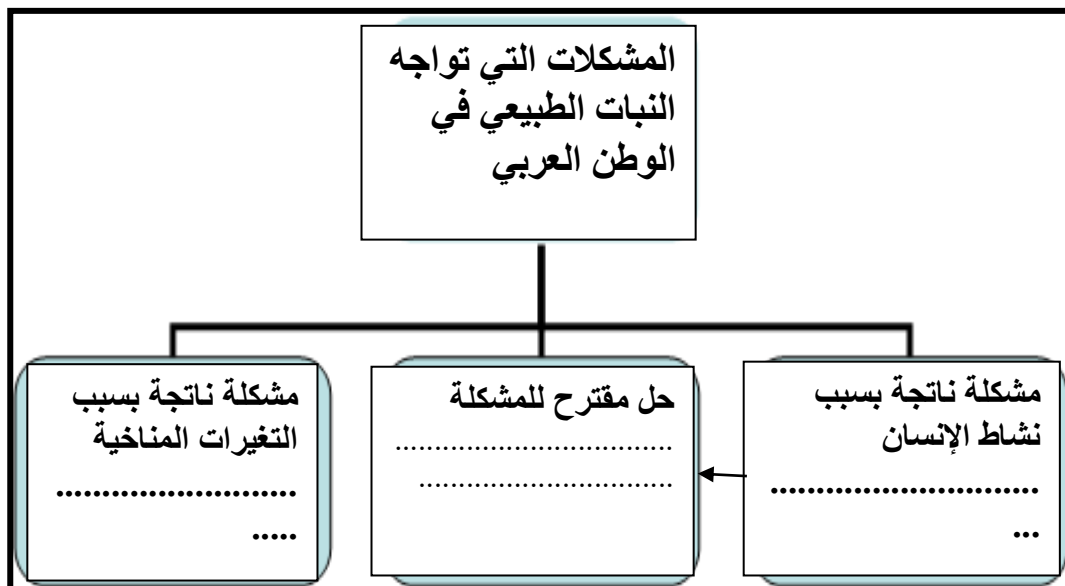
الشكل (٢)	الشكل (١)
<hr/>	<hr/>



ت - اقترح عملاً تطوعياً يمكنك من خلاله المشاركة في هذه الجائزة

.....
.....

ثانياً: أكمل بيانات المخطط الآتي الذي يوضح المشكلات التي تواجه النبات الطبيعي في الوطن العربي:



تابع السؤال الرابع:

ثالثاً: ادرس خريطة شبه الجزيرة العربية ثم اجب عن الأسئلة التي تليها:



١- فرق بين المنطقة (١) والمنطقة (٢) من حيث نظام الحكم قبيل الإسلام.

المنطقة (٢)	المنطقة (١)	نظام الحكم

٣- ارسم خط التجارة البحري الذي يربط بين ميناء صحار وشرق افريقيا.

٤- اذكر اثنين من أسواق العرب التي كانت مشتهرة في المنطقة (١) والمنطقة (٢).

..... و

٤- علل سبب اعتناق بعض سكان شبه الجزيرة العربية لليهودية والنصرانية قبيل الإسلام

.....

٥- صف نمط الحياة الاجتماعية التي يعيشها سكان البادية في شبه الجزيرة العربية

.....

السؤال الخامس:- أولاً: ادرس خريطة الوطن العربي ثم أجب عن الأسئلة التي تليها:



١- انقل رموز الأشكال التضاريسية الآتية في الجدول حسب مواقعها الصحيحة على الخريطة

الشكل التضاريسي	توقيع الرمز على الخريطة
١ - جبل مرة	
٢ - هضبة نجد	

٢ - ظل المنطقة التي يطغى عليها المناخ الموسمي في سلطنة عمان.

٣ - اكتب رقم خط الطول المشار إليه بالسهم على الخريطة.

٤ - علل سبب انتشار التربة الرسوبية في المنطقة المشار إليها بالرمز (●) في الخريطة.

.....

ثانياً: صنف الموارد المائية الآتية (عين الكسفة ، فلج الخطين ، نهر النيل ، وادي الجزي) حسب الجدول الآتي:

مياه جوفية				
مياه سطحية				

ثالثاً. اكتب دلالة الرموز الآتية التي تظهر في النشرة الجوية :



انتهت الأسئلة مع الدعاء للجميع بالتوفيق والنجاح