

شكراً لتحميلك هذا الملف من موقع المناهج العمانية



اختبار تجريبي نهائي حديث مع نموذج الإجابة

[موقع المناهج](#) ← [المناهج العمانية](#) ← [الصف الخامس](#) ← [اجتماعيات](#) ← [الفصل الأول](#) ← [الملف](#)

تاريخ نشر الملف على موقع المناهج: 2023-12-25 06:16:58 | اسم المدرس: ابتسام التوبي

التواصل الاجتماعي بحسب الصف الخامس



روابط مواد الصف الخامس على تلغرام

[الرياضيات](#)

[اللغة الانجليزية](#)

[اللغة العربية](#)

[التربية الاسلامية](#)

المزيد من الملفات بحسب الصف الخامس والمادة اجتماعيات في الفصل الأول

[اختبار قصير ثاني نموذج حديث](#)

1

[امتحان تجريبي نهائي حديث](#)

2

[مراجعة درس الانتماء والولاء للوطن](#)

3

[اختبار قصير ثاني حديث نموذج رابع](#)

4

[اختبار قصير ثاني حديث نموذج ثالث](#)

5

المديرية العامة للتربية والتعليم بمحافظة جنوب الباطنة

مدرسة أم حكيم للتعليم الأساسي (١٢-١)

امتحان تجريبي لمادة: الدراسات الاجتماعية

للف: الخامس

للعام الدراسي ١٤٤٤/١٤٤٥ هـ - ٢٠٢٣/٢٠٢٤ م

أجب عن جميع الأسئلة الآتية

السؤال الأول: ضع دائرة حول رمز الإجابة الصحيحة لكل مفردة من المفردات الآتية: (١٢ درجة)

١- العام الميلادي لرؤية عمان التي تهدف إلى أن يكون المجتمع العماني قويا و متماسكا:

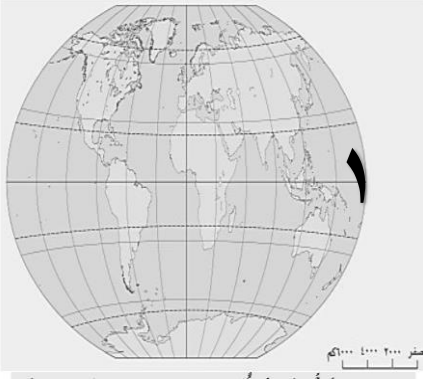
د - ٢٠٦٠

ج - ٢٠٥٠

ب - ٢٠٤٠

أ - ٢٠٣٠

٢- دائرة العرض المشار إليها بالرقم (١) في الخريطة المقابلة:



أ- السرطان

ب- الجدي

ج- الاستواء

د- غرينتش

٣- الرقم الذي يشير إلى الحضارة التي رسمت خرائطها وفق أسس علمية دقيقة:



ب- ٢

أ- ١

د- ٤

ج- ٣

تابع السؤال الأول: ضع دائرة حول رمز الإجابة الصحيحة لكل مفردة من المفردات الآتية:

٤ - الترتيب الصحيح لدول شبه الجزيرة العربية من حيث المساحة (الأكبر إلى الأصغر):

اليمن	١
السعودية	٢
عمان	٣

ب

السعودية	١
اليمن	٢
عمان	٣

أ

اليمن	١
عمان	٢
السعودية	٣

د

عمان	١
اليمن	٢
السعودية	٣

ج

٥ - أحد مظاهر الانتماء والولاء للوطن تشير إليه الصورة المقابلة:



ب- الاجتهاد في طلب العلم

أ- الاهتمام بمنجزات الوطن

د- الالتزام بالأنظمة والقوانين

ج- المشاركة في الأعمال التطوعية

٦ - صاحب كتاب الفوائد في أصول علم البحر والقواعد:

د- جواس بن حيان

ج - الإدريسي

ب - أحمد بن ماجد

أ - ابن حديم

٧- من المؤسسات الخيرية في سلطنة عمان ، هدفها خدمة المسنين والأيتام :

ب



د



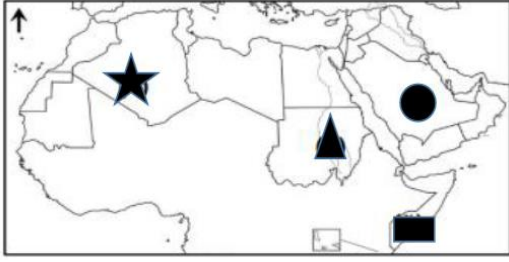
أ




ج

تابع السؤال الأول: ضع دائرة حول رمز الإجابة الصحيحة لكل مفردة من المفردات الآتية:

٨- الرمز الذي يشير إلى الدولة العربية التي يمر بها خط غرينتش:

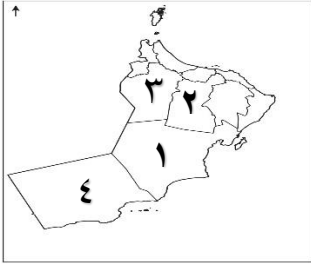


- أ -  - ب - 
ج -  - د - 

٩- الفرق في التوقيت الزمني بين كل خط طول والذي يليه بالدقائق:

- أ- ٤ ب- ٥ ج- ٦ د- ٧

١٠- الرقم الذي يشير إلى المحافظة العمانية التي يوجد بها فلج مالك في الخريطة المقابلة:



- أ- ١ ب- ٢
ج- ٣ د- ٤

١١- المفهوم الذي يطلق على المشاركة في اختيار الشخص المناسب الذي يخدم بلدك:

- أ- تشجيع ب- انتخاب ج- تبرع د- تطوع

١٢- المدينة العمانية التي اتخذها الفرس قاعدة لهم:

- أ- دبا ب- سلوت ج- قلعات د- صحار

السؤال الثاني: أجب عن الأسئلة التالية: (٨ درجات)

أ) اكتب المصطلح/ المفهوم الدال على العبارات الآتية

العبرة	المفهوم/ المصطلح
١- موقع المكان بالنسبة لخطوط الطول ودوائر العرض
٢- شعور الفرد بالحب تجاه وطنه فيعمل على خدمته وبنائه

ب- أكمل الجدول الآتي مستعينا بالمعلومات الواردة بين القوسين (ميناء سمهرم - الداخلية - ظفار - متحف عمان عبر الزمان)

صورة المعلم	(١)	(٢)
الاسم
المحافظة التي يوجد بها

ج- صحح الخطأ في العبارات الواردة في الجدول: -

.....	١- انتصر <u>الفرس</u> على الأزدي في معركة سلوت
.....	٢- <u>النصرانية</u> أكثر المعتقدات الدينية شيوعاً في عمان

السؤال الثالث: أجب عن الأسئلة التالية: (٨ درجات)

أولا- (أ) أدرس النص التالي ثم أجب عن الأسئلة التي تليه: -

(هاجرت بعض القبائل العربية من أواسط شبه الجزيرة العربية وجنوبها إلى عمان ومنها قبيلة الأزد لأسباب عديدة منها الصراعات والحروب والتنافس على الموارد الاقتصادية ومن جماعات الأزد المهاجرة مالك بن فهم وقومه وقد عرف الأزد المهاجرون إلى عمان باسم أزد عمان.)

١- استنتج الأسباب التي دفعت بعض القبائل للهجرة إلى عمان .

.....

٢- ما الجهة التي هاجرت منها تلك القبائل؟

.....

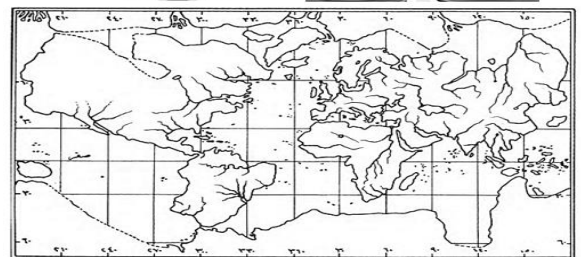
٣- ما الاسم الذي عرف به الأزد المهاجرون إلى عمان؟

.....

ب: من خلال الخريطين (أ) و (ب) أجب عن الأسئلة التي تليهما:-



(ب)



(أ)

١- اسم العالم الذي رسم الخريطة المشار إليها بالرمز (ب) .

.....

٢- أي الخريطين أكثر دقة: -

ب

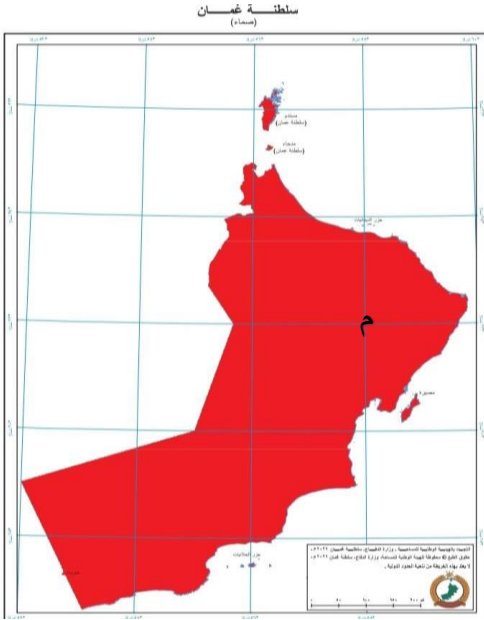
أ

فسر إجابتك:

تابع السؤال الثالث: أجب عن الأسئلة التالية:

ثانيا- أدرس خريطة سلطنة عمان التي أمامك ثم أجب عن الأسئلة التي تليها: -

أ- أكتب إحداثيات الموقع المشار إليه بالرمز (م) في الجدول المقابل:



خط الطول	
دائرة العرض	

السؤال الرابع: أجب عن الأسئلة التالية: (٦ درجات)

أ- أدرس خريطة شبه الجزيرة العربية التي أمامك، ثم أجب عن الأسئلة التي تليها :-

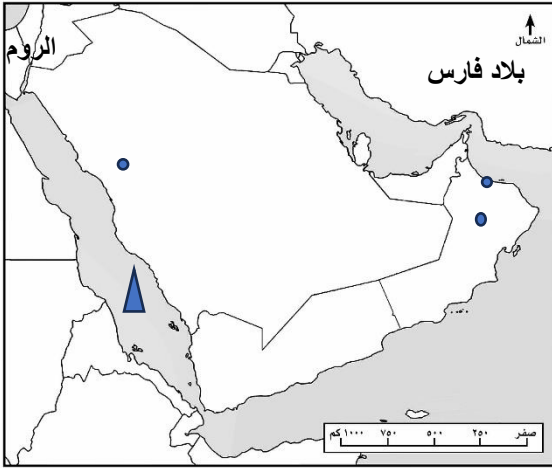
١- أكتب سلطنة عمان في مكانها الصحيح على الخريطة.

٢- استخراج من الخريطة الدولتان المجاورتان لدول شبه الجزيرة العربية قبل الإسلام

.....،

٣- ما اسم المسطح المائي المشار إليه بالرمز ▲ في الخريطة؟

٤- ضع دائرة حول رمز المدينة التي ساد فيها الحكم القبلي قبل الإسلام.



ب- اذكر اثنين لكل من: -

١- الأعمال التي تعبر فيها عن حبك لمدرستك.

.....

.....

٢- العوامل التي تؤثر في دقة رصد جهاز تحديد المواقع العالمي.

..... ،

السؤال الخامس: أجب عن الأسئلة التالية (٦ درجات)

١) -إذا كانت الساعة ٧ صباحا في مدينة جرينتش، فكم الساعة في مدينة (مسقط) الواقعة على خط طول (٦٠) شرق خط جرينتش .

.....
.....
.....

٢- "سلوى طالبة مجتهدة تذاكر دروسها أول بأول وتهتم بحل واجباتها " في ضوء ذلك: -
أ- كيف عبرت سلوى عن انتماؤها وولائها للوطن.

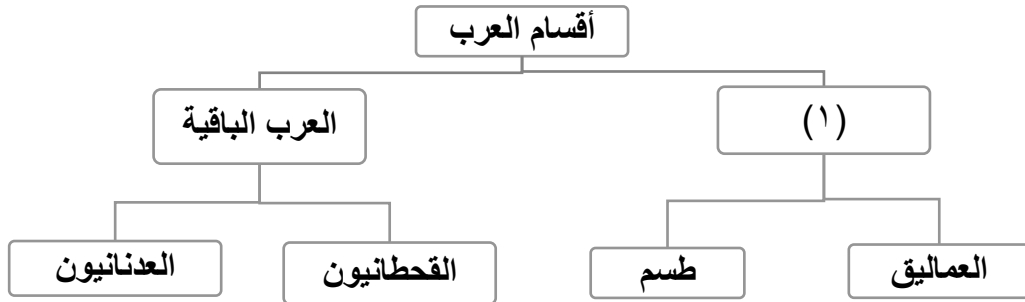
.....

ب- ما رأيك بزميل لك في الصف يقوم بتكسير الطاولات والكراسي ويعبث بحقائب زملائه؟

.....

وبما تنصحه؟

١- أدرس المخطط التالي، ثم أجب عن الأسئلة التي تليه :-



أ- استخرج من المخطط القبائل المنتشرة في عمان في الوقت الحاضر.

.....

ب- ما المفهوم الذي يشير إليه الرقم (١) في المخطط السابق .

.....

ج- علل: -تسمية المفهوم المشار إليه بالرقم (١) بهذا الاسم.

.....

انتهت الأسئلة مع تمنياتنا للجميع بالتوفيق والنجاح

نموذج اجابه الامتحان التجريبي للصف الخامس في مادة الدراسات الاجتماعية

للعام الدراسي ١٤٤٤هـ/١٤٤٥هـ - ٢٠٢٣-٢٠٢٤م

الفصل الدراسي الأول

الدرجة الكلية: (٤٠) درجة

المادة: الدراسات الاجتماعية

تنبيه: نموذج الاجابة في (٣) صفحات

أولاً: اجابة السؤال الموضوعي: ٢ درجة

المفردة	البديل الصحيح	الإجابة	الدرجة	الصفحة
١	ب	٢٠٤٠	١	٩٥
٢	ج	الاستواء	١	٣٠
٣	أ	١	١	٢١
٤	أ	١-السعودية ٢-اليمن-٣-عمان	١	٤٤
٥	د	الالتزام بالأنظمة والقوانين	١	١٠٤
٦	ب	أحمد بن ماجد	١	٣٤
٧	أ	مؤسسة عهد AND FOUNDATION	١	١٠١
٨	د	★	١	٤٢
٩	أ	٤	١	٣٢
١٠	ب	٢	١	٧٠
١١	ب	انتخاب	١	٩٩
١٢	د	صحار	١	٧١

إجابة السؤال الثاني: (٨ درجات)

الجزئية	المفردة	الإجابة الصحيحة	الدرجة	الصفحة
أ	-١	الموقع الفلكي	١	٤٠
	-٢	الانتماء والولاء للوطن	١	٩٢
ب	-١	متحف عمان عبر الزمان - الداخلية	٤ درجات لكل جزئية درجة	١٠٣
	-٢	ميناء سمهرم - ظفار		٧٨
ج	-١	انتصر الأزد على الفرس في معركة سلوت	١	٧٢
	-٢	الوثنية أكثر المعتقدات الدينية شيوعاً في عمان	١	٨٠

إجابة السؤال الثالث: (٨ درجات)

الصفحة	الدرجة	الإجابة الصحيحة	المفردة	الجزئية
٦٩	١	الصراعات – الحروب -التنافس على الموارد الاقتصادية	١	أولاً
	١	وسط شبه الجزيرة العربية وجنوبها	٢	
	١	أزد عمان	٣	
٢٣	١	الادريسي	١	ب
٢٤	٢	أ- لأنها راعت الدقة في الاتجاهات -لان الخريطة ب بها خطأ في الاتجاهات أو ما يفيد المعنى	٢	
٤٤	٢	خط الطول ٥٨ دائرة العرض ٢٢	أ	ثانياً

إجابة السؤال الرابع (٦ درجات)

الصفحة	الدرجة	الإجابة الصحيحة	المفردة	الجزئية
٥٧	١	يعطى الطالب درجة عند كتابته اسم سلطنة عمان في مكانها الصحيح على الخريطة	١	أ
٤٦	١	بلاد فارس – الروم	٢	
	١	البحر الأحمر	٣	
	١	يضع دائرة حول الرمز الذي يشير الى موقع مكة المكرمة	٤	
١٠٤	١	نظافة المدرسة -المحافظة على الكتاب المدرسي- المحافظة على أثاث المدرسة أو ما يفيد المعنى	١	ب
٤٦	١	الأشجار – المباني العالية – الجبال	٢	

إجابة السؤال الخامس (٦ درجات)

الصفحة	الدرجة	الإجابة الصحيحة	المفردة	الجزئية
٣٥	١	١١ صباحاً مع كتابة خطوات الحل	أ	١
١٠٢	١	من خلال الاجتهاد في طلب العلم أو ما يفيد المعنى	أ	٢
	١	سلوك خاطيء أو غير صحيح	ب	
	١	أنصح بعدم تكرار هذا السلوك والمحافظة على أثاث المدرسة وعدم العبث بحقائب زملائه – أو ما يفيد المعنى		
٦٨	١	القحطانيون – العدنانيون	أ	٣
	١	العرب البائدة	ب	
	١	لان لم يبق منهم أحد	ج	