

شكراً لتحميلك هذا الملف من موقع المناهج العمانية



## الامتحان النهائي الدور الأول الفترة المسائية لمحافظة مسقط والداخلية

[موقع المناهج](#) ← [المناهج العمانية](#) ← [الصف الخامس](#) ← [اجتماعيات](#) ← [الفصل الأول](#) ← [الملف](#)

تاريخ نشر الملف على موقع المناهج: 08:12:59 2024-01-04

## التواصل الاجتماعي بحسب الصف الخامس



## روابط مواد الصف الخامس على تلغرام

[الرياضيات](#)

[اللغة الانجليزية](#)

[اللغة العربية](#)

[التربية الاسلامية](#)

## المزيد من الملفات بحسب الصف الخامس والمادة اجتماعيات في الفصل الأول

[اختبار نهائي رسمي في محافظة الظاهرة](#)

1

[اختبار نهائي رسمي في محافظة شمال الشرقية](#)

2

[اختبار نهائي رسمي في محافظة مسقط والداخلية](#)

3

[الامتحان النهائي الدور الأول الفترة الصباحية لمحافظة جنوب الباطنة](#)

4

المزيد من الملفات بحسب الصف الخامس والمادة اجتماعيات في الفصل الأول

[الامتحان النهائي الدور الأول الفترة الصباحية لمحافظة شمال  
الباطنة](#)

5

أجب عن جميع الأسئلة الآتية

السؤال الأول: ضع دائرة حول رمز الإجابة الصحيحة لكل مفردة من المفردات الآتية

(١٢ درجة لكل مفردة درجة واحدة)

١. صاحب كتاب الفوائد في أصول علم البحر والقواعد الملاح العماني .....
- أ. مصقلة بن رقية  
ب. ابن حذيم  
ج. أحمد بن ماجد  
د. مالك بن فهم
٢. المدينة التي اتخذها مالك بن فهم عاصمة له هي .....
- أ. صحار  
ب. سلوت  
ج. قلهاث  
د. سمهرم
٣. تميز العرب بالبلاغة وفصاحة اللسان فنبغوا في .....
- أ. الطب  
ب. الفلك  
ج. الرياضيات  
د. الشعر.
٤. من أوائل الشعوب اللذين رسموا الخرائط التفصيلية لسهل العراق .....
- أ. البابليون  
ب. المصريون القدماء  
ج. الإغريق  
د. الرومان
٥. المنطقة المناخية التي تقع بين دائرتي عرض ٢٣,٥ شمالاً و ٢٣,٥ جنوباً هي .....
- أ. المعتدلة الدفيئة  
ب. المنطقة الحارة  
ج. المعتدلة الباردة  
د. المنطقة الباردة

٦. أمامك خريطة شبه الجزيرة العربية استخرج الرقم

الذي يشير إلى موقع قبيلة قريش هو .....

أ. ١

ب. ٢

ج. ٣

د. ٤



٧. كان للموقع الجغرافي لعُمان منذ القدم دور مهم في عمل العمانيون ب.....  
أ. الزراعة  
ب. التجارة  
ج. الرعي  
د. الصناعة
٨. أهم ما يعزز شعور الارتباط والانتماء والولاء للوطن.....  
أ. الأسرة والمدرسة  
ب. الأسرة والولاية  
ج. المدرسة والولاية  
د. الأسرة والحى
٩. المؤسسة العمانية الخيرية لتي من اهدافها ( دعم العمل المجتمعي والانساني ).....  
أ. مؤسسة العمل  
ب. مؤسسة اليونسكو  
ج. مؤسسة عهد  
د. مؤسسة وطني
١٠. من اقسام العرب البائدة.....  
أ. القحطانيون و طسم  
ب. العدنانيون والقحطانيون  
ج. العماليق و طسم  
د. العماليق والقحطانيون




١١. الرقم الذي يشير الى خط الطول الرئيسي ( جرينتش ) على خريطة العالم هو  
أ. ١  
ب. ٢  
ج. ٣  
د. ٤

١٢. الحضارة التي رسمت على خرائطها خطوط الطول ودوائر العرض.....  
أ. البابليون  
ب. المسلمون  
ج. المصريون  
د. الرومان

السؤال الثاني : ( ٨ درجات )

أولا : من خلال الصورة الموجودة أجب عن الاسئلة ( ٢ درجتان )



١. ما الديانة التي كانت منتشرة ( سائدة )

في شبه الجزيرة العربية قبل الاسلام

٢. ما المقصود بـ الحنيفية

ثانيا : في كل صباح تردد أنت وزملائك النشيد الوطني العماني قبل بداية الحصص الدراسية "  
في ضوء تلك الفقرة أجب عن الأسئلة التالية ( ٤ درجات )

١. لماذا تحرص على ترديد النشيد الوطني العماني

٢. اقترح عملا تطوعيا في مدرستك تشارك فيه

٣. ما النتائج المترتبة على ؟ اجتهاد الطالب في دراسته والتحضير والمراجعة باستمرار

امتحان الصف الخامس - لمادة الدراسات الاجتماعية  
للعام الدراسي ١٤٤٥ هـ - ٢٠٢٣/٢٠٢٤ م - الفصل الدراسي الأول - الدور الأول

ثالثا : اعط سببا واحدا لكل مما يلي ( درجتان )

١ . عدم وجود خرائط للعالم التي رسمها المصريون القدماء

٢ . تسمية عمان بهذا الاسم



السؤال الثالث : ( ٨ درجات )

أولا : أمامك صورة لأحد التقنيات الحديثة التي ادت لتطور علم الخرائط

أجب عن الاسئلة التالية ( ٣ درجات )

١ . اسم الجهاز

٢ . ما وجه الشبه بين هذا الجهاز و شبكة الاحداثيات الجغرافية من حيث الوظيفة

٣ . ما اسم أول دولة استخدمت هذا الجهاز في الاغراض العسكرية ١٩٧٣

امتحان الصف الخامس - لمادة الدراسات الاجتماعية  
للعام الدراسي ١٤٤٥ هـ - ٢٠٢٣/٢٠٢٤ م - الفصل الدراسي الأول - الدور الأول  
ثانياً: اكتب اسفل كل صورة مما يلي أحد مظاهر الانتماء والولاء للوطن مما هو بين القوسين ( ٣ درجات )  
( الدفاع عن الوطن - الالتزام بالانظمة والقوانين - الاجتهاد في طلب العلم )



أ..... ب..... ج.....

ثالثاً: أمامك خريطة قديمة رسمت للعالم

أجب من خلالها عن الأسئلة ١ و ٢ (درجتان)



١. من العالم الذي رسم هذه الخريطة

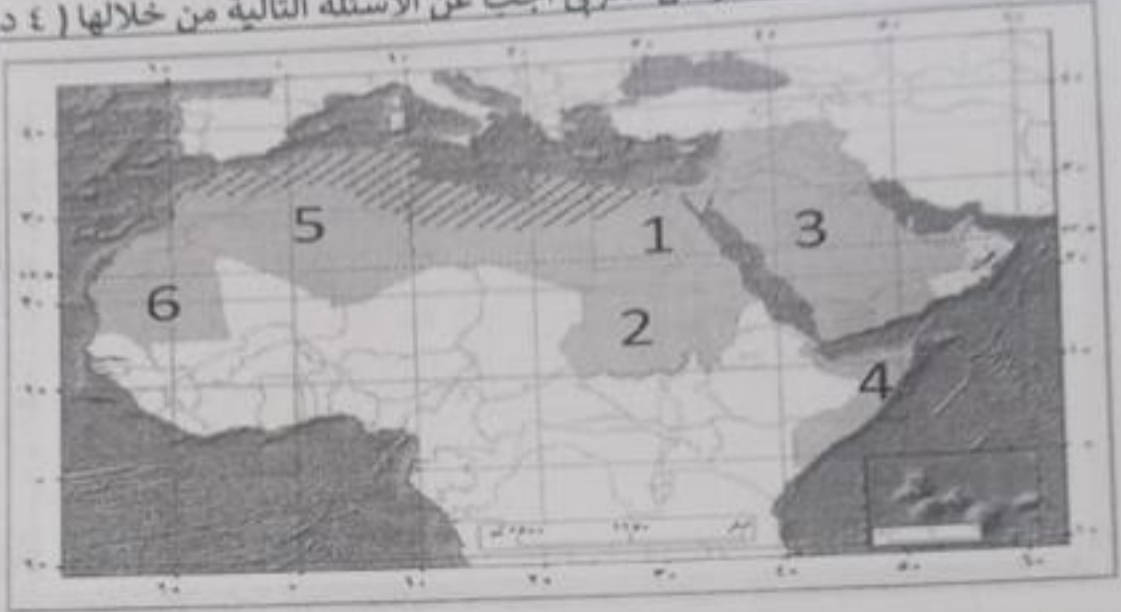
٢. حدد على الخريطة الجهات التي تنقصها

أ.....

ب.....

السؤال الرابع : ( ٦ درجات )

أولاً أمامك خريطة صماء للوطن العربي أجب عن الاسئلة التالية من خلالها ( ٤ درجات )



١. استنتج سبب تشابه التوقيت في الدولتين ( ١ ) و ( ٢ )

٢. الدولة العربية التي يمر بها دائرة الاستواء تحمل الرقم

..... ( ) .....

٣. الدولة العربية التي تقع غرب خط جرينتش تحمل الرقم

..... ( ) .....

٤. ظلل على الخريطة الدولة التي قامت بها حضارة سبأ

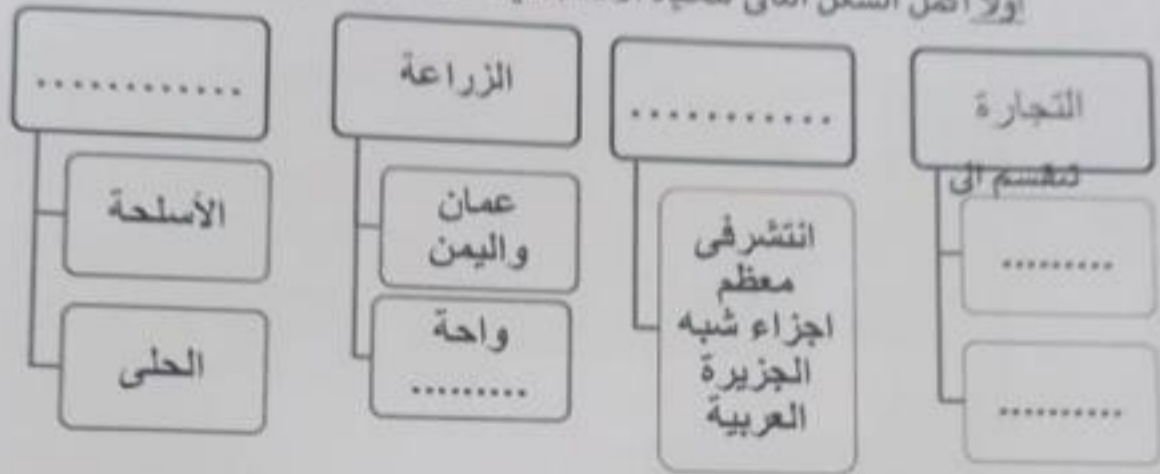
ثانياً: رتب الأحداث التاريخية التالية من القديم الى الحديث (درجتان)

الحدث التاريخي	الترتيب
انتصار العمانيون على الفرس في معركة سلوت	
هجرة قبيلة الأزد الى عمان	
ارسال هناة بن مالك جيشا إلى كرمان لمساعدة اخيه سليمة ضد الفرس	
خروج الفرس بشكل كامل من عمان	



السؤال الخامس ( ٦ درجات )

أولا أكمل الشكل التالي للحياة الاقتصادية عند العرب قبل الإسلام ( ٤ درجات )



ثانيا : أكتب ما تشير اليه العبارات التالية من مفاهيم من خلال دراستك ( درجتان )

.....	١. موقع المكان بالنسبة إلى خطوط الطول وطوائر العرض
.....	٢. علم يهتم بفن رسم الخرائط وصناعتها

انتهت الأسئلة مع تمنياتنا لكم بالتوفيق والنجاح