

## شكراً لتحميلك هذا الملف من موقع المناهج العمانية



## امتحان نهاية الدور الأول

[موقع المناهج](#) ⇨ [المناهج العمانية](#) ⇨ [الصف الخامس](#) ⇨ [رياضيات](#) ⇨ [الفصل الأول](#) ⇨ [الملف](#)

تاريخ نشر الملف على موقع المناهج: 2023-01-05 19:17:53

## التواصل الاجتماعي بحسب الصف الخامس



## روابط مواد الصف الخامس على تلغرام

[الرياضيات](#)

[اللغة الانجليزية](#)

[اللغة العربية](#)

[التربية الاسلامية](#)

## المزيد من الملفات بحسب الصف الخامس والمادة رياضيات في الفصل الأول

<a href="#">إجابات كتاب النشاط</a>	1
<a href="#">إجابات كتاب النشاط</a>	2
<a href="#">بنك أسئلة في وحدة الهندسة</a>	3
<a href="#">نموذج إجابة الاختبار الرسمي لمحافظة (الداخلية)</a>	4
<a href="#">نموذج إجابة الاختبار الرسمي لمحافظة (جنوب الباطنة)</a>	5



المديرية العامة للتربية والتعليم بمحافظة البريمي  
مدرسة ميمونة بنت الحارث

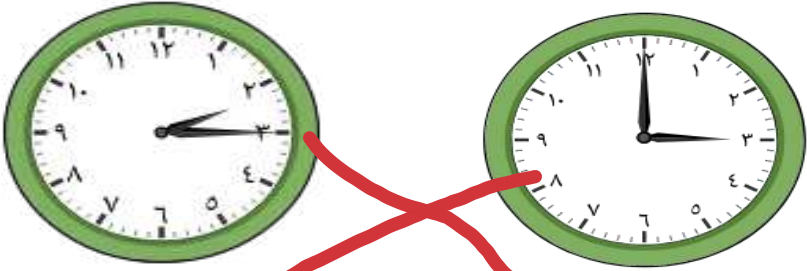
امتحان نهاية الفصل الدراسي الأول لمادة: الرياضيات  
للفيف الخامس/ الدور الأول  
للعام الدراسي ١٤٤٣/١٤٤٤هـ - ٢٠٢٢/٢٠٢٣م

اسم الطالبة	
الفيف	الخامس ( )

التوقيع بالاسم		الدرجة		الصفحة
المصحح الثاني	المصحح الأول	بالحروف	بالأرقام	
				١
				٢
				٣
				٤
				٥
				٦
				٧
				٨
				٩
				١٠
مراجعة الجمع	جمعه			المجموع
				المجموع الكلي

- زمن الامتحان: ساعة
- الإجابة في دفتر نفسه.
- الدرجة الكلية للامتحان: (٤٠) درجة.
- عدد صفحات أسئلة الامتحان: (٦).
- يسمح باستخدام: المسطرة، المنقلة، المثلث القائم، الورق الشفاف.
- لا يسمح باستخدام: الآلة الحاسبة.
- أقرأ التعليمات الآتية في البداية:
- أجب عن جميع الأسئلة في الفراغ المخصص في ورقة الأسئلة.
- وضح كل خطوات حلك في دفتر الأسئلة.
- درجة كل سؤال أو جزء من السؤال مكتوبة في اليسار بين الحاص

(١)  
امتحان نهاية الفصل الدراسي الأول لمادة الرياضيات الصف: الخامس  
للعام الدراسي ٢٠٢٢/٢٠٢٣ الدور الأول

١	أكمل مضاعفات العدد ٣	١
١	٣، ٦، ٩، ١٢	
١	حوظ ناتج ٢٥ + ٣٢	٢
١	٩٣، ٥٧، ٤٦، ٣٢	
١	أوجد ناتج ٢٦٠٠ ÷ ١٠٠ =	٣
١	٦٦	
٢	ضع علامة < أو > في المكان المناسب	٤
٢	٧٨٢٥ < ٧٨٥٢، ٣٦٦٠ > ٣٦٠٦	
١	أوجد ناتج ٦٢٨٩ - ٣٠٠٩ =	٥
١	٣٦٨٠	
٢	صل الوقت الذي تشير إليه الساعة	٦
٢		
	٣:٠٠، ٤:٠٠، ٢:١٥	

(٢)

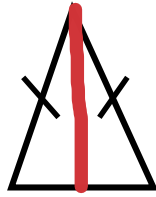
امتحان نهاية الفصل الدراسي الأول لمادة الرياضيات الصف: الخامس  
للعام الدراسي ٢٠٢٢/٢٠٢٣ الدور الأول

٧ ضع علامة (✓) في المكان المناسب بجوار كل عبارة

العبارة	صواب	خطأ
نصف العدد ٣٦ هو ١٦		✓
ضعف العدد ٤٤ هو ٨٨	✓	

٢

٨ أرسم خط التماثل للمثلث المتطابق الضلعين



١

٩ لدى فاطمة ٨,٣٥٠ ريال، وربحت في أحد المسابقات مبلغ ١٠,٥٠٠ ريال. احسب المبلغ الذي أصبح مع فاطمة؟

$$\begin{array}{r} 8,350 \\ + 10,500 \\ \hline 18,850 \end{array}$$

١

١٠ ضع علامة (✓) في المكان المناسب

العبارة	عدد زوجي	عدد فردي
عدد فردي + عدد فردي	✓	
عدد زوجي + عدد فردي		✓

١

١١

قام أحمد بحل المسألة كالتالي:

$$\begin{array}{r} 535 \\ + 422 \\ \hline 1113 \end{array}$$

تحقق من صحة حساب أحمد

$$\begin{array}{r} 535 \\ + 422 \\ \hline 957 \end{array}$$


١

يتبع/٣

الدرجة

٦

$$\begin{array}{r} 535 \\ + 422 \\ \hline 957 \end{array}$$




(٣)  
امتحان نهاية الفصل الدراسي الأول لمادة الرياضيات الصف: الخامس  
للعام الدراسي ٢٠٢٢/٢٠٢٣ الدور الأول

١	١٢	أكمل المتتالية ٢ ، ٤ ، ٦ ، ...
١	١٣	تقول سلمى يحتوي المستطيل الخاص بي على ١٠ صفوف من ٦ مربعات حوظ مساحة المستطيل الذي تتحدث عنه سلمى ٢٠      ٣٠      ٤٠      ٦٠
١	١٤	صل كل عبارة في العمود الأول بالنتائج الصحيحة في العمود الثاني 20      4 × 6 24      2 × 10 28
١	١٥	حوظ إحداثيات النقطة ع ع (٢، ٣) (١، ٢) (٢، ١) (٤، ٥)
١	١٦	أكمل العدد الناقص ١ = ٤ + ٠,٦

يتبع/٤

٥

الدرجة



(٤)

امتحان نهاية الفصل الدراسي الأول لمادة الرياضيات الصف: الخامس  
للعام الدراسي ٢٠٢٢/٢٠٢٣ الدور الأول

١٧

اكتب القيمة المكانية للرقم ٤ في الأعداد التالية

العدد	القيمة المكانية
٢,٤	٤
٣,٢٤	٤٠

٢

١٨

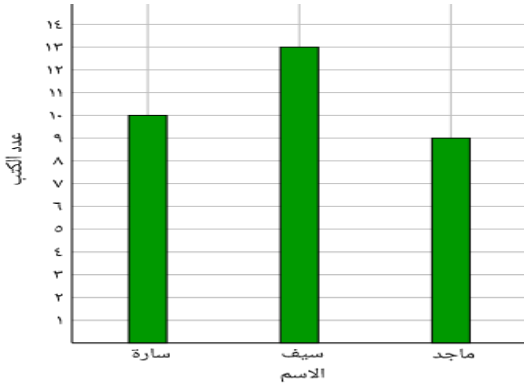
أكمل العبارة

يقبل العدد القسمة على ٥ إذا كان أحاده ..... أو .....  
١٠

١

١٩

الشكل المقابل يوضح الكتب التي قرأها  
ثلاث طلاب  
أوجد مجموع الكتب التي قرأها الطلاب  
الثلاثة؟



١

٢٠

سلك كهربائي طوله ١٣٢ متر يراد تقطيعه الي ٦ قطع .  
أوجد طول القطعة الواحدة؟

١

٢١

أكمل الصيغة التحليلية

$$٤٠٣٢ = ٢ + \boxed{٣٠٠} + ٥٠٠ + \boxed{٤٠٠٠}$$

١

٢٢

انطلقت حافلة من البريمي الساعة ٨:٣٠ ص متوجهة الي مسقط ووصلت في الساعة  
١١:٠٠ ص . احسب الوقت المستغرق للرحلة

١


يتبع/٥

٧

الدرجة

٨:٣٠  
١١:٠٠  
٢:٣٠





(٥)

امتحان نهاية الفصل الدراسي الأول لمادة الرياضيات الصف: الخامس  
للعام الدراسي ٢٠٢٢/٢٠٢٣ الدور الأول

١	حوط ناتج قسمة ٢٢٥ ÷ ٥	٢٣	٤٥	٨٠	٦٩	٢٣
١						٢٤
٢						٢٥
٢						٢٦
١						٢٧
						الدرجة
						٧٠

١٠٠ - ١٠٠ - ١٠٠ - ١٠٠ - ١٠٠ - ١٠٠ - ١٠٠ - ١٠٠ - ١٠٠ - ١٠٠



(٦)

امتحان نهاية الفصل الدراسي الأول لمادة الرياضيات الصف: الخامس  
للعام الدراسي ٢٠٢٢/٢٠٢٣ الدور الأول

٢٨ حوط الكتلة الأكبر من ٢,٥ كغم



٣٠٠٠ غم

٢٥٠٠ غم

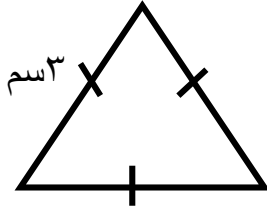
٢٥٠ غم

٢,٥ كغم

١

٢٩

أوجد محيط الشكل المنتظم المقابل

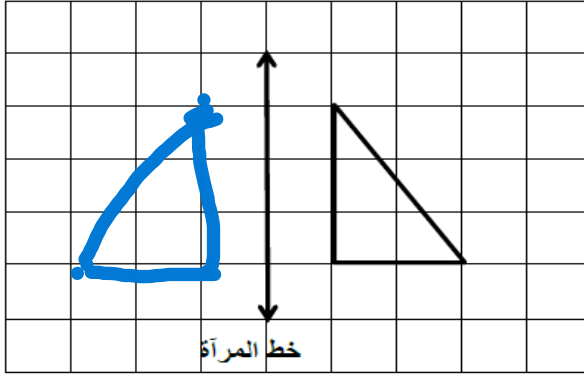


$$9 = 3 \times 3$$

١

٣٠

ارسم انعكاس الشكل حول خط المرآة



١

$$150 = \boxed{50} \times 3$$

أكمل العبارة التالية

٣١

١

٣٢

اكتب عاملين للعدد ٢٤ يكون حاصل جمعهما ١٠

$$4 + 6 = 10$$

١

٣٣ لدى عمر ١٢ صندوق في كل صندوق ١٤ كتاب. احسب عدد الكتب لدى عمر؟

٢

الدرجة

٧

انتهت الأسئلة مع الدعاء للجميع بالتوفيق والنجاح.

$$178 = 14 \times 12$$

۲		۲
۱		۳