

تم تحميل هذا الملف من موقع المناهج العُمانية



* للحصول على أوراق عمل لجميع الصفوف وجميع المواد اضغط هنا

<https://almanahj.com/om>

* للحصول على أوراق عمل لجميع مواد الصف الخامس اضغط هنا

<https://almanahj.com/om/5>

* للحصول على جميع أوراق الصف الخامس في مادة رياضيات ولجميع الفصول, اضغط هنا

<https://almanahj.com/om/5math>

* للحصول على أوراق عمل لجميع مواد الصف الخامس في مادة رياضيات الخاصة بـ الفصل الأول اضغط هنا

<https://almanahj.com/om/5math1>

* لتحميل كتب جميع المواد في جميع الفصول للـ الصف الخامس اضغط هنا

<https://almanahj.com/om/grade5>

* لتحميل جميع ملفات المدرس مركز تدريب الدقم اضغط هنا

للتحدث إلى بوت على تلغرام: اضغط هنا

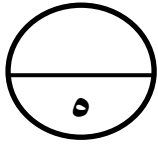
https://t.me/omcourse_bot

مادة الرياضيات

سؤال قصير (٢) للصف الخامس للفصل الدراسي الأول

الصف /

الاسم /



أجب عن الأسئلة الآتية :

(١) صل كل مثلث في العمود (أ) بعدد محاور تماثله في العمود (ب) :

العمود (ب)

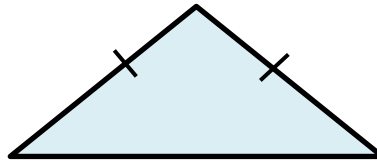
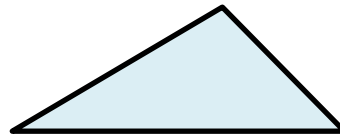
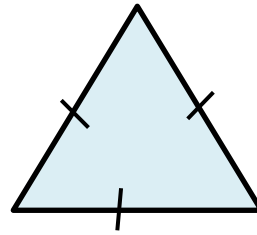
له محور تماثل واحد فقط

ليس له محاور تماثل

له محوري تماثل

له ثلاث محاور تماثل

العمود (أ)



[٢]

(٢) رتب الكتل الآتية من الأخف الى الأثقل :

٢,٤ كجم

٩٠٠ جم

٢٧٠٠ جم

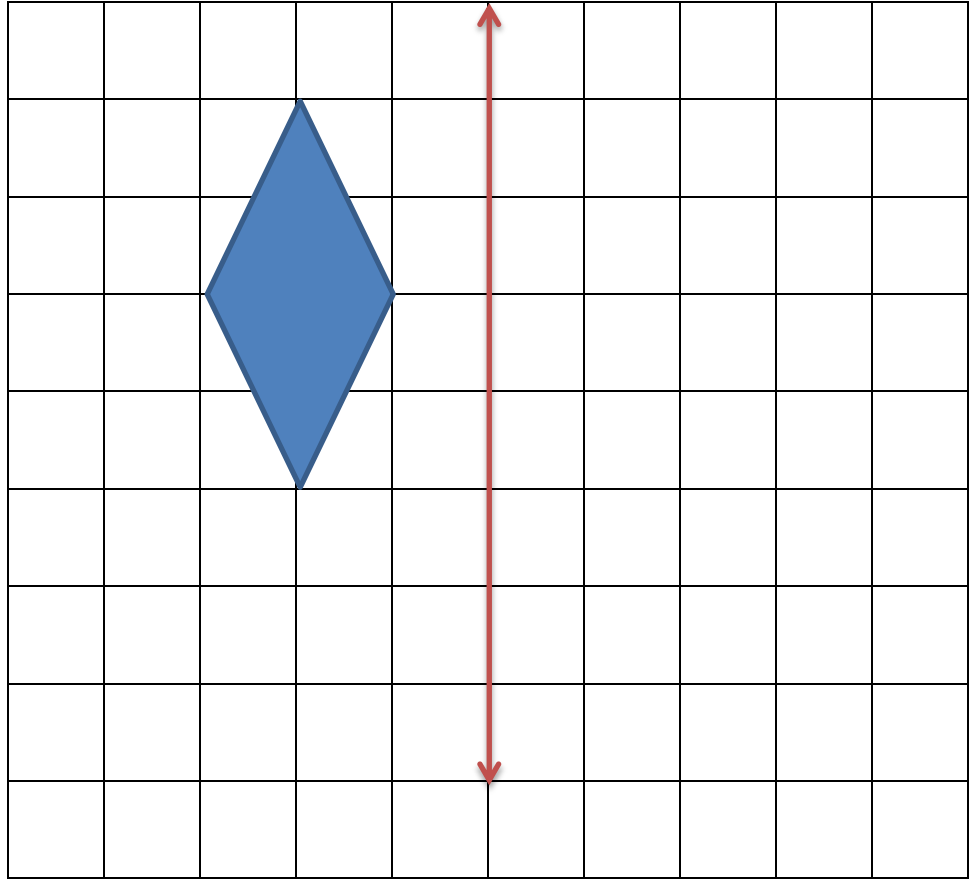
٠,٥ كجم

الإجابة :

[١]

..... ، ، ،

(٣) ارسم انعكاس المضلع في خط المرآة :



[١]

٦٤٠٠ جم

١١٠٠ جم

٥,٢ كجم

٠,٨ كجم

(٤) انقل بطاقات الكتل الآتية :

في المكان المناسب لتكون العبارتين صحيحتين :

<

>

[١]