

## شكراً لتحميلك هذا الملف من موقع المناهج العمانية



## أسئلة الاختبار الرسمي جنوب الشرقية

[موقع المناهج](#) ⇨ [المناهج العمانية](#) ⇨ [الصف الخامس](#) ⇨ [اجتماعيات](#) ⇨ [الفصل الأول](#) ⇨ [الملف](#)

تاريخ نشر الملف على موقع المناهج: 2023-01-11 06:54:13

## التواصل الاجتماعي بحسب الصف الخامس



## روابط مواد الصف الخامس على تلغرام

[الرياضيات](#)

[اللغة الانجليزية](#)

[اللغة العربية](#)

[التربية الاسلامية](#)

## المزيد من الملفات بحسب الصف الخامس والمادة اجتماعيات في الفصل الأول

[ملخص شامل للمادة من مذكرة المتميز](#)

1

[ملخص شرح درس ملامح من حياة العمانيين قبل الإسلام](#)

2

[ملخص درس الموقع الفلكي مع الحل](#)

3

[اختبار قصير أول نموذج ثالث](#)

4

[اختبار قصير أول نموذج ثاني](#)

5

(٢)

المادة: الدراسات الاجتماعية الصف : الخامس الدور الأول -الفصل الدراسي الأول -  
العام الدراسي ٢٠٢٢\٢٠٢٣ م

٦- الرسالة الموضحة في الصورة التي أمامك موجهة لحكام:



أ- البحرين

ب- الحبشة

ج- عُمان

د- مصر

٧- النشاط الاقتصادي الذي يمارسه سكان الصورة المقابلة :



أ- الزراعة

ب- السياحة

ج- الصناعة

د- الرعي

٨- المدينة التي حكمتها قريش بنظام الحكم القبلي قبيل الإسلام:

أ- يثرب

ب- مكة

ج- اليمامة

د- هجر

٩- الصورة الصحيحة التي تمثل المورد الطبيعي المستخرج من هضبة محافظة الوسطى:



د-



ج-



ب-



أ-

١٠- عاصمة الدولة الإسلامية في عهد الرسول صلى الله عليه وسلم:

أ- مكة المكرمة

ب- المدينة المنورة

ج- بغداد

د- دمشق

(1)

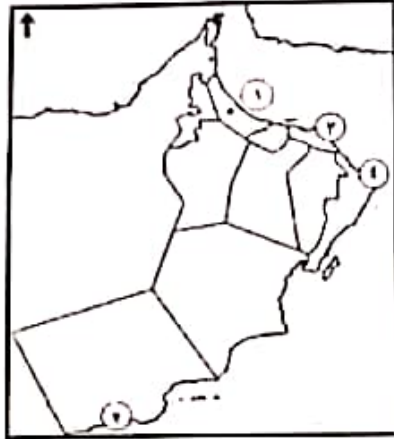
المادة: الدراسات الاجتماعية الصف : الخامس الدور الأول -الفصل الدراسي الأول - العام  
الدراسي 2023\2022م

### أجب عن جميع الأسئلة الآتية

السؤال الأول: ضع دائرة حول رمز الإجابة الصحيحة لكل مفردة من المفردات الآتية:-

١٢

١- الرقم الذي يشير إلى ميناء اشتهر بتجارة اللبان والخيول قبيل الإسلام في الخريطة المقابلة :



أ-1

ب-2

ج-3

د-4

2- القيمة الاجتماعية التي تدعونا إليها الآية القرآنية (وتعاونوا على البر والتقوى):

د- التعاون

ج- الحرب

ب- الأمانة

أ- التفرقة

3- من أشكال المياه الجوفية في الوطن العربي:

د- نهر دجلة

ج- وادي ضيقة

ب- نهر النيل

أ- عين الكسفة

4- الخط الذي يقسم الكرة الأرضية إلى جزء شرقي وغربي:

د- غرينتش

ج- مدار الجدي

ب- مدار السرطان

أ- دائرة الاستواء

5- جميع الصور التالية تمثل المشكلات التي تعاني منها النباتات الطبيعية في الوطن العربي ماعدا:



(د)



(ج)



(ب)



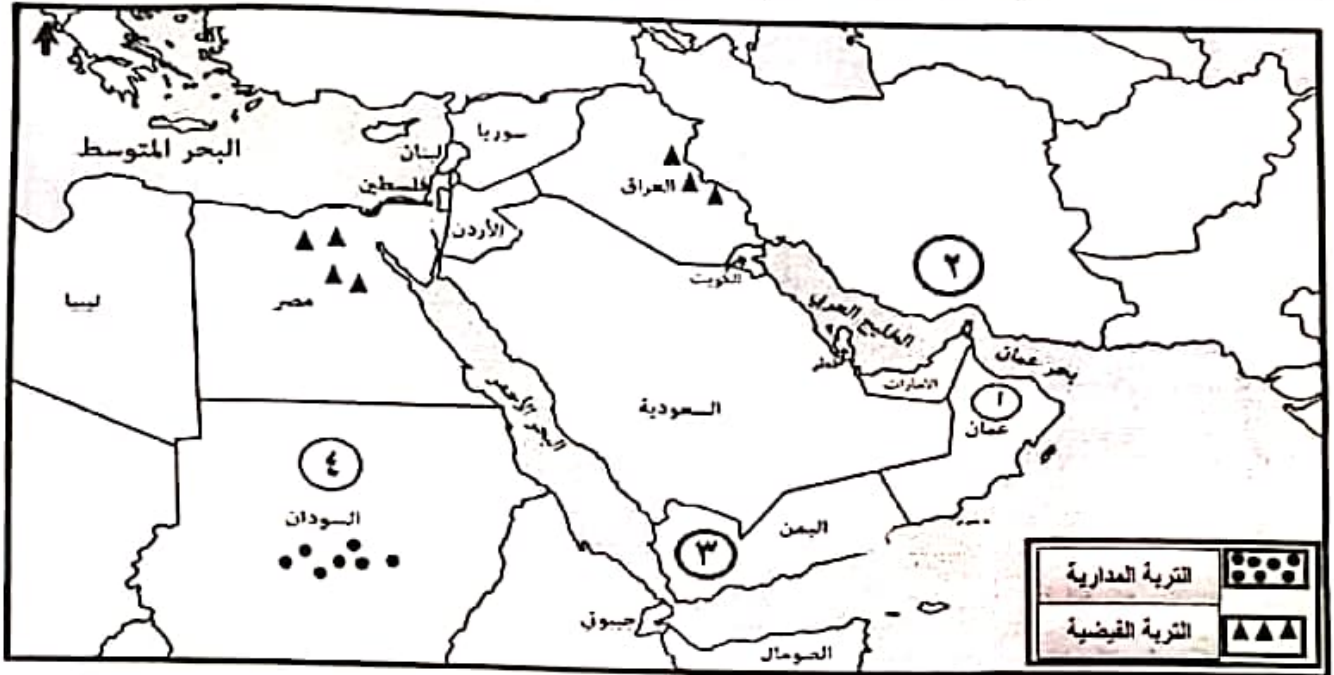
(أ)

(5)

المادة: الدراسات الاجتماعية الصف : الخامس الدور الأول -الفصل الدراسي الأول -  
العام الدراسي ٢٠٢٢\٢٠٢٣م

تابع / السؤال الثالث:

ثالثاً: أولاً: أمامك خريطة ( الوطن العربي السياسية ) ادرسها جيداً ثم أجب عن الأسئلة الآتية :



١- ما الرقم الذي يشير إلى :

- ( ) الدولة التي تقع فيها سلسة جبال ظفار .  
( ) الدولة التي تمثل دولة فارس قديماً .  
( ) الدولة التي تضم هضبة اليمن .

٢- وُقِعَ على الخريطة موقع بحر المال العظيم في موقع الصحيح.

٢- فسر: انتشار التربة الصحراوية في العديد من دول الوطن العربي.

.....  
.....

٤- استخرج من الخريطة مناطق تواجد التربة الفيضية في الوطن العربي:

١- .....

٢- .....

(3)

المادة: الدراسات الاجتماعية الصف: الخامس الدور الأول - الفصل الدراسي الأول -  
العام الدراسي 2022\2023م

11-الولاية العمانية التي يوجد بها معهد عمر بن الخطاب للمكفوفين:

أ- العامرات      ب- مطرح      ج- بوشر      د- السيب

12-الخطيب العُماني الذي عاش قبيل الإسلام، واشتهر بفصاحته وبلاغته:

أ-زهير المهري      ب- كعب بن برشه      ج- المهلب بن أبي صفرة      د- مصقلة بن رقبة

السؤال الثاني : أجب عن الأسئلة الآتية :

٨

أولاً : اذكر اثنين لكل من :

1-الصفات الحميدة التي اتصف بها العرب قبيل الإسلام .

.....  
.....

2-الأسس التي تقوم عليها الأسرة في الإسلام.

.....  
.....

ثانياً : انظر للصورة المقابلة وادرسها جيداً، ثم اجب على الأسئلة الآتية :



1-المشكلة التي توضحها الصورة المقابلة :

"اختر الإجابة الصحيحة بوضع علامة ( ✓ )"

تدهور خصوبة التربة

العجز المائي

2-حدد السبب الرئيسي لحدوث المشكلة.

.....

3-اقترح حلاً لمعالجة المشكلة "يكتفي بواحد فقط"

.....

يتبع/4

(6)

المادة: الدراسات الاجتماعية الصف: الخامس الدور الأول - الفصل الدراسي الأول -  
العام الدراسي 2022\2023م

السؤال الرابع: أجب عن الاسئلة الآتية:

٦

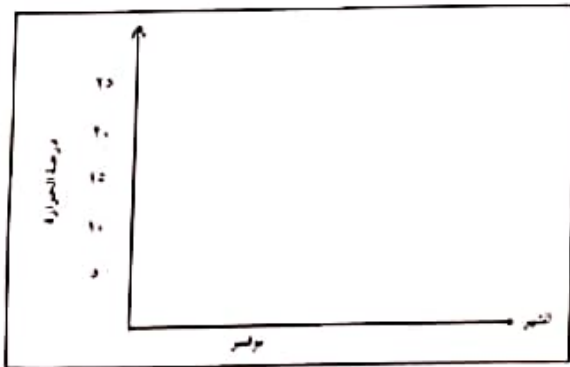
أولاً: رتب الخلفاء الراشدين ترتيباً صحيحاً من الأقدم إلى الأحدث في الخلافة:

- ( ) عمر بن الخطاب  
( ) أبو بكر الصديق  
( ) علي بن أبي طالب  
( ) عثمان بن عفان

ثانياً: ادرس الشكل البياني التالي، والذي يوضح توزيع درجات الحرارة والأمطار في ولاية الجبل الأخضر، ثم أجب على الأسئلة الآتية.

الشهر	يناير	فبراير	مارس	أبريل	مايو	يونيو	يوليو	أغسطس	سبتمبر	أكتوبر	نوفمبر	ديسمبر
درجة الحرارة	١٠	١٥	٢٢	٢٤	٢٦	٢٨	٢٩	٣٠	٢٧	٢٨	٢٥	٢٠
الأمطار	٣	٤	٠	٢	٤	٦	٥	٣	٠	١	٣	٤

أ- أكمل الشكل البياني برسم العمود الذي يمثل الحرارة في شهر نوفمبر.



ب- ما الشهر الذي يحتل أعلى كمية أمطار؟

.....

ج- المناخ الذي ينتمي إليه ولاية الجبل الأخضر هو مناخ البحر المتوسط.

اختر الإجابة الصحيحة بوضع علامة ( ✓ )

نعم

لا

د- فسر إجابتك.