

تم تحميل هذا الملف من موقع المناهج العمانية



أوراق عمل درس تضاريس الوطن العربي في الوحدة الأولى مع تدريبات محلولة وغير محلولة

موقع فايلاتي ← المناهج العمانية ← الصف الخامس ← اجتماعيات ← الفصل الأول ← حلول ← الملف

تاريخ إضافة الملف على موقع المناهج: 2024-10-05 23:29:38

ملفات اكتب للمعلم اكتب للطالب | اختبارات الكترونية | اختبارات | حلول | عروض بوربوينت | أوراق عمل
منهج انجليزي | ملخصات وتقارير | مذكرات وبنوك | الامتحان النهائي للمدرس

المزيد من مادة
اجتماعيات:

إعداد: علي بن محمد الحسان

التواصل الاجتماعي بحسب الصف الخامس



الرياضيات



اللغة الانجليزية



اللغة العربية



التربية الاسلامية



المواد على تلغرام

صفحة المناهج
العمانية على
فيسبوك

المزيد من الملفات بحسب الصف الخامس والمادة اجتماعيات في الفصل الأول

تقرير عن خطوط الطول ودوائر العرض

1

تقرير عن الموقع الفلكي

2

تقرير علم الخرائط

3

نشاط فردي على درس شبه الجزيرة العربية وعمان قبل الإسلام

4

المزيد من الملفات بحسب الصف الخامس والمادة اجتماعيات في الفصل الأول

ملخص شامل للمادة

5

درس : تطور علم الخرائط**السؤال الأول : ضع علامة (✓) أو (X) أمام العبارة المناسبة مع تصحيح ما تحته خط إذا كانت العبارة خطأ .**

- ١- (✓) كان البابليون ينقشون الخرائط على لوحات من الصلصال المحروق .
- ٢- (✓) قام المسلمون بتصحيح المعلومات الواردة في الخرائط الاغريقية والرومانية .
- ٢- (X) لم يسهم تقدم العلوم المختلفة في تطور علم الخرائط . اسهم

السؤال الثاني : أكمل ما يلي بعبارات مناسبة من عندك .

- ١- استفاد البابليون من مادة الطين المترسبة على جانبي نهري دجلة والفرات .
- ٢- كان المصريون القدماء يرسمون الخرائط على ورق يسمى البردي .
- ٣- اسهم الجغرافيون المسلمون في تطوير علم الخرائط في مقدمتهم الادريسي والمسعودي .

السؤال الثالث : ضع دائرة حول الإجابة الصحيحة من بين البدائل

- ١- تعود بدايات علم الخرائط الى فترات تاريخية (قديمة - حديثة) .
- ٢- من أوائل الشعوب الذين قاموا برسم الخرائط التفصيلية لسهل العراق (البابليون - المصريون)
- ٣- ساعد ظهور الإسلام في ازدهار العلوم ومنها علم (الأماكن - الخرائط)

السؤال الرابع : ظلل الإجابة الصحيحة من بين البدائل المعطاة .

- ١- أولى المحاولات لرسم الخرائط وفق أسس علمية دقيقة كانت زمن ...
- البابليون الاغريق المصريون
- ٢- الذين وضعوا على خرائطهم خطوط الطول ودوائر العرض هم ...
- الرومان المسلمين الأوروبيون
- ٣- استفاد ... من الفكر الإسلامي حيث قاموا برسم خرائط دقيقة توضح المناطق والقارات المكتشفة .
- البابليون المسلمون الأوروبيون

السؤال الخامس : من الأماكن التي كانت الشعوب قديما ترسم عليها بدايات الخرائط

الرمال	جدران الكهوف	قطع الجلد
--------	--------------	-----------

السؤال السادس : ظهرت العديد من الحضارات والشعوب القديمة التي اهتمت بعلم الخرائط منها ...

الابغريق	المصريون	البابليون
الاوروبيون	المسلمون	الرومان

السؤال السابع : أسهمت عدد من العوامل في تطور علم الخرائط عند المسلمين منها :


ارتباط العديد من العبادات في الإسلام بتحديد الوقت والاتجاهات	ازدهار النشاط التجاري والرحلات الجغرافية
اتساع مساحة الدولة الاسلامية	تعريب العلوم نتيجة اتصال المسلمين بالشعوب الاخرى

السؤال الثامن : تميزت خرائط المسلمين بعدة مميزات منها :

الدقة	استخدام الألوان	استخدام الخطوط	استخدام الأشكال الهندسية
-------	-----------------	----------------	--------------------------

السؤال التاسع : تأمل الصور التالية ثم اختر الإجابة الصحيحة من بين البدائل :

خريطة لمنجم مصري قديم رسمت على ورق ...
(الغاف - الياسمين - البردي)



أقدم خريطة للأرض كما تصورها ...
(المصريون - البابليون - الرومان)

السؤال العاشر: اجب عن الأسئلة التالية :

- س ١ : ما معنى علم الخرائط ؟
- ج ١ : هو علم يهتم بفن رسم الخرائط وصناعتها .
- س ٢ : ما المقصود بضريبة الأرض الزراعية ؟
- ج ٢ : جزء من محصول الأرض او مبلغ مالي تحصل عليه الدولة من المزارعين مقابل زراعة أراضيها .
- س ٣ : لماذا رسم المصريون القدماء الأراضي الزراعية موضحين عليها المساحة التفصيلية ؟
- ج ٣ : من اجل تقدير الضرائب على المزارعين .

درس : تطور علم الخرائط**السؤال الأول : ضع علامة (✓) أو (X) أمام العبارة المناسبة مع تصحيح ما تحته خط إذا كانت العبارة خطأ .**

- ١- () كان البابليون ينقشون الخرائط على لوحات من الصلصال المحروق .
- ٢- () قام المسلمون بتصحيح المعلومات الواردة في الخرائط الاغريقية والرومانية .
- ٢- () لم يسهم تقدم العلوم المختلفة في تطور علم الخرائط .

السؤال الثاني : أكمل ما يلي بعبارات مناسبة من عندك .

- ١ - استفاد البابليون من مادة الطين المترسبة على جانبي نهري دجلة و.....
- ٢ - كان المصريون القدماء يرسمون الخرائط على ورق يسمى
- ٣ - اسهم الجغرافيون المسلمون في تطوير علم الخرائط في مقدمتهم الادريسي و.....

السؤال الثالث : ضع دائرة حول الإجابة الصحيحة من بين البدائل

- ١- تعود بدايات علم الخرائط الى فترات تاريخية (قديمة - حديثة) .
- ٢- من أوائل الشعوب الذين قاموا برسم الخرائط التفصيلية لسهل العراق (البابليون - المصريون)
- ٣- ساعد ظهور الإسلام في ازدهار العلوم ومنها علم (الأماكن - الخرائط)

السؤال الرابع : ظلل الإجابة الصحيحة من بين البدائل المعطاة .

- ١- أولى المحاولات لرسم الخرائط وفق أسس علمية دقيقة كانت زمن ...
- البابليون ○ الاغريق ○ المصريون
- ٢- الذين وضعوا على خرائطهم خطوط الطول ودوائر العرض هم ...
- الرومان ○ المسلمين ○ الأوروبيون
- ٣- استفاد ... من الفكر الإسلامي حيث قاموا برسم خرائط دقيقة توضح المناطق والقارات المكتشفة .
- البابليون ○ المسلمون ○ الأوروبيون

السؤال الخامس : من الأماكن التي كانت الشعوب قديما ترسم عليها بدايات الخرائط

--	--	--

السؤال السادس : ظهرت العديد من الحضارات والشعوب القديمة التي اهتمت بعلم الخرائط منها ...

السؤال السابع : أسهمت عدد من العوامل في تطور علم الخرائط عند المسلمين منها :

السؤال الثامن : تميزت خرائط المسلمين بعدة مميزات منها :

--	--	--	--

السؤال التاسع : تأمل الصور التالية ثم اختر الإجابة الصحيحة من بين البدائل :

خريطة لمنجم مصري قديم رسمت على ورق ...
(الغاف - الياسمين - البردي)



اقدم خريطة للأرض كما تصورها ...
(المصريون - البابليون - الرومان)

السؤال العاشر: اجب عن الأسئلة التالية :

س ١ : ما معنى علم الخرائط ؟

ج ١ :

س ٢ : ما المقصود بضريبة الأرض الزراعية ؟

ج ٢ :

س ٣ : لماذا رسم المصريون القدماء الأراضي الزراعية موضحين عليها المساحة التفصيلية ؟

ج ٣ :

درس : خطوط الطول ودوائر العرض**السؤال الأول : ضع علامة (✓) أو (X) أمام العبارة المناسبة مع تصحيح ما تحته خط إذا كانت العبارة خطأ .**

- ١- (X) دوائر العرض وخطوط الطول هي خطوط حقيقية على الكره الأرضية . " وهمية "
- ٢- (✓) يتقدم التوقيت الزمني في المناطق التي تقع شرق خط جرينتش عن المناطق التي تقع غربه .
- ٣- (✓) كتاب " الفوائد في أصول علم البحر والقواعد " الفه الملاح العماني احمد بن ماجد .

السؤال الثاني : ضع دائرة حول الإجابة الصحيحة من بين البدائل

- ١- تفيدنا خطوط الطول في معرفة تحديد (الزمن - المناخ) .
- ٢- تفيدنا دوائر العرض في معرفة (الزمن - المناخ) .
- ٣- الفرق في التوقيت الزمني بين كل خط طول والذي يليه (٤ - ٦) دقائق

السؤال الثالث : ظلل الإجابة الصحيحة من بين البدائل المعطاة .

- ١- خطوط الطول عبارة عن أنصاف دوائر يبلغ عددها ...
 ٣٤٠ ○ ٣٦٠ ● ٣٨٠ ○
- ٢- دوائر العرض هي دوائر مكتملة يبلغ عددها ...
 ١٤٠ ○ ١٦٠ ○ ١٨٠ ●
- ٣- درجة دائرة الاستواء هو ...
 ٢٠ ○ ١٠ ○ صفر ●

السؤال الرابع : ما سبب تسمية خطوط الطول ودوائر العرض بهذا الاسم ؟

- ١- خطوط الطول : سميت خطوط الطول بهذا الاسم لأنها تمتد بشكل عمودي على مدار الكرة الأرضية من الشمال الى الجنوب
- ٢- دوائر العرض : سميت دوائر العرض بهذا الاسم لأنها دوائر عرضية تمتد على مدار الكرة الأرضية من الشرق الى الغرب

السؤال الخامس : أكمل الجدول التالي بعمل مقارنه بين خطوط الطول ودوائر العرض في المجالات التالية :

دوائر العرض	خطوط الطول	مجال المقارنة
دوائر مكتملة	انصاف دوائر	شكلها
١٨٠	٣٦٠	عددها
دائرة الاستواء	خط جرينتش	الدائرة الرئيسية
صفر	صفر	الدرجة
شمالي وجنوبي	شرقي وغربي	الاتجاه
معرفة المناخ	تحديد الزمن	فائدته

السؤال السادس : تفيدينا خطوط الطول في ...

٢ تحديد التوقيت الزمني في دول العالم

١ تحديد المواقع شرق خط جرينتش وغربه على سطح الأرض

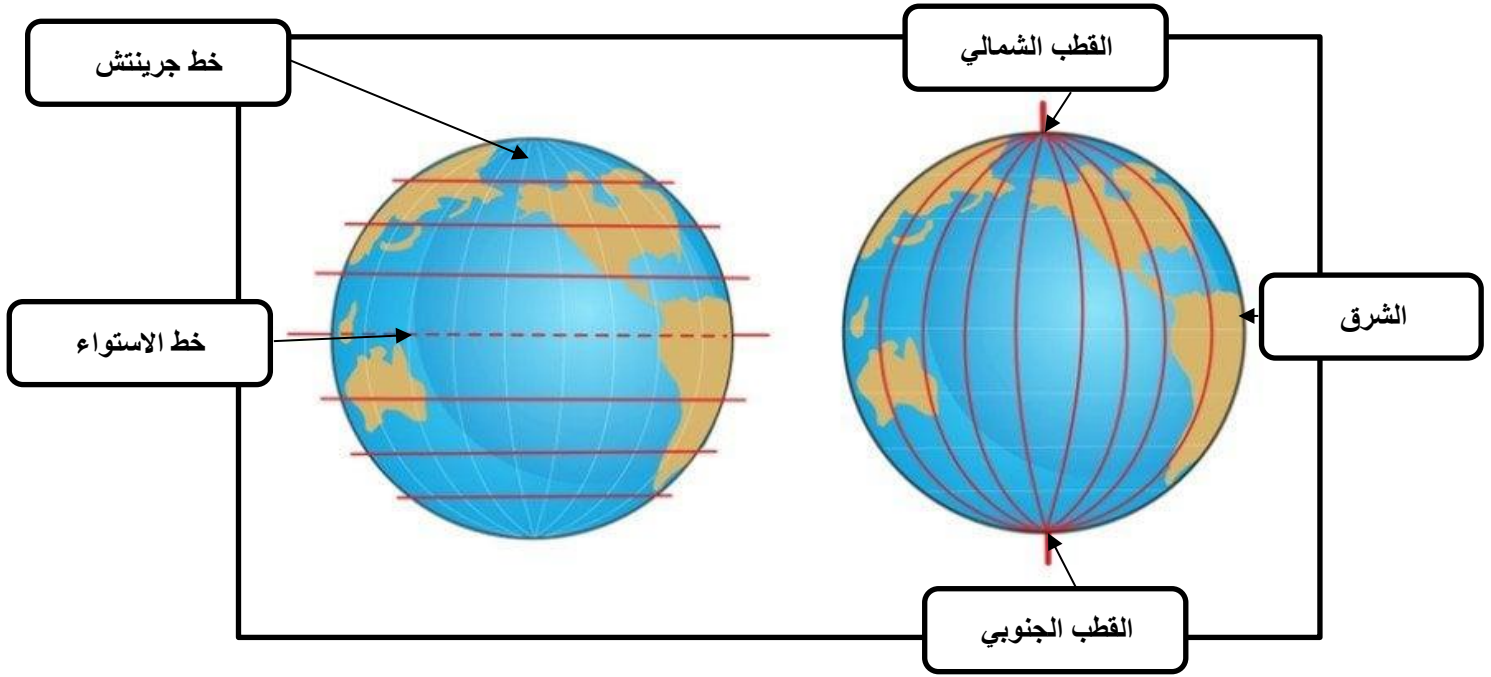
السؤال السابع : تفيدينا دوائر العرض في ...

٢ تفيدينا في معرفة المناخ في العالم

١ تحديد المواقع على سطح الأرض شمال دائرة الاستواء وجنوبها

السؤال الثامن : ضع البيانات التالية في موضعها الصحيح في الشكل التالي

(خط الاستواء - القطب الشمالي - خط جرينتش - جهة الشرق - القطب الجنوبي)



درس : خطوط الطول ودوائر العرض**السؤال الأول : ضع علامة (✓) أو (X) أمام العبارة المناسبة مع تصحيح ما تحته خط إذا كانت العبارة خطأ .**

- ١- () دوائر العرض وخطوط الطول هي خطوط حقيقية على الكرة الأرضية .
- ٢- () يتقدم التوقيت الزمني في المناطق التي تقع شرق خط جرينتش عن المناطق التي تقع غربه .
- ٣- () كتاب " الفوائد في أصول علم البحر والقواعد " الفه الملاح العماني احمد بن ماجد .

السؤال الثاني : ضع دائرة حول الإجابة الصحيحة من بين البدائل

- ١- تفيدنا خطوط الطول في معرفة تحديد (الزمن - المناخ) .
- ٢- تفيدنا دوائر العرض في معرفة (الزمن - المناخ) .
- ٣- الفرق في التوقيت الزمني بين كل خط طول والذي يليه (٤ - ٦) دقائق

السؤال الثالث : ظلل الإجابة الصحيحة من بين البدائل المعطاة .

- ١- خطوط الطول عبارة عن أنصاف دوائر يبلغ عددها ...
 ٣٨٠ ٣٦٠ ٣٤٠
- ٢- دوائر العرض هي دوائر مكتملة يبلغ عددها ...
 ١٨٠ ١٦٠ ١٤٠
- ٣- درجة دائرة الاستواء هو ...
 صفر ١٠ ٢٠

السؤال الرابع : ما سبب تسمية خطوط الطول ودوائر العرض بهذا الاسم ؟

- ١- خطوط الطول :
- ٢- دوائر العرض :

السؤال الخامس : أكمل الجدول التالي بعمل مقارنه بين خطوط الطول ودوائر العرض في المجالات التالية :

دوائر العرض	خطوط الطول	مجال المقارنة
		شكلها
		عددها
		الدائرة الرئيسية
		الدرجة
		الاتجاه
		فائدته

السؤال السادس : تفيدينا خطوط الطول في ...

	٢
--	---

	١
--	---

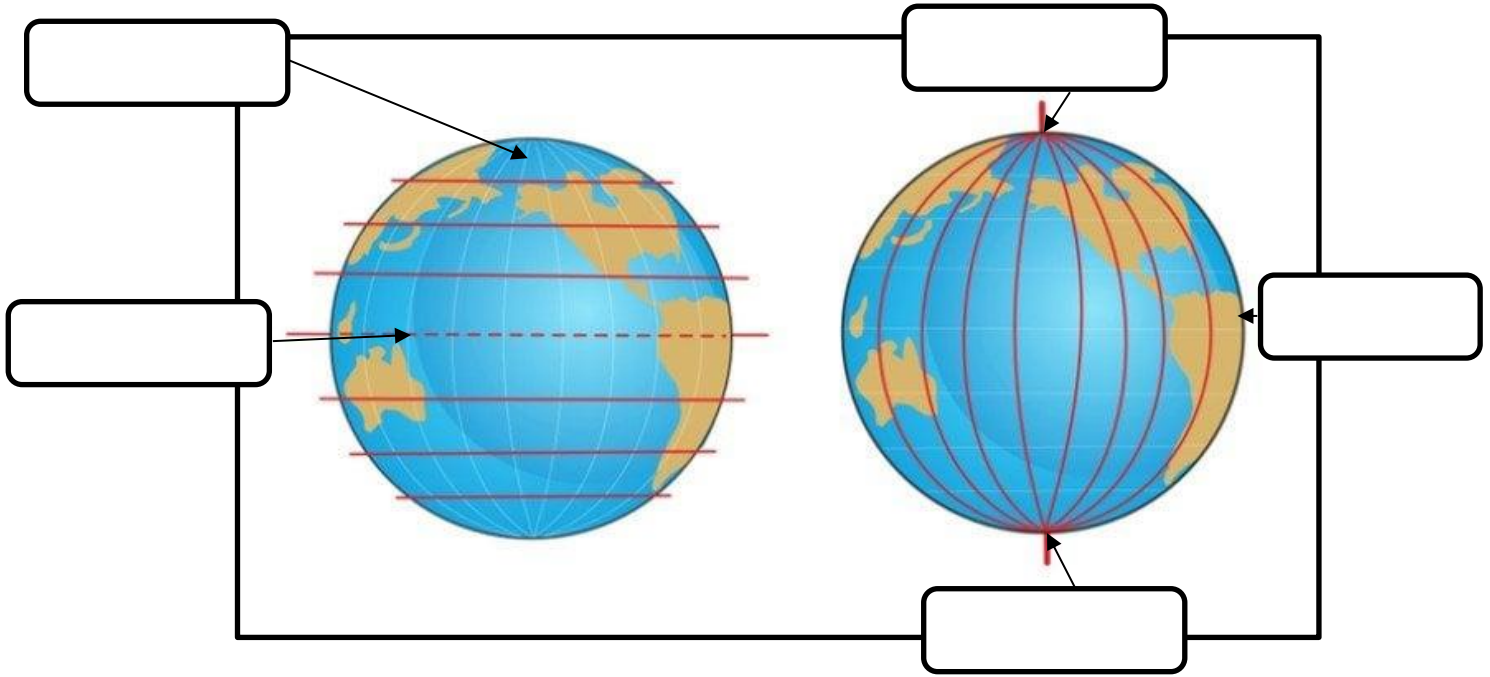
السؤال السابع : تفيدينا دوائر العرض في ...

	٢
--	---

	١
--	---

السؤال الثامن : ضع البيانات التالية في موضعها الصحيح في الشكل التالي

(خط الاستواء - القطب الشمالي - خط جرينتش - جهة الشرق - القطب الجنوبي)



درس : الموقع الفلكي**السؤال الأول : ضع علامة (✓) أو (X) أمام العبارة المناسبة مع تصحيح ما تحته خط إذا كانت العبارة خطأ .**

- ١- (X) اطلقت وزارة الدفاع الامريكية نظام تحديد المواقع وقد كان مقتصرًا على النواحي الاقتصادية . " العسكرية "
- ٢- (✓) من اسهامات آلة الاسطرلاب تقدير الليل والنهار وبداية الشهور الهجرية .

السؤال الثاني : ضع دائرة حول الإجابة الصحيحة من بين البدائل


- ١- عند رسم خطوط الطول ودوائر العرض على الكرة الأرضية تتكون شبكة تعرف بشبكة (الاحداثيات - الامكانيات) الجغرافية
- ٢- تعد سلطنة عمان (ثاني - ثالث) اكبر دولة في شبه الجزيرة العربية من حيث المساحة .

السؤال الثالث : حدد صيغ كتابة الاحداثيات الجغرافية التي تعلمتها

درجة	دقيقة	ثانية
○	/	//

السؤال الرابع : " تؤثر في دقة رصد جهاز تحديد المواقع بعض العوامل " منها

الجبال	الاشجار	المباني العالية
--------	---------	-----------------

السؤال الخامس : " لجهاز تحديد المواقع العالمي عدة استخدامات " اكتب تحت الصور نوع الاستخدام الذي تمثله

في تحديد الطرق والمواقع العسكرية

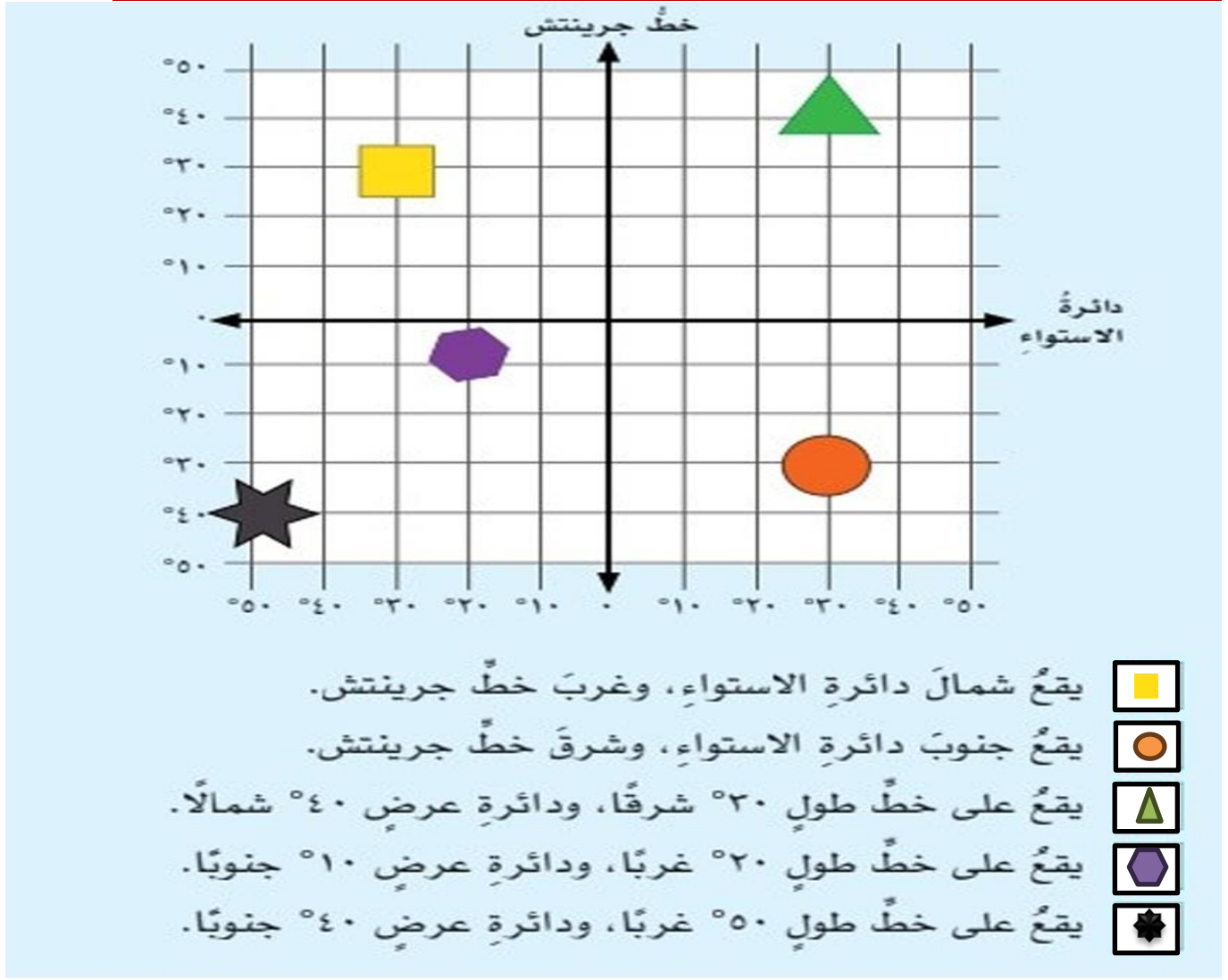


في تحديد المواقع للسائقين

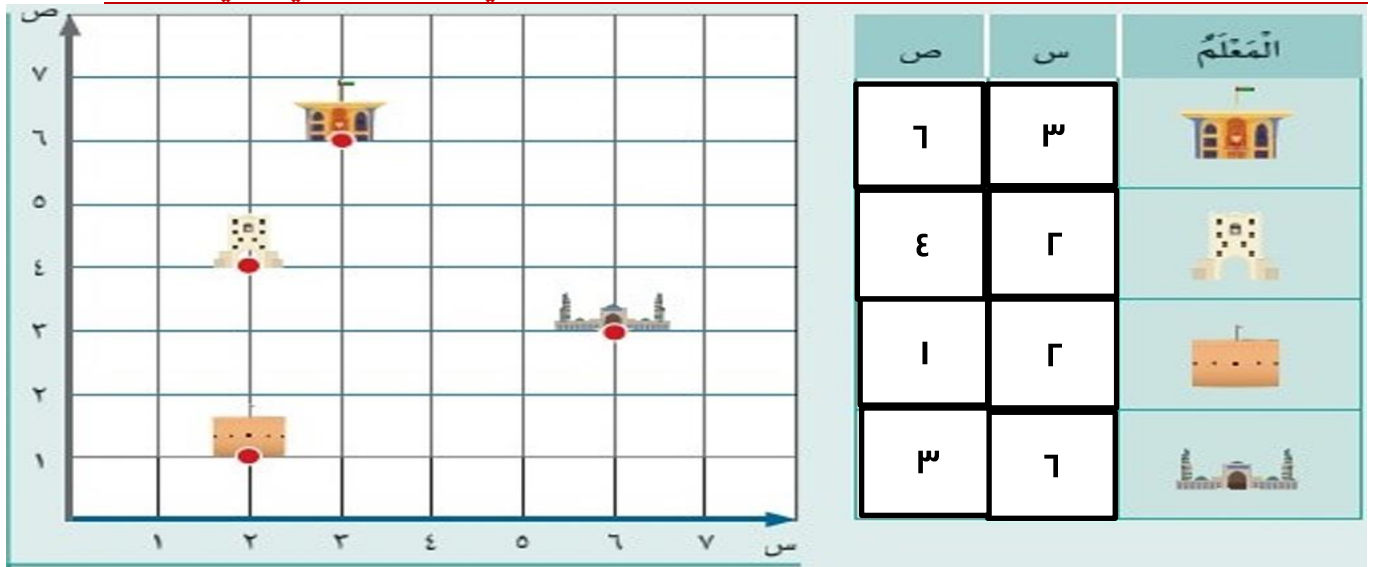


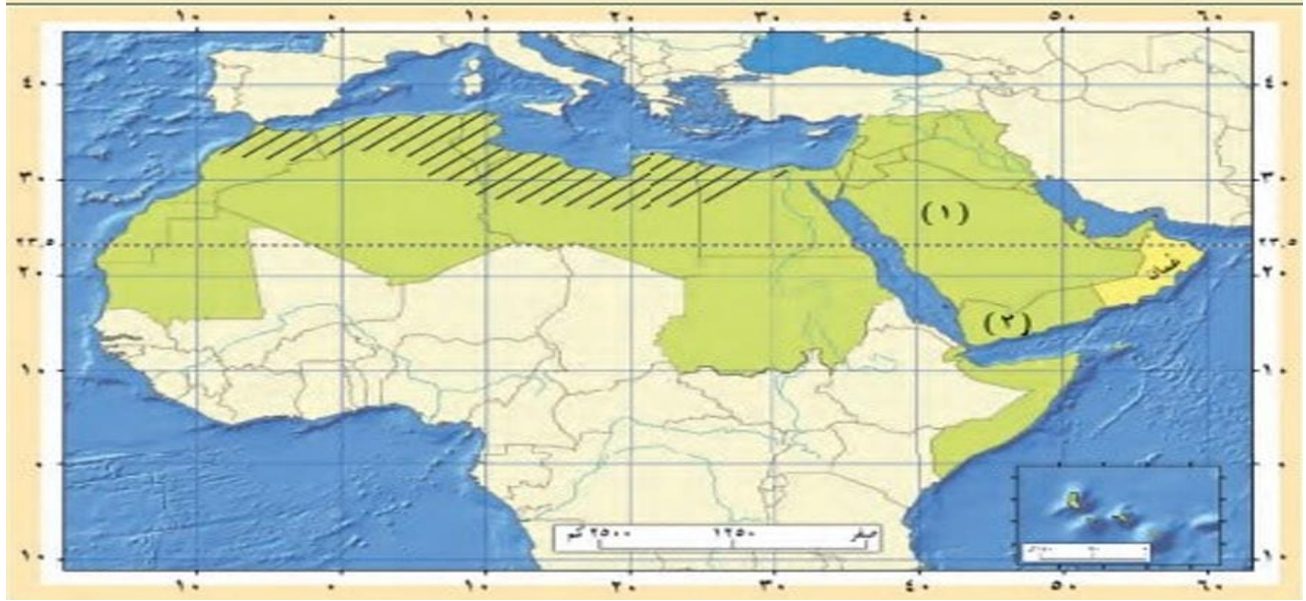
في الملاحة البحرية

السؤال السادس : ادرس شبكة الاحداثيات التي امامك ثم ارسم امامك كل عبارة الرمز الذي يمثلها :



السؤال السابع : حدد مواقع المعالم الواردة على المحورين (س - ص) في الرسم البياني الذي امامك :



السؤال الثامن: ادرس الخريطة التالية ثم اجب عن الأسئلة التي تليها :

أ اكتب في الموقع الصحيح على الخريطة:

- اسم دولة عربية يمرُّ عليها خطُّ جرينتش.
- اسم دولة عربية تمرُّ عليها دائرة الاستواء.

الجزائر

الصومال

ب استخرج أمثلة من الدول حسب المعطيات الموضحة في الجدول الآتي:

السودان	مصر	دول يمرُّ عليها خطُّ طولٍ ٢٠° شرقًا.
سلطنة عمان - السعودية - السودان - موريتانيا - الجزائر		دول تمرُّ عليها دائرة عرضٍ ٢٠° شمالًا.

ج استنتج سبب ما يأتي:

- تشابه التوقيت في الدولة (١) والدولة (٢).

لانهما تقعان في نفس خط الطول ما بين ٤٠-٥٠

- اعتدال المناخ في دول الوطن العربي المظللة على الخريطة.

لانهما يقعان ضمن المنطقة المعتدلة حراريا

السؤال التاسع : اجب عن الأسئلة التالية :

س ١ : ما المقصود بالموقع الفلكي ؟

ج ١ : هو موقع المكان بالنسبة الى خطوط الطول ودوائر العرض .

س ٢ : ما المقصود بجهاز تحديد المواقع العالمي ؟

ج ٢ : هو عبارة عن جهاز يعمل وفق نظام عالمي لتحديد المواقع باستخدام الأقمار الصناعية .

س ٣ : " أراد منذر السفر ولكنه لا يعرف المسار الصحيح لها لوجهته " اذكر مثالين تعينه على الوصول لوجهته الصحيحة ؟

ج ٣ : ١- استخدام نظام تحديد المواقع (GPS)

٢- اتباع اللوائح الإرشادية

درس : الموقع الفلكي**السؤال الأول : ضع علامة (✓) أو (X) أمام العبارة المناسبة مع تصحيح ما تحته خط إذا كانت العبارة خطأ .**

- ١- () اطلقت وزارة الدفاع الامريكية نظام تحديد المواقع وقد كان مقتصرًا على النواحي الاقتصادية .
٢- () من اسهامات آلة الاسطرلاب تقدير الليل والنهار وبداية الشهور الهجرية .

السؤال الثاني : ضع دائرة حول الإجابة الصحيحة من بين البدائل

- ١- عند رسم خطوط الطول ودوائر العرض على الكرة الأرضية تتكون شبكة تعرف بشبكة (الاحداثيات - الامكانيات) الجغرافية
٢- تعد سلطنة عمان (ثاني - ثالث) اكبر دولة في شبه الجزيرة العربية من حيث المساحة .

السؤال الثالث : حدد صيغ كتابة الاحداثيات الجغرافية التي تعلمتها

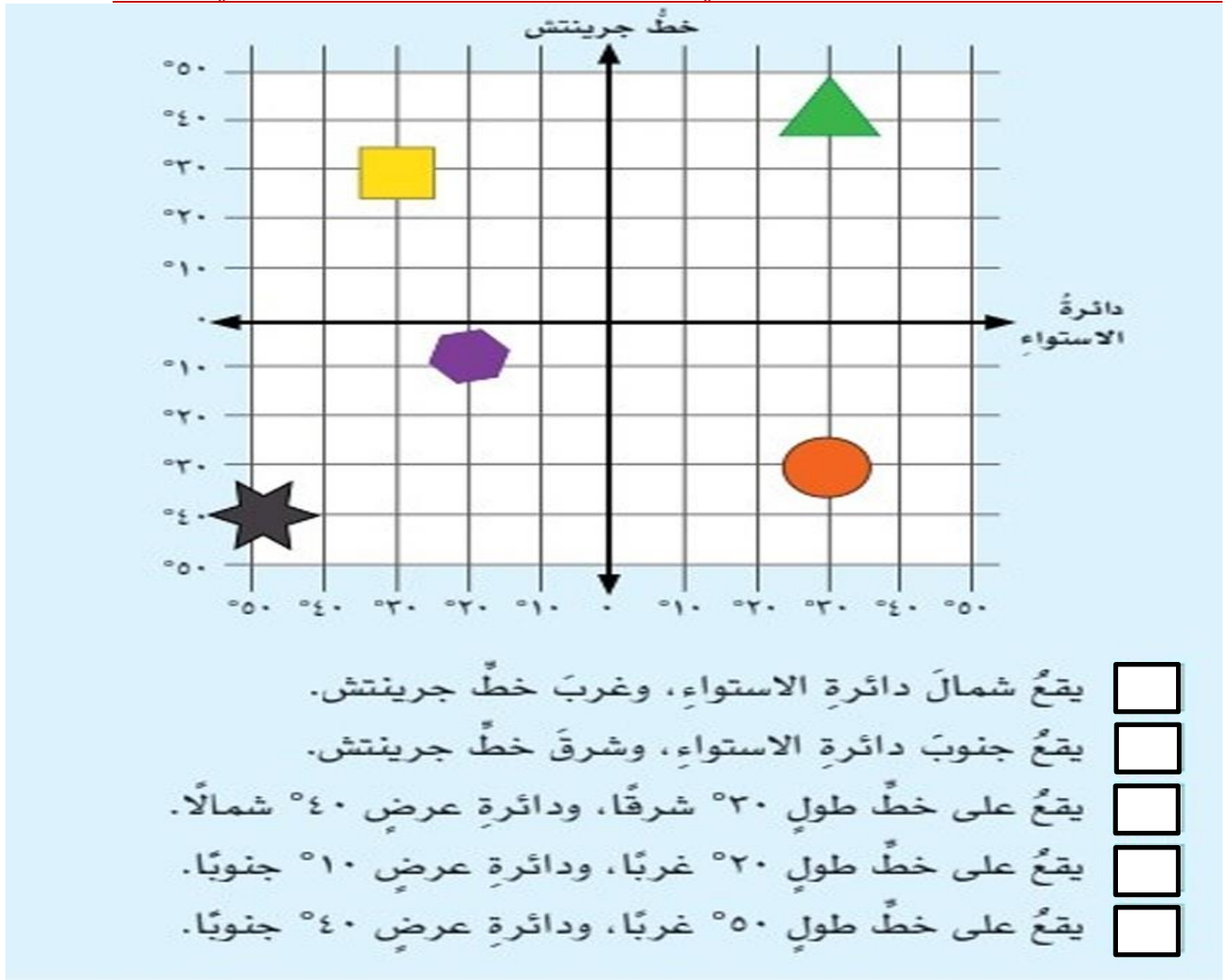
درجة	دقيقة	ثانية

السؤال الرابع : " تؤثر في دقة رصد جهاز تحديد المواقع بعض العوامل " منها

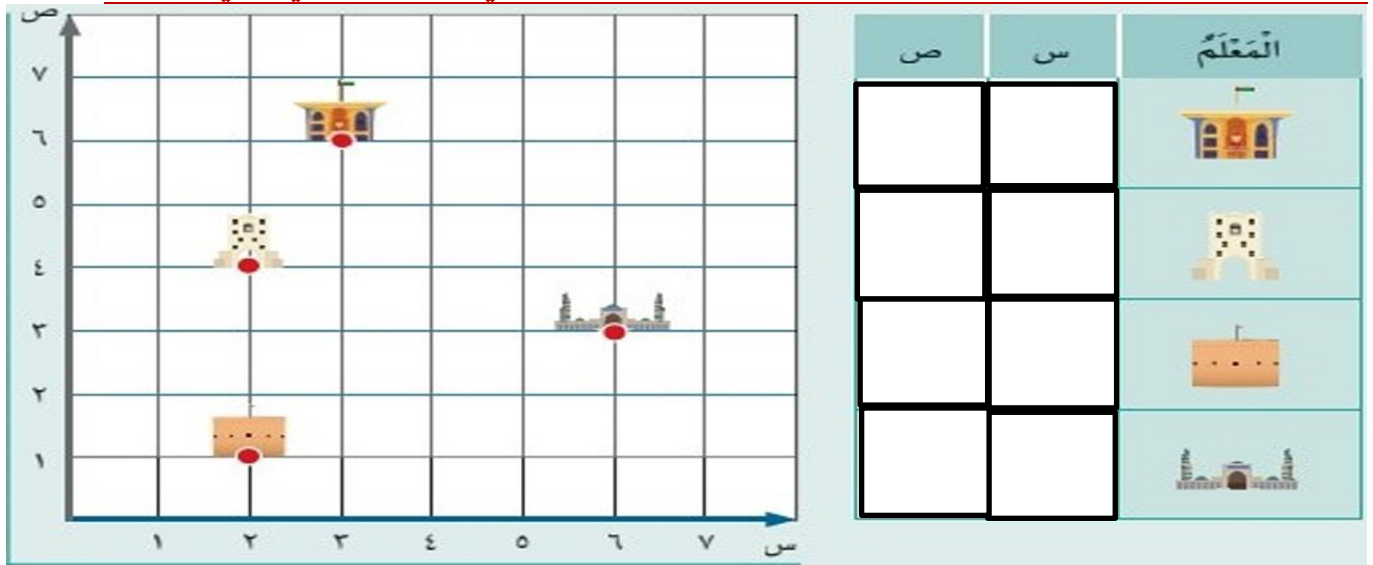
--	--	--

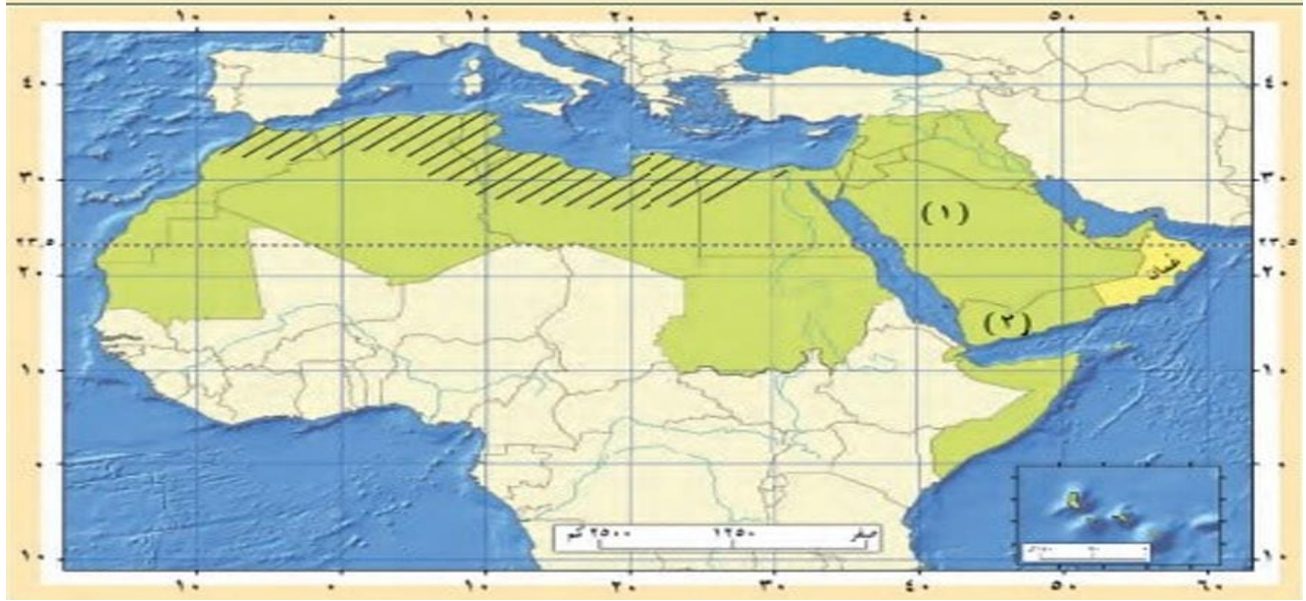
السؤال الخامس : " لجهاز تحديد المواقع العالمي عدة استخدامات " اكتب تحت الصور نوع الاستخدام الذي تمثله

السؤال السادس : ادرس شبكة الاحداثيات التي امامك ثم ارسم امامك كل عبارة الرمز الذي يمثلها :



السؤال السابع : حدد مواقع المعالم الواردة على المحورين (ص - س) في الرسم البياني الذي امامك :



السؤال الثامن: ادرس الخريطة التالية ثم اجب عن الأسئلة التي تليها :

أ اكتب في الموقع الصحيح على الخريطة:

- اسم دولة عربية يمرُّ عليها خطُّ جرينتش.
- اسم دولة عربية تمرُّ عليها دائرة الاستواء.

ب استخرج أمثلة من الدول حسب المعطيات الموضحة في الجدول الآتي:

	دول يمرُّ عليها خطُّ طول ٢٠° شرقًا.
	دول تمرُّ عليها دائرة عرض ٢٠° شمالًا.

ج استنتج سبب ما يأتي:

- تشابه التوقيت في الدولة (١) والدولة (٢).

- اعتدال المناخ في دول الوطن العربي المظللة على الخريطة.

السؤال التاسع : اجب عن الأسئلة التالية :

س ١ : ما المقصود بالموقع الفلكي ؟

ج ١ :

س ٢ : ما المقصود بجهاز تحديد المواقع العالمي ؟

ج ٢ :

س ٣ : " أراد منذر السفر ولكنه لا يعرف المسار الصحيح لها لوجهته " اذكر مثالين تعينه على الوصول لوجهته الصحيحة ؟

ج ٣ : ١ -

٢ -