

تم تحميل هذا الملف من موقع المناهج العُمانية



\*للحصول على أوراق عمل لجميع الصفوف وجميع المواد اضغط هنا

<http://almanahj.com/om>

\* للحصول على أوراق عمل لجميع مواد الصف الخامس اضغط هنا

<http://almanahj.com/om/5>

\* للحصول على جميع أوراق الصف الخامس في مادة اجتماعيات ولجميع الفصول, اضغط هنا

<http://almanahj.com/om/5social>

\* للحصول على أوراق عمل لجميع مواد الصف الخامس في مادة اجتماعيات الخاصة بـ الفصل الأول اضغط هنا

<http://almanahj.com/om./5social1>

\* لتحميل كتب جميع المواد في جميع الفصول للـ الصف الخامس اضغط هنا

<http://almanahj.com/om./grade5>

للتحدث إلى بوت المناهج العمانية على تلغرام: اضغط هنا

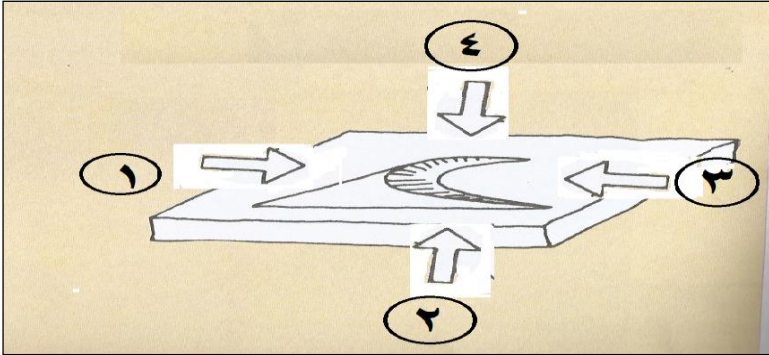
[https://t.me/omcourse\\_bot](https://t.me/omcourse_bot)



(تابع) امتحان الدراسات الاجتماعية للصف الخامس للعام ٢٠١٦/٢٠١٧ م الفصل الأول (تجريبي)

تابع السؤال الأول:

٥) الرقم الذي يشير إلى الاتجاه الصحيح للرياح في الشكل المقابل:



١ (أ)

٢ (ب)

٣ (ج)

٤ (د)

٦) الصورة التي تمثل نباتات صحراوية فقيرة:



(ب)



(أ)



(د)



(ج)

٧) غزوة وقعت بسبب قتل أمير الغساسنة لمبعوث الرسول صلى الله عليه وسلم:

أ) مؤتة

ب) تبوك

ج) الخندق

د) أحد

٨) أول من أنشأ الدواوين في الدولة الإسلامية:

أ) أبو بكر الصديق

ب) عمر بن الخطاب

ج) عثمان بن عفان

د) علي بن أبي طالب

(تابع) امتحان الدراسات الاجتماعية للصف الخامس للعام ٢٠١٦/٢٠١٧م الفصل الأول (تجريبي)

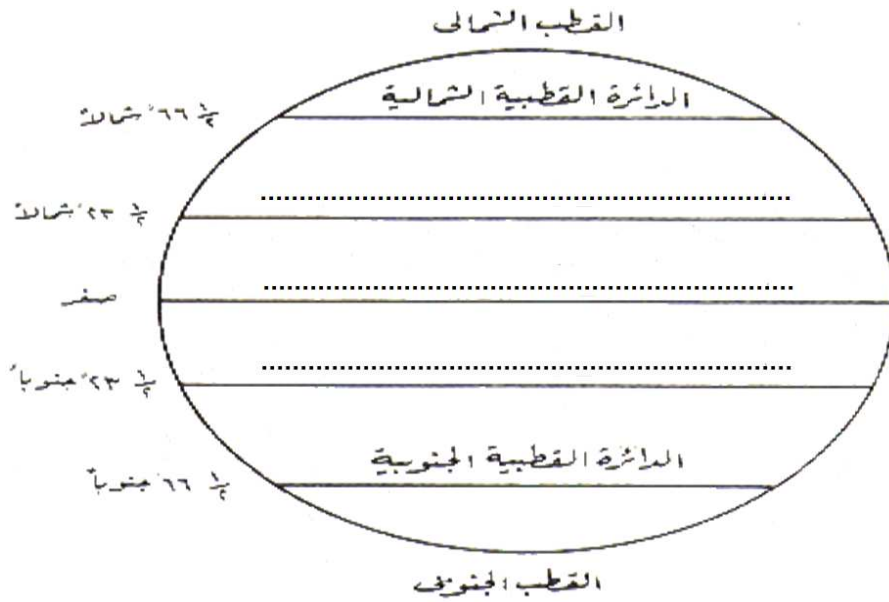
### السؤال الثاني :

أ) أعط مثال واحدًا على ما يلي:

١- أنواع الهضاب في الوطن العربي.

٢- طبقات المجتمع البيزنطي.

ب) أكتب أسماء دوائر العرض الرئيسية على الشكل الآتي:



ج) اكتشف نوع المشكلة التي تتعرض لها النباتات الطبيعية في الصور الآتية:



..... ٣

..... ٢

..... ١

## (تابع) امتحان الدراسات الاجتماعية للصف الخامس للعام ٢٠١٦/٢٠١٧م الفصل الأول (تجريبي)

السؤال الثالث :

(أ) اكتب المصطلح الصحيح أمام التعريفات التالية :

التعريف	المصطلح
النقص في الموارد المائية	.....
حالة العرب قبل ظهور الإسلام	.....

(ب) أمامك خريطة الصحاري الرملية في الوطن العربي . ادرسها جيداً وأجب عن الأسئلة التالية:



١- استخراج من الخريطة أسم أكبر صحراء في شبة الجزيرة العربية.

٢- ضع دائرة على اسم الرمال التي توجد في شمال غرب السعودية.

٣- استنتج من الخريطة الدولتان اللتان يوجد فيهما بحر الرمال العظيم.

(ج) صنف الخصائص التالية حسب المناخ الذي تنتمي إليه .

المناخ	الخصائص
.....	يتميز بأنه حار وجاف صيفاً ومعتدل ممطر شتاءً
.....	يصل سقوط المطر ذروته في شهري يوليو وأغسطس
.....	يتركز حول مدار السرطان ويسوده جفاف شديد

## (تابع) امتحان الدراسات الاجتماعية للصف الخامس للعام ٢٠١٦/٢٠١٧م الفصل الأول (تجريبي)

السؤال الرابع :

أ) ١- ما الأنشطة الاقتصادية التي يمارسها سكان الجبال؟

.....

.....

٢- علل: كان البدو في شبه الجزيرة العربية يتنقلون من مكان إلى آخر.

.....

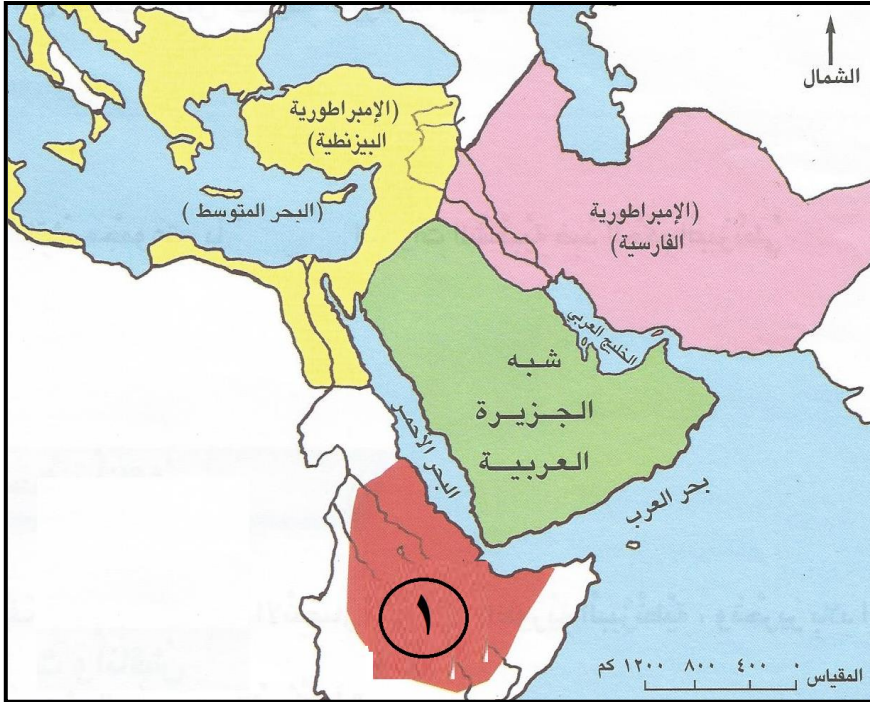
.....

ب) رتب الأحداث التاريخية الآتية من الأقدم إلى الأحدث بكتابة الأرقام (١-٢-٣-٤) أمام العبارات :

- ( ) عام الوفود  
 ( ) صلح الحديبية  
 ( ) فتح مكة  
 ( ) غزوة بدر

ج) أمامك خريطة شبه الجزيرة العربية والدول المحيطة بها قبل الإسلام.

ادرسها جيداً واجب عن الاسئلة المقابلة:



١- ما الاسم الحالي للدولة المشار إليها بالرقم (١) ؟

.....

٢- في أي جهة تقع الإمبراطورية الفارسية بالنسبة لشبه الجزيرة العربية؟

.....

٣- ما البحار التي تطل عليها الإمبراطورية البيزنطية ؟

.....

.....

انتهت الاسئلة مع تمنياتنا للجميع بالتوفيق والنجاح ،،،

[نموذج إجابة امتحان الصف الخامس لمادة الدراسات الاجتماعية]  
العام الدراسي ٢٠١٦ / ٢٠١٧ م الفصل الدراسي الاول  
( التدريبي )

الدرجة الكلية ٤٠ درجة نموذج الإجابة في ( ٣ ) صفحات

إجابة السؤال الأول: ١٦ درجة  $١٦ = ٢ \times ٨$

رقم المفردة	١	٢	٣	٤	٥	٦	٧	٨
رمز الإجابة	ج	د	ج	ب	أ	ب	أ	ب
الوحدة	الاولى	الاولى	الاولى	الاولى	الاولى	الاولى	الثانية	الثانية
الصفحة	١٢	١٨	٢٧	٤١	٣٧	٦٢	٩٠	٩٧
الدرجة	٢	٢	٢	٢	٢	٢	٢	٢

إجابة السؤال الثاني ٨ درجات

الجزئية	الإجابة	الدرجة	الصفحة	الوحدة
أ	١- الهضاب المنقطعة بالأودية / الهضاب الحصوية والحجرية / الهضاب الرملية (التي تتكون من الحجر الرملي) . (يكتفى بواحد)	١	٣٤	الاولى
	٢- النبلاء ( الاغنياء ) / التجار / الصناع / الفلاحون . (يكتفى بواحد)	١	٧٩	الثانية
ب	مدار السرطان دائرة الاستواء مدار الجدي (يشترط كتابة اسماء دوائر العرض في موقعها الصحيح بالشكل)	١ ١ ١	١١	الاولى
ج	١- الحرائق ٢- الرعي الجائر ٣- قطع الأشجار	١ ١ ١	١١٤	الثانية

( ٢ )

[ تابع / نموذج إجابة امتحان الصف الخامس لمادة الدراسات الاجتماعية ]  
 العام الدراسي ٢٠١٦ / ٢٠١٧ م الفصل الدراسي الأول (التجريبي)

إجابة السؤال الثالث: ٨ درجات

الوحدة	الصفحة	الدرجة	الإجابة	الجزئية									
الاولى	٥٧	١	<table border="1"> <tr> <td>المصطلح</td> <td>التعريف</td> <td></td> </tr> <tr> <td>العجز المائي</td> <td>النقص في الموارد المائية</td> <td>١</td> </tr> <tr> <td>الجاهلية</td> <td>حالة العرب قبل ظهور الإسلام</td> <td>٢</td> </tr> </table>	المصطلح	التعريف		العجز المائي	النقص في الموارد المائية	١	الجاهلية	حالة العرب قبل ظهور الإسلام	٢	أ
	المصطلح	التعريف											
العجز المائي	النقص في الموارد المائية	١											
الجاهلية	حالة العرب قبل ظهور الإسلام	٢											
الثانية	٦٨	١											
الثانية	٣٥	١	١- الربع الخالي.	ب									
		١	٢- وضع دائرة على صحراء النفوذ في الخريطة.										
		١	٣- مصر وليبيا.										
الاولى	٤١	١	<table border="1"> <tr> <td>المناخ</td> <td>الخصائص</td> </tr> <tr> <td>البحر المتوسط</td> <td>يتميز بأنه حار وجاف صيفاً ومعتدل ممطر شتاءً</td> </tr> <tr> <td>الموسمي</td> <td>يصل سقوط المطر ذروته في شهري يوليو وأغسطس</td> </tr> <tr> <td>الصحراوي</td> <td>يتركز حول مدار السرطان ويسوده جفاف شديد</td> </tr> </table>	المناخ	الخصائص	البحر المتوسط	يتميز بأنه حار وجاف صيفاً ومعتدل ممطر شتاءً	الموسمي	يصل سقوط المطر ذروته في شهري يوليو وأغسطس	الصحراوي	يتركز حول مدار السرطان ويسوده جفاف شديد	ج	
	المناخ	الخصائص											
	البحر المتوسط	يتميز بأنه حار وجاف صيفاً ومعتدل ممطر شتاءً											
الموسمي	يصل سقوط المطر ذروته في شهري يوليو وأغسطس												
الصحراوي	يتركز حول مدار السرطان ويسوده جفاف شديد												
٥١	١												
٤٦	١												



( ٣ )

[تابع / نموذج إجابة امتحان الصف الخامس لمادة الدراسات الاجتماعية]  
العام الدراسي ٢٠١٦ / ٢٠١٧ م الفصل الدراسي الأول (التجريبي)

إجابة السؤال الرابع : ٨ درجات

الوحدة	الصفحة	الدرجة	الإجابة	الجزئية
الاولى	٢٨	٢	١- الزراعة / الرعي / السياحة . ( يكتفى باثنتين لكل درجة )	أ
الثانية	٦٨	١	٢ - طلبًا للماء والمرعى.	
الثانية	٩٢ ٨٩ ٩١ ٨٨	٢	( ٤ ) عام الوفود ( ٢ ) صلح الحديبية ( ٣ ) فتح مكة ( ١ ) غزوة بدر ( لكل نصف درجة )	ب
الثانية	٧٥	١ ١ ١	١- أثيوبيا. ٢ - الشمال أو الشمال الشرقي. ٣ - البحر الأحمر / البحر المتوسط. (اثنين لكل نصف درجة)	ج

مجموع الدرجات ٤٠ درجة

انتهى نموذج الإجابة