

تم تحميل هذا الملف من موقع المناهج العمانية



الملف ملخص شرح مختصر لدرس موقع الوطن العربي

[موقع المناهج](#) ← [المناهج العمانية](#) ← [الصف الخامس](#) ← [اجتماعيات](#) ← [الفصل الأول](#)

روابط مواقع التواصل الاجتماعي بحسب الصف الخامس



روابط مواد الصف الخامس على تلغرام

[الرياضيات](#)

[اللغة الانجليزية](#)

[اللغة العربية](#)

[التربية الاسلامية](#)

المزيد من الملفات بحسب الصف الخامس والمادة اجتماعيات في الفصل الأول

[امتحان وإجابة الأسئلة الرسمية للفصل الدراسي الأول الدور الأول 2017/2016](#)

1

[امتحان وإجابة الأسئلة التدريبية في محافظة شمال الباطنة للفصل الدراسي الأول الدور الأول 2017/2016](#)

2

[امتحان وإجابة الأسئلة الرسمية في محافظة الظاهرة للفصل الدراسي الأول الدور الثاني 2015/2016](#)

3

[امتحان وإجابة الأسئلة الرسمية في محافظة جنوب الشرقية للفصل الدراسي الأول الدور الثاني 2015/2016](#)

4

[امتحان وإجابة الأسئلة الرسمية في محافظة شمال الباطنة للفصل](#)

5

المزيد من الملفات بحسب الصف الخامس والمادة اجتماعيات في الفصل الأول

[الدراسي الأول الدور الأول 2015/2016](#)

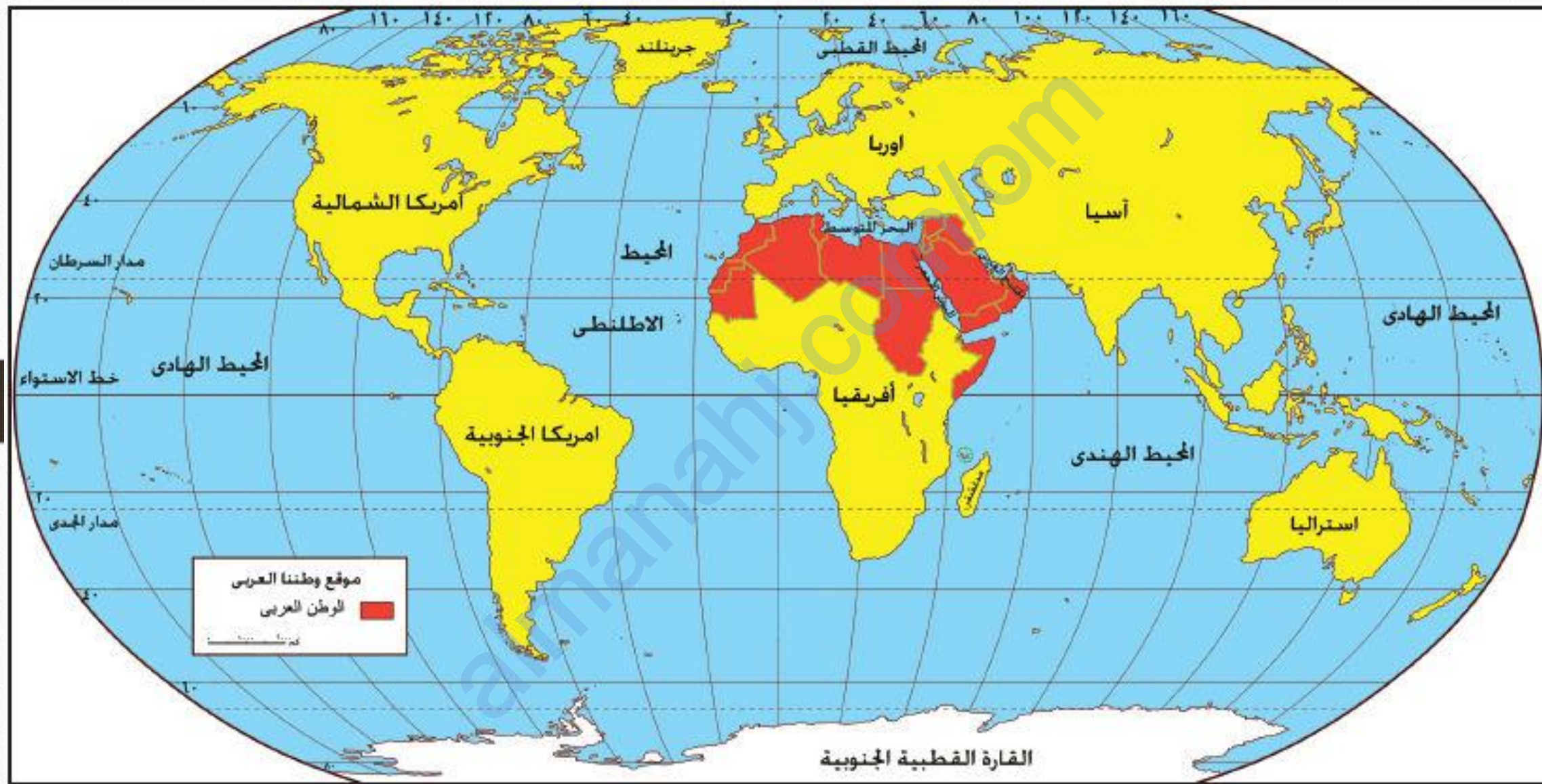
موقع الوطن العربي

إعداد المعلمة : سعاد سعيد العلوي

• يعيش العرب على مساحة واسعة من الأرض تعرف بالوطن العربي ، وغالبية سكانه تربطهم خصائص وسمات مشتركة منها الدين الإسلامي واللغة العربية والتاريخ المشترك ، وللوطن العربي موقع أكسب زاهيمة جغرافية و إقتصادية و حضارية عبر العصور.

الموقع الجغرافي للوطن العربي

- يقصد بالموقع الجغرافي : **موقع المكان بالنسبة لليابس و الماء.** وللوطن العربي موقع جغرافي مهم على خريطة العالم .



أضف إلى المعلومات

- تقدر مساحة الوطن العربي بحوالي (13 مليوناً و نصف²) كم .
- عدد دول الوطن العربي 22 دولة .

نشاط 1

- انظر إلى الخريطة في الشكل (1) وبالاستعانة بخريطة الوطن العربي الواردة في نهاية الكتاب المدرسي :
 1. أكمل العبارات الآتية بما يناسبها:
 - أ- يقع الوطن العربي في قارتي **آسيا** و**أفريقيا** .
 - ب- يطل الوطن العربي على محيطين هما **المحيط الهندي** و**المحيط الأطلسي** .
 - ج- يبلغ عدد الدول العربية في قارة آسيا **12** دولة ، ويبلغ عدد الدول العربية في قارة إفريقيا **10** دولة .

2. أيهما أكبر مساحة الجزء الآسيوي أم الجزء الإفريقي من الوطن العربي؟

الجزء الإفريقي

3. أسمى بعض الدول العربية التي تطل على :

- الخليج العربي عمان ، البحرين، قطر

- البحر المتوسط مصر، ليبيا، تونس

- المحيط الأطلسي المغرب، موريتانيا

- المحيط الهندي سلطنة عمان، اليمن

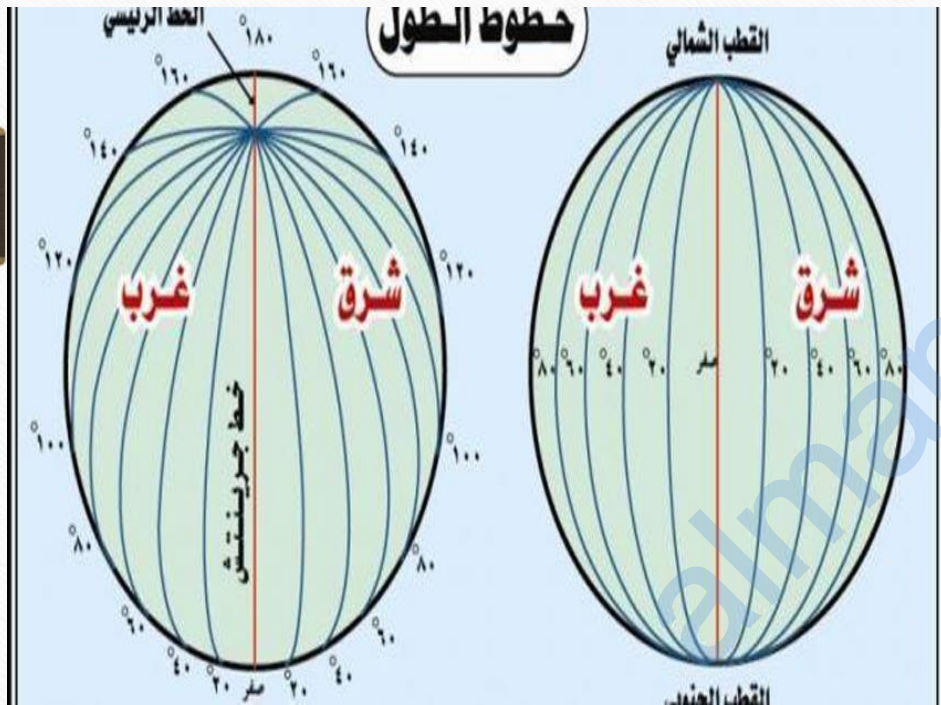
الموقع الفلكي للوطن العربي

- يعرف الموقع الفلكي بأنه موقع المكان بالنسبة لخطوط الطول ودوائر العرض .
- فماذا بخطوط الطول ودوائر العرض ؟ للإجابة عن هذا السؤال ، أنفذ النشاط الآتي :

خطوط الطول ودوائر العرض

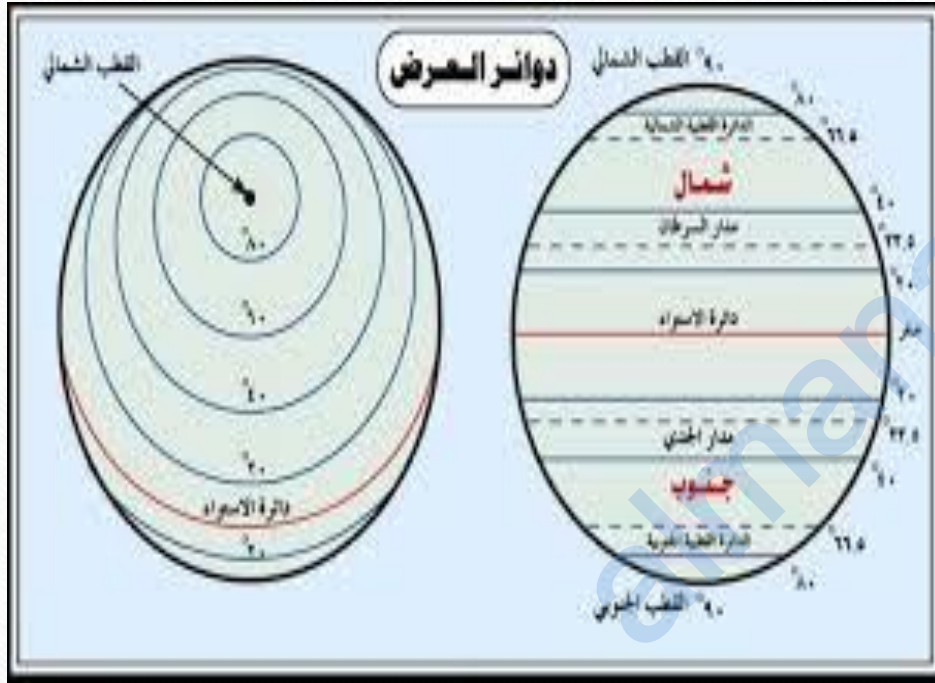
- شبكة وهمية (ليست حقيقية) ترسم على الخرائط ونماذج الكرة الأرضية ، وتستخدم في تحديد المواقع على سطح الكرة الأرضية بدقة عالية .

خطوط الطول



- أنصاف دوائر تلتقي عند القطبين .
- عددها 360 خط
- الخط الرئيسي يسمى (خط غرينتش) ودرجته صفر ، ويقسم الكرة الأرضية إلى نصفين : شرقي و غربي .
- تفيدنا في تحديد الوقت .

دوائر العرض



- دوائر مكتملة تحيط بالكرة الأرضية .
- عددها 180 دائرة .
- الدائرة الرئيسية تسمى (دائرة الاستواء) ودرجتها صفر ، وتقسم الكرة الأرضية إلى نصفين شمالي وجنوبي .
- تفيدنا في معرفة المناخ .

- يقع الوطن العربي فلكيا بين دائرة عرض 12 درجة جنوبا (جنوب دائرة الاستواء) ، و 37,5 درجة شمالا (شمال دائرة الاستواء) .
- وبين خطي طول 17 درجة غربا (غرب خط غرينتش) و 60 درجة شرقا (شرق خط غرينتش) .
- يوضح الشكل المقابل الموقع الفلكي للوطن العربي .

حففا



أهمية موقع الوطن العربي

- ان موقع الوطن العربي اكسبه اهمية جغرافية واقتصادية وحضارية عبر العصور التاريخية المختلفة يوضحها :

أهمية موقع الوطن العربي

حضاريا

سهل التواصل بين حضارات الوطن العربي و الحضارات الأخرى في العالم .

اقتصاديا

ساعد على إقامة العلاقات التجارية مع دول العالم .

جغرافيا

يعتبر الوطن العربي حلقة وصل بين قارات آسيا ، و أوروبا ، و أفريقيا.

شعر بحمد الله

almanah.com/om