

تم تحميل هذا الملف من موقع المناهج العُمانية



*للحصول على أوراق عمل لجميع الصفوف وجميع المواد اضغط هنا

<https://almanahj.com/om>

* للحصول على أوراق عمل لجميع مواد الصف الخامس اضغط هنا

<https://almanahj.com/om/5>

* للحصول على جميع أوراق الصف الخامس في مادة اجتماعيات ولجميع الفصول, اضغط هنا

<https://almanahj.com/om/5social>

* للحصول على أوراق عمل لجميع مواد الصف الخامس في مادة اجتماعيات الخاصة بـ الفصل الثاني اضغط هنا

<https://almanahj.com/om/5social2>

* لتحميل كتب جميع المواد في جميع الفصول للـ الصف الخامس اضغط هنا

<https://almanahj.com/om/grade5>

* لتحميل جميع ملفات المدرس أحلام بنت ناصر النهائية اضغط هنا

للتحدث إلى بوت على تلغرام: اضغط هنا

https://t.me/omcourse_bot

سلطنة عمان

وزارة التربية والتعليم

المديرية العامة للتربية والتعليم بمحافظة الظاهرة

مدرسة الهجر للتعليم الأساسي 5-12


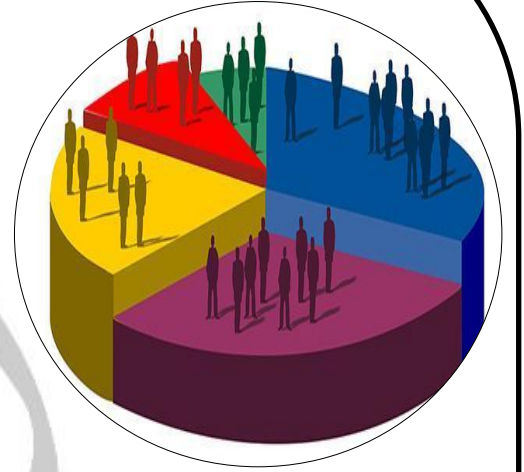
كتيب أنشطة مساند لمادة الدراسات الاجتماعية للصف الخامس


إعداد الأستاذة/ أحلام بنت ناصر النهائية



الوحدة الأولى: جغرافية الوطن العربي البشرية

درس / السكان في الوطن العربي





ما المقصود بجغرافية السكان؟

هيا أيتها الرائعة أكملي خريطة المفاهيم التالية:

مجالات اهتمام جغرافية السكان

ما هي مصادر البيانات السكانية؟



أكتبني داخل القوسين مصدر البيانات السكانية المناسب لعملية البحث في الحالات التالية:

1- قام خالد بالبحث عن أعداد أفراد القرية التي يعيش فيها الذين يعملون في القطاع الزراعي حسب إحصائيات 2013م ()


2- مريم كلفت بعمل البحث عن عدد المواليد في ولاية عبري عام 2017م ضمن مقرر الجامعة الذي تدرسه ()

أضف إلى معلوماتك:

1- أجري في عمان التعداد السكاني خلال الأعوام (1993م ، 2010م ، 2013م)

2- يتم إجراء التعداد كل عشر سنوات ونفذ عام 2010م في عمان ضمن التعداد السكاني الخليجي المشترك

هيا أيتها المبدعة لوني الخلية التي تحمل كلمات تكون مفهوم التعداد السكاني ثم اكتبيه في الأسفل:



فنية وادارية

جمع المعلومات

دولة معينة وفترة

زمنية محددة

جميع الأفراد

سكانية واقتصادية واجتماعية

جميع الأراضي والمزارع

من خلال الرسم الكاريكاتيري التالي أستنتجي أحد المشكلات التي تواجه الدولة أثناء التعداد.



ما الهدف من جمع البيانات السكانية؟

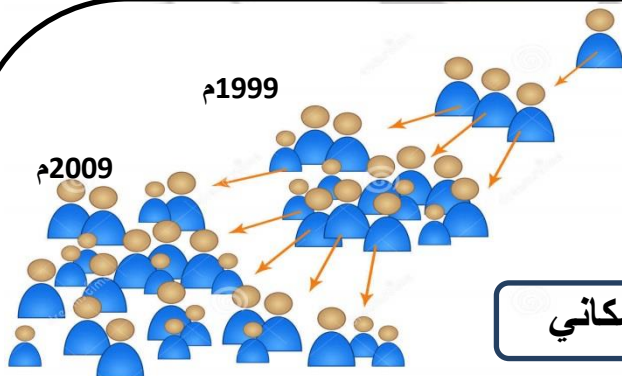


هيا يا رائعة طبقي في أسرتك جزء من استمارة التعداد السكاني التي استخدمت في التعداد

العام للسكان والمساكن والمنشآت عام 2003م:

العمر بالسنوات	النوع	العلاقة برب الأسرة:	رقم مسلسل أفراد الأسرة
الكاملة	1- ذكر	1 رب الأسرة	الاسم الثلاثي والقبيلة
(أقل من سنه يكتب صفرا)	2- أنثى	2 زوج/زوجة	
سنة الميلاد		3 ابن/ابنه	
		4 زوجة ابن	
		5 حفيد/حفيدة	
		6 أب/أم	
		7 أخ/أخت	
		8 خدامه	

*أستنتجي من الشكل مفهوم النمو السكاني؟



*أكملي المخطط التالي مستعينة بالصور:

العوامل المؤثرة في النمو السكاني



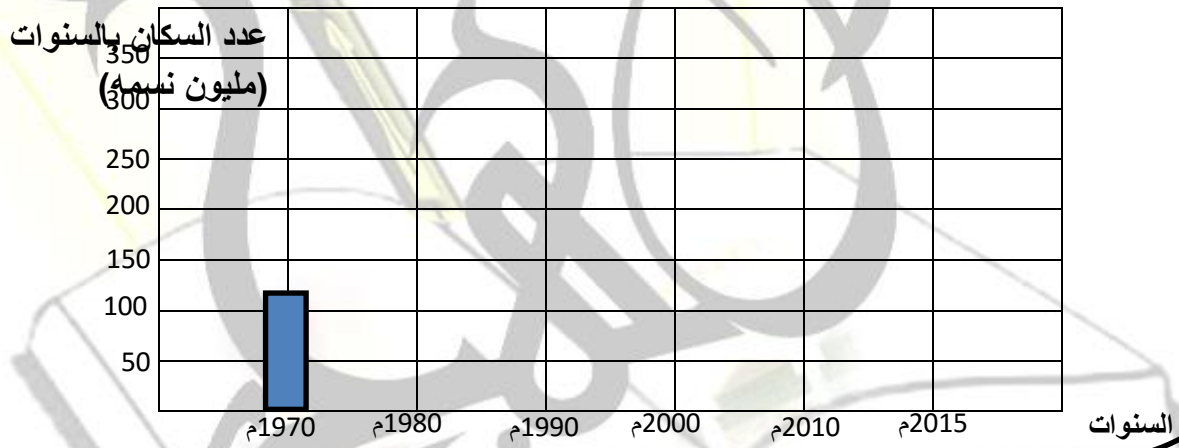


السنة	عدد السكان (مليون نسمة)
1970	122
1980	164
1990	221
2000	293
2010	376
2015	394

- من خلال الجدول المقابل الذي يوضح نمو سكان الوطن العربي بين عامي 1970-2015م أجيبي عن التالي:

1- صفي النمو السكاني للوطن العربي.

2- بالاستعانة بالبيانات الواردة في الجدول قومي بتمثيلها بأعمدة بيانية كما في المثال:



أبحثي عن أسباب ارتفاع معدلات النمو السكاني في وطننا الحبيب عمان



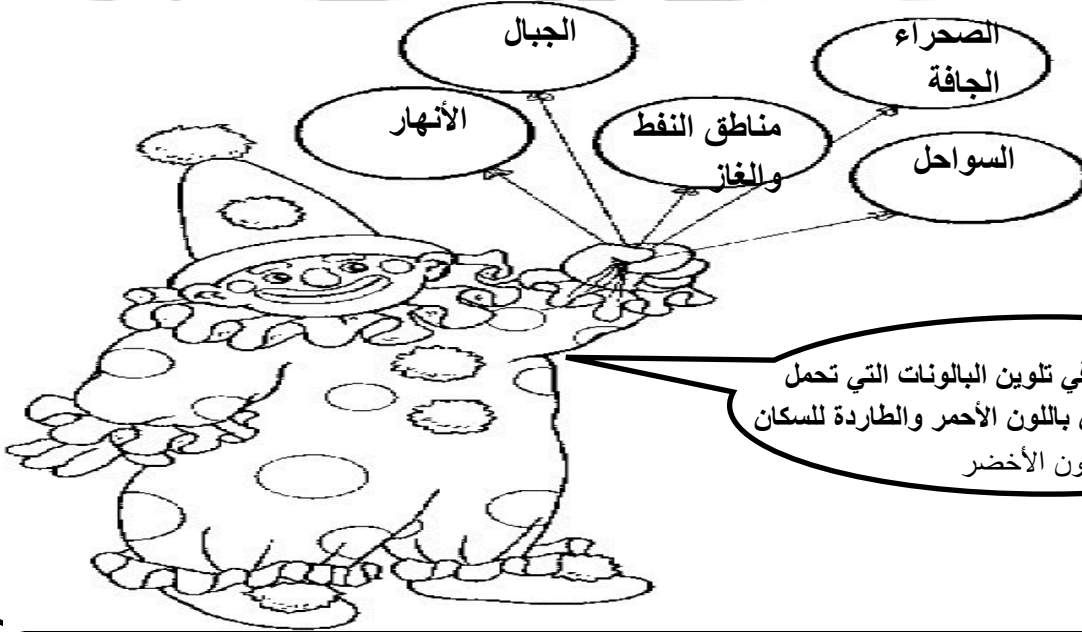
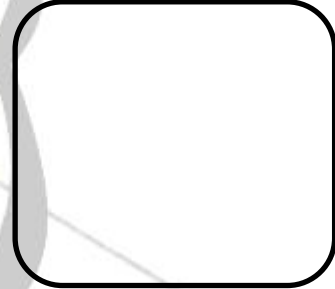
التوزيع السكاني

أكمل خريطة المفاهيم التالية:



العوامل المؤثرة في التوزيع السكاني

المفهوم




صنفي العوامل التالية المؤثرة في توزيع السكان إلى عوامل طبيعية وعوامل بشرية:

أشكال السطح/توفر الخدمات/الموارد الطبيعية/النشاط الاقتصادي/المناخ/الأوضاع السياسية

العوامل البشرية	العوامل الطبيعية

إعداد الأستاذة/أحلام الهنائية. مدرسة الهجر للتعليم الأساسي 5-12.. الدراسات الاجتماعية للصف الخامس




فسي العبارات التالية:

1- يمتاز نهر النيل بكثرة السكان الساكنين على ضفافه

2- يزيد السكان في المناطق الصحراوية في محافظة الوسطى عن السكان في المنطقة الصحراوية الواقعة في الربع الخالي

أكملي المخطط التالي ثم أكتبي أسفل الصور المشكلة السكانية المناسبة :

المشكلات السكانية في الوطن العربي



الدرس الثاني:

مصادر

الطاقة في

الوطن

العربي




أكملي البيانات في الشكل المقابل بكتابة أسم الطاقة أمام الصورة المعبرة عنها:



أكملي المخطط التالي:

أنواع مصادر الطاقة



فرقي في الجدول بين مصادر الطاقة المتجددة ومصادر الطاقة الغير متجددة من حيث المفهوم وأمثلة عليها:

الطاقة الغير متجددة	الطاقة المتجددة	وجه المقارنة
		المفهوم
		الأمثلة

بالاستعانة بخريطة (إنتاج النفط وبعض الحقول النفطية وموانئ التصدير في الوطن العربي) صفحة 21 من الكتاب المدرسي أجبني عن التالي:



- 1- سمي أكبر الدول العربية إنتاجاً للنفط
- 2- أستخرجي من الخريطة أشهر موانئ التصدير في سلطنة عمان؟
- 3- أكمل العبارات التالية:
 - أ- حقل النفط كركوك من أشهر حقول النفط في.....
 - ب - ميناء وهران من موانئ التصدير في.....
- 4- ما المرتبة التي تحتلها عمان في الإنتاج النفطي على مستوى الدول العربية؟



- توضح الصورة أكبر مشاريع إنتاج الغاز الطبيعي في سلطنة عمان أدرسيها ثم أجبني:

1- ما أسم المشروع؟

.....

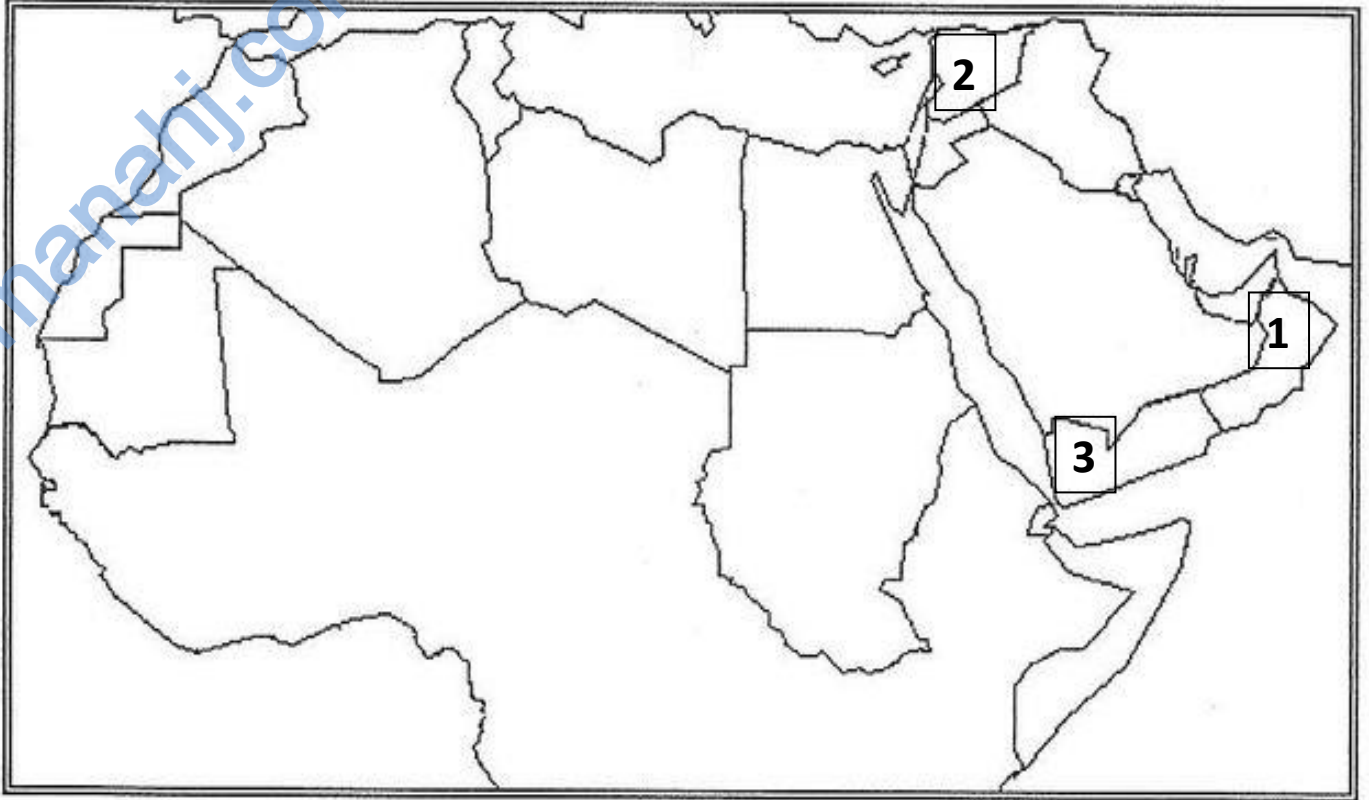
2- في أي محافظة يقع؟

.....

(الطاقة الغير متجددة تؤثر على البيئة بصورة سلبية) وضح ذلك



أمامك خريطة الوطن العربي صماء أدرسيها ثم أجيب عن التالي:



1- ظللي على الخريطة الدولة التي يوجد بها مشروع مدينة مصدر التي تعمل بالطاقة الشمسية .

2 - سمي على الخريطة الدولة التي تحتل المرتبة الاولى عربيا في إنتاج الغاز.

3- الدولة المشار إليها بالرقم 1 تضم أكبر مشروع لتوليد البخار بالطاقة الشمسية ما أسم هذا المشروع؟

4- أختار بالأجابة الصحيحة:

أ- الرقم الدال على الدولة التي تضم مشروع مائي لتوليد الكهرباء هي:

3 ○

2 ○



تنبأ بمستقبل الطاقة المتجددة في سلطنة عمان؟

درس / الأنشطة الاقتصادية في الوطن العربي



بالاستعانة بالصور أكمل خريطة المفاهيم التالية:



العوامل المؤثرة في
تنوع الأنشطة
الاقتصادية



1- "ظهرت الزراعة لأول مره في الوطن العربي على ضفاف الأنهار" فسر العبارة السابقة



2- أنظري للشكل (14) الوارد في الكتاب ص28 ثم اجيبي عن الأسئلة:

1- ماذا يوضح الشكل؟

2- ما أكثر المحاصيل انتاجا في الوطن العربي خلال هذا العام؟

3- ما أقل المحاصيل انتاجا في الوطن العربي خلال هذا العام؟



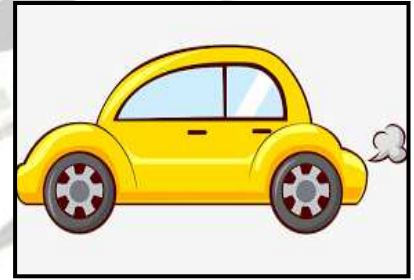
أهتم جلالة السلطان قابوس اهتماما كبيرا بالزراعة.. من خلال دراستك

ما أهم ما أمر به جلالتة خلال هذه الأعوام التي تدل على ذلك:

1988م..... — 2009م.....



- أكتبي أسفل الصور نوع المادة الخام المستخدم في صناعتها:



1- فسري : قيام صناعة البتروكيماويات والأسمدة في الوطن العربي.

2- أعطي أمثلة لصناعات ظهرت في الوطن العربي.

اكمل المخطط التالي:

أنواع الصناعات



*صنفي أسفل كل صورة نوع الصناعة (صناعة استخراجية / صناعة تحويلية) الذي تدرج تحته:





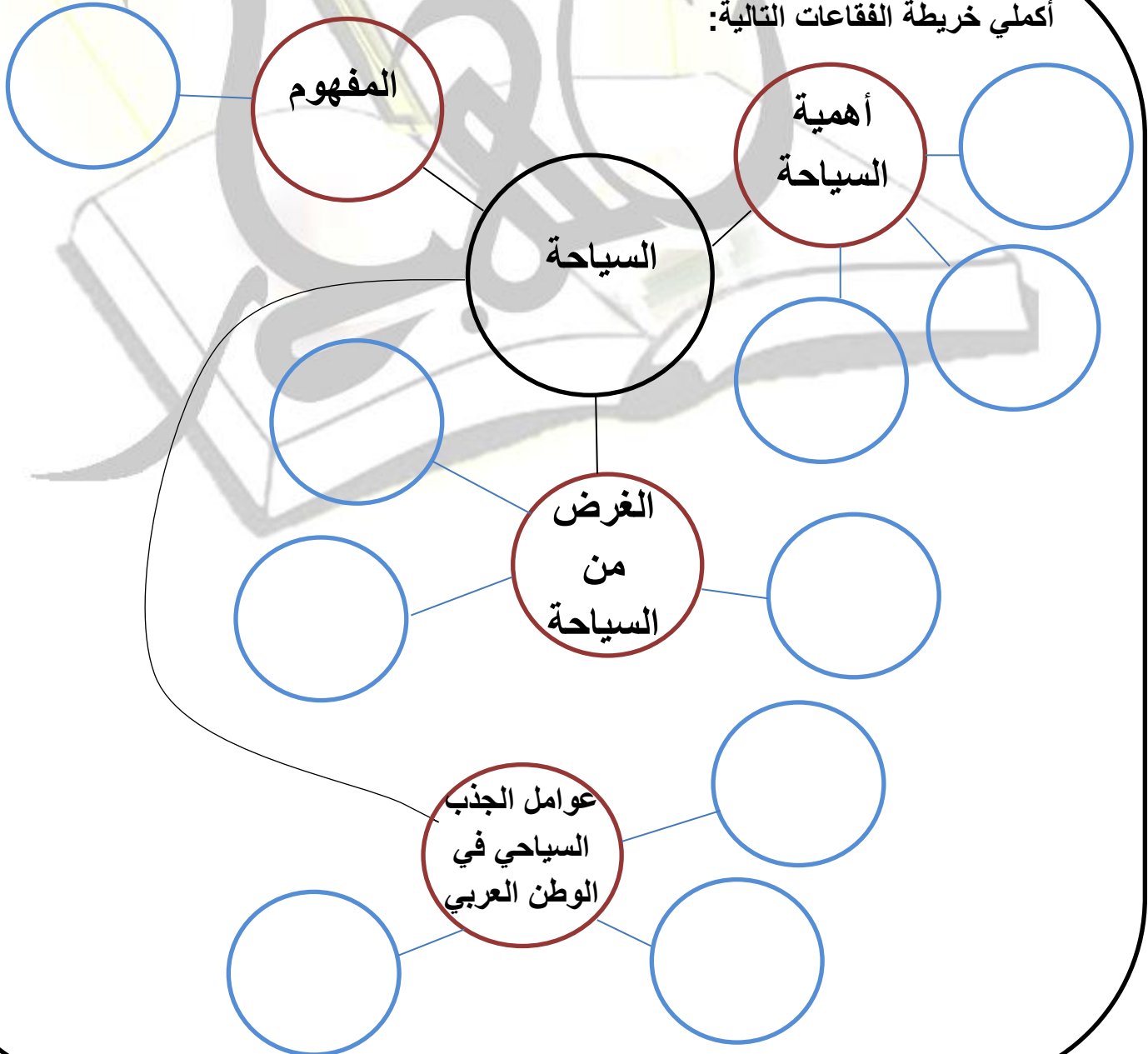
من خلال دراستك لمنطقة صحار الصناعية في سلطنة عمان أجبني عن التالي:

1- حددي على الخريطة منطقة صحار الصناعية.

2- وضح أهمية منطقة صحار الصناعية .

3- بالاستعانة بشبكة الإنترنت سمي مناطق صناعية أخرى في سلطنة عمان.

أكملي خريطة الفقاعات التالية:



أبحثي في شبكة المعلومات ومصادر التعلم عن بعض المحميات والمواقع الأثرية الموجودة في سلطنة عمان

ثم أكمل الجدول التالي:

المواقع الأثرية	المحميات الطبيعية	عامل الجذب السياحي
		أمثلة



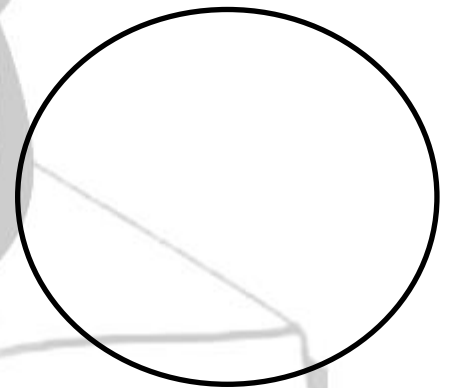


أكتبتي تغريدة عن واجبك إتجاه الأماكن السياحية و نصيحة تقديمها لمرتادي الأماكن السياحية ثم اعرضيها في الصف.



درس /

الدولتان الأموية والعباسية



أكمل المسطرة الزمنية التالية:

عصر النبوة الدولة الأموية



أكمل البطاقة التعريفية للدولة الأموية التالية:

الدولة الأموية



نسبهم:

عدد الخلفاء:

أول خليفة أموي:

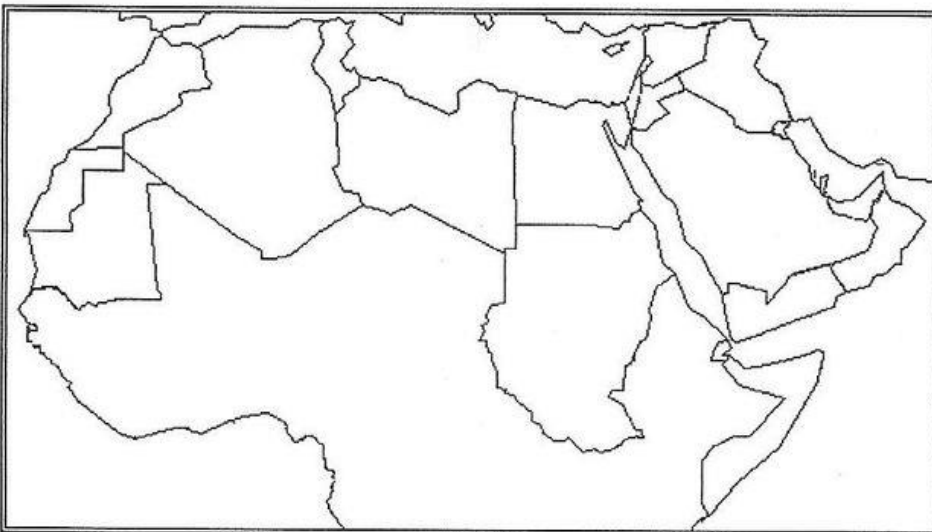
العاصمة:

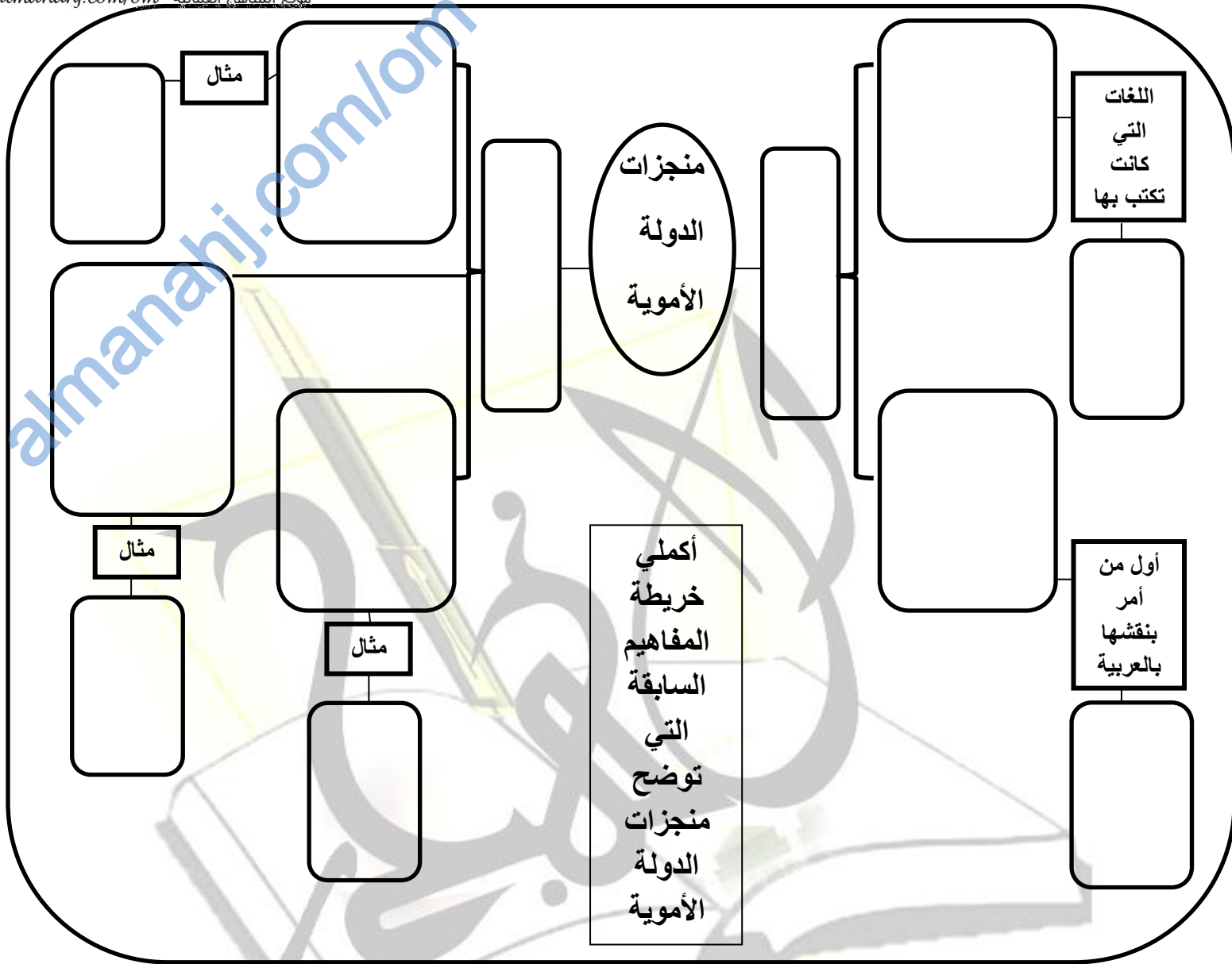
تأمل الخريطة التالية ثم أجب عن

الأسئلة:

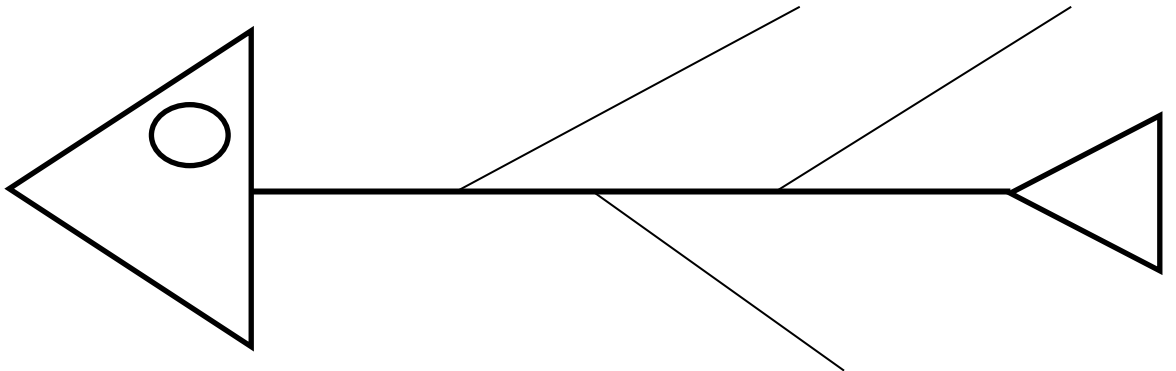
1- سمى على الخريطة عاصمة الدولة الاموية.

2- ظللي على الخريطة المناطق التي فتحها موسى بن نصير





أكمل في مخطط عظم السمكة أسباب سقوط الدولة الأموية



بأستخدام أسلوب أخفض يدك أجيب عن الأسئلة:


ما أشهر خلفاء الدولة العباسية؟

ما هي عاصمة الدولة العباسية؟

ما هي الفترة الزمنية التي ظهرت فيها؟

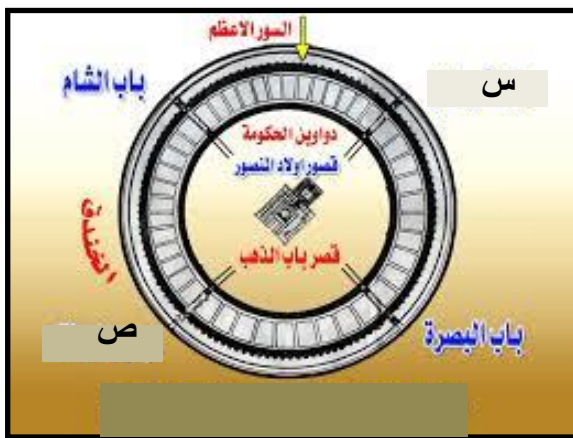
إلى من ينسب العباسيين؟

كم قرن أستمرت؟



الفكرية	العمرانية	الإدارية

*صنفي في الجدول منجزات الدولة العباسية في مكانها المناسب (بناء مدينة بغداد/ترجمة الكتب والعلوم إلى اللغة العربية/الوزير/إنشاء مكتبة بيت الحكمة/قاضي القضاة/بناء مدينة سامراء):



أدرسي الصورة ثم أجيب عن الأسئلة:

1- المخطط المقابل يوضح أحد المدن التي بناها العباسيين.. سمي هذه المدينة؟

.....

2- الرمز (س) و (ص) يشيران لبابين من أبواب المدينة ما هما؟

س..... ص.....

3- أستنتجي من الشكل أسلوبين دفاعيين لحماية المدينة؟

.....

- أستنتج من الصور أسباب سقوط الدولة العباسية:-



- متى سقطت الدولة العباسية؟

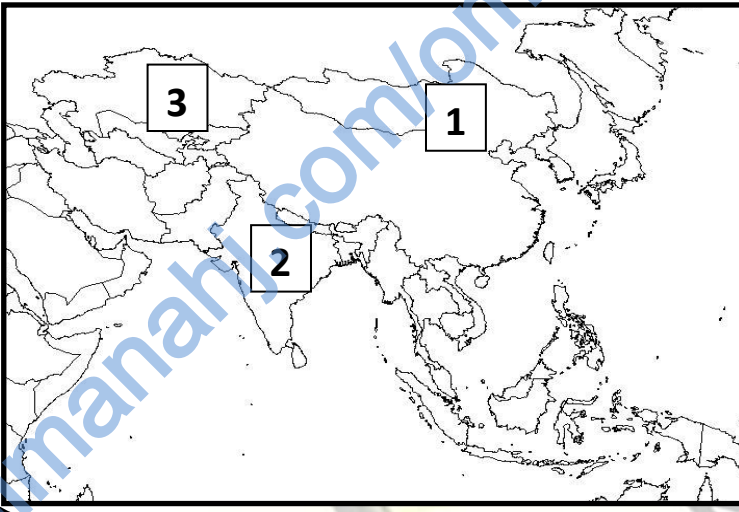
- سقطت الدولة العباسية على يد

أكمل خريطة المفاهيم التالية مستعينة بالكلمات بكتابتها في مكانها المناسب:

(العمارة الاسلامية - 656هـ - بيت الحكمة - الدولة الأموية - بغداد - بناء مدينة سامراء - العملات النقدية - قاضي القضاة - 41هـ - الدولة العباسية)

الدولتان الأموية والعباسية





أدرسي الخريطة التالية ثم أجبني عن الأسئلة:

أ- أستخرجي من الخريطة الرقم الدال على:

1- موطن المغول.....

ب - وقعي على الخريط عاصمة الدولة العباسية بغداد.

3- أرسمي خط سير المغول نحو بغداد.

ظلي الأجابة الصحيحة من بين البدائل المعطاة:

1- أنتهت فترة حكم الخلافة الراشدة للدولة الإسلامية عام:

110هـ 410هـ 1320هـ 656هـ

2- أستطاع القائد موسى بن نصير فتح بلاد..... في عصر الدولة الأموية:

○ ما وراء النهر ○ ملتان ○ العراق ○ المغرب والأندلس

3- تقع الأندلس في قارة:

○ أفريقيا ○ آسيا ○ أوروبا ○ أمريكا الشمالية

4- توضح الصورة أحد منجزات الدولة الأموية في العمارة الإسلامية هو:



○ قصر عمرة ○ الجامع الأموي ○ قبة الصخرة ○ القيروان

5- جميع ما يلي من أسباب سقوط الدولة الأموية ما عدا:

○ أتساع المساحة ○ الصراع بن الخلفاء ○ تزايد المعارضة ضدهم ○ صعوبة الأتصال

6- أستمرت الدولة العباسية:

○ قرنين ○ ثلاث قرون ○ أربع قرون ○ خمس قرون

7- جميع ما يلي ليس من المنجزات الفكرية للدولة العباسية ما عدا:

○ الوزير ○ مكتبة بيت الحكمة ○ مدينة سامراء ○ قاضي القضاة

8- موطن المغول الأصلي هو:

○ الصين ○ الهند ○ منغوليا ○ العراق



من الذين حكموا عمان قبل الأسلام وخلال عهد النبوة والخلافة الراشدة؟

.....

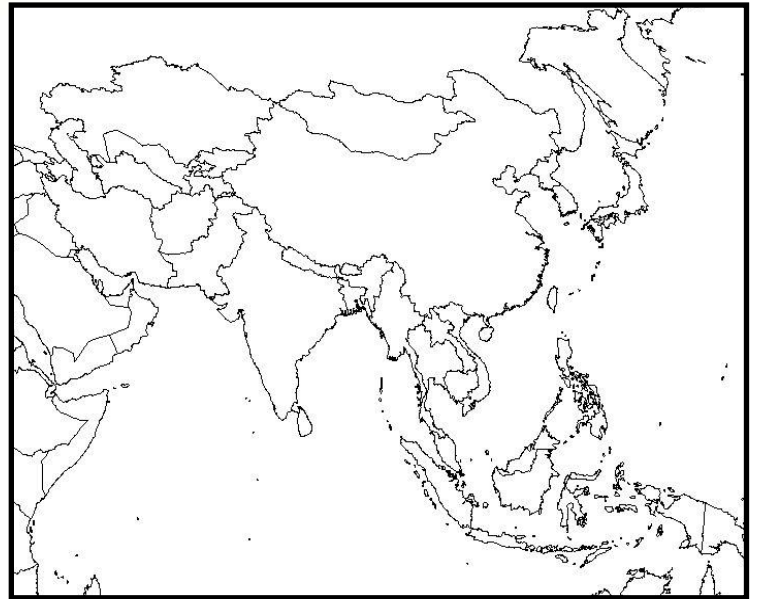
– أكمل المخطط التالي بالأجابات الصحيحة:

الحياه السياسية في عمان خلال العصر الأموي




تأمل الخريطة التالية ثم أجبني عن الاسئلة:

- 1- حددي مضيق هرمز باستخدام الرمز
- 2- وقعي على الخريطة المحيط الهندي.
- 2- تتبعي على الخريطة أهم الطرق التجارية القادمة من المحيط الهندي للدولة الاموية عبر سلطنة عمان.



أكمل الجدول التالي الذي يوضح أهم المنجزات الفكرية لعمان في العصر الأموي



		العلوم التي برع العمانيون فيها
		علماء برزوا في هذا العلم

*سمي المدينة التي كان يهاجر إليها العمانيون لطلب العلم؟

()



* (يعد الامام جابر بن زيد من أشهر التابعين العمانيين الذين برزوا في فترة خلافة العصر الأموي واخذ العلم عن كثير من الصحابة ويعتبر مؤسس المذهب الإباضي)


1- في ضوء العبارة السابقة أجيب عن الاسئلة:

أ- ما هو العلم الذي برع فيه الامام جابر بن زيد؟

.....

ب- ما هو القرن الهجري الذي عاش فيه الامام جابر؟

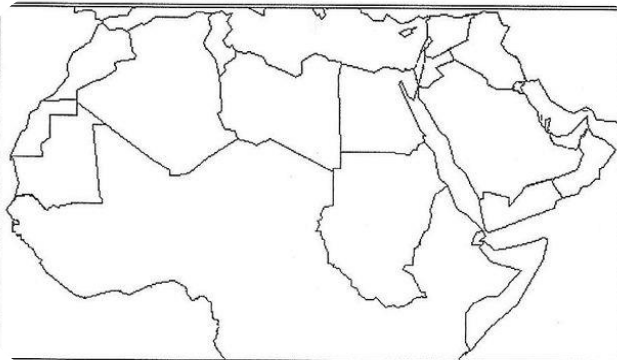
.....



1- حددي على الخريطة:

أ- مدينة البصرة

ب- سلطنة عمان

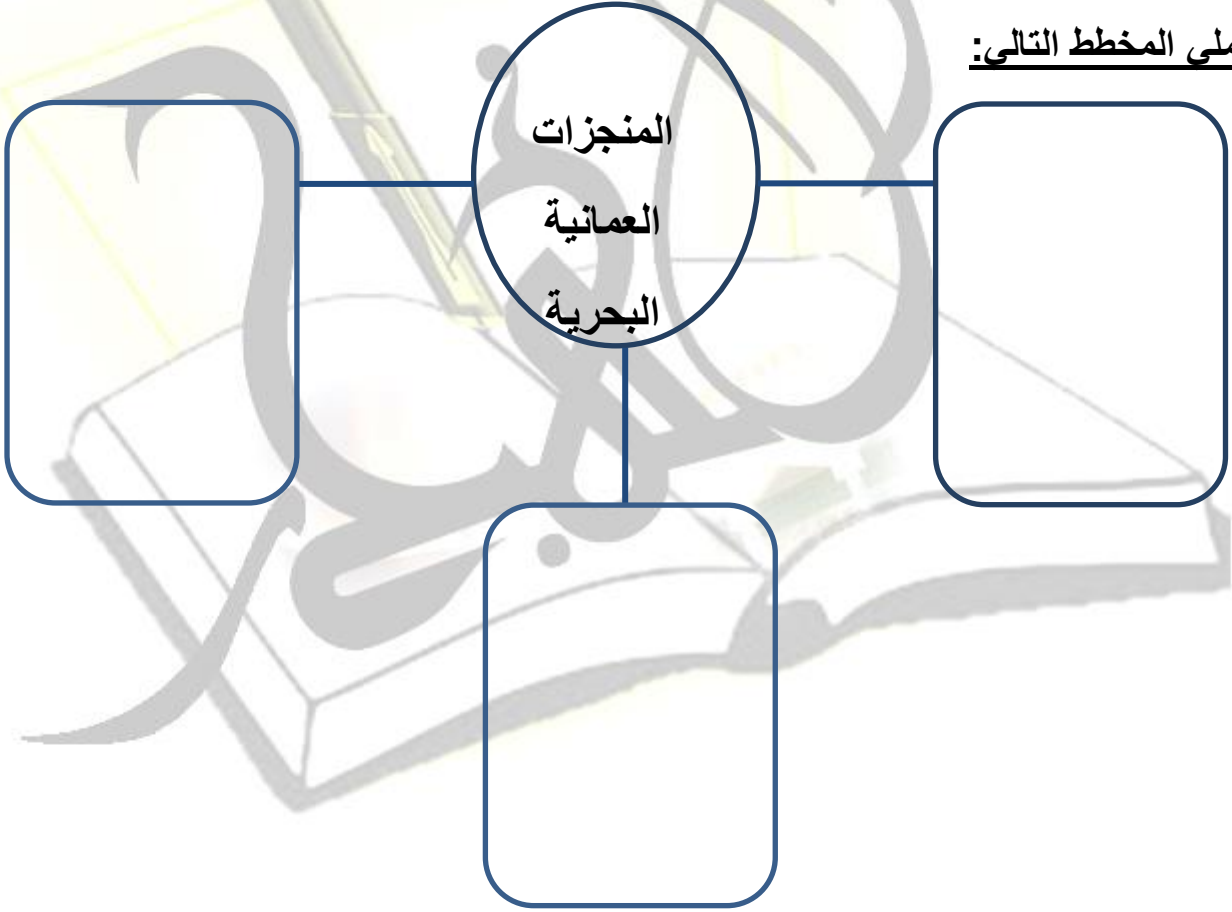


أدرسي العبارة ثم أجيبى عن الاسئلة:

"أزدهر النشاط البحري العماني في العصر الاموي إذ حقق الأسطول البحري العماني العديد من المنجزات"

1- ما المقصود بالأسطول البحري؟

2- أكملى المخطط التالى:



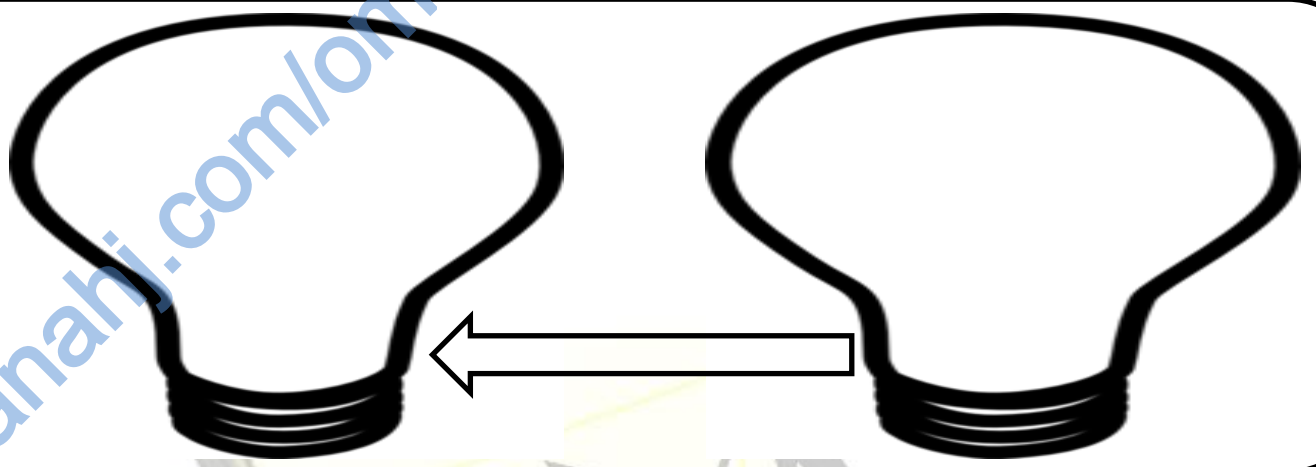
3- على ماذا يدل وصول العمانيين إلى مناطق بعيدة كالصين وشرقي أفريقيا منذ القدم؟

عمان في

العصر

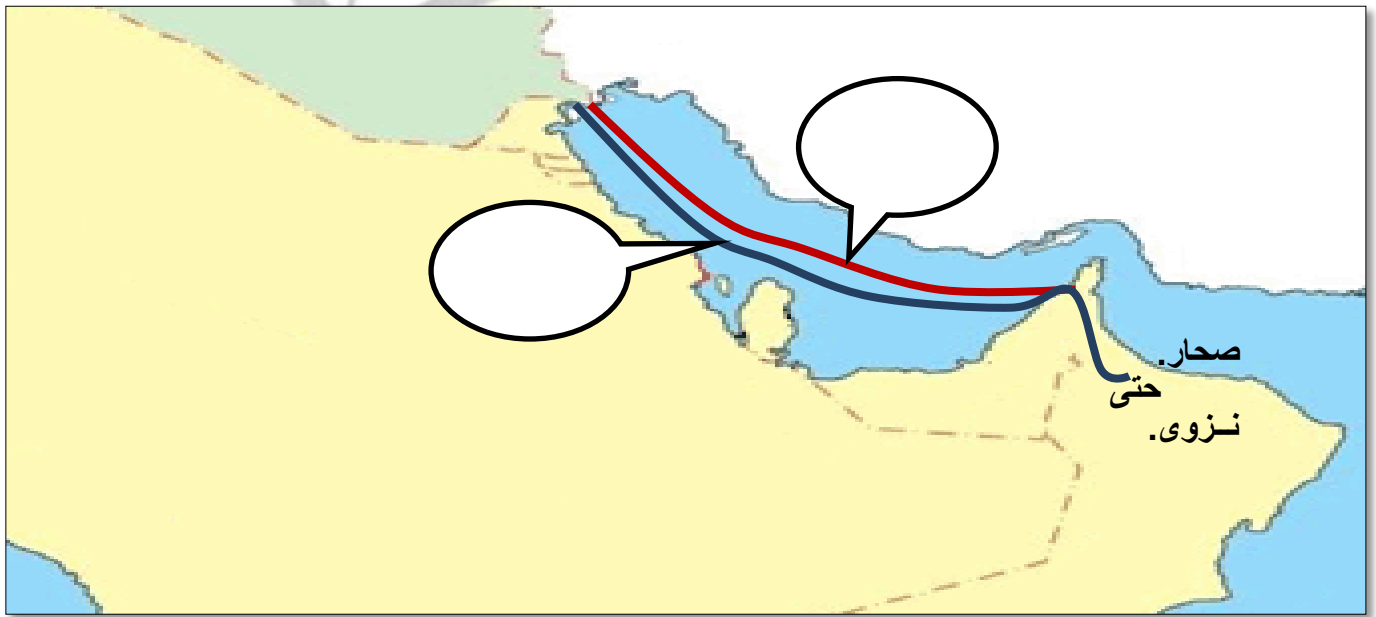
العباسي






- أمامك خريطة الخليج العربي صماء أدرسيها ثم أجبني عن الأسئلة:-

- 1- سمي على الخريطة في مربع الحوار أسماء القادة الذين أرسلوا للسيطرة على عمان في العصر العباسي.
- 2- تتبعي خط سير حملة محمد بن نور من المكان الذي انطلقت منه إلى المكان الذي وصلت إليه.
- 3- أي من هذه الحملات حققت انتصارات على عمان؟
- 4- فسري (حرص العباسيين على السيطرة على عمان)



- أكتبي داخل الكتب التالية العلوم التي برز فيها العمانيون خلال العصر العباسي.

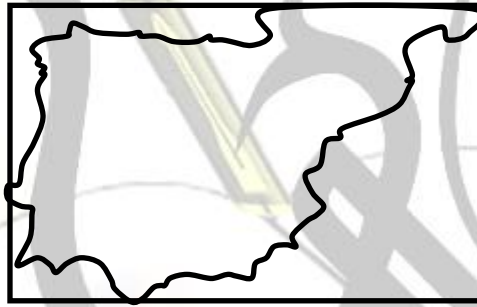


- سمي الدول التي كان يهاجر إليها العمانيون لطلب العلم خلال العصر العباسي؟

.....2

.....1

- أكتبي أسفل كل خريطة أسم الدولة الداله عليها:



أكملي الجدول التالي بالكلمات التالية المناسبة:

(الطب/محمد بن جعفر الأزكوي/الكامل/ابن الذهبي/اللغة/الجامع)

.....	أبو العباس المبرد	إسم الشخصية
الفقه	المجال
.....	الماء	إسم الكتاب

أكملي المخطط التالي بما يناسبه من خلال دراستك لموضوع المنجزات العمرانية للعمانيين للدولة العباسية:

المنجزات العمرانية
للعمانيين في العصر
العباسي

المساجد

الأسوار



أنظري إلى الصور التالية ثم أستنتجي نوع المواد المستخدمة في العمارة العمانية قديما وحديثا :



ب



أ


المواد المستخدمة في البناء قديما (أ)	المواد المستخدمة في البناء حديثا (ب)
.....

من خلال دراستك لموضوع الأزدهار الاقتصادي أدرسي الخريطة التالية ثم أجبني عن الاسئلة:

- 1- أستخرجي من الخريطة الرقم الدال على المدينة التي تعتبر من أشهر المدن العمانية الصناعية في العصر العباسي والتي تشتهر بصناعة.....
- 2- وقعي على الخريطة ميناء ريسوت.
- 3- ظللي على الخريطة المحافظة العمانية التي تضم ميناء دما كمرکز تجاري مهم.



أكتب مآليين للمطلوب من كل نشاط من الأنشطة الاقتصادية التي ازدهرت في عمان خلال العصر العباسي:



التجارة

علاقات
عمان مع الدول الأخرى


Blank hexagonal shape for writing.



الصناعة

أشهر المنتجات

Blank hexagonal shape for writing.




الزراعة

محاصيل

Blank hexagonal shape for writing.

أكمل المخطط بأهم أدوار الأسطول البحري العماني في العصر العباسي

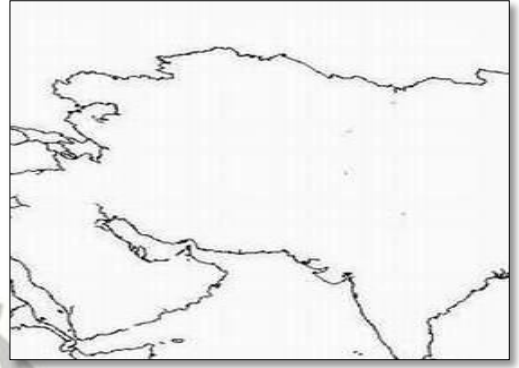


(من الأعمال العظيمة التي قام بها الأسطول العماني خلال العصر العباسي
نجدة أهل سقطرى) من خلال دراستك أجبني عن التالي:

1- وقعي على الخريطة جزيرة سقطرى

2- سمي الأمام الذي تمت هذه الحملة في عهده.

.....



قارني بين عمان في العصر الأموي و عمان في العصر العباسي من حيث:

وجه المقارنة	عمان في العصر الأموي	عمان في العصر العباسي
الحياة السياسية		
الحياة الفكرية		
المنجزات البحرية		