

تم تحميل هذا الملف من موقع المناهج العُمانية



* للحصول على أوراق عمل لجميع الصفوف وجميع المواد اضغط هنا

<https://almanahj.com/om>

* للحصول على أوراق عمل لجميع مواد الصف الخامس اضغط هنا

<https://almanahj.com/om/5>

* للحصول على جميع أوراق الصف الخامس في مادة رياضيات ولجميع الفصول, اضغط هنا

<https://almanahj.com/om/5math>

* للحصول على أوراق عمل لجميع مواد الصف الخامس في مادة رياضيات الخاصة بـ الفصل الأول اضغط هنا

<https://almanahj.com/om/5math1>

* لتحميل كتب جميع المواد في جميع الفصول للـ الصف الخامس اضغط هنا

<https://almanahj.com/om/grade5>

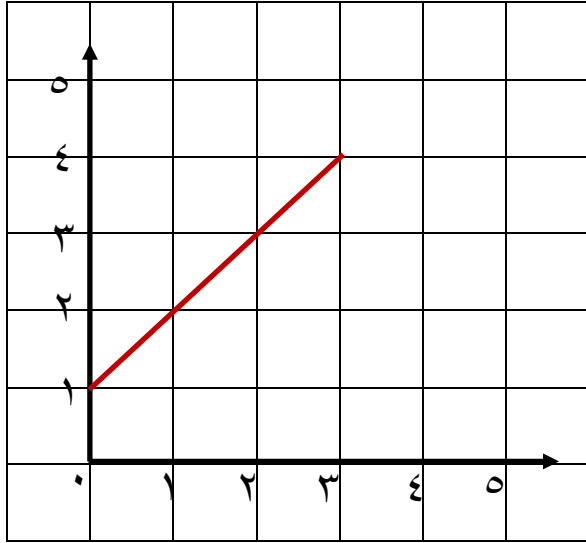
* لتحميل جميع ملفات المدرس ضئينة الفزارية اضغط هنا

للتحدث إلى بوت على تلغرام: اضغط هنا

https://t.me/omcourse_bot



أجيب عن الأسئلة التالية في المكان المخصص للإجابة : موقع المناهج العمانية almanahj.com/om



(١) في الشكل المقابل :

رسمت هبة خطاً يصل بين النقطتين

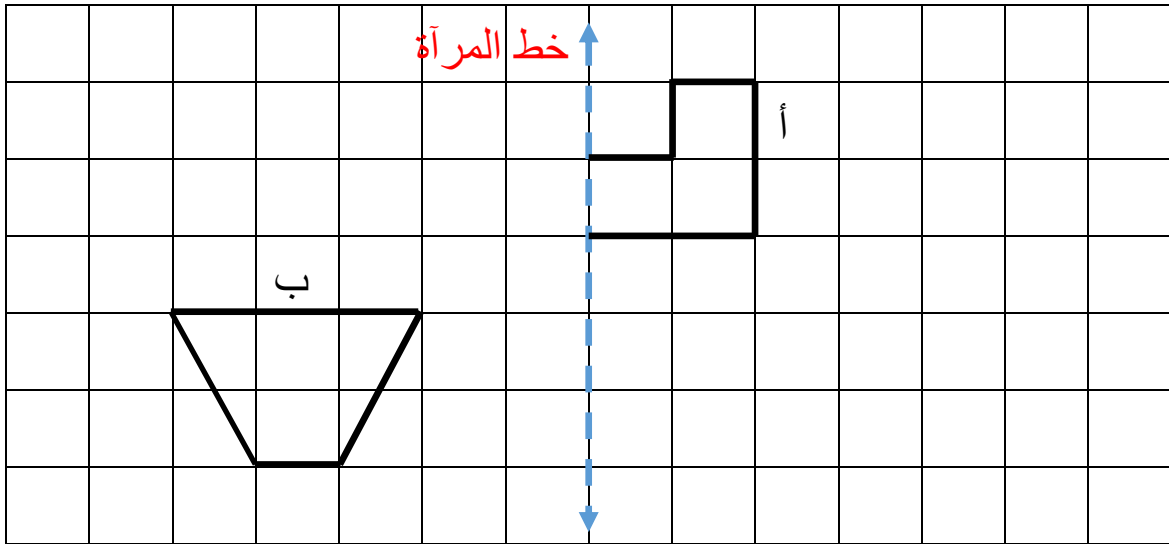
(١ ، ٠) و (٤ ، ٣)

اكتب زوجان من الاحداثيات يقعان على نفس الخط .

الإجابة : (..... ،) ، (..... ،)

[١]

(٢) ارسم انعكاس الشكلان (أ) و (ب) في خط المرآة .



[٢]

(٣) حوِّط كيسين من الدقيق مجموع كتلتهن يساوي ١ كغم .



٦٩٠ غم



٣٥٩ غم

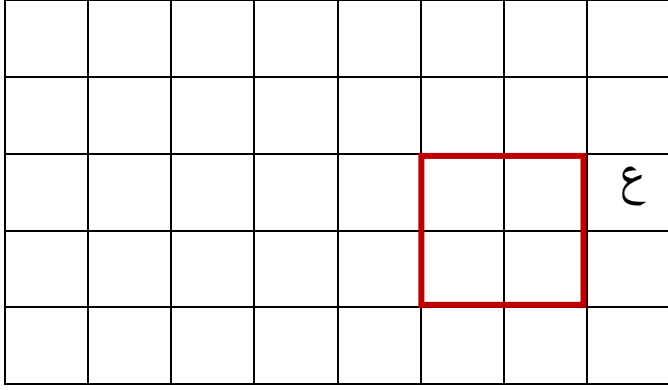


٧٠١ غم



٣١٠ غم

[١]



٤ (ارسم انسحاب للشكل (ع) مقداره
مربعين يساراً ومربعاً واحداً للأعلى

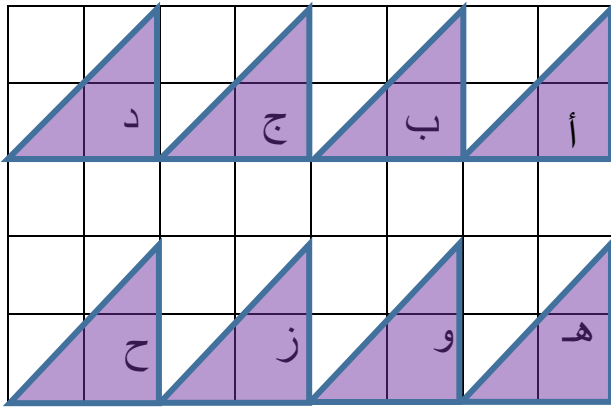
[١]

٥ (رتب الكتل التالية من الأخر إلى الأثقل :

٠,٢ كغم ، ١٠٠ غم ، ٢٣٠٠ غم ، ١,٩ كغم

[١]

الإجابة : ، ، ، :
الأخف الأثقل



٦ (في الشكل المقابل:

أ) إذا تمت إزاحة المثلث (ج) بمقدار

٤ مربعات يميناً و٣ مربعات للأسفل

اكتب رمز المثلث الذي يصل إليه

ب) صف الانسحاب الذي يُحرك المثلث (ز) إلى

[٢]

المثلث (ب)

٧ (قَرِّبِ الكتل التالية لأقرب كيلو غرام :

[٢]

أ) ١٧,٥ كغم ← ← ب) ٩٠٠ غم ←