

شكراً لتحميلك هذا الملف من موقع المناهج العمانية



اختبار قصير أول

[موقع المناهج](#) ← [المناهج العمانية](#) ← [الصف الخامس](#) ← [رياضيات](#) ← [الفصل الثاني](#) ← [الملف](#)

تاريخ نشر الملف على موقع المناهج: 05:18:39 2024-03-07

التواصل الاجتماعي بحسب الصف الخامس



روابط مواد الصف الخامس على تلغرام

[الرياضيات](#)

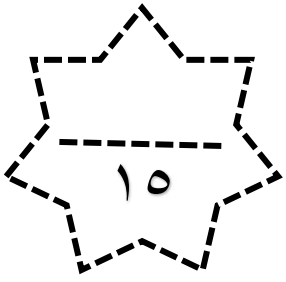
[اللغة الانجليزية](#)

[اللغة العربية](#)

[التربية الاسلامية](#)

المزيد من الملفات بحسب الصف الخامس والمادة رياضيات في الفصل الثاني

أسئلة قصيرة أولى مع نموذج الإجابة	1
دفتر مراجعة المادة	2
مجموعة من الاختبارات القصيرة الأولى مع الإجابات	3
اختبار نهائي رسمي في محافظة جنوب الشرقية	4
اختبار نهائي رسمي في محافظة جنوب الباطنة	5



اختبار قصير 1 في مادة الرياضيات للصف الخامس

اسم الطالبة :

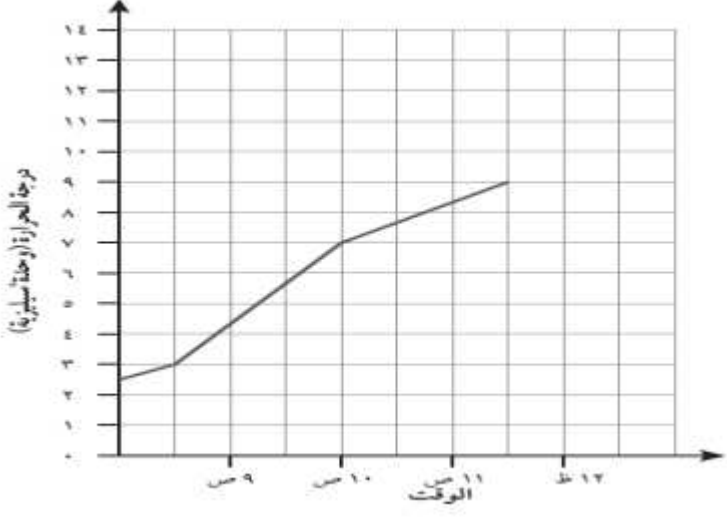
الزمن : 35 دقيقة

[1]	<p>1 يشير الرسم البياني الاتي الى عدد الطلاب الذين ولدوا في الشهور الموضحة في الرسم في الصف الخامس . ما هو منوال الشهور ؟</p> <table border="1"><thead><tr><th>الاشهر</th><th>عدد الطالبات</th></tr></thead><tbody><tr><td>محرم</td><td>8</td></tr><tr><td>صفر</td><td>6</td></tr><tr><td>ربيع اول</td><td>15</td></tr><tr><td>ربيع ثاني</td><td>8</td></tr></tbody></table>	الاشهر	عدد الطالبات	محرم	8	صفر	6	ربيع اول	15	ربيع ثاني	8	1
الاشهر	عدد الطالبات											
محرم	8											
صفر	6											
ربيع اول	15											
ربيع ثاني	8											
[1]	<p>2 أوجدي طول المستطيل الذي مساحته 36 م² ، وطوله 7 م :</p> <p>المساحة 35 م²</p>	2										
[2]	<p>3 من خلال الجدول الاتي، أكمل رسم التمثيل البياني:</p> <table border="1"><thead><tr><th>الرياضة المفضلة</th><th>عدد الطلاب</th></tr></thead><tbody><tr><td>كرة القدم</td><td>12</td></tr><tr><td>كرة السلة</td><td>4</td></tr><tr><td>كرة الطائرة</td><td>8</td></tr></tbody></table>	الرياضة المفضلة	عدد الطلاب	كرة القدم	12	كرة السلة	4	كرة الطائرة	8	3		
الرياضة المفضلة	عدد الطلاب											
كرة القدم	12											
كرة السلة	4											
كرة الطائرة	8											

4 عند رمي حجر نرد ذو ستة أوجهه ، اوجدي احتمال ظهور عدد زوجي :
 متساوي مرجح غير مرجح مؤكد

[1]

5 يعرض الرسم البياني الخطي التالي التغيرات التي حدثت في درجة الحرارة خلال فترة صباحية باردة:



أ. كم كانت درجة الحرارة في الساعة ٩:٠٠ صباحاً:

ب. في أي وقت وصلت درجة الحرارة إلى ٧ س°:

[2]

6 حوطي على منوال مجموعة البيانات التالية: ١ ٧ ٨ ٩ ٣ ٢ ٣ ٨ ٨ ١

٧

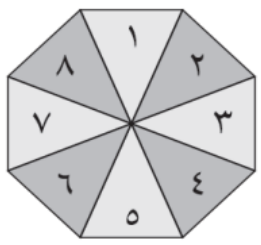
١

٨

٣

[1]

7 تستخدم فرح دوار على هيئة مضلع منتظم ثماني، ارسمي خطوط لتوضح مدى احتمالية ظهور عدد من الأعداد التالية في الدوار؟



- مرجح
- مؤكد
- فرصة متساوية
- غير مرجح
- مستحيل

- عدد أصغر من ١٠
- العدد ١٠
- عدد زوجي
- العدد ٥

[2]

8

بيّن الجدوال أطوال ٥ طالبات الفرق بين أطول الطالبات وأقصرهن:

الطالبة	الطول (سم)
هند	١٥٦
مريم	١٢٨
عبير	١٢١
سارة	١٥٤
هاجر	١٥٠

٣٥ ١٨ ٣٣ ٢٢

[1]

9

استعملي الجدول المجاور الذي يظهر ما تم بيعه من أدوات مدرسية خلال ساعة في المكتبة:

الأدوات المدرسية المباعة خلال ساعة	
الإشارات	الأدوات
	مِمْحَة
	صمغ
	قلم رصاص
	مِقْص

أ. أي الأدوات بيع منه أكثر؟ وما عددها:.....

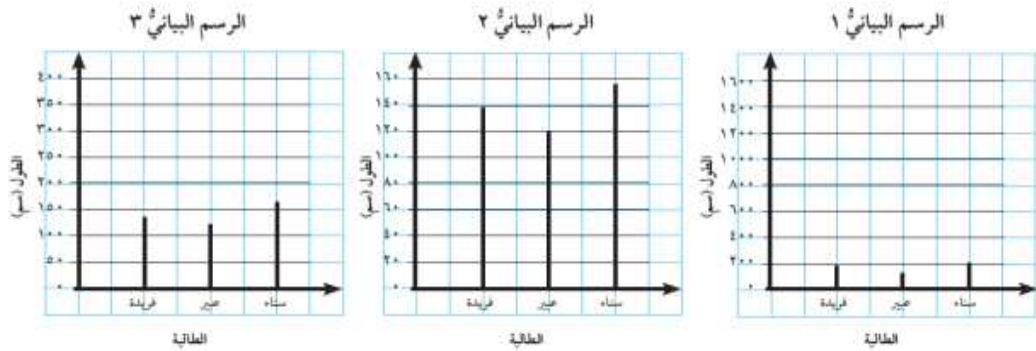
ب. ما إجمالي الأدوات التي بيعت خلال ساعة واحدة:.....

[2]

10

قاست ثلاث طالبات طولهن وسجلن المعلومات في الجدول التالي. تظهر الرسوم البيانية التالية تلك المعلومات:

الطالبة	الطول (سم)
فريدة	١٣٨
عبير	١٢١
سناء	١٥٤



ما الرسم البياني الذي يعرض المعلومات بشكل أفضل:.....

فسري

اجابتك:.....

[2]

طالباتي المميزات أتمنى لكن التوفيق

