

تم تحميل هذا الملف من موقع المناهج العُمانية



*للحصول على أوراق عمل لجميع الصفوف وجميع المواد اضغط هنا

<https://almanahj.com/om>

* للحصول على أوراق عمل لجميع مواد الصف الخامس اضغط هنا

<https://almanahj.com/om/5>

* للحصول على جميع أوراق الصف الخامس في مادة رياضيات ولجميع الفصول, اضغط هنا

<https://almanahj.com/om/5math>

* للحصول على أوراق عمل لجميع مواد الصف الخامس في مادة رياضيات الخاصة بـ الفصل الثاني اضغط هنا

<https://almanahj.com/om/5math2>

* لتحميل كتب جميع المواد في جميع الفصول للـ الصف الخامس اضغط هنا

<https://almanahj.com/om/grade5>

* لتحميل جميع ملفات المدرس عائشة النعيمي اضغط هنا

للتحدث إلى بوت على تلغرام: اضغط هنا

https://t.me/omcourse_bot


التمارين والأنشطة الإضافية

١ - ٢٣
التعامل مع الأعداد العشرية والكسور
العشرية



almanahji.com/om

٨ (استخدم جميع البطاقات التي أمامك في كل مفردة فيما يلي لجعل العبارات صحيحة :



[١]
وهذان حلول اخرى

أو $٥, ٢ = ٨, ٤$

(أ) $٤, ٢ = ٥, ٨ - ١٠$

[١]

(ب) $٢, ٤, ٥, ٦$ لأقرب عدد كامل ٢٥

أو $٥, ٢, ٤, ٦$ أو $٢, ٤, ٥, ٦$

٧) يوضّح الجدول كتل أربع طالبات من الصف الخامس .

الطالبة	الكتلة (بالكيلوغرام)
ريان	٣٢,١٧
بيان	٣٢,١
فاطمة	٢٩,٥٦
سلوى	٣٣

رتّب كتل الطالبات من الأثقل إلى الأخف .

[١]

الإجابة : **سلوى** ، **ريان** ، **بيان** ، **فاطمة**
الأثقل

قرب الأعداد العشرية لأقرب عدد كامل:

(١)

العدد	التقريب
٣٢,٤	٣٢
٢٧,٥٢	٢٨
٣٠,٦	٣١
٢٥,١٤	٢٥
١٣,٦٣	١٤

العدد	التقريب
١,١١	١
٥,٦١	٦
٩,٤٩	٩
٣٥,٥٤	٣٥
١٣,٥٣	١٤

العدد	التقريب
٥,٥١	٥
٩,٥٢	١٠
٦,٦٥	٧
٤,٢٥	٤
٧٨,٧٨	٧٩

٣

حوط على الإجابة الصحيحة فيما يلي :

أختر مسافة بعد "

أ) أي الكسور العشرية التالية أقرب قيمة للعدد ١,١ : ← أ. ١,٠

١,١
١,٠

١,٢
١,٠

١,٥
١,٠

١,٩
١,٠

ب) فيما يلي كتل مجموعة من الأطفال بالكيلوغرام، حوط على الأثقل كتلة:

٧,٥٣

٧,٦٥

٦,٧

٧,٦

ج) ما هو العدد الذي يعطي ٤ عند تقريبه لأقرب عدد كامل:

٣,٩

٣,٣٣

٣,٥٧
٤

٣,٤٩

د) فيما يلي أوزان مجموعة من الطلاب بالكيلوغرام، حوط على الأخف وزنا:

٢٤,٢٣

٢٣,٣٢

٢٣,٩١

٢٣,٧٣

هـ) أي الكسور العشرية أقرب قيمة للعدد ٢,٠٣ :

٢,١٣
٢,٠٣
٢,٠١

٢,٣٣
٢,٠٣
٢,٠٠

٢,٢٠
٢,٠٣
٢,٠١


٢,٣٠
٢,٠٣
٢,٠٧



almanahi.com/om

رتب الأعداد العشرية التالية حسب ما هو مطلوب منك :

أ) رتب الأعداد العشرية من الأكبر إلى الأصغر :				
٤,٢	٤	٤,٤	٤,٢٤	٤,٠٤
٤	٥	٢	٤	٤
ب) رتب الأعداد العشرية من الأكبر إلى الأصغر :				
٧,٣٥	٧,٧٧	٧,٧٠	٧,٠٧	٧,٢١
٤	٢	٥	٤	٤
ج) رتب الأعداد العشرية تنازليا :				
٨,٥٠	٦,٦٣	٦,٣٦	٨,٠٥	٣,٤٥
٤	٤	٤	٢	٥
د) رتب الأعداد العشرية من الأصغر إلى الأكبر :				
٥,٥٥	٥,٥١	٥,١٥	٥,٥	٥,٠٥
٥	٤	٢	٣	١
هـ) رتب الأعداد العشرية من الأصغر إلى الأكبر :				
٣,٠١	٣,٣١	٣,٣٣	٣,٠٣	٣,١٣
١	٤	٥	٢	٣



٥ رتب الأدوات المدرسية من الأقل سعرا إلى الأكبر سعرا :



الإجابة: ١٥٠ ، ٢٥ ، ١٢٢٥ ، ٢٥٠

٦ رتب كتل المنتجات التالية من الأكبر كتلة إلى الأقل كتلة :



الإجابة: ٣ ، ٣ ، ٣ ، ٣

٧ الجدول المقابل يوضح كتلة الأطفال عند ميلادهم أوجد :

الطالب	الكتلة
٣ موسى	٤,٣٥
٥ منير	٤,٧٨
١ زياد	٣,٨١
٢ مريم	٥,٦١
٣ فاطمة	٤,٥٤

أ) من أثقل طفل من بين الاطفال ؟

الإجابة: مريم

ب) رتب كتل الأطفال من الأخف إلى الأثقل ؟

زياد ، موسى ، فاطمة ، مريم ، منير

٨ الجدول المقابل يمثل كمية الأمطار الساقطة على بعض المدن العمانية خلال الشهر الماضي ، أوجد:

المدينة	كمية المطر (مم)
١ خصب	٥,٢٣
٥ لوى	٣,١٢
٢ شناص	٥,١
٣ صحار	٤,٨
٤ دحم	٣,٢١

أ) أي الولايات سجلت إقل كمية من الأمطار؟

الإجابة: لوى

ب) رتب كمية الأمطار من الأكثر إلى الأقل؟

حُصب ، شناص ، صحار ، دحم ، لوى

١٠) أكتب عددين يمكن تكوينهما بين ١ و ٤٠ من بين البطاقات الآتية:

الإجابة: ٣٥,١ ، ١٣,٥

١ ٥ ٣ ٤

١١) أكتب عددين يمكن تكوينهما بين ٣٠ و ٤٠ من بين البطاقات الآتية:

الإجابة: ٣٢,٥ ، ٣٥,٢

٢ ٣ ٥ ٤


ورشناص
حلور
أخزي

✓

٩) ضع إشارة (<) أو (>) أو (=) بين الأعداد التالية:

٤,٠٥	<	٤,٥٠
٣,١	=	٣,١٠
١,١٢	>	١,٢١
٠,٨١	>	٠,٨
٢,٠٤	>	٢,٤٠
٢٣,٣٢	>	٢٣,٢٣

٢,٨	>	٣,٠٣
٦,٨٧	>	٦,٧٨
٤,٢	>	٤,١٤
٠,١٣	<	٠,٣
٤,٥١	>	٤,١٥
٢,٩	>	٢,٣



almanahi.com