

تم تحميل هذا الملف من موقع المناهج العُمانية



* للحصول على أوراق عمل لجميع الصفوف وجميع المواد اضغط هنا

<https://almanahj.com/om>

* للحصول على أوراق عمل لجميع مواد الصف الخامس اضغط هنا

<https://almanahj.com/om/5>

* للحصول على جميع أوراق الصف الخامس في مادة اجتماعيات ولجميع الفصول, اضغط هنا

<https://almanahj.com/om/5social>

* للحصول على أوراق عمل لجميع مواد الصف الخامس في مادة اجتماعيات الخاصة بـ الفصل الأول اضغط هنا

<https://almanahj.com/om/5social1>

* لتحميل كتب جميع المواد في جميع الفصول للـ الصف الخامس اضغط هنا

<https://almanahj.com/om/grade5>

للتحدث إلى بوت على تلغرام: اضغط هنا

https://t.me/omcourse_bot

(١)

المادة: الدراسات الاجتماعية الصف: الخامس الدور الأول
- الفصل الدراسي الأول - العام الدراسي ٢٠١٩/٢٠٢٠م


أجب عن جميع الأسئلة الآتية:

موقع المناهج العمانية almanahj.com/om

السؤال الأول: ضع دائرة حول رمز الإجابة الصحيحة لكل مفردة من المفردات الآتية:

١- النشاط الاقتصادي الذي اشتهرت به منطقة اليمامة:
أ- التجارة. ب- الزراعة. ج- الرعي. د- الصناعة.

٢- الرمز الدال على حالة الطقس عندما يكون الجو غائماً جزئياً:



٣- العمان الهجريان لفترة امتداد خلافة أبي بكر الصديق:
أ- (١١-١٣). ب- (١٣-٢٣). ج- (٢٣-٣٥). د- (٣٥-٤٠).

٤- القارتان اللتان يقع فيهما الوطن العربي:
أ- آسيا وأوروبا. ب- آسيا وأفريقيا. ج- أفريقيا وأوروبا. د- أفريقيا وأمريكا.

٥- كان يطلق عليها (شجر عمان) قديماً:
أ- ظفار. ب- صحار. ج- دبا. د- تّوام.

٦- مُط الحياة الذي تشير اليه الصورة المقابلة:



أ- حضرية. ب- جبلية. ج- بدوية. د- ساحلية.

٧- المضيق الذي تشرف عليه سلطنة عمان:
أ- باب المندب. ب- جبل طارق. ج- هرمز. د- البسفور.

٨- العمل الاجتماعي الذي تحث عليه الآية الكريمة: "وتعاونوا على البر والتقوى"
أ- التعاون. ب- الصدق. ج- الأمانة. د- الصبر.

تابع السؤال الأول:

د - قريبات.

ج - نخل.

ب - الرستاق.

٩- الوابية التي توجد بها عين الكسفة:
- المزوي.



١٠- مجال الجائزة الذي يدل عليها الشعار المقابل:
ب - حماية البيئة.
أ- رعاية الأطفال.

د - رعاية الأسرة.

ج - العمل التطوعي.

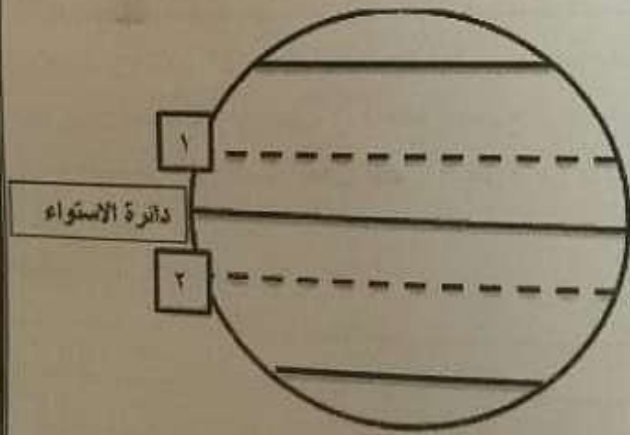
١١- الوزارة المسؤولة عن العمل الاجتماعي في السلطنة:

ب - الشؤون المناخية.

أ- التربية والتعليم.

د - التنمية الاجتماعية.

ج - الخدمة المدنية.



١٢- يشرح الرقم (١) في الشكل المقابل إلى:

أ- الدائرة القطبية الشمالية.

ب - مدار السرطان.

ج - مدار الجدي.

د - الدائرة القطبية الجنوبية.

السؤال الثاني: أجب عن الأسئلة الآتية:
أولاً: ادرس الخريطة التي أمامك، ثم أجب عن الأسئلة التي تليها:



أ - ضع دائرة على المدن التي تمر بها التجارة البرية بين مرباط والعراق.

ب - اكتب على الخريطة بحر العرب في موقعه الصحيح.

ج - ارسم على الخريطة خط سير سفن التجارة البحرية من مرباط إلى الهند.

ثانياً: عرف ما يلي:

أ - القربة.

ب - العمل الاجتماعي.

ج - السبلة العمانية.

(٤)
موقع المناهج العُمانية almanahj.com/om
المادة: الدراسات الاجتماعية الصف: الخامس الدور الأول
- الفصل الدراسي الأول - العام الدراسي ٢٠١٩/٢٠٢٠ م

تابع/السؤال الثاني: -

لثالث: أمامك صورة لأحد المعاهد المتخصصة في سلطنة عمان، تأملها ثم أجب عن الأسئلة الآتية:

أ - ما اسم الوزارة التي يتبعها هذا المعهد؟

ب - ما اختصاص هذا المعهد؟



السؤال الثالث: أجب عن الأسئلة الآتية:

أولاً: صنّف السهول الواردة بين القوسين حسب نوعها في الجدول:
(سهل الباطنة - سهول محافظة الظاهرة - سهل دلتا النيل)

اسم السهل	أنواع السهول
	ساحلية
	فيضيه
	داخلية

ثانياً: علّل ما يأتي: -

أ - كانت القبائل العربية تحجّ إلى مكة قبيل الإسلام.

ب - ازدهار عدد من المدن العمانية في فترة ظهور الإسلام.

المادة: الدراسات الاجتماعية الصف: الخامس الدور الأول
- الفصل الدراسي الأول - العام الدراسي ٢٠١٩/٢٠٢٠ م

تابع / السؤال الثالث: -

ثالثا: أنسب ما بين القوسين إلى الشخصية الواردة في الجدول التالي:

(التحدث باللغة الفارسية - شارك في الفتوحات الإسلامية - اشتهر بالفصاحة والبلاغة)

الأعمال/الصفات	اسم الشخصية
.....	مصقلة بن رقة
.....	كعب بن سور
.....	كعب بن برشه الطاحي

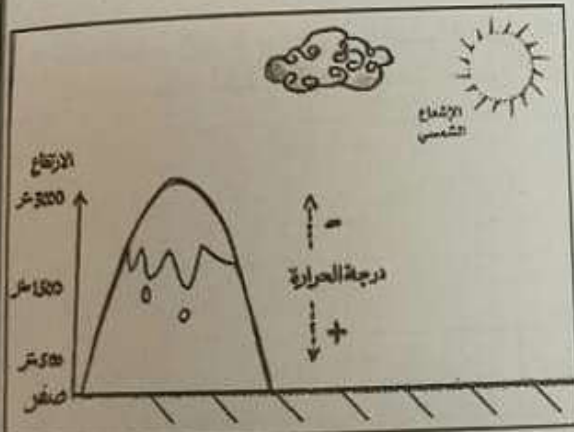
السؤال الرابع: أجب عن الأسئلة الآتية: -

أولاً: من خلال الشكل الذي أمامك أجب عن الأسئلة التالية:

أ - ما العامل الذي يؤثر على المناخ؟

ب - ماذا يحدث لدرجة الحرارة كلما ارتفعنا إلى أعلى؟

ج - اكتب اسم منطقة في سلطنة عمان يظهر بها هذا التأثير.



ثانياً: أجب عما يأتي:

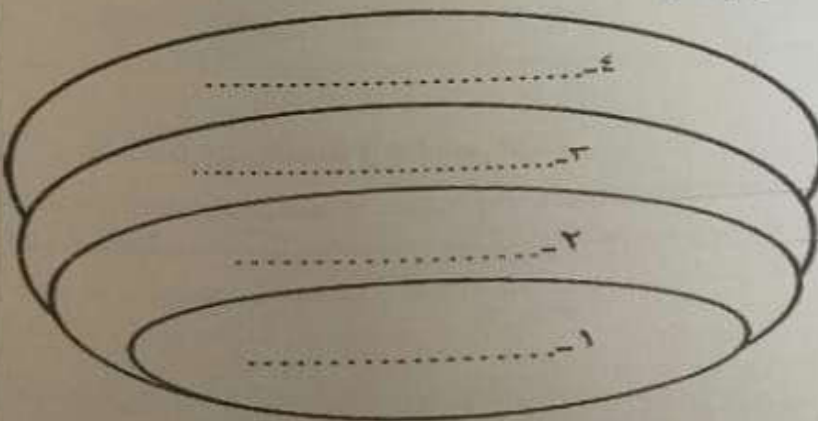
أ - رتب مستويات التعاون الآتية في مكانها الصحيح بالشكل:

- التعاون بين المواطنين في الدولة

- التعاون بين أفراد الأسرة

- التعاون بين الأمة الإسلامية

- التعاون بين الجيران



تابع / السؤال الرابع: -

ب - اذكر اثنين من القيم التي اتصف بها العرب قديماً.

السؤال الخامس: أجب عن الأسئلة الآتية: -



أولاً: ما النتيجة المترتبة على كل مما يلي؟

أ - سقوط الأمطار صيفاً على محافظة ظفار.


ب - سيادة المناخ الصحراوي في الوطن العربي.

ج - إعداد الأسرة والمدرسة للأفراد دينياً واجتماعياً وثقافياً.

ثانياً: قارن بين النباتات الطبيعية وفق الجدول الآتي:

الصورة		
		أوجه المقارنة
.....	اسم النبات
.....	البيئة التي ينتمي اليها
.....	ميزة واحدة لها

انتهت الأسئلة مع الدعاء للجميع بالتوفيق والنجاح.



يتبع / ٦