

تم تحميل هذا الملف من موقع المناهج العمانية



* للحصول على أوراق عمل لجميع الصفوف وجميع المواد اضغط هنا

<https://almanahj.com/om>

* للحصول على أوراق عمل لجميع مواد الصف الخامس اضغط هنا

<https://almanahj.com/om/5>

* للحصول على جميع أوراق الصف الخامس في مادة رياضيات ولجميع الفصول, اضغط هنا

<https://almanahj.com/om/5math>

* للحصول على أوراق عمل لجميع مواد الصف الخامس في مادة رياضيات الخاصة بـ الفصل الثاني اضغط هنا

<https://almanahj.com/om/5math2>

* لتحميل كتب جميع المواد في جميع الفصول للـ الصف الخامس اضغط هنا

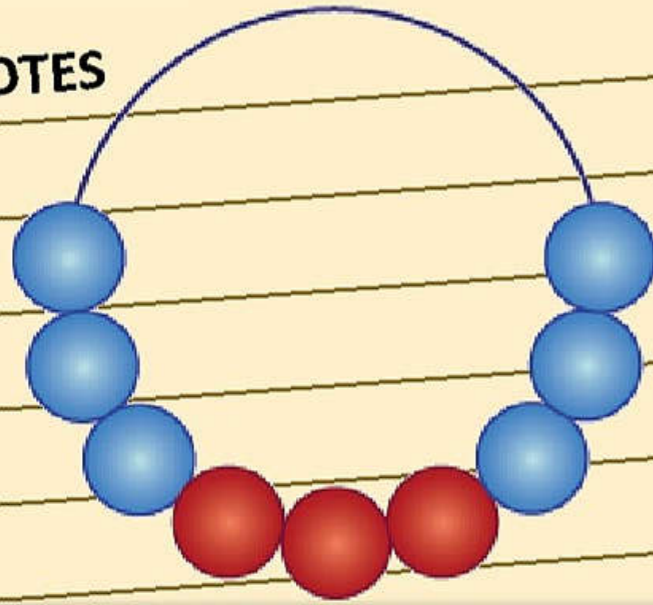
<https://almanahj.com/om/grade5>

* لتحميل جميع ملفات المدرس عائشة النعيمي اضغط هنا

للتحدث إلى بوت على تلغرام: اضغط هنا

https://t.me/omcourse_bot

NOTES



الصف الخامس الأساسي

الرياضيات

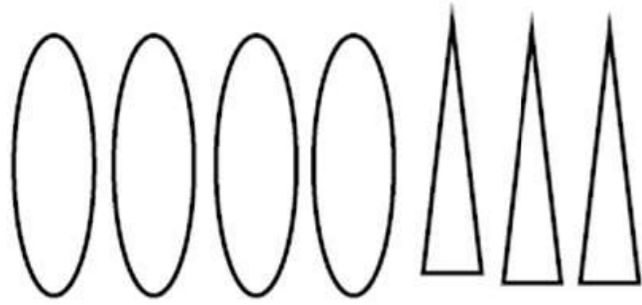
١-٢

النسبة والتناسب

التمارين
الإضافية

فانشة
النصيمية

١) أنظر الى الشكل التالي ثم اجب عن الاسئلة التي تليها :



ما الكسر الذي يمثل عدد المثلثات ؟

ما الكسر الذي يمثل عدد الدوائر ؟

ما نسبة عدد المثلثات إلى عدد الدوائر ؟

٣) اشترى محمد ٤ كغم من البطاطم و ٣ كغم من الخيار و ٥ كغم من البطاطا .

هل ما اشتراه محمد من البطاطا والخيار معا يمثل $\frac{2}{3}$ من مجموع مشترياته ؟

لا

نعم

فسر اجابتك :



٢

عبوة للعبة تحتوي على مكعبات البناء ومكونة من الآتي :
٢٠ مكعب أحمر ، ١٠ مكعبات صفراء ، ٥ مكعبات سوداء ، ٤ مكعبات بيضاء ، مكعب واحد أزرق .
أوجد نسبة كل لون حسب ما يطلب منك :
المجموع = ٤٠ مكعب

ما الكسر الذي يمثل عدد المكعبات الحمراء الى باقي المكعبات ؟	$\frac{20}{40} = \frac{1}{2}$
ما الكسر الذي يمثل عدد المكعبات الصفراء الى باقي المكعبات ؟	$\frac{10}{40} = \frac{1}{4}$
ما الكسر الذي يمثل عدد المكعبات السوداء الى باقي المكعبات ؟	$\frac{5}{40} = \frac{1}{8}$
ما الكسر الذي يمثل عدد المكعبات البيضاء الى باقي المكعبات ؟	$\frac{4}{40} = \frac{1}{10}$
ما الكسر الذي يمثل عدد نسبة المكعبات الزرقاء الى باقي المكعبات ؟	$\frac{1}{40}$
ما نسبة المكعبات الصفراء الى المكعبات الحمراء ؟	$\frac{10}{20} = \frac{1}{2}$
ما نسبة المكعبات السوداء الى المكعبات الحمراء ؟	$\frac{5}{20} = \frac{1}{4}$
ما نسبة المكعبات البيضاء الى المكعبات الصفراء ؟	$\frac{4}{10} = \frac{2}{5}$

المجموع = ٢٥ كرة

٤ صندوق به ١٠ كرات بيضاء اللون و ٤ كرات حمراء اللون و ٥ كرات زرقاء اللون و ٦ كرات سوداء اللون

$$\frac{10}{25} = \frac{2}{5}$$

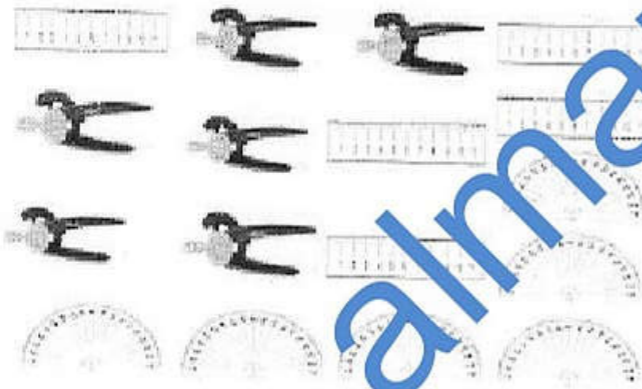
أ/ ما نسبة عدد الكرات البيضاء الى مجموع الكرات؟

$$\frac{4}{25} = \frac{4}{25}$$

ب/ ما نسبة عدد الكرات الحمراء الى عدد الكرات السوداء؟

٥ الشكل المقابل يوضح مجموعة من الادوات الهندسية أوجد ما يلي:

٥ مساطر + ٦ فرجار + ٦ منقلة





الاجابة: $\frac{5}{16}$

أ/ ما نسبة المساطر الى المناقل؟

الاجابة: $\frac{6}{16}$

ب/ ما نسبة الفرجار الى بقية الادوات الهندسية؟

٦		أكتب الكسر الذي يمثل عدد المربعات المظللة في الأشكال التالية:
الإجابة: $\frac{4}{5}$		
الإجابة: $\frac{6}{10}$		
الإجابة: $\frac{3}{4}$	