

تم تحميل هذا الملف من موقع المناهج العمانية



الامتحان النهائي الرسمي الدور الأول الفترة الصباحية في محافظة شمال الباطنة

[موقع المناهج](#) ⇨ [المناهج العمانية](#) ⇨ [الصف الخامس](#) ⇨ [اجتماعيات](#) ⇨ [الفصل الثاني](#) ⇨ [الملف](#)

تاريخ إضافة الملف على موقع المناهج: 2024-06-06 09:07:32

التواصل الاجتماعي بحسب الصف الخامس



اضغط هنا للحصول على جميع روابط "الصف الخامس"

روابط مواد الصف الخامس على تلغرام

[الرياضيات](#)

[اللغة الانجليزية](#)

[اللغة العربية](#)

[التربية الاسلامية](#)

المزيد من الملفات بحسب الصف الخامس والمادة اجتماعيات في الفصل الثاني

[الامتحان النهائي الرسمي الدور الأول الفترة الصباحية في محافظة جنوب الشرقية](#)

1

[الامتحان النهائي الرسمي الدور الأول الفترة الصباحية في المحافظات مسقط والداخلية والشرقية والوسطى](#)

2

[امتحان تحريبي نهائي مع نموذج الإجابة الدور الأول في محافظة ظفار](#)

3

المزيد من الملفات بحسب الصف الخامس والمادة اجتماعيات في الفصل الثاني

امتحان تحريبي نهائي مع نموذج الإجابة	4
اختبار تحريبي نهائي لدرس الدولة الإسلامية في عهد الرسول	5

امتحان مادة الدراسات الاجتماعية للصف الخامس - الدور الأول - الفصل الدراسي الثاني - العام الدراسي ٢٠٢٣/٢٠٢٤ م (الفترة الصباحية)

أجب عن جميع الأسئلة الآتية:

السؤال الأول: ضع دائرة حول رمز الإجابة الصحيحة لكل مفردة من المفردات الآتية:

د. النيتروجين.

١- الحزام الذي يحمي كوكب الأرض من الأشعة الضارة:

ج. الأوزون.

ب. الأكسجين.

أ. الهيدروجين.



٢- العبارة التي تشير إلى بند اتفاقية حقوق الطفل الواضح في الصورة المقابلة:

ب. التعليم والتأهيل.

أ. الحماية من أداء الاعمال الخطرة.

د. رعاية ذوي الإعاقة.

ج. التمتع بمستوى صحي عالي.

٣- الشخصية التي رافقت الصحابي مازن بن غضوبة في رحلته إلى المدينة المنورة:

ج. سلمة بن عباد.

ب. صالح بن المتوكل.

أ. كعب بن برشة.

د. أبو صفرة المتكي.

٤- الجهة التي تقع فيها المدينة المنورة بالنسبة لمكة المكرمة حسب الخريطة التي أمامك:



ب. الجنوب.

أ. الشمال.

د. الغرب.

ج. الشرق.

٥- أول غزوات الرسول محمد (ﷺ):

ب. أحد.

أ. تبوك.

ج. بدر.

د. الخندق.

د. النيتروجين



د. أبو صفرة المني

الخدني

٢٣
تابع السؤال الأول:

٦- العام الميلادي الذي تأسست فيه الجمعية الفلكية العُمانية:

- أ. ٢٠٠٥ ب. ٢٠٠٦ ج. ٢٠٠٧ د. ٢٠٠٨

٧- الجدول الصحيح الذي يبين أمثلة للموارد الطبيعية غير المتجددة:




المياه	الحيوانات	النفط	النقط
الفحم	الفحم	الغاز	الغاز
المعادن	المعادن	طاقة الشمس	المعادن

- أ. ب. ج. د.

٨- الجزيرة التي أوصى الإمام الصلت بن مالك قادة الاسطول البحري العُماني بحماية حقوق المسلمين فيها:

- أ. مصر. ب. سقري. ج. الديمانيات. د. الحلانيات.

٩- الشكل الصحيح الذي يمثل النسب المئوية لتوزيع الماء واليابسة على سطح الأرض:



تابع السؤال الأول:

١٠- المجال الذي تحتفل به سلطنة عُمان يوم ١٧ أكتوبر من كل عام:

د. المرأة العُمانية.

- أ. التراث. ب. الشباب. ج. المعلم العُماني.

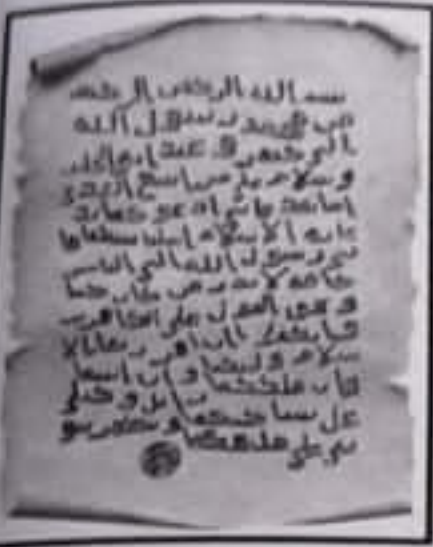
١١- المنطقة التي أرسل الرسول محمد (ﷺ) الرسالة المقابلة لحكامها:

أ. العراق.

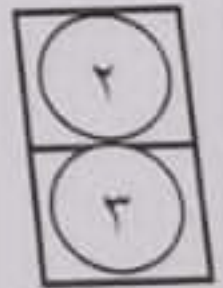
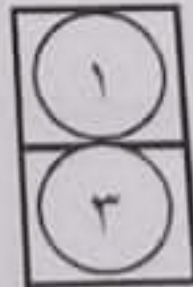
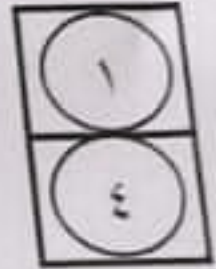
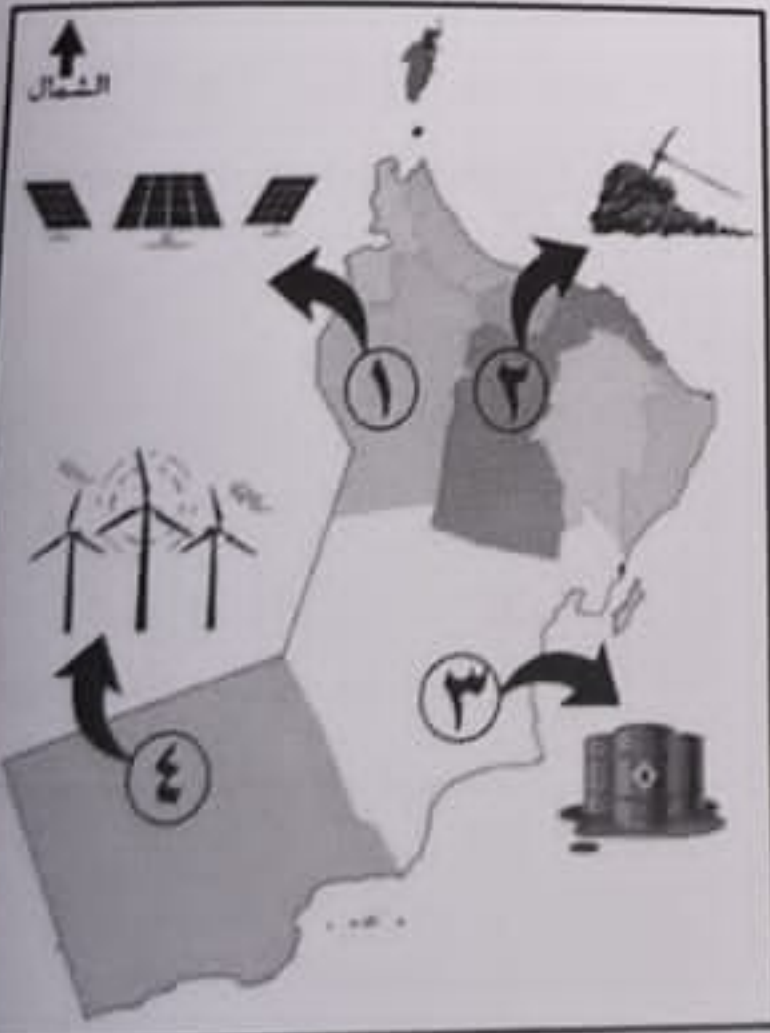
ب. عُمان.

ج. اليمن.

د. البحرين.



١٢- الشكل الصحيح الذي يشير إلى أرقام الموارد الطبيعية غير المتجددة في الخريطة التي أمامك:



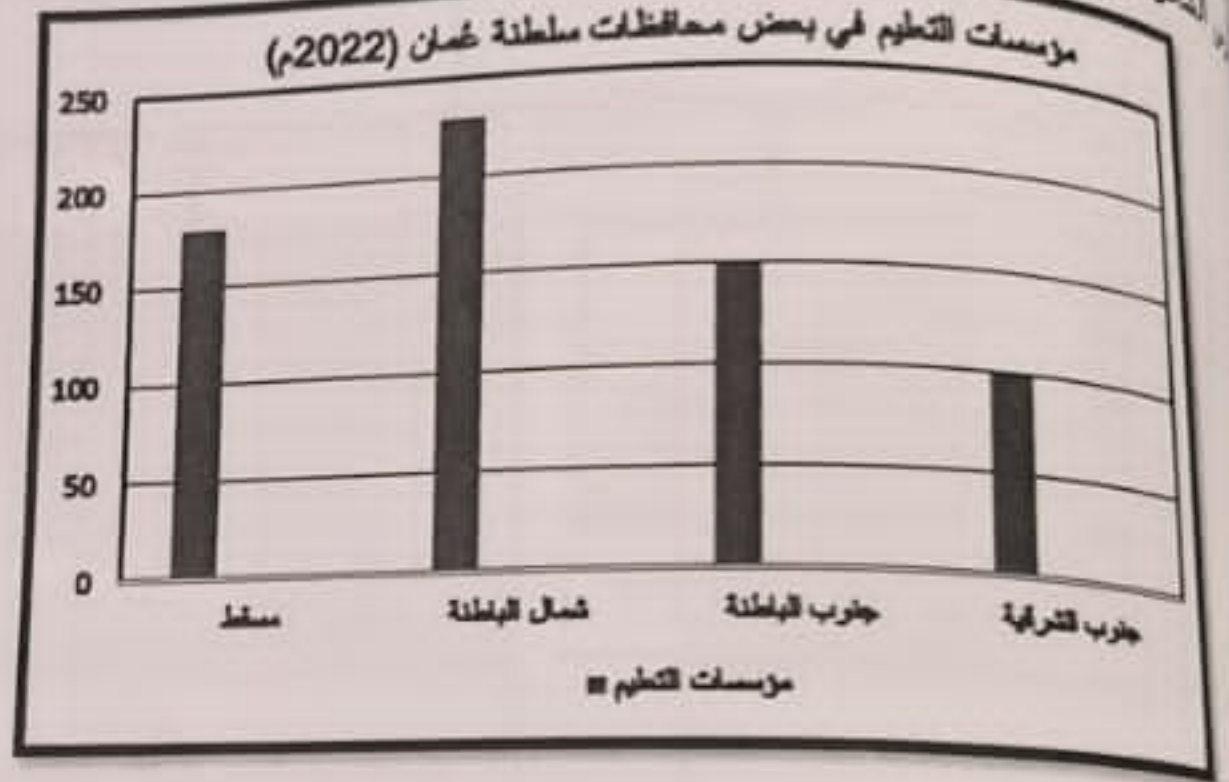
(٤)

البيانات الاجتماعية للصف الخامس-الدور الأول-الفصل الدراسي الثاني-العام الدراسي ٢٠٢٣/٢٠٢٤م (الفترة الصباحية)

البيانات الاجتماعية للصف الخامس-الدور الأول-الفصل الدراسي الثاني-العام الدراسي ٢٠٢٣/٢٠٢٤م (الفترة الصباحية)

البيانات الاجتماعية للصف الخامس-الدور الأول-الفصل الدراسي الثاني-العام الدراسي ٢٠٢٣/٢٠٢٤م (الفترة الصباحية)	ما يحصل عليه المواطن من الدولة والمجتمع، وفقاً للقانون وثقافة المجتمع.
البيانات الاجتماعية للصف الخامس-الدور الأول-الفصل الدراسي الثاني-العام الدراسي ٢٠٢٣/٢٠٢٤م (الفترة الصباحية)	استعمال الموارد الطبيعية بشكل متوازن للحفاظ عليها وضمان استمرارية الحياة.
البيانات الاجتماعية للصف الخامس-الدور الأول-الفصل الدراسي الثاني-العام الدراسي ٢٠٢٣/٢٠٢٤م (الفترة الصباحية)	دخول المناطق غير المسلمة الإسلام، لتصبح جزءاً من الدولة الإسلامية أو تابعة لها.

الشكل البياني الذي امامك، ثم أجب عن الأسئلة التي تليه.



المحافظة التي تأتي في المرتبة الثانية من حيث عدد مؤسسات التعليم؟

يبلغ عدد مؤسسات التعليم في محافظة جنوب الشرقية؟

من المؤسسات الوطنية العُمانية الآتية: (المحكمة العليا / شرطة عُمان السلطانية / مستشفى صحار)

سبب اختصاصاتها في الجدول الآتي:

الاختصاص	المؤسسة الوطنية العُمانية
تقديم الرعاية الصحية
المحافظة على الأمن داخل الوطن
حفظ حقوق المواطنين بالقضاء العادل



يتبع/٥

امتحان مادة الدراسات الاجتماعية للصف الخامس - الدور الأول - الفصل الدراسي الثاني - العام الدراسي ٢٠٢٣/٢٠٢٤ م (الفترة الصباحية)

(٥)

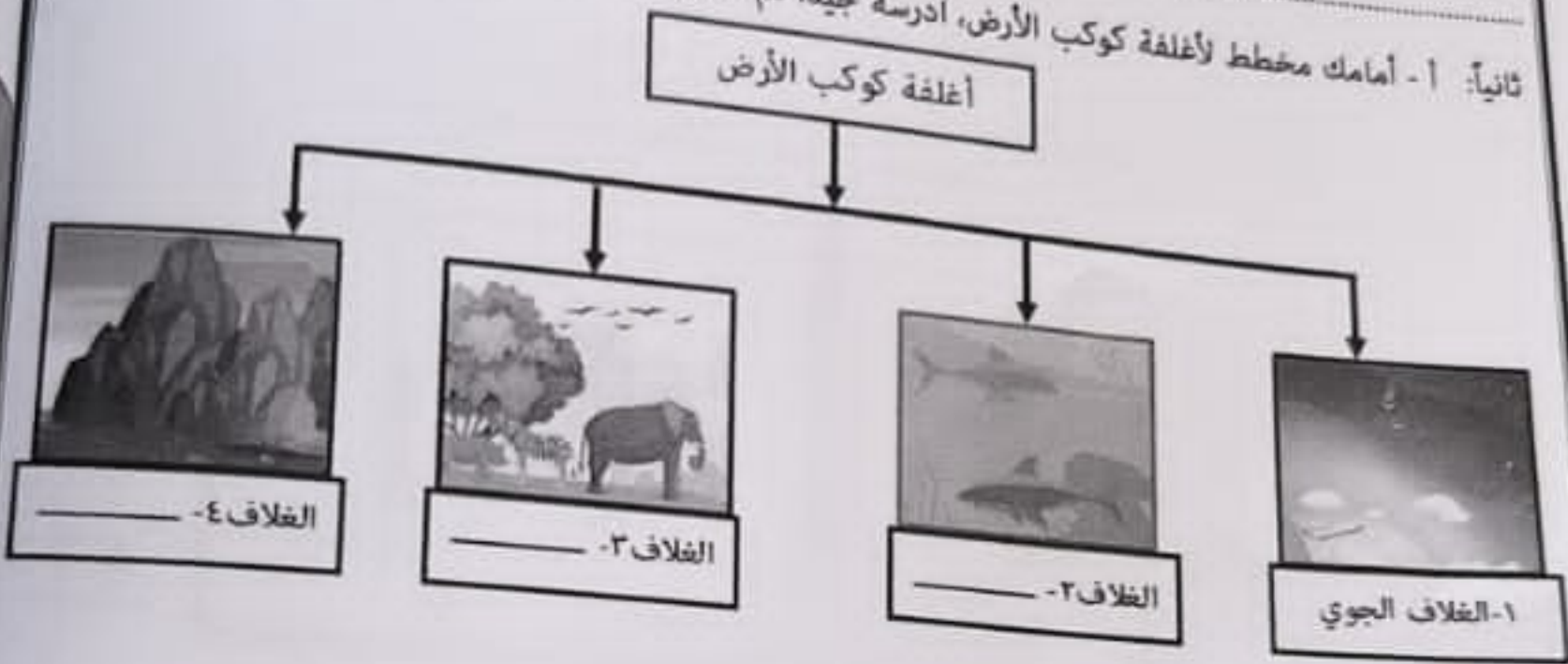
السؤال الثالث:

أولاً: اذكر:

أ - المدينة التي كانت ميناء اقتصادي رئيسي بجنوب عُمان عند ظهور الإسلام.

ب - الولاية العُمانية التي يقع فيها سد وادي ضيقة.

ثانياً: ١ - أمامك مخطط لأغلفة كوكب الأرض، ادرسه جيداً ثم أكمل ما تمثله الأرقام (٤، ٣، ٢):



ب - علّل: تمتص جذور النباتات المعادن الموجودة في التربة.

ثالثاً: انسب الأعمال في الجدول إلى الشخصيات التي قامت بها:

(مسلية بن هزان الحداني - المهلب بن أبي صفرة)

م	الأعمال	الشخصية
أ	تولى قيادة عدة جيوش في عهد الدولة الإسلامية.
ب	ترأس الوفد العُماني لرؤية الرسول محمد (ﷺ).



يتبع /

أدوار المسجد في عهد الرسول محمد (ﷺ).

من الأنشطة الاقتصادية التي ازدهرت بالمدن الخُمالية في عهد الرسول محمد (ﷺ)

بعض صور تمثل بعض المشكلات البيئية الناجمة عن الممارسات الخاطئة ، اكتب أسفل كل صورة المشكلة التي تمثلها:

(الأمطار الحمضية - الانهيارات الأرضية)



ب-.....



أ-.....



رسم الشكل المقابل، ثم أجب عن الأسئلة الآتية:
 ما كوكب الزهرة في المجموعة الشمسية ؟

رتب من الشكل أكبر كواكب المجموعة الشمسية.

٦



السؤال الخامس:

أولاً: أدرس الخريطة الآتية، ثم أجب عن

الأسئلة التي تليها:

- أ- ارسم دائرة على موقع عاصمة الدولة الإسلامية.
- ب- أكمل بالرسم خط سير رحلة عمرو بن العاص إلى عُمان.
- ج- اكتب اسم الخليج العربي في موقعه الصحيح.

ثانياً: اقرأ النص التالي، ثم اجب عن الأسئلة التي تليه:

إنّ ممّا نفخر به، أنّ المواطنين والمقيمين على أرض عُمان العزيزة يعيشون بفضل الله في ظل دولة القانون والمؤسسات. دولة تقوم على مبادئ الحرية والمساواة وتكافؤ الفرص، قوامها العدل، كرامة الأفراد وحقوقهم وحرّياتهم فيها مصادرةً، بما في ذلك حرية التعبير التي كفلها النظام الأساسي للدولة.

أ- من قائل هذا النص؟

.....

ب- استخرج من النص اثنين من مبادئ حقوق الإنسان في وطننا الغالي عُمان.

.....

.....

ج- ضع خط تحت المفهوم الذي يعتبر الوثيقة الرسمية التي تعرّف بالدولة، ونظام الحكم فيها.

٦

"انتهت الأسئلة مع الدعاء لجميع الطلبة بالتوفيق والنجاح"