

تم تحميل هذا الملف من موقع المناهج العمانية



الملف أجوبة المذكرة الإثرائية والأسئلة الاختبارية في الوحدة الأولى (جغرافية الوطن العربي البشرية)

[موقع المناهج](#) ← [المناهج العمانية](#) ← [الصف الخامس](#) ← [اجتماعيات](#) ← [الفصل الثاني](#)

روابط مواقع التواصل الاجتماعي بحسب الصف الخامس



روابط مواد الصف الخامس على تلغرام

[الرياضيات](#)

[اللغة الانجليزية](#)

[اللغة العربية](#)

[التربية الاسلامية](#)


المزيد من الملفات بحسب الصف الخامس والمادة اجتماعيات في الفصل الثاني

امتحان وإجابة الأسئلة الرسمية للفصل الدراسي الثاني الدور الثاني 2017/2016	1
امتحان وإجابة الأسئلة الرسمية للفصل الدراسي الثاني الدور الأول 2017/2016	2
امتحان وإجابة الأسئلة الرسمية في محافظة جنوب الشرقية للفصل الدراسي الثاني الدور الأول 2015/2016	3
امتحان وإجابة الأسئلة الرسمية في محافظة شمال الباطنة للفصل الدراسي الثاني الدور الثاني 2015/2016	4

المزيد من الملفات بحسب الصف الخامس والمادة اجتماعيات في الفصل الثاني

[امتحان وإجابة الأسئلة الرسمية في محافظة جنوب الباطنة للفصل
الدراسي الثاني الدور الأول 2015/2016](#)

5



الصف الخامس

الدراسات الاجتماعية

2021-2022

مذكرة إثرائية

سؤال وجواب

الفصل الدراسي الثاني

الوحدة الأولى

(جغرافية الوطن العربي البشرية)

محتوى الوحدة الأولى

١- مصادر الطاقة في الوطن العربي

٢- الأنشطة الاقتصادية في الوطن العربي

للتواصل :

99493923

اعداد :

علي بن محمد الحسان

Ali 47536@moe.om

” مصادر الطاقة في الوطن العربي ”**السؤال الأول : ضع علامة (✓) أو (X) أمام العبارة المناسبة مع تصحيح ما تحته خط إذا كانت العبارة خطأ :**

- ١- (✓) الطاقة عنصر مهم في إحداث التقدم الحضاري وهي في كل مكان حولنا .
 ٢- (X) تقع ولاية شليم وجزر الحلايبات في محافظة الوسطى . ظفار
 ٣- (X) من أهم مصادر الطاقة الغير متجددة في الوطن العربي مصدر الفحم الحجري . النفط

السؤال الثاني : أكمل ما يلي بكلمات مناسبة من عندك :

- ١- تنقسم الطاقة إلى نوعين مصادر متجددة ومصادر غير متجددة .
 ٢- نفذت وزارة التربية والتعليم بالتعاون مع شركة شل للتنمية مشروعاً للطاقة الشمسية .
 ٣- أكبر الدول العربية إنتاجاً للنفط عام ٢٠١٦ كانت السعودية .

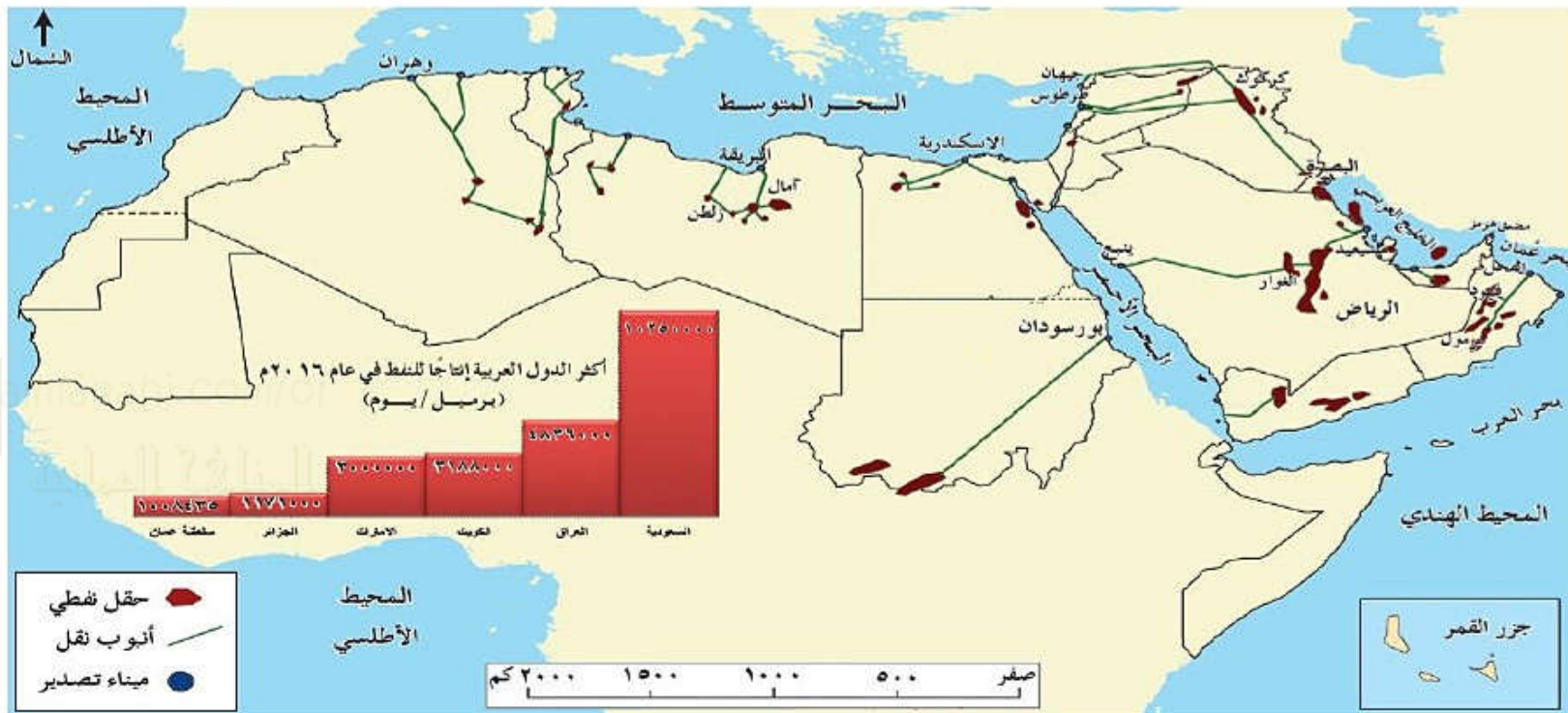
السؤال الثالث : ظلل الإجابة الصحيحة من بين البدائل المعطاه :

- ١- تتصدر دولة ... الدول العربية في إنتاج الغاز الطبيعي .
 سلطنة عمان قطر الكويت
- ٢- يعد ... من مصادر الطاقة المهمة في الوطن العربي نظراً لتوفره بكميات كبيرة .
 النفط الطاقة الشمسية الغاز الطبيعي
- ٣- يعتبر مشروع حقل ... في محافظة الظاهرة من أكبر مشاريع إنتاج الغاز الطبيعي في سلطنة عمان .
 خزان وهران ميزان
- ٤- يعتبر مشروع بولاية شليم وجزر الحلايبات من المشاريع القائمة على الطاقة المتجددة .
 شمس نور مرآه

السؤال الرابع : علل ما يلي " أذكر السبب " :

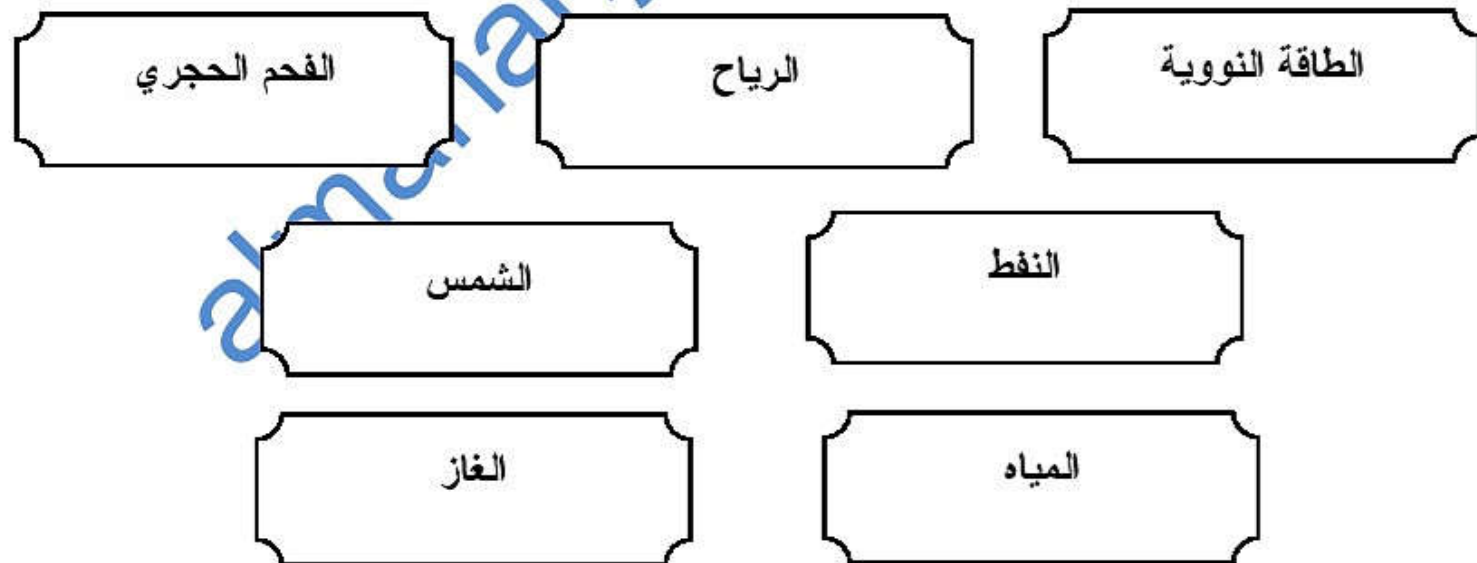
- س ١ : تسمية الطاقة غير المتجددة بهذا الاسم ؟
 ج ١ : لأنها توجد في الطبيعة بكميات محدودة فإذا نضبت لا يمكن تجديدها .
- س ٢ : يعد الوطن العربي من المواقع الملائمة لإقامة مشاريع من الطاقة الشمسية ؟
 ج ٢ : لأن الوطن العربي يقع ضمن المنطقة الحارة على خط الاستواء

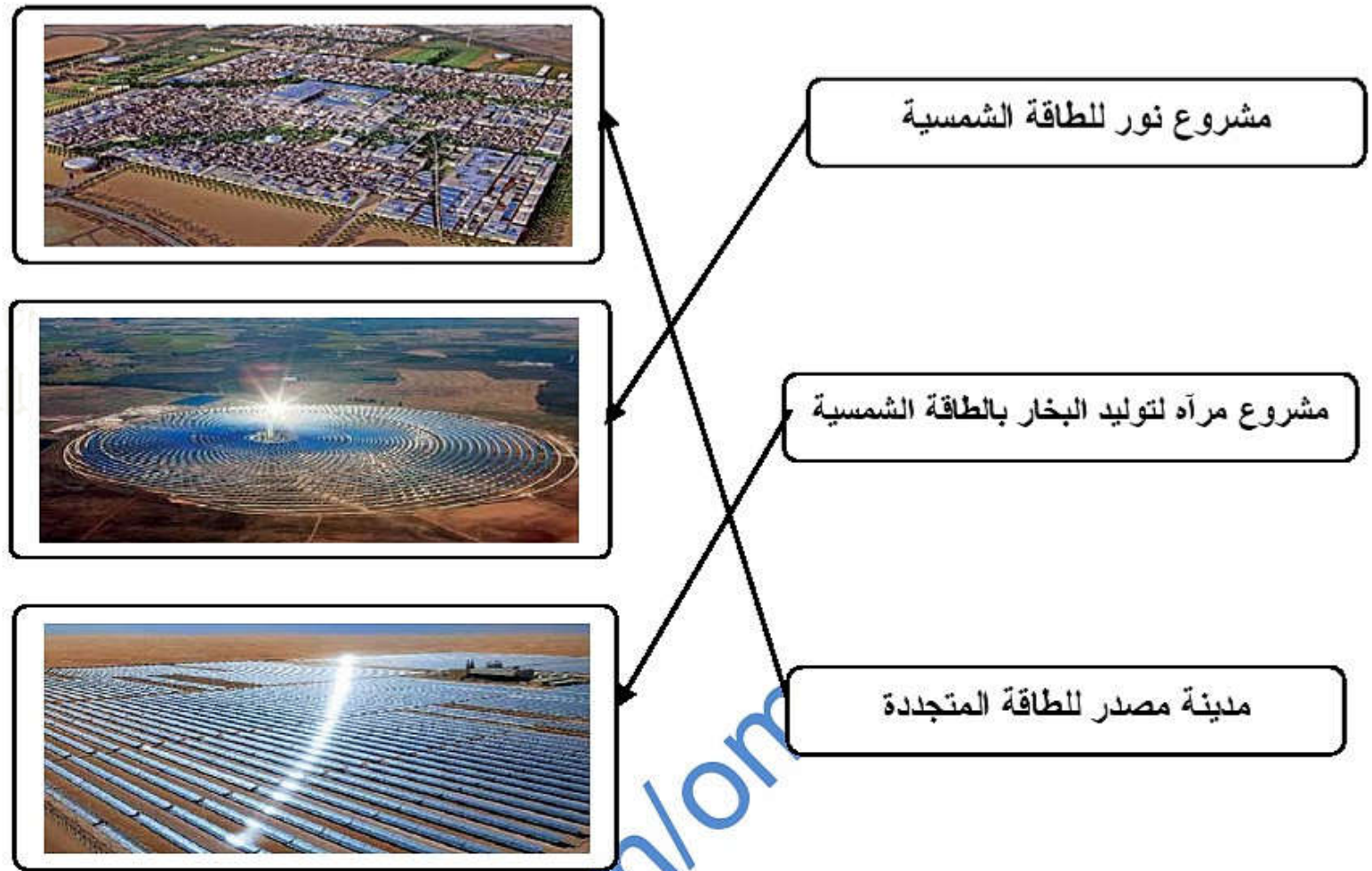
السؤال الخامس : من خلال الخريطة التي امامك اكمل الجدول التالي :



الدولة	حقول النفط	موانئ تصدير نفط
سلطنة عمان	فهود - مرمول	ميناء الفحل
العراق	كركوك	ميناء البصرة
ليبيا	أمال - زلطن	البريقة

السؤال السادس : أكمل الشكل التالي بكتابة مصادر الطاقة:



السؤال السابع : صل بخط بين اسم المشروع وصورته :**السؤال الثامن : أجب عن الأسئلة التالية :**

س ١ : عرف الطاقة ؟

ج ١ : هي القوة المحركة للأشياء .

س ٢ : ما الفرق بين الطاقة المتجددة والطاقة غير المتجددة ؟

ج ٢ : - الطاقة المتجددة : هي مصادر الطاقة التي لا تنضب وتتجدد تلقائياً في الطبيعة .
 - الطاقة غير المتجددة : هي التي توجد في الطبيعة بكميات محدودة فإذا نضبت لا يمكن تجديدها .

س ٣ : " للغاز الطبيعي عدة استخدامات " اذكر ثلاث منها ؟

ج ٣ : ١- توليد الطاقة الكهربائية .
 ٢- تشغيل محطات تحلية مياه البحر .
 ٣- تعتبر مادة خام لبعض الصناعات .
 ٤- يعتبر وقود للطبخ والتدفئة .

درس : " الأنشطة الاقتصادية في الوطن العربي "**السؤال الأول : ضع علامة (✓) أو (✗) أمام العبارة المناسبة مع تصحيح ما تحته خط إذا كانت العبارة خطأ :**

- ١- (✗) عرف السكان في الوطن العربي الزراعة منذ القدم على ضفاف البحار . الأنهار
- ٢- (✗) في إطار اهتمام السلطنة بالزراعة فقد وجه جلالة السلطان قابوس "طيب الله ثراه" بتنفيذ مشروع الألف نخله عام ٢٠٠٩ . مليون
- ٣- (✓) يقصد بالمواد الخام هي المواد الطبيعية (زراعية أو حيوانية أو معدنية) غير مصنعة وقابلة للتصنيع .
- ٤- (✗) يعتبر استخراج النفط والغاز والتنقيب عن المعادن من الصناعات التحويلية . الاستخراجية

السؤال الثاني : أكمل ما يلي بكلمات مناسبة من عندك :

- ١- من أهم الأنشطة الاقتصادية التي يمارسها السكان في الوطن العربي الزراعة والصناعة والسياحة .
- ٢- ينتج الوطن العربي العديد من المحاصيل الزراعية مثل الحبوب الغذائية والخضروات والفواكه .
- ٣- ساعد توفر النفط والغاز الطبيعي في الوطن العربي على قيام الصناعات الحديثة مثل البتروكيماويات والأسمدة والألمنيوم .
- ٤ - الصناعات القائمة على البتروكيماويات صناعة البلاستيك ومواد التنظيف .

السؤال الثالث : ظلل الإجابة الصحيحة من بين القوسين :

- ١- من أكثر المحاصيل الزراعية إنتاجاً في سلطنة عمان
- الطماطم ● التمر ○ الليمون
- ٢- يطلق على تغير شكل وطبيعة المواد الخام إلى شكل آخر تلبية لحاجات الإنسان اسم ...
- صناعة ○ زراعة ○ تجارة
- ٣- إنشأت السلطنة عدداً من المناطق الصناعية وتعد إحدى المناطق المهمة للاستثمار المحلي والعالمي .
- نزوى ○ صلالة ● صحار
- ٤- حركة الأفراد والجماعات من أماكن إقامتهم إلى أماكن أخرى بغرض أداء مهمة معينة أو زيارة مكان أو بغرض الترفيه .
- التجارة ● السياحة ○ الصناعة

السؤال الرابع : اختر من بين القوسين الصناعة المناسبة وضعها في مكانها الصحيح في الجدول التالي

- (صناعة المنسوجات الصوفية - صناعة الذهب - صناعة الألبان - صناعة السكر - صناعة الزيوت النباتية - صناعة الأسلاك الكهربائية)

معدنية	حيوانية	زراعية
صناعة الذهب	صناعة المنسوجات الصوفية	صناعة السكر
صناعة الاسلاك الكهربائية	صناعة الألبان	صناعة الزيوت النباتية

السؤال الخامس : صنف ما بين القوسين إلى صناعات استخراجية وصناعات تحويلية وضعها في الجدول التالي

(صيد الأسماك - صناعة البلاستيك - استخراج النفط والغاز - صناعة الزجاج - التنقيب عن المعادن -
تعليب الخضار والفواكه - صناعة الأثاث - استخراج اللؤلؤ)

**السؤال السادس : من خلال الجدول أجب عن الأسئلة التالية :**

الإنتاج بالآلاف طن (عام ٢٠١٤)					الدولة
الليمون	التمور	الطماطم	البطاطس	القمح	
٦	٣١٧	٧٥	٥	٣	سلطنة عمان
٢٦	١٠	٥٩٤	٣٦٦	٣٩	الأردن
٢٥٥	٤٤٦	٥٦٧	٣٤٧	١٩٢	السودان
٤٤	١٩٥	١٢٠٠	٣٨٥	١٥١٣	تونس

- ١- أكثر المحاصيل الزراعية إنتاجاً في سلطنة عمان هي التمور وأقلها القمح .
- ٢- أكثر الدول العربية إنتاجاً للقمح هي تونس و الليمان السودان .
- ٣- أقل الدول العربية إنتاجاً للبطاطس هي سلطنة عمان و التمور الأردن .
- ٤- ما عدد الأطنان للمحاصيل في الدول التالية : السودان (الطماطم) ٥٦٧ والأردن (البطاطس) ٣٦٦ تونس (الليمان) ٤٤ .

السؤال السابع : " ساعدت عدة عوامل في تنوع الأنشطة الاقتصادية التي يمارسها السكان في الوطن العربي " أذكر أهم ثلاث عوامل

العوامل الطبيعية	المناخ	الموقع الجغرافي
------------------	--------	-----------------

السؤال الثامن : أجب عن الأسئلة التالية :

س ١ : تعد الزراعة من الأنشطة الاقتصادية المهمة في الوطن العربي وذلك لعدة أسباب " أذكر ثلاث من هذه الأسباب ؟

- ج ١ : ١- أنها مصدر رئيسي للغذاء .
 ٢- مصدر مهم للدخل الوطني ,
 ٣- توفر فرص عمل للسكان .
 ٤- توفر المواد الخام اللازمة للصناعة

س ٢ : تعد الصناعة من الأنشطة الاقتصادية المهمة في الوطن العربي " لماذا ؟

ج ٢ : لأن الصناعة تعتبر مصدر مهم للدخل ويتوفر فرص عمل للسكان .

س ٣ : " اهتمت دول الوطن العربية بتطوير قطاع الصناعات الغذائية التي تعتمد على الزراعة " أذكر ثلاث من هذه الصناعات ؟

ج ٣ : ١- الالبان ومشتقاتها ٢- تكرير السكر ٣- تعليب الخضروات والفواكه ٤- استخراج الزيوت النباتية ٥- تغليف التمور

س ٤ : " تعد السياحة من الأنشطة الاقتصادية المهمة في الوطن العربي " وضح ذلك ؟

ج ٤ : ١- لأنها تشكل مصدراً مهماً للدخل .
 ٢- توفر فرص عمل لعدد كبير من السكان ,
 ٣- تنمي العلاقات والتبادل الثقافي بين الشعوب .

س ٥ : " هناك عدة عوامل للجذب السياحي في الوطن العربي " أذكر ثلاث من هذه العوامل ؟

ج ٥ : ١- تنوع المناخ
 ٢- المحميات الطبيعية
 ٣- الخدمات السياحية
 ٤- المواقع الأثرية

س ٦ : " اهتمت الدول العربية بالسياحة حيث أنشأت الخدمات السياحية وتطويرها " أذكر ثلاث من هذه الخدمات ؟

ج ٦ : ١- وفرت وسائل النقل
 ٢- أنشأت الفنادق والمطاعم
 ٣- إقامة المهرجانات المختلفة .
 ٤- إقامة المعارض
 ٥- أنشأت المنتزهات

س ٧ : " تزخر سلطنة عمان بمقومات سياحية عديدة جعلتها وجهة سياحية مهمة " وضح ذلك ؟

ج ٧ : تتميز السلطنة بتنوع مناخها وبيئاتها الطبيعية كالجبال والصحاري والشواطئ والكهوف والأودية كذلك تتميز بقلاعها وحصونها وأسواقها الشاهدة على تاريخها العريق .