

## شكراً لتحميلك هذا الملف من موقع المناهج العمانية



## سؤال قصير أول نموذج ثاني

[موقع المناهج](#) ← [المناهج العمانية](#) ← [الصف الخامس](#) ← [رياضيات](#) ← [الفصل الثاني](#) ← [الملف](#)

## التواصل الاجتماعي بحسب الصف الخامس



## روابط مواد الصف الخامس على تلغرام

[الرياضيات](#)

[اللغة الانجليزية](#)

[اللغة العربية](#)

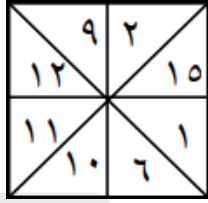
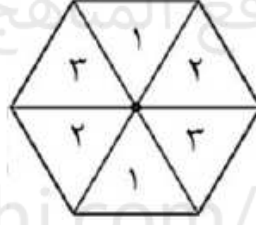
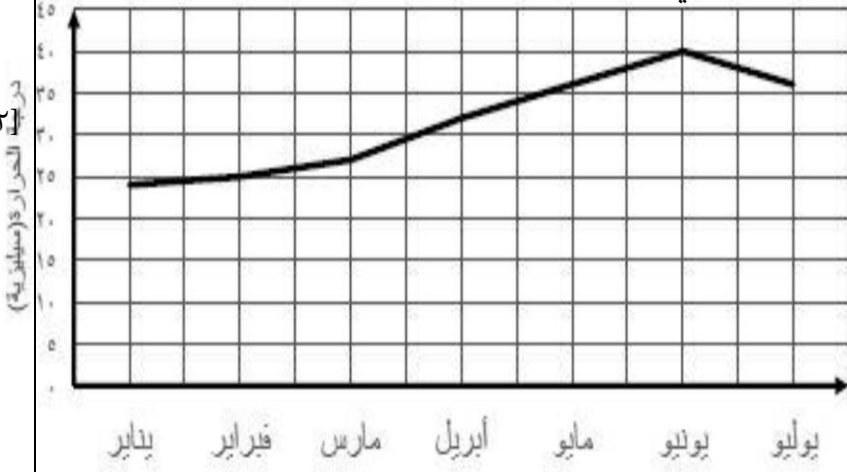
[التربية الاسلامية](#)

## المزيد من الملفات بحسب الصف الخامس والمادة رياضيات في الفصل الثاني

<a href="#">الاختبار النهائي الرسمي في محافظة شمال الباطنة مسائي</a>	1
<a href="#">نموذج إجابة الامتحان النهائي الرسمي بمحافظة جنوب الباطنة</a>	2
<a href="#">نموذج إجابة الامتحان الرسمي النهائي الفترة الصباحية</a>	3
<a href="#">الاختبار النهائي الرسمي في محافظة شمال الشرقية</a>	4
<a href="#">الاختبار النهائي الرسمي في محافظة مسقط</a>	5

الصف الخامس .....

الاسم / .....

الدرجة	المفردة	٤
[١]	 <p>حوط على احتمال ظهور عدد من مضاعفات ٣ في الدوار المقابل</p>	١
	<p>مؤكد      مرجح      متساو      غير مرجح      مستحيل</p>	
[١]	 <p>عند تدوير القرص المقابل</p> <p>أ) اكتب احتمال الحصول على الرقم ٥</p> <p>ب) قالت سعاد "من المرجح الحصول على عدد فردي عند تدوير القرص"</p> <p>اشرح لماذا هي على صواب</p>	٢
[١]		
[٢]	 <p>يعرض الرسم البياني تغيرات درجة الحرارة في محافظة مسقط</p> <p>أ) اكتب درجة الحرارة في شهر فبراير</p> <p>ب) اكتب أعلى شهر في درجة الحرارة</p>	٣
	<p>س ° _____</p> <p>_____</p>	