

شكراً لتحميلك هذا الملف من موقع المناهج العمانية



ملخص الوجدتين الأولى والثانية من الفصل الأول

[موقع المناهج](#) ⇨ [المناهج العمانية](#) ⇨ [الصف الخامس](#) ⇨ [اجتماعيات](#) ⇨ [الفصل الأول](#) ⇨ [الملف](#)

تاريخ نشر الملف على موقع المناهج: 11-11-2022 08:26:14 | اسم المدرس: منى العمري

التواصل الاجتماعي بحسب الصف الخامس



روابط مواد الصف الخامس على تلغرام

[الرياضيات](#)

[اللغة الانجليزية](#)

[اللغة العربية](#)

[التربية الاسلامية](#)

المزيد من الملفات بحسب الصف الخامس والمادة اجتماعيات في الفصل الأول

[نموذج امتحان نهاية الدور الأول نسخة جديدة](#)

1

[نموذج امتحان نهاية الدور الأول نسخة جديدة](#)

2

[أسئلة الاختبار الرسمي مسقط](#)

3

[أسئلة الاختبار الرسمي جنوب الشرقية](#)

4

[أسئلة الاختبار الرسمي الداخلية](#)

5

رسملة فخر التفوح

الدراسات الاجتماعية



سَلْطَنَةُ عُمَانِ
وَزَارَةُ التَّحْرِيقِ وَالتَّعْلِيمِ
المدرسة العامة للتربية والتعليم بمحافظة ظفار
مدرسة طوي أعتبر للتعليم الأساسي (5-12) بنات

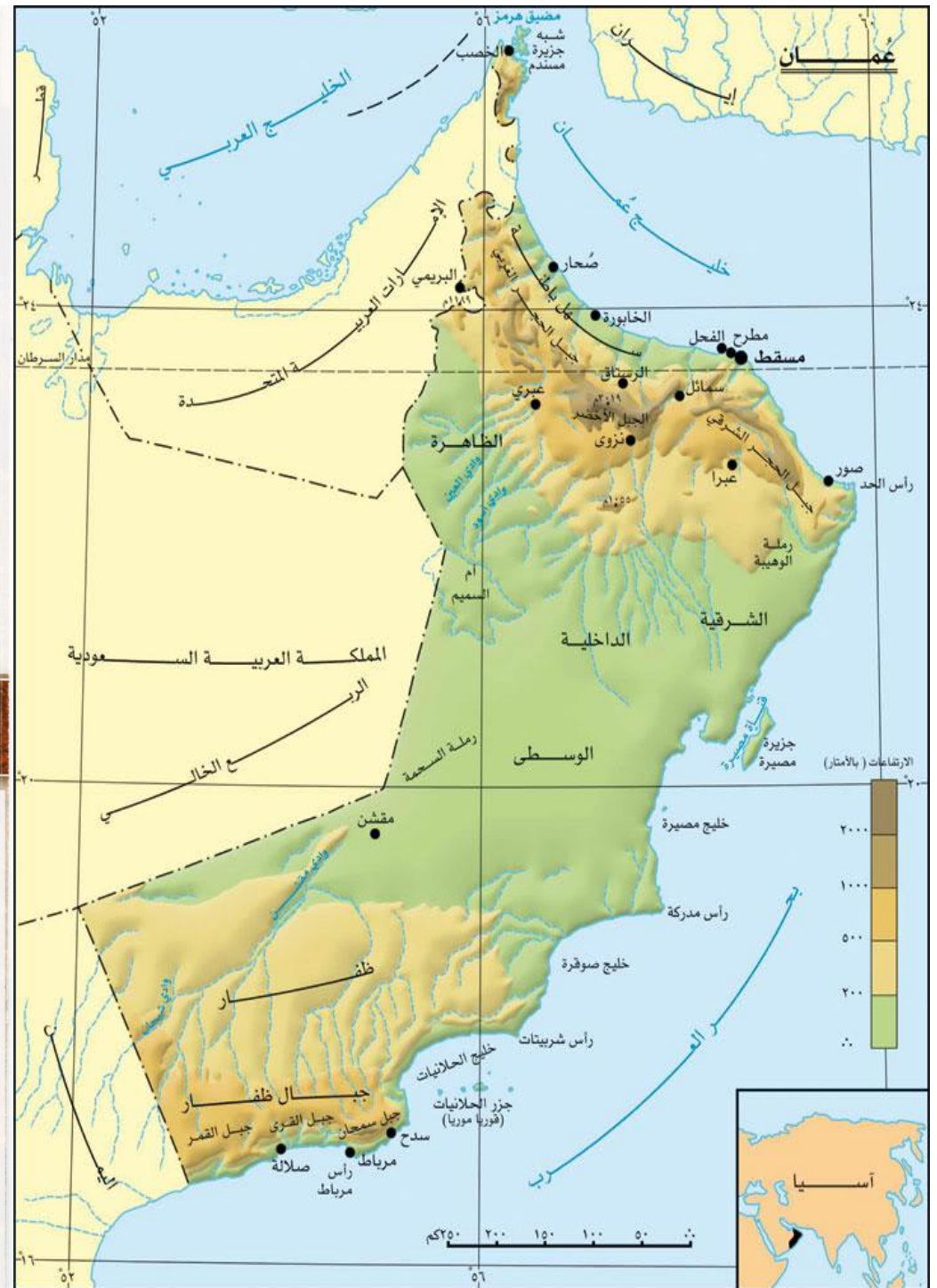
الفصل الدراسي الأول

الصف الخامس

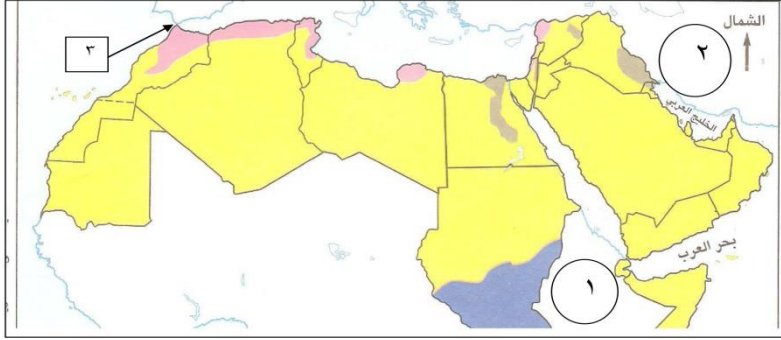
إعداد: أ. منى بنت أحمد بن سعيد العمري

اسم الطالبة:

الصف:

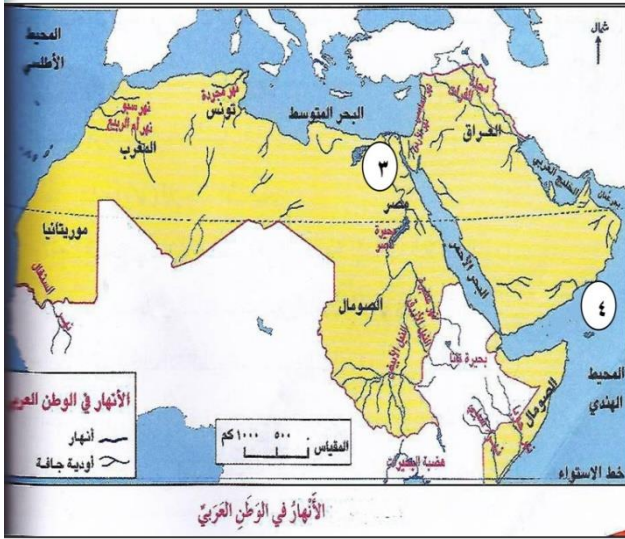


. أمامك خريطة الوطن العربي ادرسها جيدا ثم اجب عن الأسئلة التي تليها :




- ١ - سمي المضيق المشار إليه بالرقم (٣) ؟
- ٢ - ظلل موقع جبال حجر عمان على الخريطة ؟
- ٣ - استخدم الرمز بين القوسين (•) في تحديد موقع المدينة التي دخلها المسلمون في عام ٨ هجري؟
- ٤ - ما الرقم الذي يشير الى الامبراطورية الفارسية في الخريطة ؟

انظر إلى الخريطة التي أمامك ثم اجب عن الأسئلة التالية :-




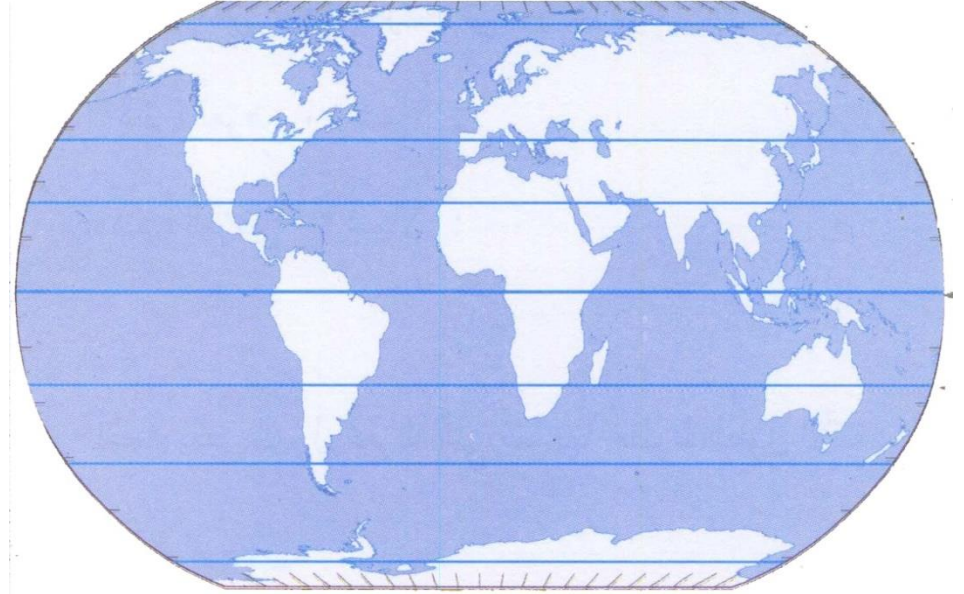
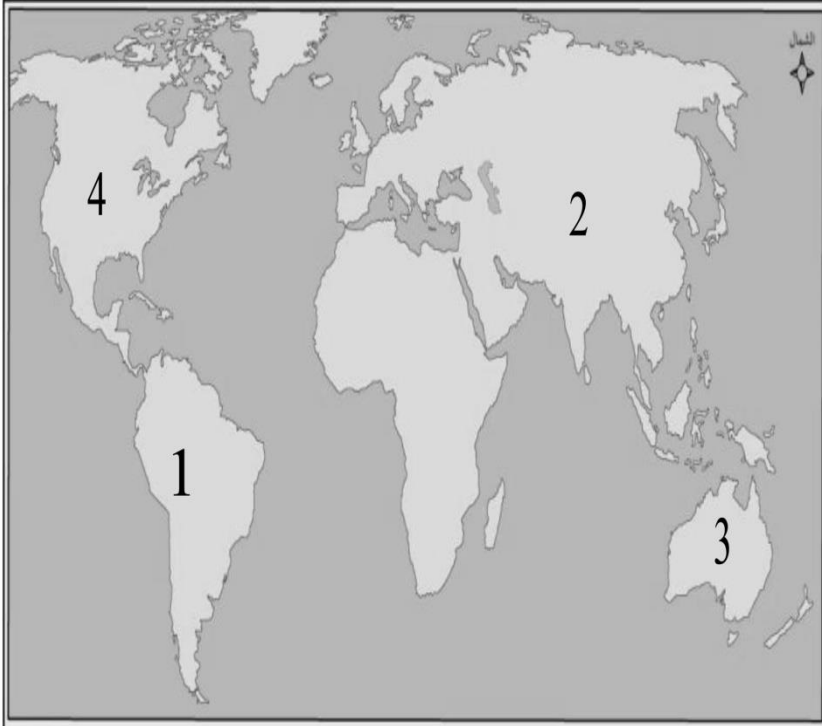
- ١- الرقم (٣) يمثل نهر (.....)
- ٢- يقع نهري دجلة والفرات في دولة (.....)
- ٣- يشير الرقم (٤) إلى المسطح المائي (بحر.....)



أمامك خريطة العالم موضح عليها دوائر العرض أكتب دوائر العرض التالية في المكان المناسب

(القطب الشمالي - الدائرة القطبية الشمالية - مدار السرطان - دائرة الاستواء - مدار الجدي - الدائرة القطبية الجنوبية - القطب الجنوبي)

٢- تأمل الخريطة التي أمامك جيدا ثم اجب عن الأسئلة التي تليها :



أ/ ظلل على الخريطة موقع الصحراء الكبرى بالرمز

ب/ أذكر اسم السلسلة الجبلية الموجودة في القارة المشار إليها بالرقم (١) .

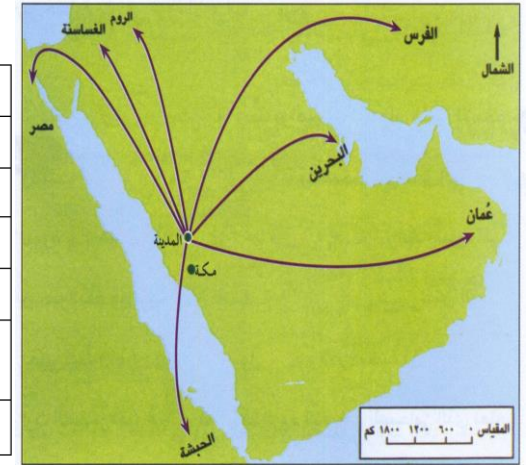
ج/ اكتب الرقم الذي يشير إلى القارة التي توجد بها سلسلة جبال روكي (.....)

د/ اكتب الرقم الذي يشير إلى القارة التي توجد بها الصحراء الاسترالية (.....)

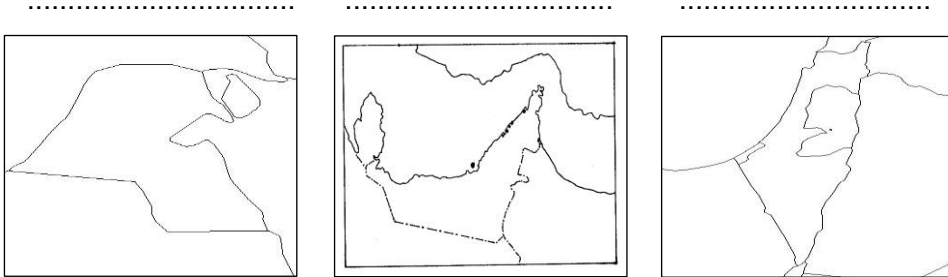
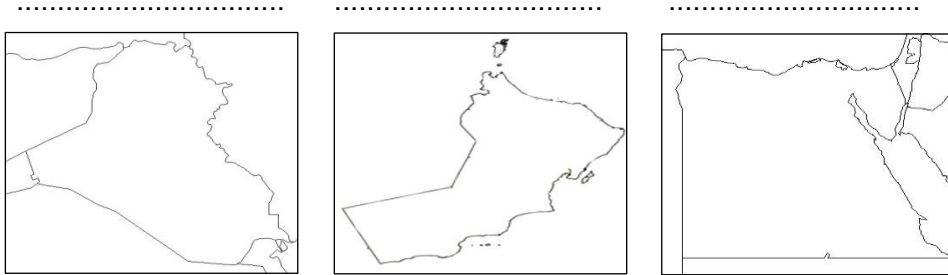
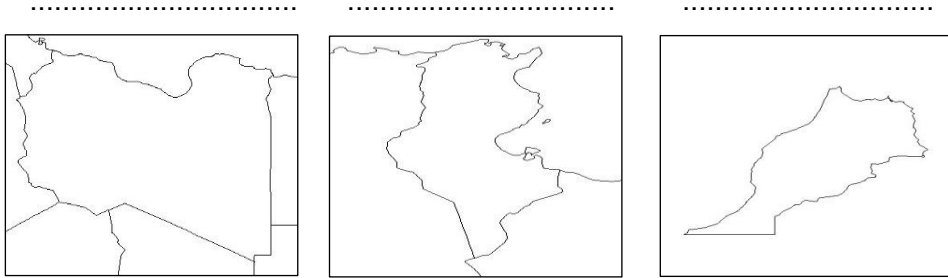
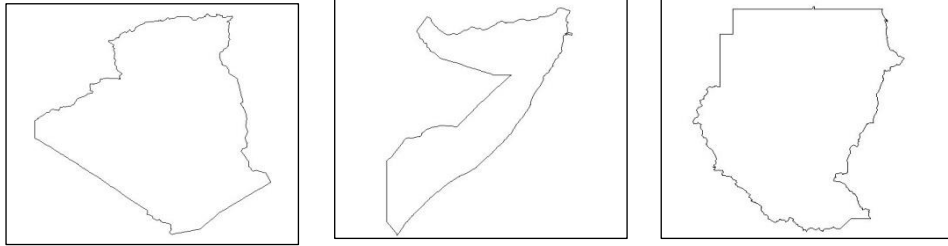
ادرسى الخريطة التي أمامك ثم اجيبى عما يليها :

اكملى الجدول التالي :

الدولة	الحاكم
	هرقل
	كسرى
	النجاشي
	الحارث الغساني
	عبد وجيفر ابني الجندي
	المقوقس



أمامك مجموعة من خرائط لعدد من الدول العربية اكتبى أسماء الدول في المكان المناسب :



ادرسى الخريطة التي أمامك ثم اجيبى عما يليها :

-عدد اشهر المدن والأمصار في عهد الدولة الإسلامية ؟

.....

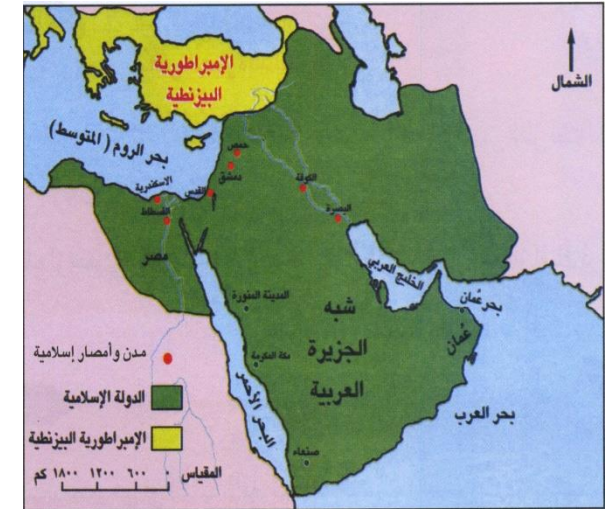
.....

.....

.....

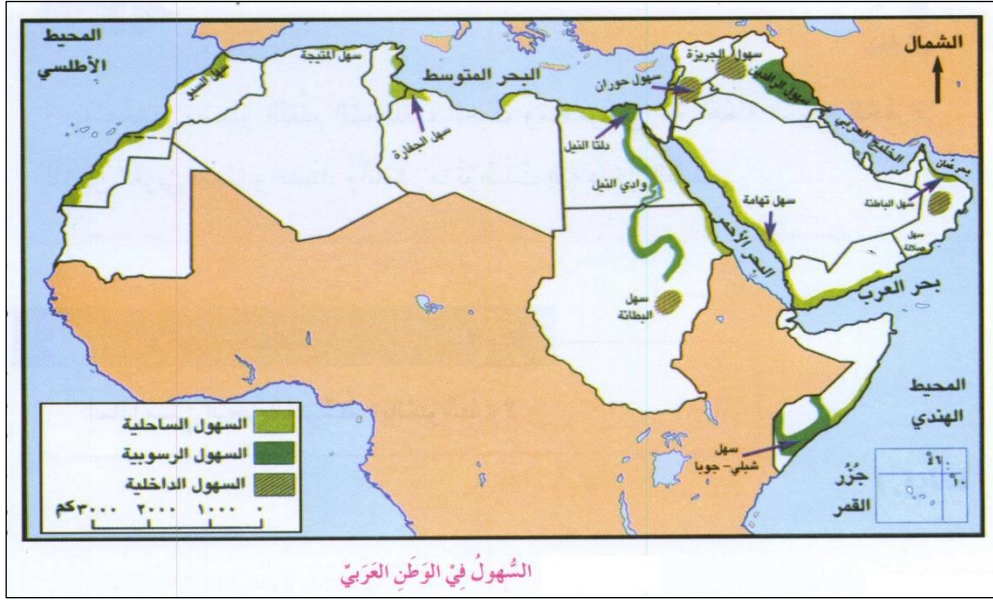
.....

.....



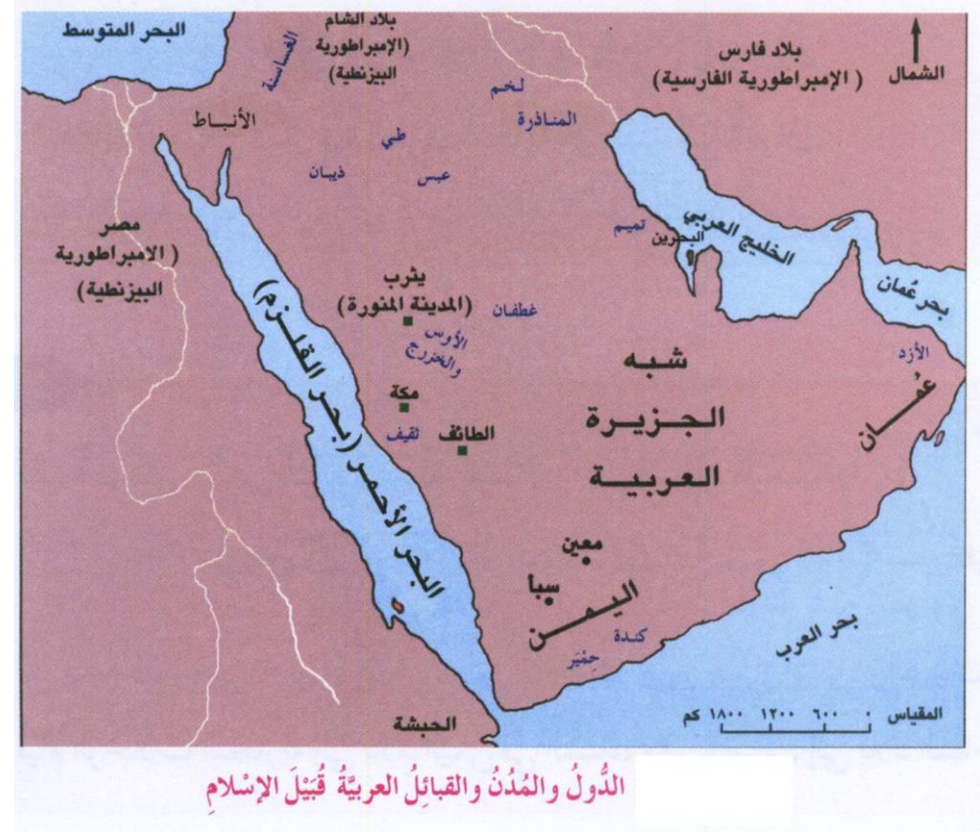
ادرسى الخريطة التي أمامك ثم اجيبي عما يليها :

بعد دراستك لخريطة السهول في الوطن العربي عما يليها :



١- قارني بين أنواع السهول كما في الجدول التالي "بوضع علامة (√) أمام نوع السهل المذكور:

أسماء السهول	الرسوبية (الفيضية)	السهول الساحلية	السهول الداخلية
سهل الباطنة			
سهل صلالة			
سهل تهامة			
سهل حوران			
سهول الجزيرة			
سهول الرافدين			
دلتا النيل			
وادي النيل			
سهل البطانة			
سهل الجفارة			
سهل المتيجة			
سهل السبو			
سهل شبلي-جوبا			



١- عددي القبائل العربية قبيل ظهور الإسلام ؟

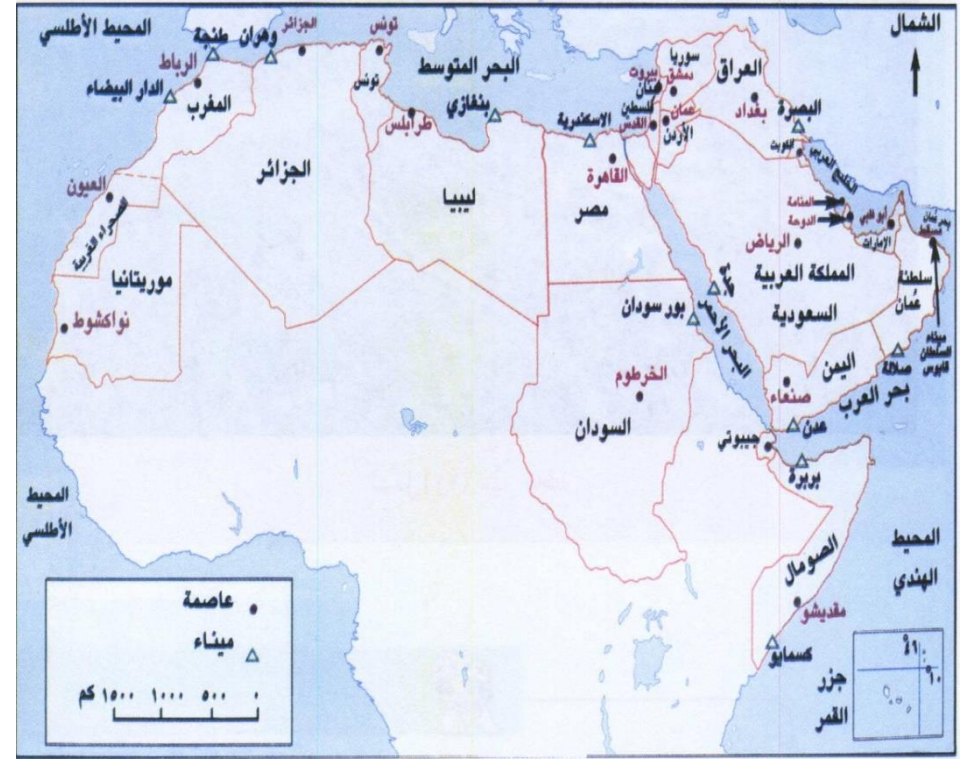
.....

.....

٢- ما القبيلة التي سكنت عمان قبل الإسلام ؟

.....

ضعي دائرة ○ على عواصم الدول العربية الموضحة في الخريطة التي أمامك:



ادرسي الخريطة التي أمامك ثم اجبيني عما يليها :



طُرُقُ التَّجَارَةِ فِي شِبْهِ الْجَزِيرَةِ الْعَرَبِيَّةِ قَدِيمًا

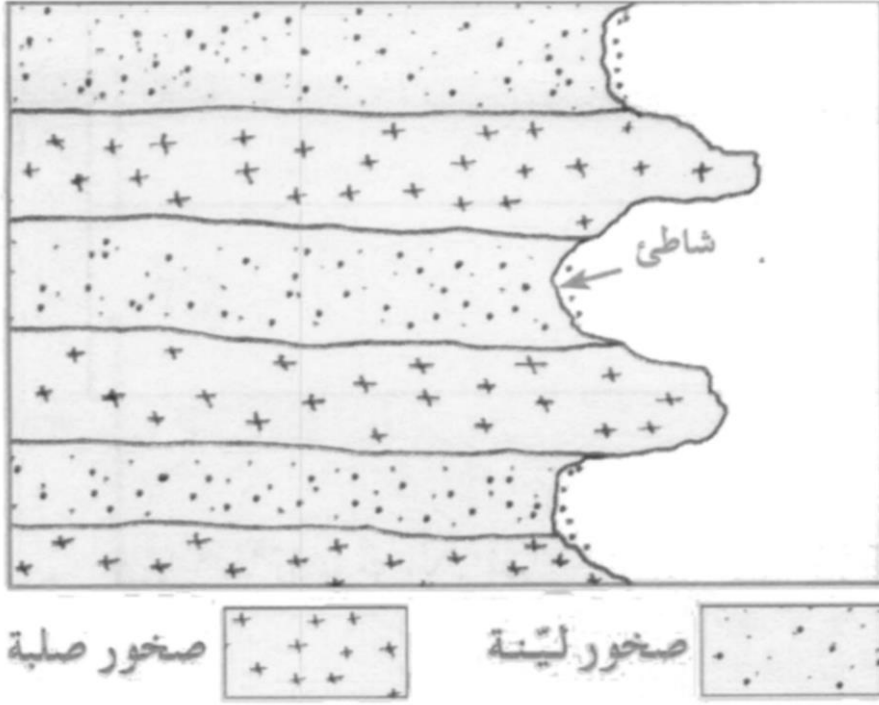
بعد دراستك للخريطة اكتبني أمام كل رمز الدلالة عليه في الجدول التالي:

الجدول التالي:


الرمز	الدلالة
▲	
●	

- ١- ضعي دائرة حول مكة المكرمة
- ٢- ما اسم الرحلتان المشهورتان التي اشتهرت بها مكة ؟
.....
- ٣- عددي المدن التي ازدهرت لوقوعها على طريق القوافل التجارية ؟
.....
.....
.....

اكتب (رأس - خليج) على الشكل الذي أمامك:

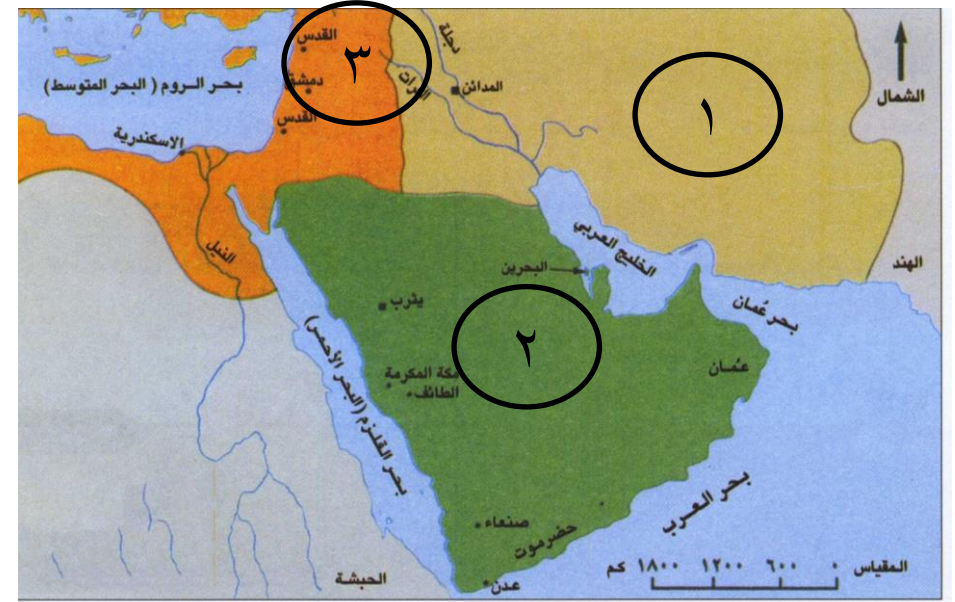


تعبّر الصورة التالية عن جبال صخرية تظهر عالية وقريبة من البحر اكتب الاسم الذي يطلق عليه:



.....

ادرس الخريطة التي أمامك ثم اجيب عما يليها:




شبه الجزيرة العربية والدول المحيطة بها قبل الإسلام.

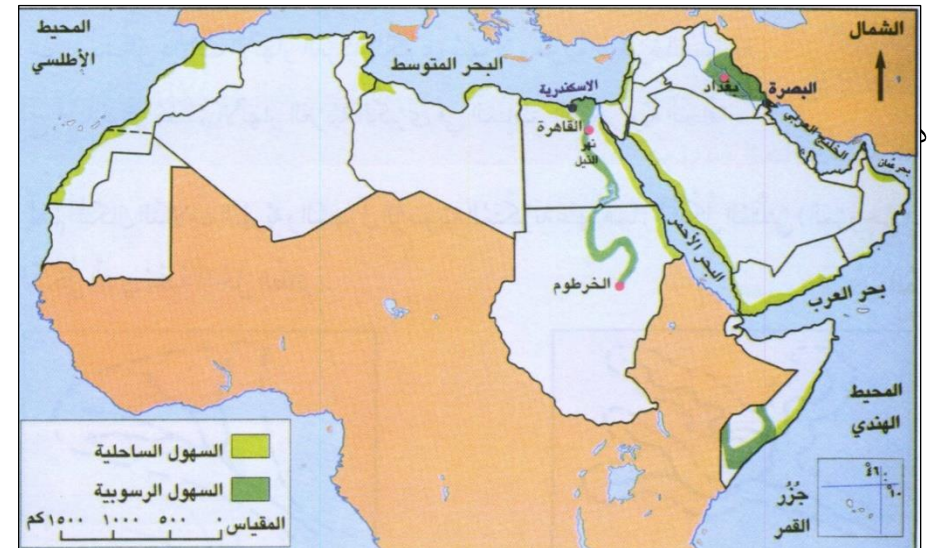
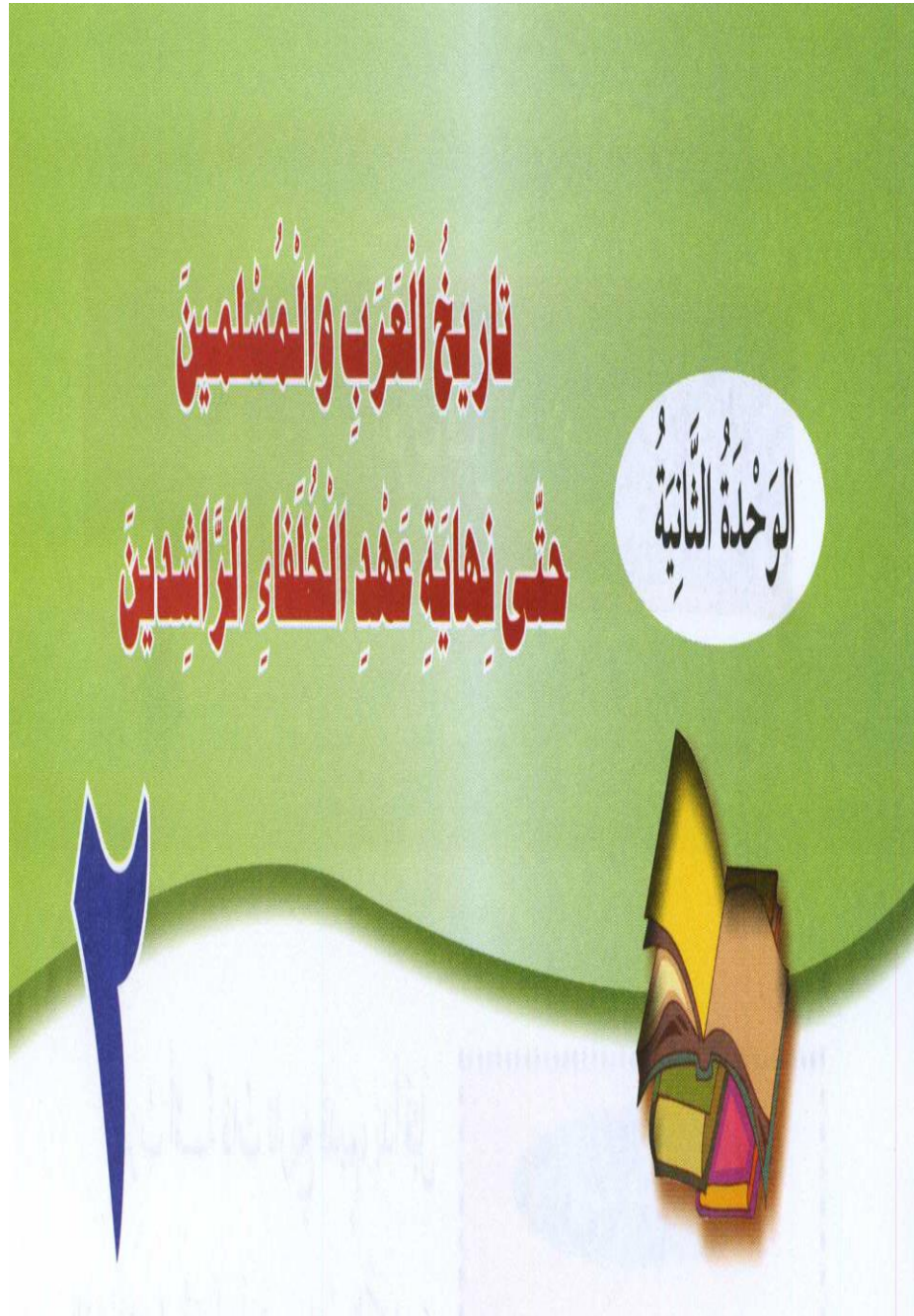
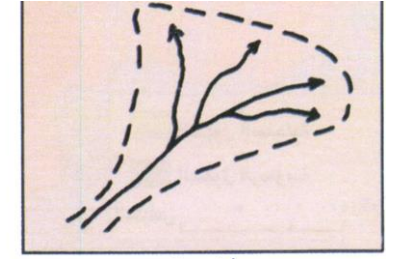
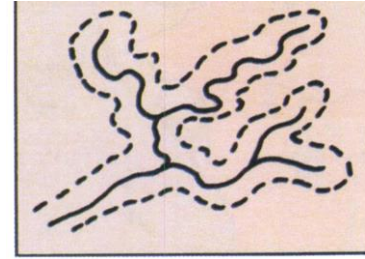
- ١- يشير الرقم (١) إلى الإمبراطورية
- ٢- يشير الرقم (٢) إلى
- ٣- يشير الرقم (٣) إلى الإمبراطورية

٤- يعرف السكان الموضحين في الصورة

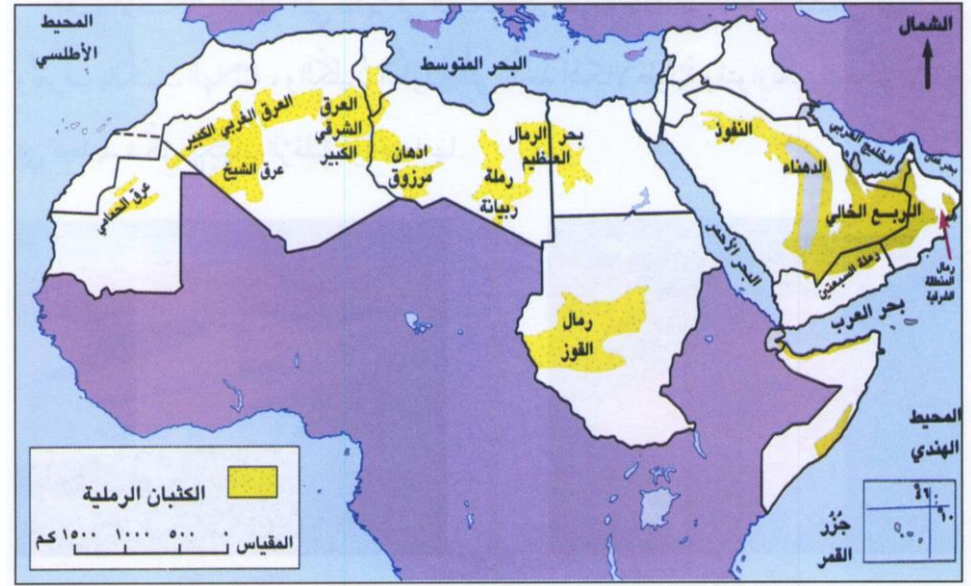
٥- الرقم الذي يشير إلى المنطقة التي يسكنون فيها



أمامك أشكال الدالات النهرية والسهول الرسوبية اكتبى لأماء الدالات تحت الشكل المناسب لها:



ادرسى الخريطة التي أمامك ثم اجيبى عما يليها:



١- عددي الدول التي تقع فيها الربع الخالي؟

.....

٢- عددي الكثبان الرملية التي توجد في سلطنة عمان؟

.....

٣- اذكرى الكثبان الرملية الموجودة في قارة أفريقيا؟

.....

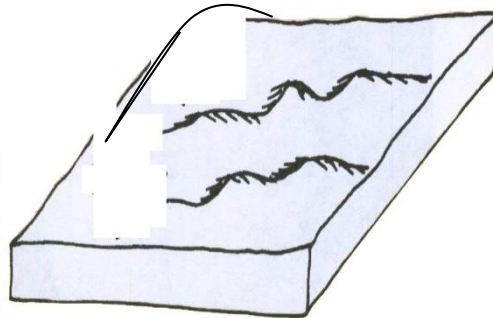

ادرسى الخرائط التي أمامك ثم اجيبى عما يليها :



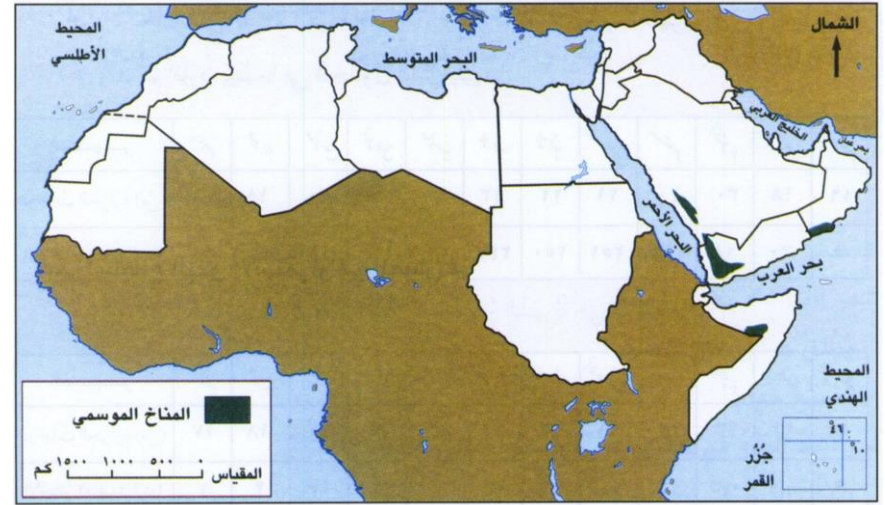
اكملى الجدول التالي:

الدول	أسماء الأنهار
العراق	
سوريا	
لبنان	
الأردن	
فلسطين	
مصر	
السودان	
تونس	
المغرب	
موريتانيا	
الصومال	

أمامك رسم مخطط سمي أنواع الكتبان الرملية مع توضيح ذلك برسم اسهم لاتجاه الرياح .



ادرسى الخرائط التي أمامك ثم اجيبى عما يليها :



١- "تأثر سلطنة عمان التي بالمناخ الموسمي" في ضوء العبارة

وضحي ما يلي:

- المحافظة التي تتأثر بالمناخ الموسمي

- يصل ذروة سقوط المطر في المحافظة بين شهري

٢- ماذا يطلق العمانيون على هذا الموسم

٣- ما النتائج المترتبة على هطول الأمطار صيفا ؟

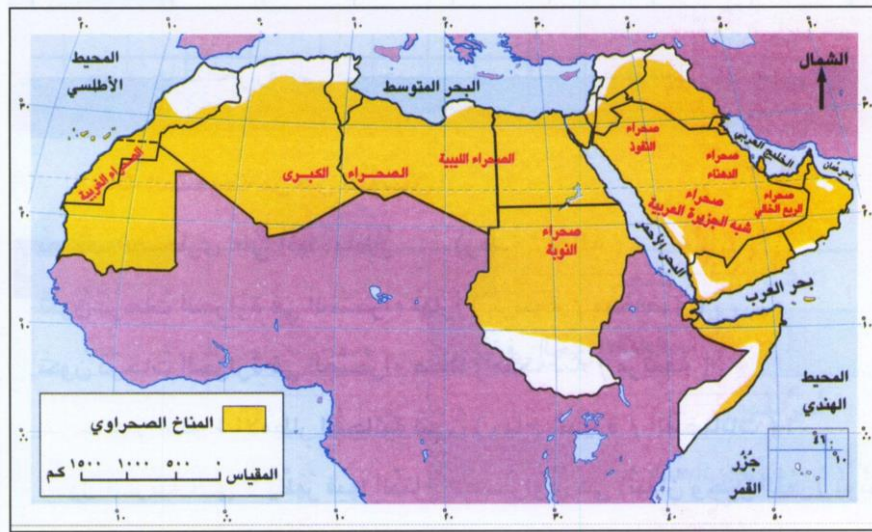
٤- عددي الدول العربية التي تتأثر بهذا المناخ ؟

ادرسى الخرائط التي أمامك ثم اجيبى عما يليها :



- ١- ما نوع المناخ المشار الية بالرقم (١)
- ٢- بماذا يتميز المناخ الموضح في الخريطة في المواسم التالية:
الشتاء.....
الربيع.....

ادرسى الخريطة التي أمامك ثم اجيبى عما يليها :



١- عللي: يسود المناخ الصحراوي الوطن العربي

٢- اكملى الجدول التالي :

الدولة	اسماء الصحراوي
	الربع الخالي
	الدهناء
	شبه الجزيرة العربية
	النفوذ
	النوبة
	الليبية
	الكبرى
	الغربية



١-قارنى بين درجات الحرارة للمدن التي يسود فيها مناخ البحر المتوسط والمدن الاخرى.