

تم تحميل هذا الملف من موقع المناهج العُمانية



\* للحصول على أوراق عمل لجميع الصفوف وجميع المواد اضغط هنا

<https://almanahj.com/om>

\* للحصول على أوراق عمل لجميع مواد الصف الخامس اضغط هنا

<https://almanahj.com/om/5>

\* للحصول على جميع أوراق الصف الخامس في مادة رياضيات ولجميع الفصول, اضغط هنا

<https://almanahj.com/om/5math>

\* للحصول على أوراق عمل لجميع مواد الصف الخامس في مادة رياضيات الخاصة بالفصل الثاني اضغط هنا

<https://almanahj.com/om/5math2>

\* لتحميل كتب جميع المواد في جميع الفصول للصف الخامس اضغط هنا

<https://almanahj.com/om/grade5>

\* لتحميل جميع ملفات المدرس ضئينة الفزارية اضغط هنا

للتحدث إلى بوت على تلغرام: اضغط هنا

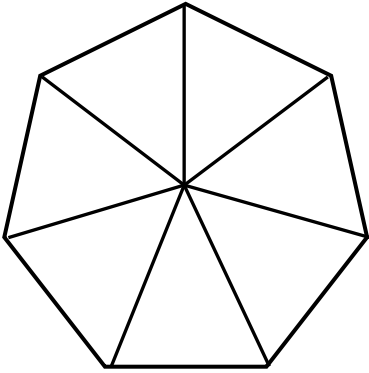
[https://t.me/omcourse\\_bot](https://t.me/omcourse_bot)



اسم الذكية : ..... من الصف : خامس ( )

أجيب عن جميع الأسئلة التالية في المكان المخصص للإجابة:

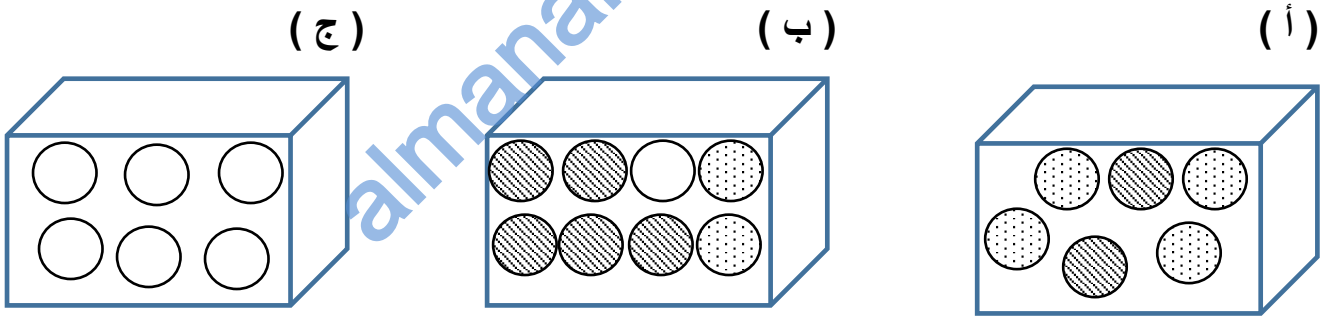
(١) الدوار الذي أمامك سباعي منتظم ، اكتب الأرقام ١ أو ٢ أو ٣ أو ٤ بحيث تكون عبارات الاحتمال التالية صحيحة :



- تتساوى فرصة ظهور الأرقام ١ و ٣
- من المستحيل ظهور الرقم ٤
- يكون ظهور العدد ٢ هو الأقل فرصة .

[ ٢ ]

(٢) أمامك ثلاثة صناديق ( أ ) ، ( ب ) ، ( ج ) بها مجموعة من الكرات : (البيضاء والمنقطة والمخططة) ، طُلب منك أخذ كرة من أحد الصناديق دون النظر إليها .



صل كل عبارة في العمود الأول بما يناسبها في العمود الثاني :

أ

من المستحيل أخذ كرة مخططة من الصندوق

ب

من غير المرجح أخذ كرة بيضاء من الصندوق

ج

من المؤكد أخذ كرة بيضاء من الصندوق

من المرجح أخذ كرة منقطة من الصندوق

[ ٢ ]



الاحتمال + الرسم البياني الخطي + إيجاد المنوال

[ ١ ] ٣) اكمل كتابة الألوان في المربعات بحيث يكون المنوال لهذه الألوان هو اللون الأحمر :

<input type="text"/>	أخضر	<input type="text"/>	أصفر	<input type="text"/>	أحمر	<input type="text"/>
----------------------	------	----------------------	------	----------------------	------	----------------------

٤) قامت بدور بجمع بيانات طالبات صفها حول الفاكهة المفضلة لديهن ودونت النتائج

الفاكهة	المانجو	الموز	الرمان	التفاح	الفراولة
التكرار	٤	٦	٣	٧	٦

في الجدول المقابل :

اكتب المنوال لهذه البيانات .

[ ١ ] الإجابة : .....

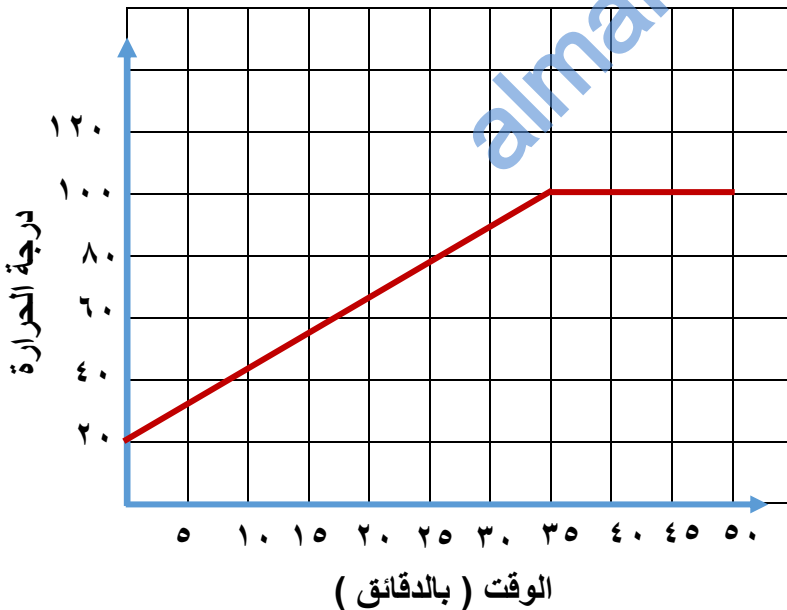
٥) الرسم الخطي البياني المقابل يوضح

ارتفاع درجة حرارة الماء ( بالدرجة

السييليزية ) في اناء الطبخ على نار هادئة .

- كم كانت درجة حرارة الماء قبل وضعه على النار ؟

.....



- اكتب الوقت الذي وصلت فيه درجة حرارة الماء إلى ١٠٠ ° س .

.....

[ ٢ ]



تأكدني بأنه بالجد والاجتهاد والإصرار والعزيمة سنحققين النجاح والتفوق