

شكراً لتحميلك هذا الملف من موقع المناهج العمانية



## سؤال قصير ثالث

[موقع المناهج](#) ← [المناهج العمانية](#) ← [الصف الخامس](#) ← [رياضيات](#) ← [الفصل الثاني](#) ← [الملف](#)

## التواصل الاجتماعي بحسب الصف الخامس



## روابط مواد الصف الخامس على تلغرام

[الرياضيات](#)


[اللغة الانجليزية](#)

[اللغة العربية](#)

[التربية الاسلامية](#)

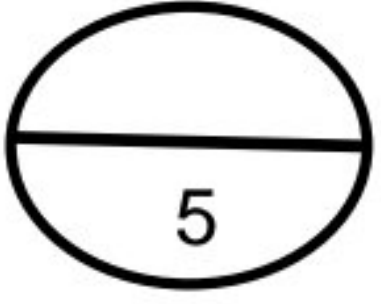
## المزيد من الملفات بحسب الصف الخامس والمادة رياضيات في الفصل الثاني

<a href="#">الاختبار النهائي الرسمي في محافظة شمال الباطنة مسائي</a>	1
<a href="#">نموذج إجابة الامتحان النهائي الرسمي بمحافظة جنوب الباطنة</a>	2
<a href="#">نموذج إجابة الامتحان الرسمي النهائي الفترة الصباحية</a>	3
<a href="#">الاختبار النهائي الرسمي في محافظة شمال الشرقية</a>	4
<a href="#">الاختبار النهائي الرسمي في محافظة مسقط</a>	5



تم تحميل هذا الملف من  
موقع المناهج العُمانية  
[alManahj.com/om](http://alManahj.com/om)

# السؤال القصير الثالث



(( سؤال قصير (3) صف الخامس، مادة الرياضيات، الفصل الثاني ))

الاسم: .....

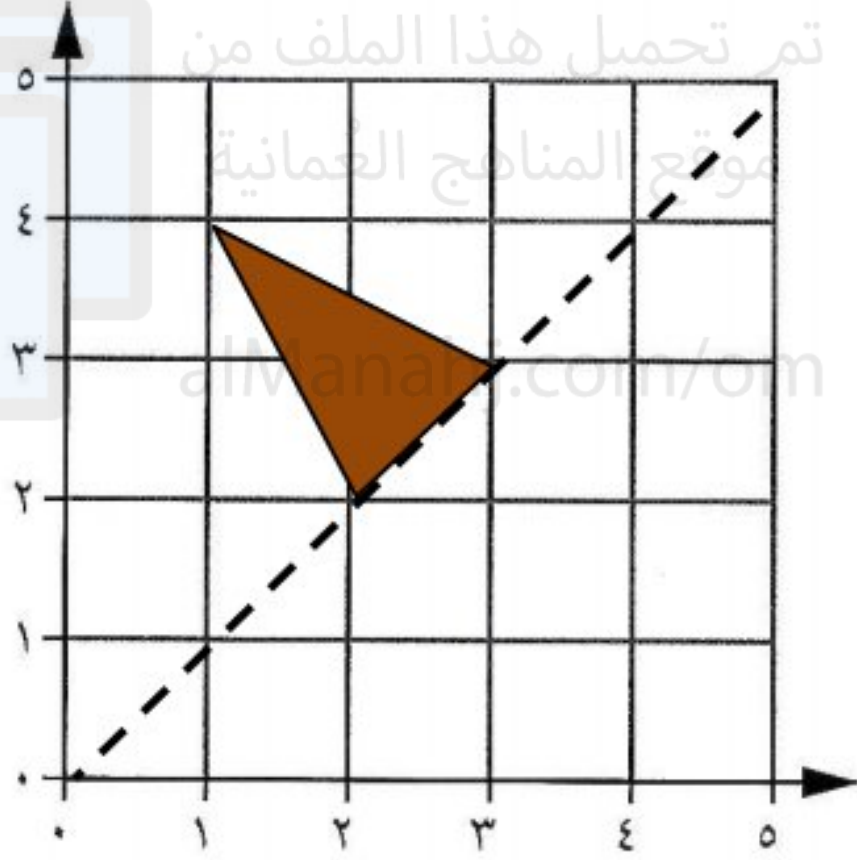
الصف: 15/..... الرقم: .....

أجب عن جميع الأسئلة التالية :

(1) من خلال الشبكة التالية أوجد التالي :

أ- ارسم انعكاسا للمثلث حول خط المرآة ؟

ب- اكتب إحداثيات المثلث الناتج من الانعكاس ؟



.....

[2]

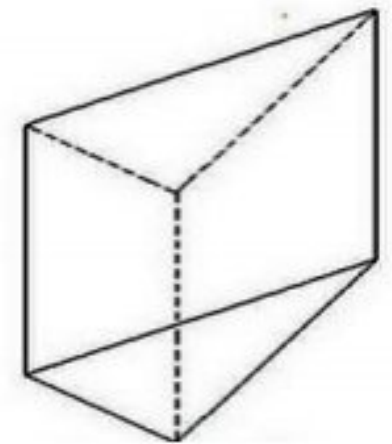
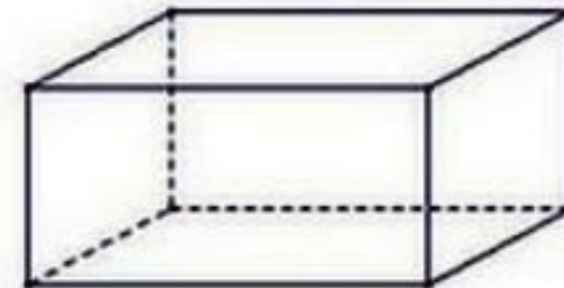
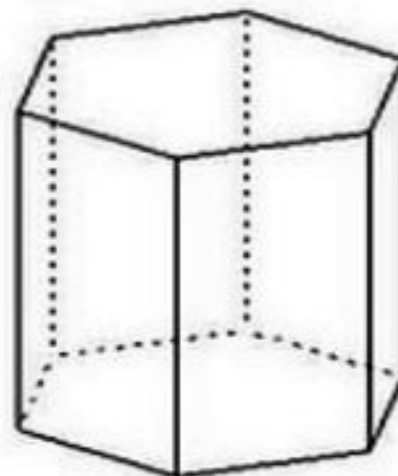
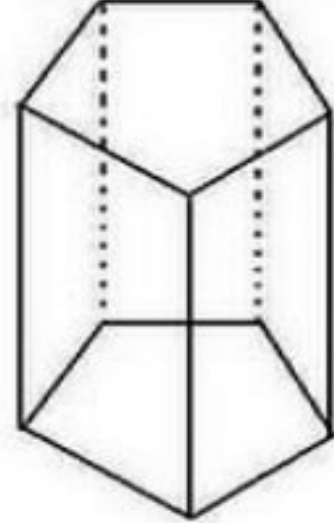
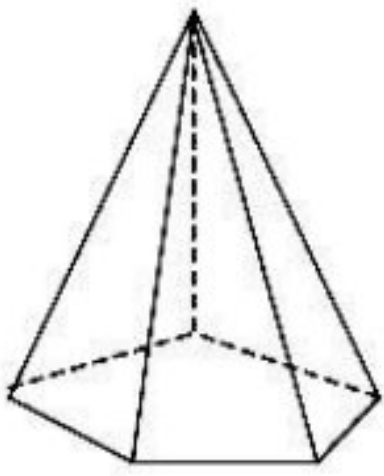
(2) ارسم كل خطوط التماثل الانعكاسي للشكل التالي :



م :

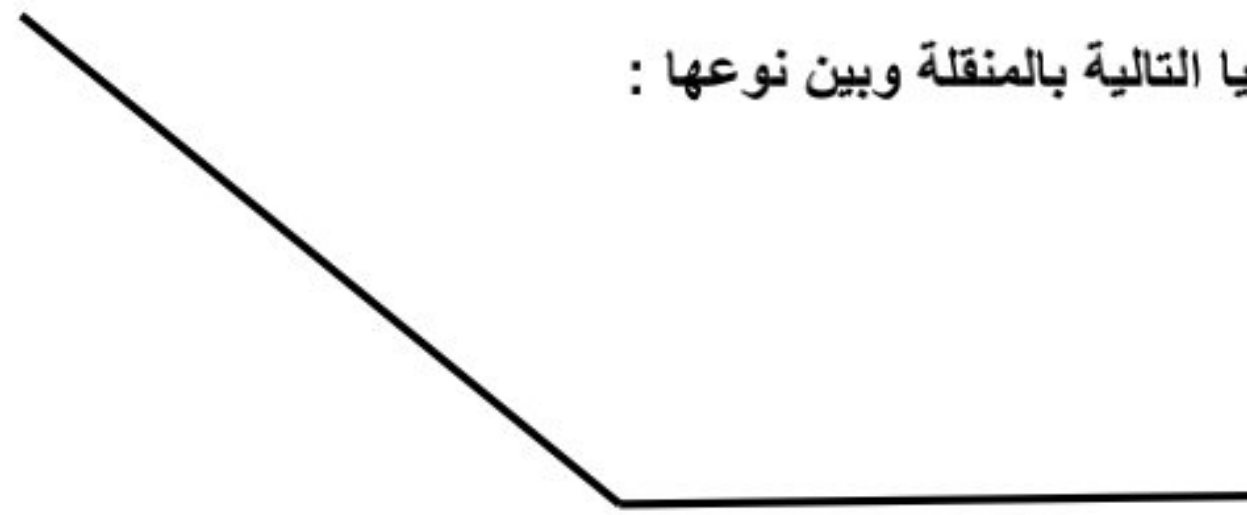
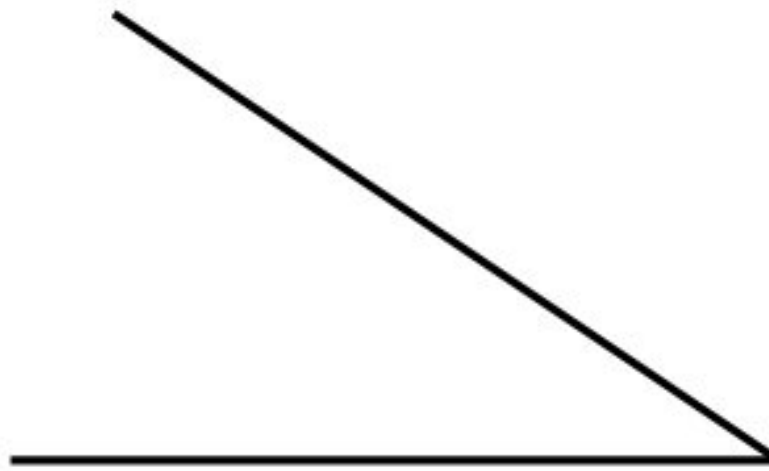
[1]

(3) حوِّط على المنشور الخماسي من بين المجسمات التالية :



[1]

(4) قس الزوايا التالية بالمنقلة وبين نوعها :



[1]

.....

.....