


شكراً لتحميلك هذا الملف من موقع المناهج العمانية



أسئلة الاختبار الرسمي الداخلية

[موقع المناهج](#) ⇨ [المناهج العمانية](#) ⇨ [الصف الخامس](#) ⇨ [اجتماعيات](#) ⇨ [الفصل الأول](#) ⇨ [الملف](#)

تاريخ نشر الملف على موقع المناهج: 06:51:42 2023-01-11

التواصل الاجتماعي بحسب الصف الخامس



روابط مواد الصف الخامس على تلغرام

[الرياضيات](#)

[اللغة الانجليزية](#)

[اللغة العربية](#)

[التربية الاسلامية](#)

المزيد من الملفات بحسب الصف الخامس والمادة اجتماعيات في الفصل الأول

[ملخص شامل للمادة من مذكرة المتميز](#)

1

[ملخص شرح درس ملامح من حياة العمانيين قبل الإسلام](#)

2

[ملخص درس الموقع الفلكي مع الحل](#)

3

[اختبار قصير أول نموذج ثالث](#)

4

[اختبار قصير أول نموذج ثاني](#)

5



امتحان الصف الخامس

الدور الاول

للعام الدراسي ١٤٤٣/١٤٤٤ هـ - ٢٠٢٢/٢٠٢٣ م

المادة: الدراسات الاجتماعية

- زمن الامتحان : (ساعة ونصف) ● عدد صفحات أسئلة الامتحان: (٦) صفحات.
- الإجابة في الدفتر نفسه.

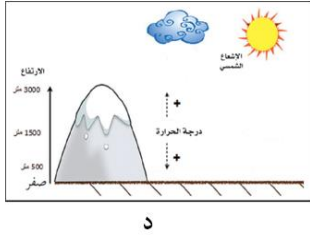
| اسم الطالب | | |
|------------|------|--|
| المدرسة | الصف | |

| السؤال | الدرجة | | التوقيع بالاسم | |
|---------------|----------|---------|----------------|---------------|
| | بالأرقام | بالحروف | المصحح الأول | المصحح الثاني |
| ١ | | | | |
| ٢ | | | | |
| ٣ | | | | |
| ٤ | | | | |
| ٥ | | | | |
| المجموع | | | جمعه | مراجعة الجمع |
| المجموع الكلي | | | | |

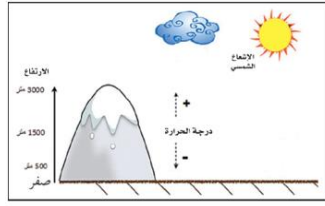
(١)

المادة: الدراسات الاجتماعية الصف: الخامس الدور الأول- الفصل الدراسي الأول العام الدراسي ٢٠٢٢/٢٠٢٣ م

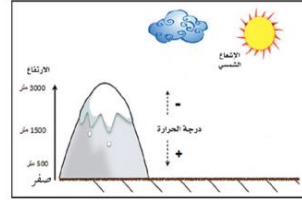
أجب عن جميع الأسئلة الآتية
السؤال الأول: ضع دائرة حول رمز الإجابة الصحيحة لكل مفردة من المفردات الآتية:
١- الشكل الصحيح الذي يوضح العلاقة بين عامل الارتفاع ودرجة الحرارة:



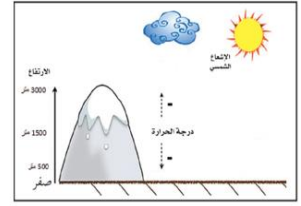
د




ج



ب



أ



د-شمس

٢- الجبل الذي يحتل المرتبة الثالثة من حيث الارتفاع :
أ-مرة ب- تاهرت ج-طبقال د-شمس

٣- الشخصية العمانية التي تولت القضاة في مدينة البصرة في عهد الخليفة عمر بن الخطاب :

أ-زهير بن قرضم ب- كعب بن سور ج- كعب بن برشة د-عمرو بن العاص

٤- الرمز المستخدم الذي يصف الحالة الجوية لمحافظة ظفار حسب الرمز الموضح في الخريطة المقابلة :

أ-مطر ب-غائم كلياً ج-غائم جزئياً د- صحو



٥- الشهر الذي بلغت فيه درجة الحرارة ٤٠ في فهود حسب الجدول التالي :

| الشهر | يناير | فبراير | مارس | أبريل | مايو | يونيو | يوليو | أغسطس | سبتمبر | أكتوبر | نوفمبر | ديسمبر |
|----------------------------|-------|--------|------|-------|------|-------|-------|-------|--------|--------|--------|--------|
| متوسط درجات الحرارة (س) | ٢٥ | ٢٦ | ٢٩,٥ | ٣٤,٧ | ٣٩,٦ | ٤٠ | ٣٨ | ٣٥,٦ | ٣٥,٦ | ٣٤,٦ | ٣٠,٣ | ٢٦,٨ |
| الأمطار (مليمترات) | ١٣,٢ | ١٤ | ١٦,٤ | ١١,٣ | ٠ | ١٠,٩ | ٣,٤ | ١,٦ | ٠ | ٠,٨ | ١,٦ | ١٦,٥ |

أ-يناير ب- فبراير ج-أبريل د- يونيو

٦- الصورة التي توضح مشكلة الرعي الجائر التي تتعرض لها النباتات الطبيعية:



د



ج



ب

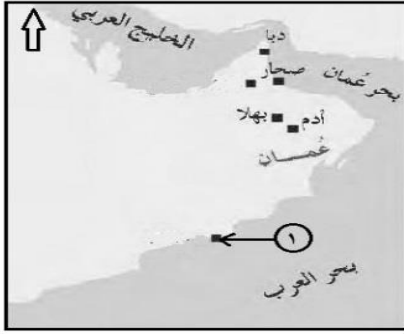


أ

تابع السؤال الأول:

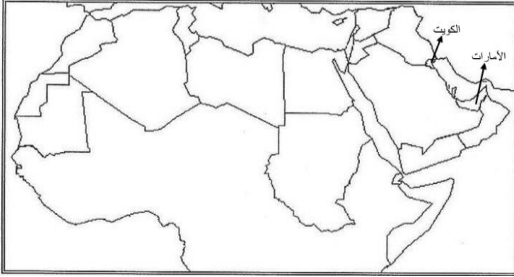
٧-التجارة التي كانت تنشط في فترة ظهور الإسلام بالميناء المشار إليه بالرقم (١) على الخريطة الآتية :

أ-الزيتون ب-العاج ج- اللبان د-الذهب



٨-المسطح المائي الذي سيعبره خالد في رحلته البحرية من دولة الإمارات إلى دولة الكويت :

أ-بحر عمان ج-البحر المتوسط ب-الخليج العربي د-بحر العرب



٩-المجال الذي يرمز إليه شعار جائزة السلطان قابوس طيب الله ثراه الموضح في الصورة المقابلة :

أ-الثقافة والعلوم ج-العمل التطوعي ب-حماية البيئة د-الإجادة الحرفية



١٠-الجهة الحكومية التي تعمل على صرف معاش شهري لفئات معينة من المواطنين : أ-الصحة ب-التنمية الاجتماعية ج-التربية والتعليم د-الإسكان



١١-مظهر العمل الاجتماعي الموضح في الصورة المقابلة :

أ-العرس العماني ب-موسم الحصاد ج-السبلة العمانية د-التعاون

١٢- المدينة العمانية التي ورد ذكرها في البطاقة التعريفية:

أ-صحار ج-دبا ب-البريمي د-مرباط

بطاقة تعريفية عن مدينة عمانية

- تقع في محافظة البريمي
- تميزت بأنها واحة زراعية
- تقع على طرق التجارة البرية
- عرفت ببوابة عمان الشمالية

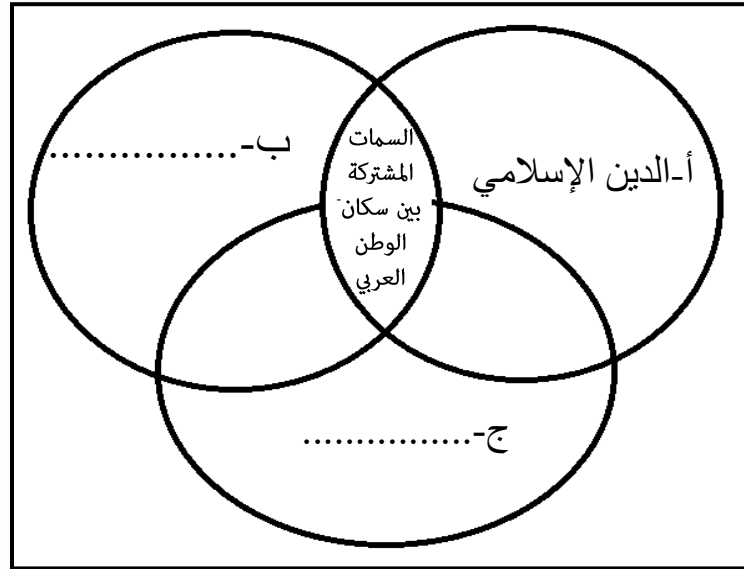
السؤال الثاني/ اجب عن الأسئلة الآتية:

أولا : ١- اكتب اسم المصطلح الصحيح أمام كل عبارة من العبارات في الجدول الآتي :

(الانجراف - تدهور خصوبة التربة - الدلتا)

| | | |
|----|--|-------|
| أ- | تكوينات فيضيه تترسب عند مصبات الأنهار | |
| ب- | نقل التربة من مكان إلى آخر بفعل جريان المياه السطحية | |

٢- ضع السمات المشتركة بين سكان الوطن العربي في المخطط التالي :



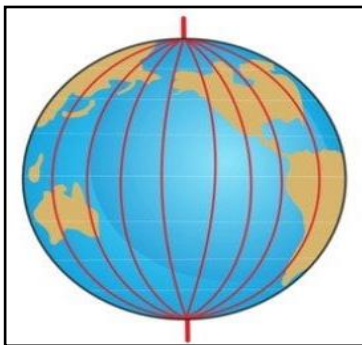
ثانيا: ١- ميز خصائص التربة التالية حسب نوع التربة التي تنتمي إليها بوضع علامة ✓ () :

| الخصائص | تربة البحر المتوسط | التربة الصحراوية | التربة الفيضية |
|--------------------------------|--------------------|------------------|----------------|
| تفتقر للعناصر الغذائية | | | |
| غنية بالمواد العضوية والمعدنية | | | |
| تنتشر على منحدرات الجبال | | | |
| تنتشر فيها زراعة النخيل | | | |

٢- صنف مظاهر العمل الاجتماعي التالية إلى أعمال على مستوى المجتمع المحلي وأعمال دولية:

(المساعدة في تنظيف القرية - مساعدة حكومة السلطنة للهند عند حدوث فيضانات)

| أعمال مجتمعية | أعمال دولية |
|---------------|-------------|
| أ-..... | ب-..... |



ثالثا: ادرس الشكل المقابل ثم اجب عن الأسئلة الآتية:

| | |
|------------|---------|
| اسم الشبكة | أ-..... |
| الأهمية | ب-..... |

السؤال الثالث/ اجب عن الأسئلة الآتية:

أولاً: قال تعالى { وَتَعَاوَنُوا عَلَى الْبِرِّ وَالتَّقْوَىٰ وَلَا تَعَاوَنُوا عَلَى الْإِثْمِ وَالْعُدْوَانِ } سورة المائدة: ٢ بعد قراءتك للآية القرآنية أجب عن الأسئلة الآتية:

أ- عرف المقصود بالتعاون؟

ب- وضح أهمية التعاون ؟

ج- من خلال الآية القرآنية أيهما تشجع زملائك عليه :

() التعاون على البر والتقوى () التعاون على الإثم والعدوان اختر الإجابة الصحيحة

فسر إجابتك:


ثانياً: ١- أمامك خريطة توضح طرق النقل البحرية والبرية لمدينة عمانية ادرسها جيداً ثم اجب عن الأسئلة الآتية :

أ- ضع دائرة على عاصمة عمان في فترة ظهور الإسلام؟

ب- ارتبطت العاصمة بمدينة تزام بطريق :

() بري () بحري / اختر الإجابة الصحيحة

ج- أكتب على الخريطة بحر عمان؟

د- يشير الرمز  في مفتاح الخريطة إلى

٢- قام طلبة الصف الخامس بحملة لتنظيف الشواطئ ما نوع العمل الذي قام به الطلبة؟

ثالثاً: أذكر اثنين لكل من:.

أ- الديانات التي أعتنقها سكان شبه الجزيرة العربية قبيل الإسلام؟

١- ٢-

ب- خدمات الرعاية والتنمية الاجتماعية المقدمة لفئات المجتمع العماني من قبل وزارة التنمية الاجتماعية؟

١- ٢-

السؤال الرابع/ اجب عن الأسئلة الآتية:

أولاً: ١- انسب الصفات التالية للشخصيات العمانية الواردة بين القوسين في الجدول التالي:

(كعب بن برشه الطاحي - زهير بن قرضم المهري - كعب بن سور الأزدي - مصقلة بن رقة)

| م | الصفة | الشخصية العمانية |
|---|---|------------------|
| أ | متحدث باللغة الفارسية | |
| ب | اشتهر بالخطابة والفصاحة والبلاغة | |
| ج | حب الاستطلاع والبحث عن المعرفة | |
| د | اشتهر بالشجاعة والعدل والدعوة إلى السلم | |





ثانياً: ادرس الصورة التي امامك ثم اجب عن الأسئلة الآتية :

أ- سم المظهر الاجتماعي الموضح في الصورة

ب- وضح دور كلا من الرجال والنساء في هذا المظهر :

| الرجال | الأطفال والنساء |
|--------|-----------------|
| | |

ثالثاً: ١- من خلال دراستك لأنواع النباتات الطبيعية قارن بين النوعين الواضحين في الصورة في الجدول التالي :

| | | |
|---|--|--------------|
|  |  | وجه المقارنة |
| الشكل (ب) الغاف | الشكل (أ) شجرة السنديان | |
| ب_..... | أ_..... | النوع |
| د_..... | ج_..... | الخصائص |

السؤال الخامس/ اجب عن الأسئلة الآتية:

أولاً:١-(يعاني الوطن العربي من مشكلة نقص المياه)
في ضوء العبارة السابقة أجب عن الأسئلة الآتية:
أ-سبب المشكلة ؟

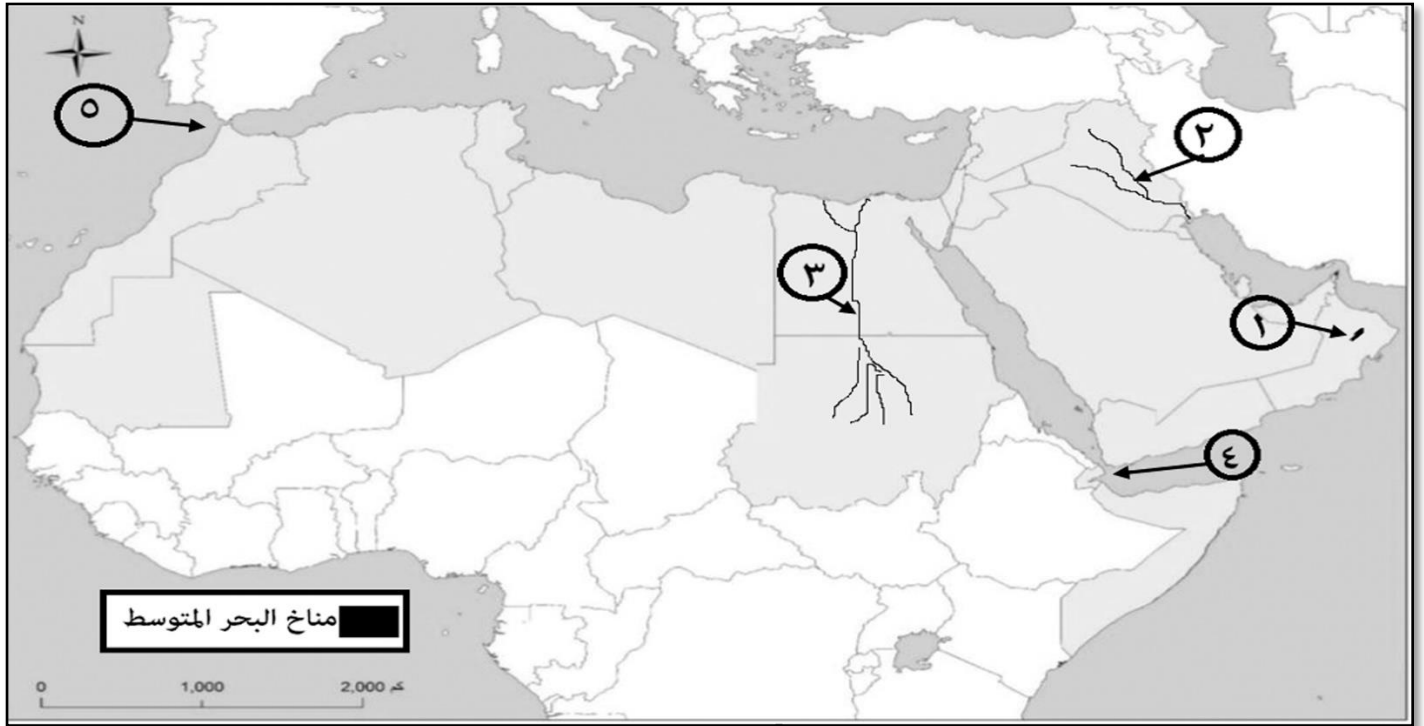
ب-الحلول المتبعة للحد من المشكلة ؟

ج-واجبك كمواطن اتجاه المشكلة والحد منها ؟

ثانياً:

١-ما النتيجة المترتبة على كثرة استخدام الإنسان للأسمدة الكيماوية والمبيدات الحشرية على التربة ؟

ثالثاً: ادرس خريطة الوطن العربي الصماء التي أمامك جيداً ثم اجب عن الأسئلة الآتية:



أ-الرقم الدال على الدولة التي يظهر فيها مناخ البحر المتوسط.....

ب-خرج محمد من ميناء السلطان قابوس في رحلة بحرية متجه إلى جمهورية مصر المضيّق المائي الذي سيعبره يشار إليه بالرقم

ج-أكتب على الخريطة البحر المتوسط في مكانه الصحيح ؟

د-نوع السهل المشار إليه بالرقم (٣)

انتهت الأسئلة مع الدعاء للجميع بالتوفيق والنجاح.