

تم تحميل هذا الملف من موقع المناهج العمانية



الملف مراجعة على مصادر الطاقة والاقتصادية في الوطن العربي مع الحل

[موقع المناهج](#) ⇨ [المناهج العمانية](#) ⇨ [الصف الخامس](#) ⇨ [اجتماعيات](#) ⇨ [الفصل الثاني](#)

روابط مواقع التواصل الاجتماعي بحسب الصف الخامس



روابط مواد الصف الخامس على تلغرام

<a href="#">الرياضيات</a>	<a href="#">اللغة الانجليزية</a>	<a href="#">اللغة العربية</a>	<a href="#">التربية الاسلامية</a>
---------------------------	----------------------------------	-------------------------------	-----------------------------------

المزيد من الملفات بحسب الصف الخامس والمادة اجتماعيات في الفصل الثاني

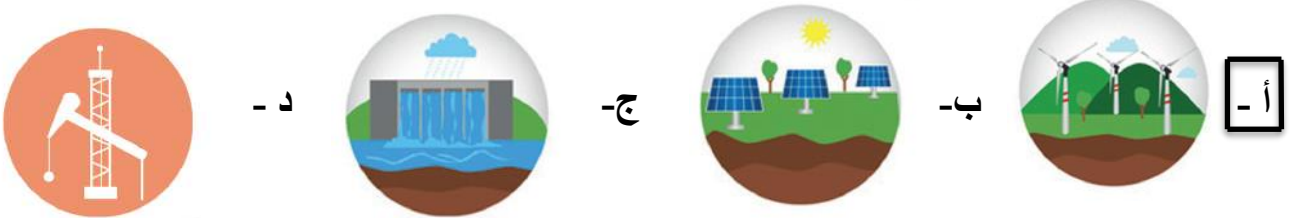
<a href="#">امتحان وإجابة الأسئلة الرسمية للفصل الدراسي الثاني الدور الثاني 2017/2016</a>	1
<a href="#">امتحان وإجابة الأسئلة الرسمية للفصل الدراسي الثاني الدور الأول 2017/2016</a>	2
<a href="#">امتحان وإجابة الأسئلة الرسمية في محافظة جنوب الشرقية للفصل الدراسي الثاني الدور الأول 2015/2016</a>	3
<a href="#">امتحان وإجابة الأسئلة الرسمية في محافظة شمال الباطنة للفصل الدراسي الثاني الدور الثاني 2015/2016</a>	4
<a href="#">امتحان وإجابة الأسئلة الرسمية في محافظة جنوب الباطنة للفصل الدراسي الثاني الدور الأول 2015/2016</a>	5

س : ضع دائرة حول الرمز الذي يمثل الاجابة الصحيحة

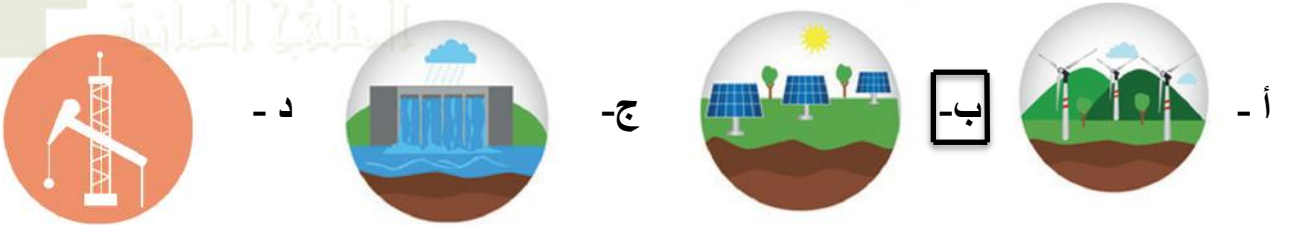
١- ----- عنصر مهم في احداث التقدم الحضاري والنمو العمراني والاقتصادي .

أ - الطاقة  ب - الغاز الطبيعي ج - النفط د- الطاقة النووية

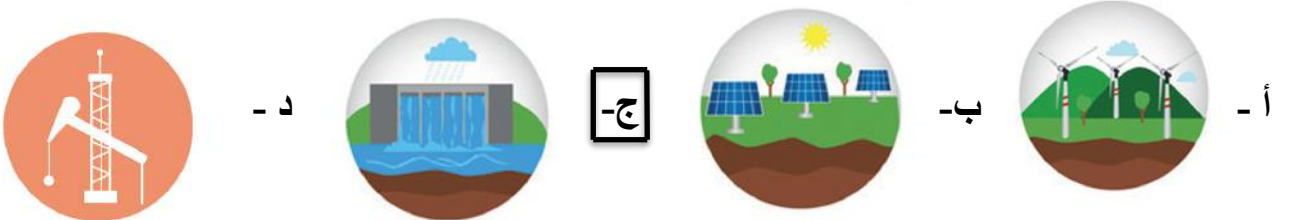
٢- الصورة التي امامك تمثل الرياح وهي من مصادر الطاقة المتجددة .



٣- الصورة التي امامك تمثل الشمس وهي من مصادر الطاقة المتجددة .



٤- الصورة التي امامك تمثل المياه وهي من مصادر الطاقة المتجددة .



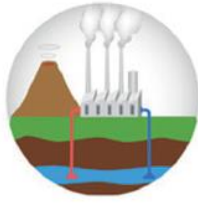
٥- الصورة التي امامك تمثل النفط وهو من مصادر الطاقة غير المتجددة .



٦- الصورة التي امامك تمثل الغاز وهو من مصادر الطاقة غير المتجددة .



٧- الصورة التي أمامك تمثل الفحم الحجري وهو من مصادر الطاقة غير المتجددة .



د -



ج -

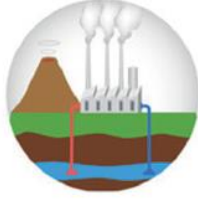


ب -



أ -

٨- الصورة التي أمامك تمثل الطاقة النووية وهي من مصادر الطاقة غير المتجددة .



د -



ج -



ب -



أ -

٩- الرقم الذي يشير إلى المحافظة التي أقيم فيها مشروع حقل خزان

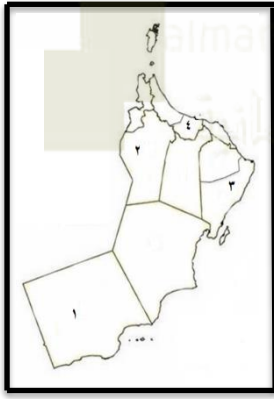
أكبر مشاريع الغاز بالسلطنة .

د - ( ٤ )

ج - ( ٣ )

ب - ( ٢ )

أ - ( ١ )



١٠- تتصدر بعض الوطن العربي العالم في انتاج .....

د- الطاقة النووية

ج- الفحم الحجري

ب- الغاز

أ- النفط

١١- تتصدر الدول العربية في انتاج الغاز الطبيعي دولة .....

د - قطر

ج- سوريا

ب- السعودية

أ - البحرين

١٢- الشركة التي تعاونت مع وزارة التربية والتعليم

لتنفيذ مشروع الاستفادة من الطاقة الشمسية في عدد من مدارس السلطنة .

د- شركة الغاز الطبيعي .

ج - شركة المياه .

ب- شركة الكهرباء .

أ- شل للتنمية .

١٣- أنشأت بعض الدول العربية مصانع لتسييل الغاز الطبيعي وتصديره مثل :

٤- ليبيا وقطر

ب- قطر والبحرين

٣- سلطنة عمان والكويت

أ- سلطنة عمان وليبيا

س : عرف ما يلي :

- ١- ( الطاقة ) هي القوة المحركة للأشياء .
- ٢- ( مصادر الطاقة غير المتجددة ) هي التي توجد في الطبيعة بكميات محدودة فإذا نضبت لا يمكن تجديدها .
- ٣- ( مصادر الطاقة المتجددة ) هي مصادر الطاقة التي لا تنضب وتتجدد تلقائيا في الطبيعة .

فسر ما يلي :

- ١- يعد الغاز الطبيعي من مصادر الطاقة المهمة في الوطن العربي ؟  
الإجابة : ١- نظرا لتوفره بكميات كبيرة .
- ٢- تعدد استخداماته .

س : أذكر

١- بعض استخدامات الغاز الطبيعي ؟



الإجابة :

الشكل (٨) بعض استخدامات الغاز الطبيعي

٢- من أمثلة المشاريع العربية في مجال الاستفادة من مصادر الطاقة المتجددة ؟

- ١- مشروع مرآة بولاية شليم وجزر الحلايبات في محافظة ظفار .
- ٢- مشروع مدينة مصدر في الامارات .
- ٣- مشروع نور في المغرب .



مراجعة على درس الاقتصادية في الوطن العربي

س : ضع دائرة حول الرمز الذي يمثل الإجابة الصحيحة



١ - - تمثل الصورة التي أمامك إحدى الصناعات الغذائية التي تعتمد على الزراعة .

أ - تغليف التمور .

ب - تكرير السكر .

ج - الألبان ومشتقاتها .

د - صناعة الزجاج .

٢ - تمثل الصورة التي أمامك إحدى الصناعات

من المواد الكيماوية المستخرجة من النفط .

أ - النسيج .

ب - البتروكيماويات .

ج - استخراج الزيوت .

د - صناعة الزجاج .



٣ - تمثل الصورة التي أمامك إحدى الصناعات المتطورة التي تعتمد على الزراعة .

أ - النسيج .

ب - البتروكيماويات .

ج - استخراج الزيوت .

د - صناعة الزجاج .



٤ - تعد إحدى المناطق المهمة للاستثمار المحلي والعالمي في سلطنة عمان منطقة .....

أ - ظفار      ب- شناص      ج- خصب      د - صحار



٥ - تشير الصورة إلى إحدى عوامل الجذب السياحي في الوطن العربي .

أ - تنوع المناخ .

ب- الخدمات السياحية .

ج - المحميات الطبيعية .

د - المواقع الأثرية .



- ٦- تشير الصورة إلى إحدى عوامل الجذب السياحي في الوطن العربي .  
أ - تنوع المناخ .  
ج- المحميات الطبيعية .  
ب- الخدمات السياحية .  
د- المواقع الأثرية .



- ٧- تشير الصورة إلى إحدى عوامل الجذب السياحي في الوطن العربي .  
أ - تنوع المناخ .  
ج- المحميات الطبيعية .  
ب- الخدمات السياحية .  
د- المواقع الأثرية .



- ٨- تشير الصورة إلى إحدى عوامل الجذب السياحي في الوطن العربي .  
أ - تنوع المناخ .  
ج- المحميات الطبيعية .  
ب- الخدمات السياحية .  
د- المواقع الأثرية .

س : عرف ما يلي :

- ٤- ( الصناعة ) هي تغيير شكل وطبيعة المواد الخام إلى شكل آخر تلبية لحاجات الانسان .  
٥- ( المواد الخام ) مواد طبيعية زراعية أو حيوانية أو معدنية غير مصنعة قابلة للتصنيع .  
٦- ( السياحة ) هي حركة الأفراد والجماعات من أماكن إقامتهم إلى أماكن أخرى بغرض أداء مهمة معينة أو زيارة مكان أو بغرض الترفيه .

س : فسر

١- تعد الصناعة من الأنشطة الاقتصادية المهمة في الوطن العربي ؟

الإجابة : ١- باعتبارها مصدرا مهما للدخل

٢- توفر فرص عمل للسكان .

٢- نعد السياحة من الأنشطة الاقتصادية المهمة في الوطن العربي ؟

الإجابة : ١- تشكل مصدرا مهما للدخل .

٢- توفر فرص عمل لعدد كبير من السكان .

٣- تنمي العلاقات والتبادل الثقافي بين الشعوب .

فسر : تعدد الزراعة من الأنشطة الاقتصادية المهمة في الوطن العربي ؟

س : أذكر

٤- أهمية الزراعة في الوطن العربي ؟

الإجابة :



الشكل (١٣) أهمية الزراعة في الوطن العربي

٥- العوامل التي أسهمت في تنوع الأنشطة الاقتصادية التي يمارسها سكان الوطن العربي ؟

الإجابة : ١- الموقع الجغرافي .

٢- المناخ .

٣- الموارد الطبيعية .

٦- أمثلة للأنشطة الاقتصادية التي يمارسها سكان الوطن العربي ؟

الإجابة : ١- الزراعة . ٢- الصناعة . ٣- السياحة .

٧- أمثلة من الخدمات السياحية التي توفرها الدول العربية للاهتمام بالسياحة ؟

الإجابة : ١- توفير وسائل النقل . ٢- إنشاء الفنادق والمطاعم والمتنزهات .

٣- إقامة المهرجانات والمعارض .

**س : ما النتائج المترتبة على**

١- توفر الخدمات السياحية في دول الوطن العربي ؟

الإجابة : أسهم في تدفق عدد كبير من السياح .

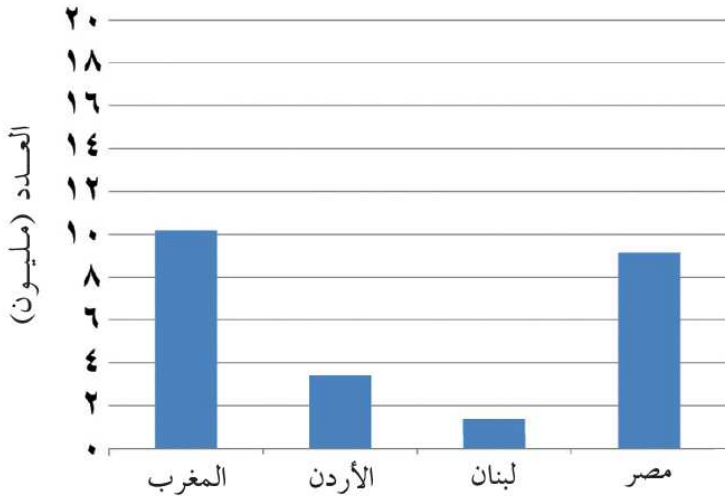


س : استنتج ترتيب الدول العربية الأربعة

من حيث عدد السياح ؟

الإجابة :

- ١- المغرب .
- ٢- مصر .
- ٣- الأردن .
- ٤- لبنان .



الشكل (١٩) عدد السياح القادمين إلى بعض الدول العربية في عام ٢٠١٥م

س : عدد

١- المقومات السياحية العديدة التي نزر بها سلطنة عمان وجعلت منها وجهة سياحية مهمة بين بلدان الوكن العربي ؟

الإجابة : تتميز السلطنة بـ

- ١- تنوع مناخها .
- ٢- تنوع بيئاتها الطبيعية كالجبال والصحاري والشواطئ والكهوف والأودية .
- ٣- تتميز بقلاعها وحصونها وأسواقها الشاهدة على تاريخها .