

تم تحميل هذا الملف من موقع المناهج العمانية



الملف الاختبار القصير الأول في محافظة جنوب الباطنة

[موقع المناهج](#) ⇨ [المناهج العمانية](#) ⇨ [الصف الخامس](#) ⇨ [اجتماعيات](#) ⇨ [الفصل الثاني](#)

روابط مواقع التواصل الاجتماعي بحسب الصف الخامس



روابط مواد الصف الخامس على تلغرام

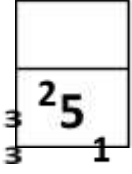
الرياضيات	اللغة الانجليزية	اللغة العربية	التربية الاسلامية
---------------------------	----------------------------------	-------------------------------	-----------------------------------

المزيد من الملفات بحسب الصف الخامس والمادة اجتماعيات في الفصل الثاني

امتحان وإجابة الأسئلة الرسمية للفصل الدراسي الثاني الدور الثاني 2017/2016	1
امتحان وإجابة الأسئلة الرسمية للفصل الدراسي الثاني الدور الأول 2017/2016	2
امتحان وإجابة الأسئلة الرسمية في محافظة جنوب الشرقية للفصل الدراسي الثاني الدور الأول 2015/2016	3
امتحان وإجابة الأسئلة الرسمية في محافظة شمال الباطنة للفصل الدراسي الثاني الدور الثاني 2015/2016	4
امتحان وإجابة الأسئلة الرسمية في محافظة جنوب الباطنة للفصل الدراسي الثاني الدور الأول 2015/2016	5

السؤال الأول: ضعي دائرة حول رمز الإجابة الصحيحة من بين البدائل المعطاة :

1- الرقم الصحيح الذي يشير الى المحافظة العمانية التي يوجد بها أكبر مشروع لإنتاج الغاز الطبيعي في الخريطة المقابلة :



ب) 2

أ) 1

د) 4

ج) 3

2- المثال الدال على السياحة الاثرية في سلطنة عمان :

د) قلعة نخل

ج) محمية المها الطبيعية

ب) مهرجان مسقط

أ) الجبل الاخضر

3- النشاط الاقتصادي الذي يقوم على تغير شكل وطبيعة والمواد الخام الى شكل آخر لتلبية احتياجات انسان :

د) التجارة

ج) الصناعة

ب) الزراعة

أ) السياحة

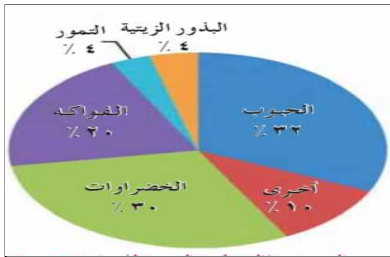
4- من خلال الشكل المقابل يصل إجمالي إنتاج الوطن العربي من محصولي الفواكه والتمور الى :

ب) 24%



أ) 20%

د) 30%

ب) 25%



5- الشكل الصحيح الذي يشير الى موارد الطاقة الغير متجددة :



د)

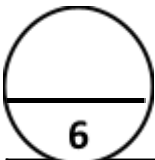
ج)

ب)

أ)

السؤال الثاني : أجبني عن الاسئلة التالية :

1- صنفي الصناعات التالية الى صناعات تحويلية وصناعات إستخراجية :

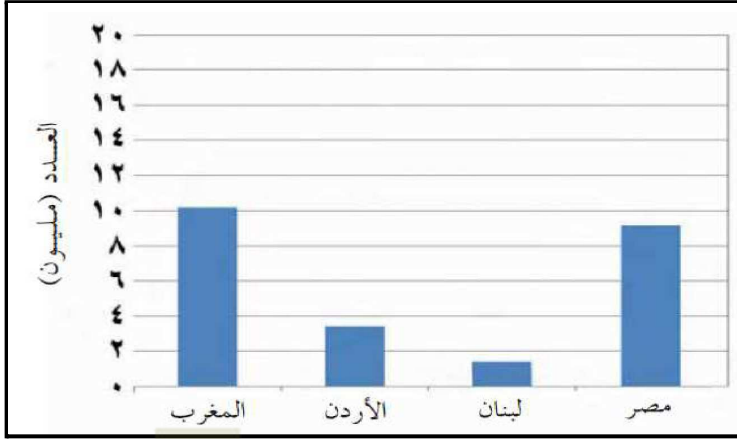


	صناعات تحويلية
	صناعات إستخراجية

(الملابس - استخراج اللؤلؤ - السيارات - التنقيب عن الحديد والنحاس- الادوية)

2- علي : تحول الدول العربية للطاقة المتجددة ؟

3- أدرسي الشكل البياني الذي أمامك والذي يوضح عدد السياح القادمين الى بعض الدول العربية في عام 2015م ، ثم أجبني عن الاسئلة التالية :



1- ما الدولة التي تحتل المركز الثالثة من حيث عدد السياح؟

2- كم يصل عدد السياح القادمين الى دولة المغرب في العام نفسه ؟

3- في أي قارة تقع الدولة التي تحتل المرتبة الثانية من حيث عدد السياح ؟

4

السؤال الثالث : أجبني عن الأسئلة التالية

1- عددي اثنين من استخدامات الغاز الطبيعي ؟

2- عرفني الطاقة الغير متجددة ؟

3- أدرسي الصور التالية وأستنتجي من خلالها عوامل الجذب السياحي في الوطن العربي ؟

