

تم تحميل هذا الملف من موقع المناهج العُمانية



* للحصول على أوراق عمل لجميع الصفوف وجميع المواد اضغط هنا

<https://almanahj.com/om>

* للحصول على أوراق عمل لجميع مواد الصف الخامس اضغط هنا

<https://almanahj.com/om/5>

* للحصول على جميع أوراق الصف الخامس في مادة اجتماعيات ولجميع الفصول, اضغط هنا

<https://almanahj.com/om/5social>

* للحصول على أوراق عمل لجميع مواد الصف الخامس في مادة اجتماعيات الخاصة بـ الفصل الأول اضغط هنا

<https://almanahj.com/om/5social1>

* لتحميل كتب جميع المواد في جميع الفصول للـ الصف الخامس اضغط هنا

<https://almanahj.com/om/grade5>

* لتحميل جميع ملفات المدرس ليلى الرمضانية اضغط هنا

للتحدث إلى بوت على تلغرام: اضغط هنا

https://t.me/omcourse_bot



سلطنة عُمان
وزارة التربية والتعليم
الديريّة العامّة للتربية والتعليم
بمحافظة الداخلية
مكتب الاشراف التربوي بسماثل
مدرسة نصراء بنت الامام ناصر اليعربية
للتعليم الاساسي (٥-٦)

اسئلة مراجعة للفص الخامس الفصل الدراسي الأول

ساملاً الدنيا سعادة بتميزي



صغيرة
ولكن قدراتي غير
إعداد / أليلى الرمضانية



اسئلة تحاورني من ص ١٠ و ص ١١

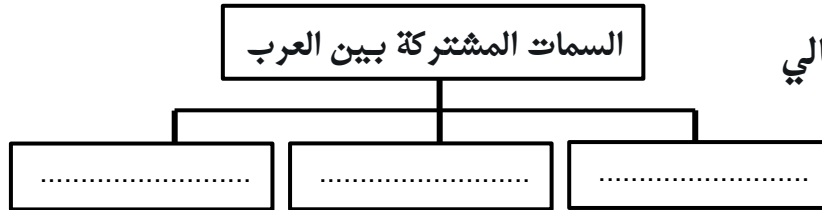
١. اكمل العبارات التالية

١. يعيش العرب في مساحة واسعة من الأرض تعرف بـ
٢. تربط بين العرب خصائص مشتركة متمثلة في و..... و.....
٣. موقع المكان بالنسبة لليابس والماء هو تعرف
٤. تقدر مساحة الوطن العربي بحوالي
٥. يبلغ عدد دول الوطن العربي حوالي
٦. يقع الوطن العربي في قارتين هما و.....
٧. يطل الوطن العربي على محيطات هما و

ثانياً : اجيبي على الاسئلة التالية :

١- عرفني الموقع الجغرافي ؟

.....



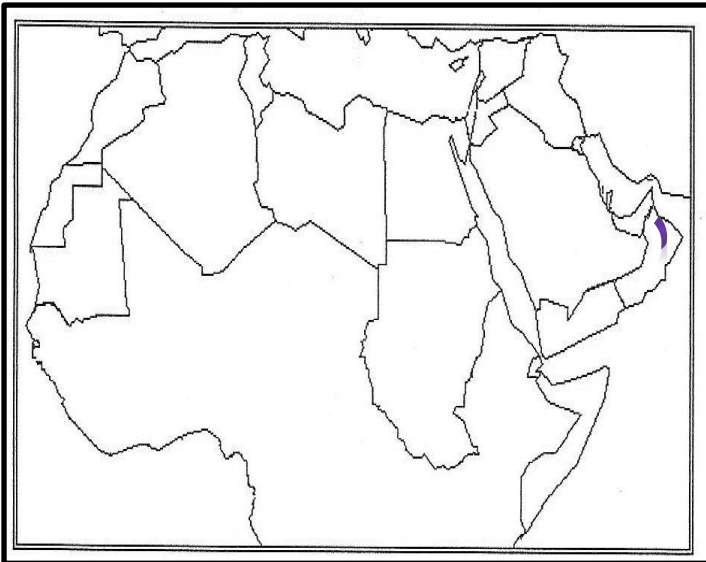
٣- ادربي الخريطة التي امامك ثم اجيبي

١. اكتبني اسماء المحيطات التي يطل عليها الوطن العربي .

.....





٢. تسمى الدولة المشار لها بالرقم (١)

ب



اسئلة تحاورني من ص ١٢ و ص ١٣

١. اكمل العبارات التالية

١. موقع المكان بالنسبة لخطوط الطول ودوائر العرض هو تعريف
٢. شبكة وهمية غير حقيقية تستخدم في تحديد المواقع على سطح الكرة الارضية هو تعريف
٣. يبلغ عدد خطوط الطول
٤. خط الطول الرئيسي هو خط
٥. فائدة خطوط الطول هي
٦.  يسمى الخط الذي أمامك بخط
٧. يبلغ عدد دوائر العرض حوالي
٨. تفيدنا دوائر العرض في
٩.  يسمى النصف المظلل بالنصف
١٠.  تسمى الدائرة المشار لها بالرقم (١) دائرة
١١.  يسمى النصف المشار له بالرقم (١) بالنصف

ثانياً : اجيبي على الاسئلة التالية :

اولاً : عرفني كلاً من :-

١. الموقع الفلكي
٢. خطوط الطول و دوائر العرض

ثانياً: صنفني المعلومات التالية في الجدول


(١٨٠ - معرفة المناخ - تحديد الوقت - ٣٦٠ - انصاف دوائر - دوائر مكتملة)

خطوط الطول	دوائر العرض

٣- اكمل جدول المقارنة التالي بين خطوط الطول ودوائر العرض

وجه المقارنة	خطوط الطول	دوائر العرض
العدد		
الفائدة		

٤- ارسمي في الشكل الذي امامك كلاً من :-



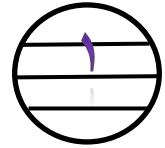
١. خط غرينتش
٢. دائرة الاستواء

اسئلة تحاورني من ص ١٤ و ص ١٥

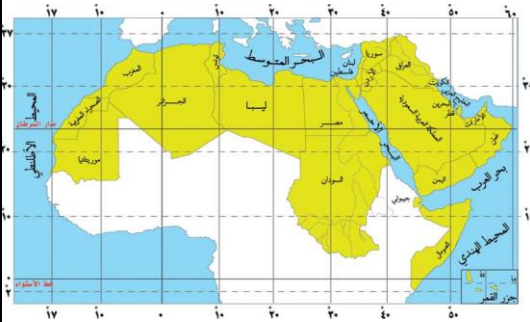
١- أكمل العبارات التالية :-

١. يقع الوطن العربي بين دائرة عرض جنوباً و
- شمال دائرة الاستواء

٢. يسمى المدار المشار له بالرقم (١) بمدار



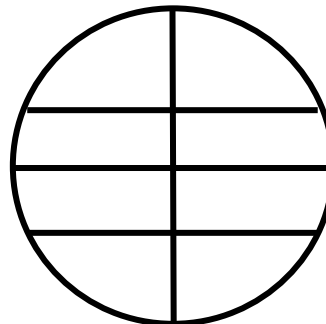
٣. الدولة التي يمر عليها خط غرينتش هي



٤. تبلغ دائرة التي تمر على موريتانيا دائرة في

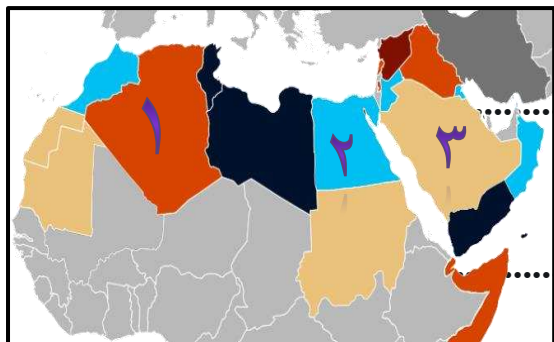
ثانياً : اكتب على الشكل الذي امامك كلاً من :-


(دائرة الاستواء - مدار السرطان - مدار الجدى - خط غرينتش)



اسئلة تحاورني من ص ١٦ و ص ١٧

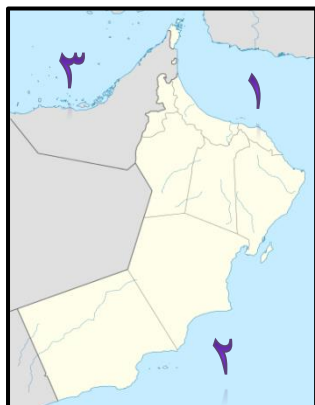
أولاً : أكمل العبارات التالية :-



١. خريطة الدولة التي أمامك ل.....
٢. الدولة المشار لها بالرقم (١) هي دولة
٣. الرقم الدال على دولة السعودية هو رقم
٤. عاصمة دول المغرب هي مدينة
٥. تقع الأردن في قارة
٦. علم الدولة التي أمامك هو علم دولة 



٧. الدولة المشار بها بالرقم (١) هي دولة
٨. تشرف سلطنة عمان على مدخل الخليج العربي عبر مضيق



٩. المضيق تشرف عليه سلطنة عمان هو مضيق
١٠. المسطح المائي المشار بالرقم (١) هو بحر
١١. الرقم الدال على موقع الخليج العربي هو الرقم
١٢. يمر بسلطنة عمان مدار

ثانياً : اجيبي على الاسئلة التالية :

١- اكتبني بجانب كل خريطة اسم الدولة

			
.....

٢. ادرسي الخريطة التي أمامك ثم أجبني :-



١. اسم الدولة المشار لها بالرقم (١) هي
٢. ارسمي 😊 على دولة الجزائر هو الرقم
٣. اكتبني الخليج العربي في مكانة الصحيح
٤. ما اسم المضيق المشار له بالرقم (٥)



اسئلة تحاورني من ص ١٨ و ص ١٩

أولاً : أكمل العبارات التالية :-

١. يعتبر الوطن العربي حلقة وصل بين قارات آسيا وأوروبا و
- المضيق المشار له بالرقم (١) هو مضيق
٢. يربط مضيق باب المندب بين بحر العرب و
٣. المسطح المائي المشار له بالرقم (٤) هو
٤. تربط قناة السويس من البحر الأحمر و
٥. المحيط المشار له بالرقم (٥) هو محيط

ثانياً : ١. أكمل المخطط



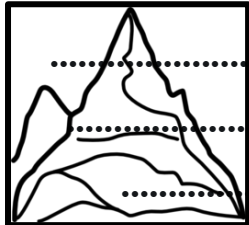
كان أدائي في حل أسئلة الدرس





اسئلة تحاورني من ص ٢٠ إلى ص ٢١

١. اكمل العبارات التالية



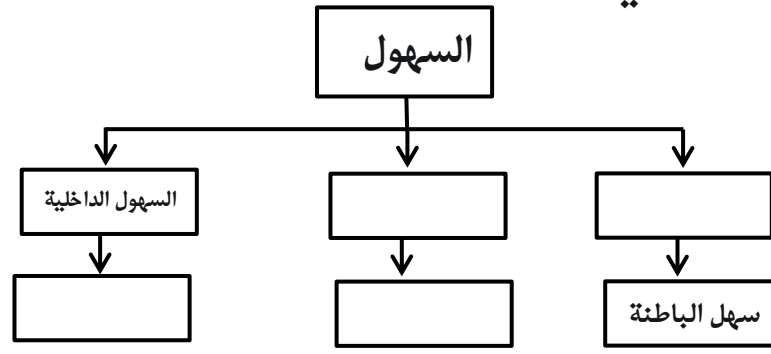
- ١- تتنوع تضاريس الوطن العربي بسبب موقعه الجغرافي و.....
- ٢- تظهر السهول في الخريطة باللون
- ٣- يظهر الشكل التضاريسي في الخريطة باللون
- ٤- الاراضي المنبسطة واسعة المساحة وقليلة الانحدار هو تعريف ب
- ٥- يُعد سهل الباطنة من انواع السهول
- ٦- تتكون السهول الساحلية من مواد .. و .. و ..
- ٧- استغلت السهول الساحلية منذ القدم في مجال
- ٨- استغلت السهول الساحلية منذ القدم في الزراعة بسبب
- ٩- تظهر السهول الرسوبية على
- ١٠- تكوينات فضية ترسب على مصاب الانهار هو تعريف
- ١١- تكونت دلتا نهر النيل على ساحل
- ١٢- تكونت دلتا نهري دجلة والفرات على ساحل
- ١٣- استغلت السهول الرسوبية (الفيضية) في
- ١٤- استغلت السهول الرسوبية في الزراعة بسبب .. أو ..
- ١٥- تقع السهول الداخلية
- ١٦- ينخفض عدد السكان في السهول الداخلية بسبب
- ١٧- من أمثلة السهول الداخلية التي تقع في سلطنة عمان السهول التي تظهر في محافظتي .. و ..

السؤال الثاني : اجبني على الاسئلة التالية :

١- عرفني كلا من :-

١. التضاريس
٢. السهول
٣. الدلتا

٢- أكمل المخطط التالي



٣- اجب بي يكون اعداد السكان في السهول الداخلية

كثير	قليل
	السبب

٤- علف العبارات التالية :-

١. ارتفاع عدد السكان في السهول الساحلية ؟

.....

٢. يمتاز سهل الباطنة بارتفاع أعداد السكان به ؟

.....

٣. تمتاز السهول الرسوبية بارتفاع الكثافة السكانية ؟

.....

٤. ينخفض اعداد السكان في السهول الداخلية؟

.....

٥- اكمل جدول المقارنة التالي

السهول الداخلية	السهول الساحلية	وجه المقارنة
		الكثافة السكانية
		الأمثلة



٦- ادرسي الخريطة التالية ثم اجيبي :-



- ١- ارسمي 😊 في الدول التي يجري بها نهر النيل
- ٢- الرقم الدال على الموقع الصحيح لتكون دلتا نهر النيل هو الرقم
- ٣- ما اسم المسطح المائي المشار له بالرقم (٤)
- ٤- اكتبني البحر المتوسط في مكانة الصحيح في الخريطة
- ٥- ضعني ■ في الدولة التي يجري بها نهري دجلة والفرات

اسئلة تحاورني من ص ٢٥ إلى ص ٢٦

اولاً . اكمل العبارات التالية

- ١- من ابرز الصحاري انتشاراً في الوطن العربي و
- ٢- تنتشر الصحاري في عُمان في الربع الخالي .و.....
- ٣- تقع الصحراء الكبرى في
- ٤- تقع الصحراء الجوف في
- ٥- نوع الكثبان التي تمثله الصورة هي الكثبان 
- ٦- العامل المؤثر في تكوين شكل الكثبان وحجمها هي
- ٧- المشكلة التي تمثلها الصورة هي مشكلة 

السؤال الثاني : اجيبي على الاسئلة التالية :

١- اكتبى اسفل كل صورة نوع الكثبان



٢- ادرسي الصورة التي أمامك ثم اجيبي



١. المشكلة التي تمثلها الصورة هي

٢. العامل السبب في حدوث المشكلة

٣. ما النتائج المترتبة على حدوث المشكلة

أ. ب.

٤. اقترحي حلول لحل المشكلة

أ. ب.

٣- ادرسي الخريطة التي أمامك ثم اجيبي

١- ما اسم الصحراء التي تظهر في الدولة

٢- المشار لها بالرقم (١)

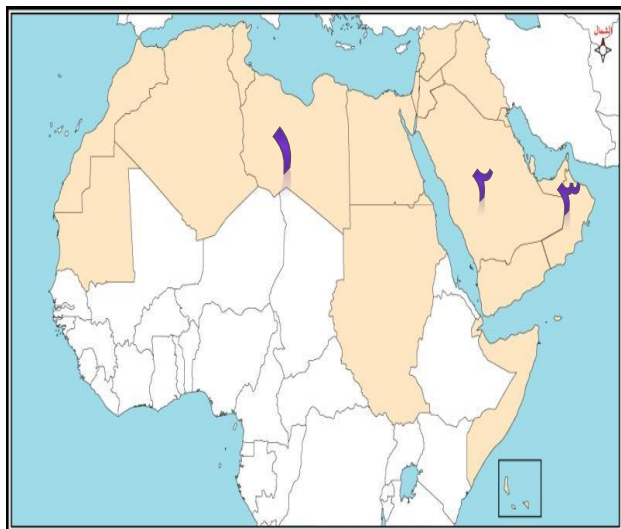
.....

٣- الدولة التي تتواجد بها صحراء النفوذ هي

.....

٤- الرقم الدل على الدولة التي توجد بها صحاري


رمال الشرقية هو الرقم



اسئلة تحاورني من ص ٢٧

اولاً . اكمل العبارات التالية

١- الشكل التضاريسية الذي يمثله الصورة هو



- ٢- اراضي منبسطة (قليلة الانحدار) ترتفع عما يجاورها هو تعريف
- ٣- تسمي الهضبة التي توجد في الدولة المشار لها بالرقم (١) بهضبة
- ٤- يمارس سكان هضبة حضرموت الزراعية والرعي بسبب
- ٥- يستخرج من هضاب محافظة الوسطى
- ٦- تنتشر في هضبة نجد
- ٧- الرقم الدال على الدولة التي توجد بها هضبة نجد هو الرقم



السؤال الثاني : اجبني على الاسئلة التالية

- ١- عرفني الهضبة :
- ٢- أكملني جدول المقارنة التالية

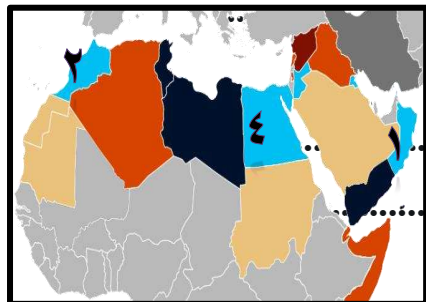
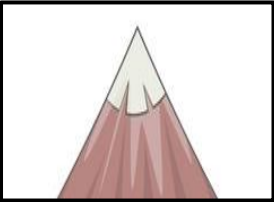
الهضبة	الدولة العربية التي يوجد بها	الاهمية الاقتصادية
حضرموت		
	السعودية	
		استخراج النفط

- ٣- علي العبارة التالية / يمارس سكان هضبة حضرموت الزراعة والرعي .

اسئلة تحاورني من ص ٢٨ إلى ص ٢٩

اولاً . اكملني العبارات التالية

- ١- تُعد أكثر التضاريس ارتفاعاً على سطح الأرض
- ٢- أكبر قمة جبلية في الوطن العربي هو جبل
- ٣- يبلغ ارتفاع جبل طبقال حوالي
- ٤- الشكل التضاريسي الذي أمامك هو شكل
- ٥- يقع جبل مرة في
- ٦- الرقم الدال على الدولة التي يتواجد بها جبل طبقال هو الرقم



- ٧- اسم جبل يقع في الدولة المشار لها بالرقم (١)
- ٨- استخدم السكان للزراعة في المناطق الجبلية نظام

٩- من المهن التي يمارسها السكان في المناطق الجبلية مهنة

١٠- يطلق على الجبال المترابطة مع بعضها البعض اسم

السؤال الثاني : اجيبي على الاسئلة التالية

١- عرفي كلاً من :

الجبال :

السلسلة الجبلية :

٢- اذكرني اثنين لكلاً من :-

١. جبال توجد في الوطن العربي

أ. ب

٢. منتجات زراعية تزرع في الجبل الأخضر

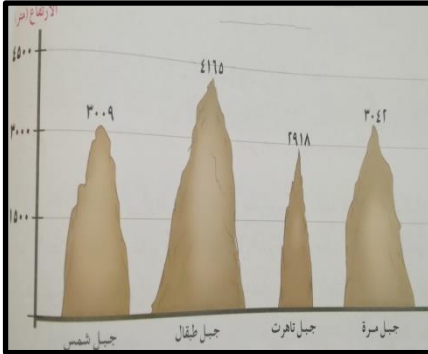
أ. ب

٣. أنشطة اقتصادية تمارس في المناطق الجبلية

أ. ب

٣- ادرسي الشكل الذي أمامك ثم اجيبي


رتبي الجبال التي أمامك ترتيباً تنازلاً



٤	٣	٢	١

٤- ادرسي الشكل الذي أمامك ثم اجيبي :-

١. الشكل التضاريسي الذي يمثله الصورة هو



٢. عددي المهن الممارسة في هذه المنطقة

٣. فسري استخدم السكان في المنطقة نظام المدرجات

٥- عللي العبارات التالية :-

١. استغلنا بعض الجبال في الوطن العربي في السياحة ؟

.....

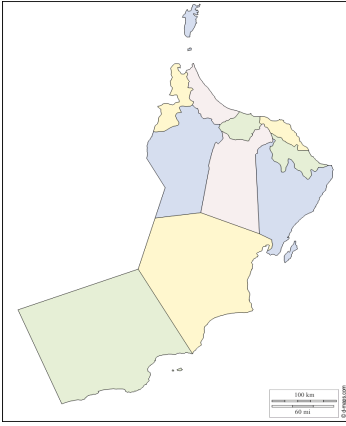
٢. استخدم سكان المناطق الجبلية نظام المدرجات ؟

.....

٦- ارسمي في المساحة التي أمامك كلا من

الجبل	السلسلة الجبلية

٧- اقرئي النص ثم اجيبي ص ٢٩



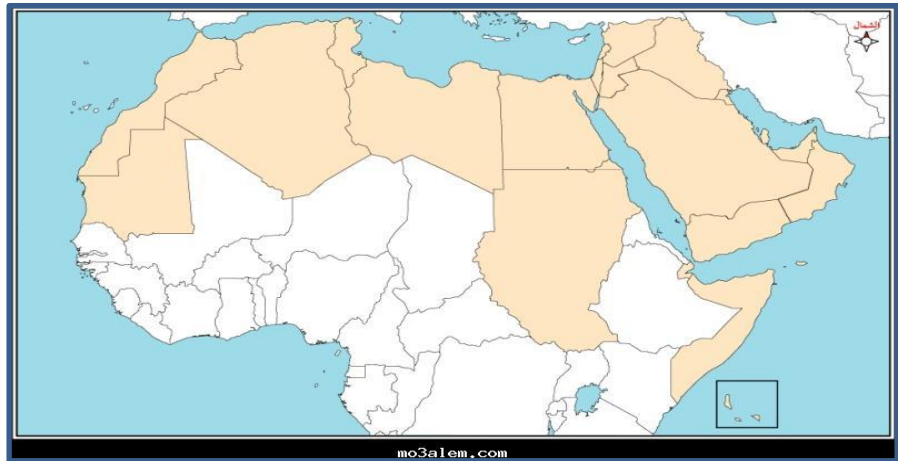
١. ضعي مربع في المحافظة التي يوجد بها الجبل الاخضر

٢. يصل ارتفاع الجبل الاخضر حوالي

٣. صفني المناخ في الجبل الاخضر ؟

.....

٨- ادرسي الخريطة التي أمامك ثم اجيبي



١. ضعي مربع ■ في الدولة التي يتواجد بها جبل طبقال

٢. ارسمي 😊 في الدولة التي يتواجد بها الجبل الاخضر

كان أدائي في حل أسئلة الدرس






وتعلو همتي .. سأتميز في الإجابة .. الدرس: مناخ الوطن العربي



اسئلة تحاورني من ص ٣٠ إلى ص ٣٢

اولاً . اكمل العبارات التالية

- ١- حالة الجو لفترة زمنية لا تتجاوز عدة أيام هو تعريف
- ٢- نفذ الجهة المسؤولة عن متابعة حالة الجو سلطنة عمان هي
- ٣- متوسط حالة الجو لفترة زمنية طويلة هو تعريف
- ٤- يهتم الناس بمعرفة حالة الجو بسبب تأثيره
- ٥- من الوسائل المستخدمة في متابعة حالة الطقس .. و..... و.....
- ٦- يدل الرمز الذي أمامك بأن حالة 

السؤال الثاني : اجبني على الاسئلة التالية

اولاً : عرفني كلا من

١. الطقس
٢. المناخ
- ٢- عللي العبارة : يهتم الناس بمعرفة حالة الجو بشكل مستمر ؟




٣- صنفني المعلومات التالية في مكانها الصحيح في الجدول
(حالة الجو - فترة زمنية طويلة - شهر - فترة زمنية قصيرة - متوسط حالة الجو)

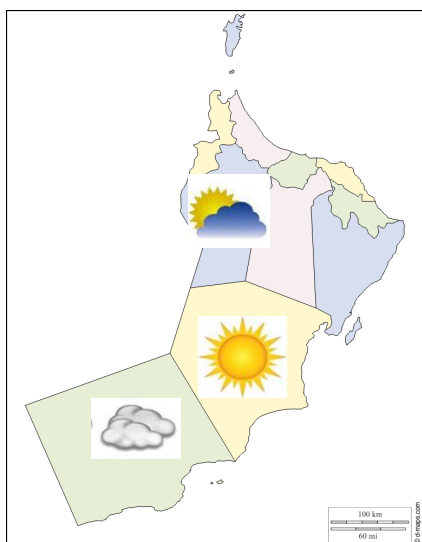
الطقس	المناخ

٤- اكمل جدول المقارنة التالي بين الطقس والمناخ

وجه المقارنة	الطقس	المناخ
التعريف		
الفترة الزمنية		

٥- صفي حالة الجو بناء على الرمز الذي أمامك

حالة الجو	الرمز
	
	
	
	



٦- بالاستعانة بالرمز صفي حالة الجو في المحافظة التالية

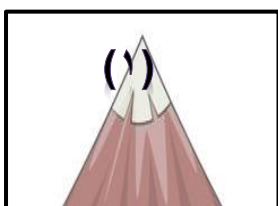
حالة الجو	المحافظة
	الظاهرة
	ظفار
	الوسطى

٢. ارسمي في محافظة الداخلية رمز الطقس الدال على الجو الممطر .

اسئلة تحاورني من ص ٣٢ إلى ص ٣٤

اولاً . اكلمي العبارات التالية

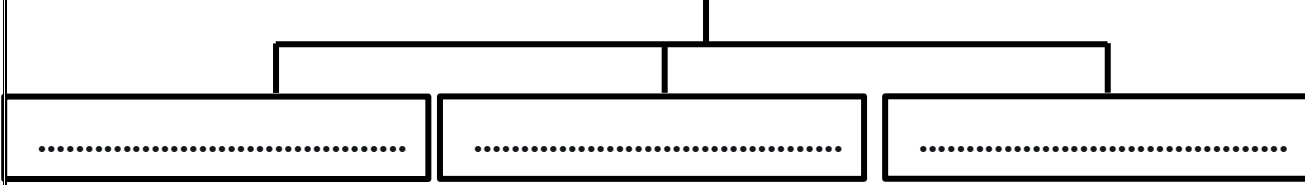
- ١- يمتد الوطن العربي بين دائرتي عرض و
- ٢- يقع الوطن العربي ضمن المنطقة الحارة و.....
- ٣- تختلف درجات الحرارة والامطار في الوطن العربي من مكان لآخر بسبب
- ٤- من العوامل التي يتأثر بها مناخ الوطني العربي و
- ٥- تتميز المناطق البعيدة عن البحر ب
- ٦- تكون درجة الحرارة في المنطقة المشار لها بالرقم (١).....
- ٧- تقع سلطنة عمان في المنطقة



السؤال الثاني : اجبني على الاسئلة التالية :

اولاً : اكلمي المخطط

العوامل المؤثرة في المناخ



٢- علي العبارات التالية :

أ. اختلاف درجات الحرارة والامطار في الوطن العربي من مكان إلى آخر ؟

.....

ب. توافذ السياح الى المناطق الجبلية في فصل الصيف ؟

.....

٣- صغي اشارة () في المنطقة التي تمتاز بانخفاض درجات الحرارة

ب .

أ.

المناطق الداخلية	المناطق الساحلية	المناطق السهلية	المناطق الجبلية

اسئلة تحاورني من ص ٣٢ إلى ص ٣٤

اولاً . اكلمي العبارات التالية

١- يتميز مناخ البحر المتوسط صيفاً ب

٢- يظهر في دول مناخ البحر المتوسط نمط الزراعة المعتمدة على مياه

٣- المنطقة التي يظهر بها مناخ البحر المتوسط في عُمان هي منطقة

٤- يظهر مناخ البحر المتوسط في الوطن العربي على الساحل

٥- المناخ الذي يغطي مساحات واسعة من اراضي الوطن العربي هو المناخ

٦- يتركز مناخ البحر المتوسط حول مدار

٧- يتميز مناخ البحر المتوسط في فصل الصيف بإرتفاع

٨- يغلب على الصحاري العربية

٩- ينتج عن سقوط الامطار الفجائية في الصحراء تكون

١٠- تقع منطقة عين صالح في

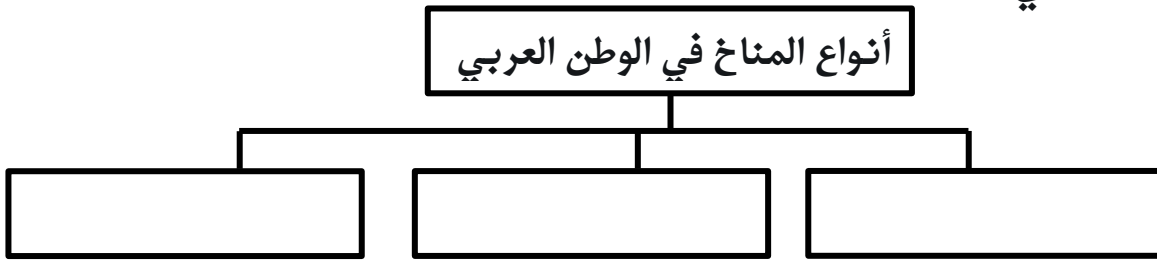
١١- يظهر المناخ الموسمي في الوطن العربي في كلا من و و

- ١٢- يمتاز المناخ الموسمي في فصيل الصيف
- ١٣- تسقط الامطار في المناطق الموسمية في شهريو.....
- ١٤- يوجد المناخ الموسمي في سلطنة عمان في
- ١٥- تسقط الامطار في مناطق المناخ الموسمي بسبب تأثير
- ١٦- يسمى موسم هطول الامطار صيفا في جبال ظفار بموسم
- ١٧- نوع المناخ الذي تمثله الصورة هو المناخ



ثانياً : اجبني على الاسئلة التالية :

١- اكلمي المخطط التالي



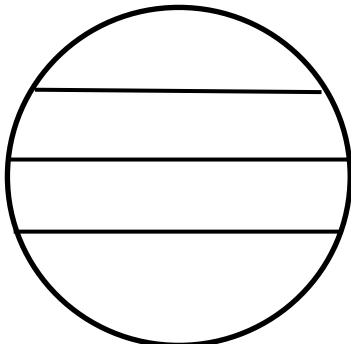
٢- قارني بين مناخ البحر المتوسط والمناخ الموسمي

وجه المقارنة	مناخ البحر المتوسط	المناخ الموسمي
أماكن ظهوره		
مميزات المناخ		

٣- ابيهما أكثر انتشاراً في الوطن العربي

المناخ الصحراوي	المناخ الموسمي

٤- حددي على الشكل منطقة ظهور المناخ الصحراوي



٥- علي العبارات التالية

١. تسمية مناخ البحر المتوسط بهذا الاسم

.....

٢. سقوط الامطار في محافظة ظفار في فصيل الصيف

.....

٦- اذكرني نتجه واحدة ترتيب على كلاً من :-

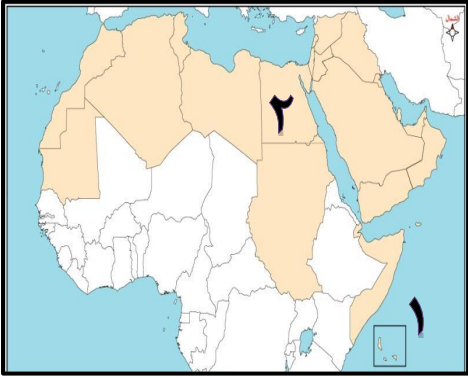
١. سقوط الأمطار في مناطق المناخ الصحراوي ؟

.....

٢. تكون الخريف في محافظة ظفار ؟

.....

٧- ادرسي الخريطة التي أمامك ثم اجيبي



١. المسطح المائي المشار له بالرقم (١) هو

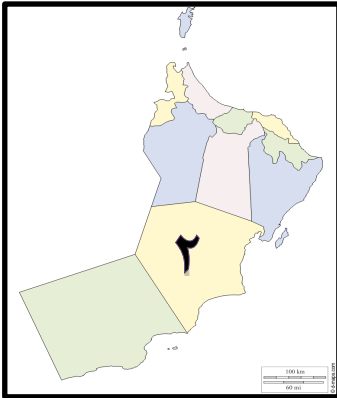
٢. ارسمي 😊 في دولة يظهر بها المناخ الموسمي .

٣.

٤. ما نوع المناخ الذي يظهر في الدولة المشار لها بالرقم ٢

.....

٨- ادرسي الخريطة ثم اجيبي



١. ضعي دائرة في المحافظة التي يظهر بها المناخ الموسمي

٢. ما نوع المناخ الذي يظهر في المحافظة المشار لها بالرقم (٢)

.....

كان أدائي في حل أسئلة الدرس





وتعلو همتي .. سأتميز في الإجابة .. الدرس: الموارد الطبيعية في الوطن العربي



اسئلة تحاورني من ص ٤٤ إلى ص ٤٦

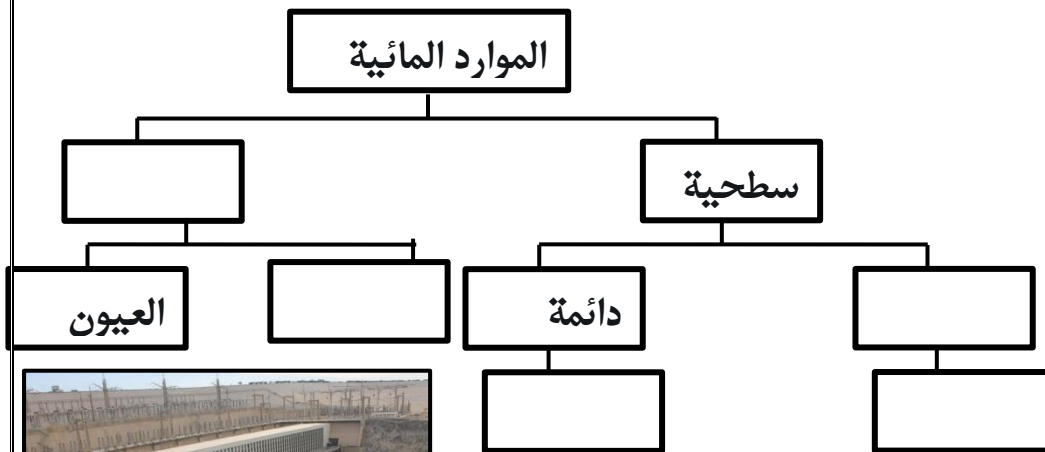
السؤال الأول : اكمل العبارات التالية:

١. معظم المجاري المائية السطحية في الوطن العربي
٢. يطلق على المجاري المائية مؤقتة الجريان اسم
٣. من أمثلة المجاري المائية دائمة الجريان في الوطن العربي
٤. تصنف الأنهار من أنواع المجاري المائية
٥. اقامت السدود على الأنهار و الاودية بهدف استغلال المياه في فترات
٦. يقع سد وادي ضيقه في ولاية
٧. يقع السد العالي على نهر
٨. يقع فلج الخطمين في نيابة بركة الموز بولاية
٩. تقع عين الكسفة في قرية عيني بولاية
١٠. يسمى الفلج الذي أمامك بفلج
١١. تمثل الصورة التي أمامك
١٢. تعد الأفلاج من انواع المياه



السؤال الثاني : تجيب على الأسئلة التالية

١. اكمل المخطط التالي.



ادرسى الصورة التي أمامك ثم اجيبى

١. يسمى السد التي تمثله الصورة بالسد
٢. ضعي مربع ■ في الدولة التي يوجد بها السد
٣. وضحى الهدف من إنشاء هذا السد
٤. تم بناء هذا السد على نهر

اسئلة تحاورني من ص ٤٧

أولاً: اكمل العبارات التالية



١. يعاني الوطن العربي من مشكله نقص المياه بسبب.....
٢. تمثل الصورة التي أمامك احد الحلول المتعلقة في توفير المياه العذبة والمتمثلة في
٣. استخدمت مياه الصرف الصحي المعالجة في.....

السؤال الثاني : اجيبي على الأسئلة التالية

١. عللي العبارات التالية

١_ يعاني الوطن العربي من مشكلة نقص المياه

٢_ توجهت الدول العربية إلى عملية تحلية مياه البحر....

٢. ادرسي الصورة التي أمامك ثم اجيبي

١. تقع محطة التحلية التي أمامك في

٢. وضح السبب الذي دفع الدول إلى أقامه محطات التحلية

٣. ما دورك في الحفاظ على المياه

٤. الحفاظ على المياه واجب وطني فسري العبارة



اسئلة تحاورني من ص ٤٧

أولاً: اكمل العبارات التالية

- ١- الطبقة المفتتة من قشرة الارض تنمو عليها النباتات هو تعريف
- ٢- من العوامل المؤثرة في نوع التربة و
- ٣- احدى مكونات التربة ويرجه أصلها إلى بقايا نباتيه وحيوانية هو تعريف
- ٤- تختلف خصائص التربة بسبب
- ٥- من المحاصيل التي تزرع في تربة البحر المتوسط و و



- ٦- يتم زراعة هذا النوع من المحاصيل في التربة
- ٧- تسمى التربة التي تظهر في الخريطة التي أمامك بالتربة
- ٨- أكثر أنواع التربة انتشاراً في الوطن العربي هي التربة
- ٩- تعد التربة الفيضية من الترب الخصبة الصالحة بزراعة بسبب

السؤال الثاني : اجبني على الاسئلة التالية :-

١- اذكرين اثنتين لكلاً من :-

أ. العوامل المؤثرة في التربة

..... و

ب. انواع التربة في الوطن العربي

..... و

ج. المحاصيل التي تزرع في تربة البحر المتوسط

..... و

٢- عللي العبارات التالية :

أ. تختلف نوعية التربة من مكان إلى آخر ؟

.....

ب. تفتقر التربة الصحراوية للعناصر الغذائية ؟

.....

ج. تُعد التربة الرسوبية من الترب الخصبة الصالحة للزراعة ؟

.....

د. انتشار التربة الصحراوية في العديد من دول الوطن العربي؟

.....

٣- ضعي علامة () مع ذكر السبب أي أكثر أنواع التربة صالحة للزراعة

التربة الفيضية	التربة الصحراوية
السبب	

٤- صنف المعلومات التالية في الجدول في مكانها الصحيح

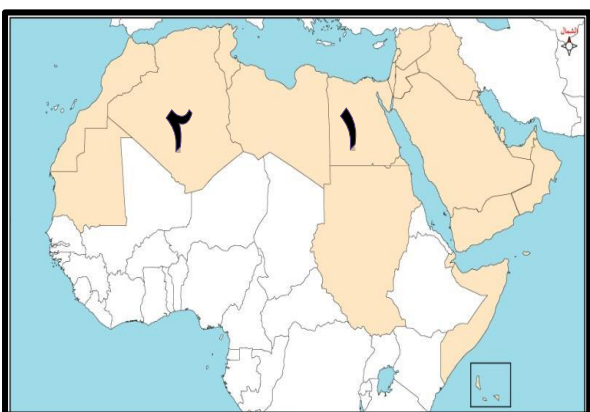
(الحبوب - زراعة النخيل - نهر النيل - بلاد الشام - تغطي مساحة واسعة - تظهر بالقرب من الانهار)

البحر المتوسط	التربة الصحراوية	التربة الفيضية

٥- عرفي كلاً من :-

التربة :

المادة العضوية :

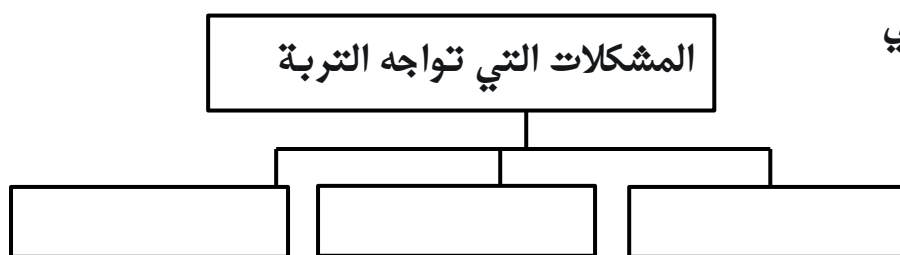


٦- ادركي الخريطة التي أمامك ثم اجيبي

١. ما نوع التربة في المنطقة المشار لها بالرقم (١)

٢. ما الفرق بين التربة في الدولة المشار لها بالرقم (١) والدولة المشار لها بالرقم (٢)

٧- اكمل المخطط التالي



اسئلة تحاورني من ص ٥٠ إلى ص ٥١

أولاً: اكمل العبارات التالية

١- تقل التربة من مكان إلى آخر بفعل جريان المياه السطحية هو تعريف

٢- ارتفاع نسبة الاملاح في التربة هو تعريف مشكلة

٣- تحدث مشكلة التملح بسبب و و

٤- المشكلة التي تظهر في المنطقة المشار لها بالرقم (١) هي مشكلة



٥ ثانياً : اجيبي على الاسئلة التالية

١- عرفي كلاماً من :

١. الانجراف :
٢. التملح :
٣. تدهور خصوبة التربة

٢- عللي العبارات التالية :

١. حدوث مشكلة انجراف التربة بعد سقوط الامطار ؟

.....

٢. تعرض اراضي سهل الباطنة إلى مشكلة التملح ؟

.....

٣. حدوث مشكلة تدهور خصوبة التربة ؟

.....

اسئلة تحاورني من ص ٥٢ إلى ص ٥٥

أولاً: اكمل العبارات التالية

١- النباتات التي تنمو من تلقاء نفسها هو تعريف

٢- تختلف النباتات الطبيعية في الوطن العربي من مكان لآخر بسبب و.....

٣- تُعد الشجرة التي أمامك من اشجار.....

٤- تتميز النباتات الصحراوية ب.....

٥- تُعد من الأشجار الصارة في البيئة العمانية

٦- تكون النباتات المدارية كثيفة وطويلة بسبب

٧- تعد النباتات التي تمثلها الصورة من النباتات

٨- تعد من المشكلات التي تواجه النباتات الطبيعية في الوطن العربي



السؤال الثاني : اجيبي على الاسئلة التالية :

أولاً : عرفي كلاماً من :-

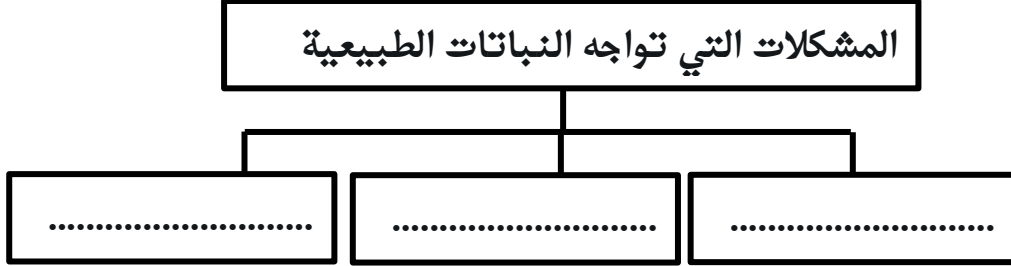
١. النباتات الطبيعية

٢. المسكيت


ثانياً: اكمل جدول المقارنة التالي

النباتات المدارية	النباتات الصحراوية	وجه المقارنة
		المميزات
		امثله للنباتات

٣. اكمل المخطط التالي



٤. ادرس الصورة التي أمامك



١- المشكلة التي يمثلها الصورة هي

٢- ما النتيجة المترتبة على حدوث هذه المشكلة في السنة

٣- قدمي مقترحات للتغلب على المشكلة

٥. عللي العبارات التالية :-

١- تسمية النباتات الطبيعية بهذا الاسم

٢- قلة النباتات الطبيعية في الصحاري

٣- كثافة النباتات في المناطق المدارية الرطوبة

كان أدائي في حل أسئلة الدرس





اسئلة تحاورني من ص ٥٨ إلى ص ٦١

أولاً: اكمل العبارات التالية

١. تعد الموطن الأول للعرب.....
٢. أحد أنظمة الحكم و الإدارة في شبه الجزيرة العربية قبل الإسلام.....
٣. كان يحكم عمان قبل الإسلام.....
٤. كانت عاصمة عمان قبل الإسلام هي مدينة.....
٥. من الممالك التي تواصلت معها شبه الجزيرة العربية قبل الإسلام هي..... و.....
٦. حكمت قبيلة قريش قبل الإسلام مدينة.....
٧. عاصمة عمان قبل الإسلام هي مدينة.....



٨. الرقم الدال على المدينة التي كانت تحكمها قريش قبل الإسلام هو الرقم



٩. تعد من المهن التي اشتغل فيها العرب قبل الإسلام.....

١٠. تعد من الواحات الزراعية التي قامت في وسط شبه الجزيرة العربية.....

١١. الواحة الزراعية التي قامت في وسط شبه الجزيرة العربية هي واحة.....



١٢. تمثل الصورة التي أمامك احد الأنشطة الاقتصادية الممارسة

في شبه الجزيرة العربية قبل الإسلام.....

١٣. تعد من السلع التي تاجرت بها كل من مرباط و صحار قبل الإسلام وهي



السؤال الثاني : اجيب على الأسئلة التالية

اولاً: اذكر اثنتين لكلا من :

١. مميزات العرب

أ.

ب.

٢. ممالك ودول خارج شبه الجزيرة العربية ارتبطت بشبه الجزيرة العربية

أ.

ب.

٣. الأنشطة الاقتصادية الممارسة في شبه الجزيرة العربية قبل الإسلام

- أ.
ب.

٤. السلع و البضائع التي تاجرت بها صحار و مرباط قبل الإسلام

- أ.
ب.

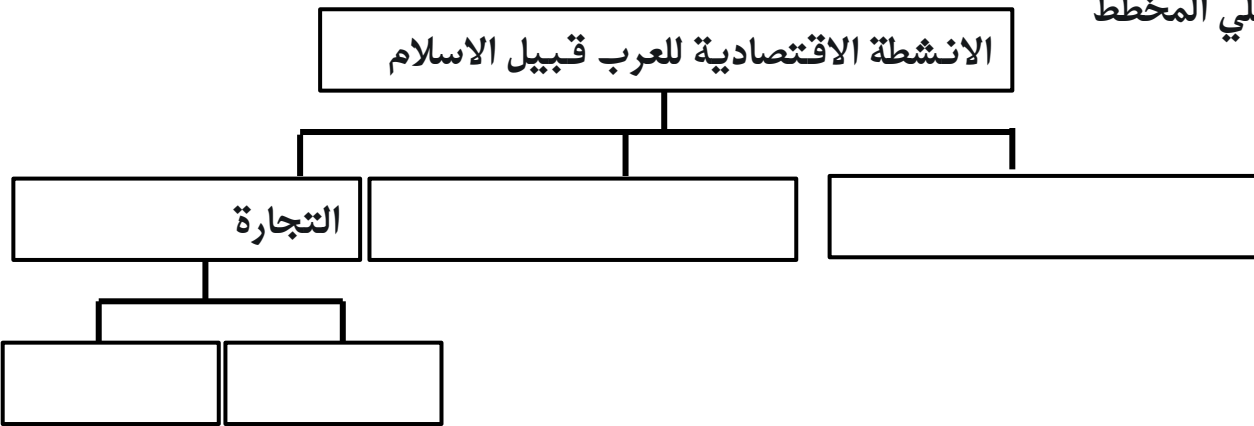
ثانياً: ادرسي الخريطة التي أمامك ثم اجيبي



١. اكتبي في الخريطة عاصمة عمان قبل الإسلام
٢. ضعي دائرة حول الواحة الزراعية التي قامت في شبة الجزيرة العربية.....


٣. ما اسم المسطح المائي المشار له بالرقم (١).....

ثالثاً: اكلمي المخطط



اسئلة تحاورني من ص ٥٨ إلى ص ٦١

أولاً: اكلمي العبارات التالية



١. تمثل الصورة احد أنمط الحياة التي عاشها العرب قبل الإسلام وهي الحياة.....

٢. النشاط الاقتصادي الذي مارسه سكان الحياة البدوية قبل الاسلام

٣. تعد من القيم التي سادت بين العرب قبل الإسلام..... و.....

ثانياً: اجيبي على الأسئلة التالية

١. عللي العبارة التالية

(تنقل البدو من مكان لآخر)

ثالثاً: اكملّي جدول المقارنة التالية

الوجه المقارنة	الحياة البدوية	الحياة الحضرية
المسكن		
النشاط الاقتصادي		

اسئلة تحاورني من ص ٦٣ إلى ص ٦٤

أولاً: اكملّي العبارات التالية

١. انتشرت بين العرب قبل الإسلام عبادة.....
٢. اعتنق بعض سكان شبه الجزيرة العربية اليهودية و النصرانية بسبب.....
٣. من العلوم التي نبغ فيها العرب قديماً.....
٤. اشتهر العمانيون بخبرتهم في علم.....
٥. خطيب عماني عاش قبل الإسلام اشتهر بالفصاحة و البلاغة هو.....

ثانياً : اجيبي على الأسئلة التالية

١- ادرسي الشكل الذي أمامك ثم اجيبي
١_ العبادة التي انتشرت بين العرب قبل الإسلام هي



- ٢_ وضح السبب اعتنق بعض سكان شبه الجزيرة العربية اليهودية و النصرانية.....
- ٣- فسري كلاماً من : -
١. كانت القبائل العربية تحج إلى مكة قبل الإسلام

٢. اهتمام العمانيين بعلم الملاحة البحرية

كان أدائي في حل أسئلة الدرس





وتعلمو همتي .. سأتميز في الإجابة .. الدرس الأول : مدن عمانية في فترة ظهور الإسلام



اسئلة تحاورني من ص ٦٥ إلى ص ٦٦

أولاً: اكمل العبارات التالية

١. قامت المدن العمانية في فترة ظهور الإسلام في كلاً من و..... و.....

٢. المدينة العمانية المشار لها بالرقم (١) هي مدينة.....


٣. المسطح المائي المشار له بالرقم (٢) هو.....



ثانياً: اجيبي على الأسئلة التالية

١- اكمل المخطط التالي

أماكن قيام المدن العمانية قديماً



٢- ادرس الخريطة التي أمامك ثم اجيبي

١. المسطح المائي المشار له بالرقم (١) هو.....

٢. اكتب في الخريطة كلاً من

أ. صحار

ب. دبا



اسئلة تحاورني من ص ٦٦ إلى ص ٦٧

أولاً: اكمل العبارات التالية

١. عاصمة عمان في فترة ظهور الإسلام هي مدينة.....

٢. تمثل الصورة التي أمامك رسالة الرسول صل الله عليه وسلم لأهل.....

٣. ملكي عمان قبل الإسلام هما.....

٤. تربط مدينة صحار بين..... و.....

٥. نشطت تجارة صحار بين..... و.....



٦. أسواق سنوية يتم فيها تبادل السلع و البضائع المختلفة و تقام فيها الملتقيات الأدبية هو

تعريف.....



٧. كان يقام سوق عكاظ بالقرب من.....

٨. نوع النشاط التي تمثله الصورة الذي أمامك.....

السؤال الثاني: اجيبي على الأسئلة التالية:

١. ادرسي الصورة التي أمامك ثم اجيبي

١- تم إرسال هذه الرسالة الى

٢- حامل هذه الرسالة هو.....

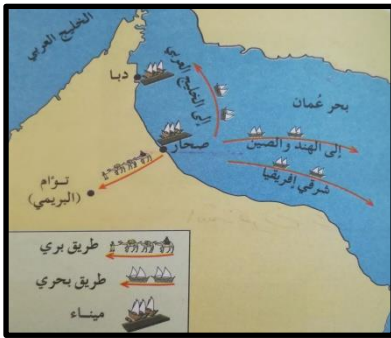

٣- ما الهدف من ارسال الرسالة؟.....

٢. ادرسي الخريطة التي أمامك اجيبي

١- استخراجي من الخريطة مدينة عمانية يوجد بها ميناء

تجاري.....

٢- ما ابرز الدول التي تاجرت معها عمان



اسئلة تحاورني من ص ٦٦ إلى ص ٦٧

أولاً: اكمل العبارات التالية

١. تعد من الموانئ المشهورة التي تربط بين شبه الجزيرة العربية و الهند و السند و الصين و

شرقي أفريقيا هي.....

٢. تعد من السلع التي تاجرت بها مدينة.....

٣. السوق الذي كان يقام بالقرب من مرباط هو سوق.....

٤. المدينة التي كانت تسمى بشحر عمان قديما هي

٥. الدولة التي ارتبطت بتجارة مع مرباط منذ القدم هي دولة.....

٦. المدينة العمانية التي ينتمي إليها القاضي كعب بن سور هي مدينة.....

٧. المدينة التي ينتمي إليها القائد المهلب بن أبي صفرة هي

٨. يحد مدينة دبا من جهة الشرق بحر.....

٩. توفي القائد المهلب بن أبي صفرة عام.....

١٠. المدينة العمانية التي تعد بوابة عمان الشمالية هي مدينة.....





١١. الرقم الدال على مدينة دبا هو الرقم.....

ثانيا: اجيبي على الأسئلة التالية

١_ اكلمي الجدول بوضع المدينة بجانب الميزة التي تمثلها
(تؤام - مرباط - دبا)

المدينة	الميزة
	يحدها من جهة الشرق بوابة عمان
	بوابة عمان الشمالية
	اشتهرت بتجارة اللبان والخيول



٢_ ادرسي الخريطة التي أمامك ثم اجيبي

١. استخرجي البحر الذي يحد دبا من جهة الشرق.....

٢. ارسمي 😊 في المحافظة التي تقع بها مدينة تؤام

٣. اكتبي في الخريطة المدينة المشتهرة بتجارة اللبان و الخيول..

٣- اذكرني اثنين لكلا من

١. السلع التي تاجرت بها مرباط منذ القدم

أ.

ب.

٢. شخصيات عمانية من مدينة دبا

أ.

ب.

كان أدائي في حل أسئلة الدرس





اسئلة تعاورني من ص ٧٠

أولاً: اكمل العبارات التالية

- ١_ عاصمة الدولة الإسلامية في عهد النبوة و الخلافة ال أشده هي.....
- ٢_ عاصمة الدولة الإسلامية في عهد النبوة و الخلافة الراشدة هي مدينة
- ٣_ امتد عصر النبوة من ١ ه الى العام الهجري
- ٤_ اول من تولى الخلافة بعد وفاة الرسول صل الله عليه وسلم هو الخليفة
- ٥_ امتد عصر الخلافة الراشدة الى العام الهجري
- ٦_ ثالث الخلفاء الراشدين هو الخليفة.....
- ٧_ اخر الخلفاء الراشدين هو الخليفة.....

ثانيا : اجيبي على الاسئلة التالية :

١- رتبي الخلفاء الراشدين ترتيبا صحيحا

الترتيب	الخلفاء الراشدين
	عمر بن الخطاب
	علي بن أبي طالب
	أبو بكر الصديق
	عثمان بن عفان

٢ - اكتبني في الخريطة التي أمامك كلا من عاصمة الدولة الاسلامية في عهد النبوة و الخلافة الراشدة - عاصمة عمان في فترة ظهور الاسلام



اسئلة تحاورني من ص ٧٢ إلى ص ٧٥

أولاً: اكمل العبارات التالية

١. مسمى يطلق على كل من أسلم و التقى بالرسول صل الله عليه وسلم هو تعريف
٢. ينتسب الصحابي كعب بن برشة الطاحي لمدينة.....
٣. ينتسب الصحابي زهير بن قرضم المهري لمدينة
٥. اسلم الصحابي زهير بن قرضم المهري في عهد.....
٦. الصحابي الذي تميز بحب الاستطلاع و البحث عن المعرفة هو.....
٧. مسمى يطلق على كل من أسلم و التقى بالصحابة هو تعريف.....
٨. ينتمي التابعي كعب بن سور الأزدي إلى المدينة.....
٩. المدينة التي ينتمي إليها التابعي كعب بن سور الأزدي هي مدينة
١٠. "لو أن أهل عمان أتيت ما سبوك و لا ضربوك" قائل العبارة هو.....

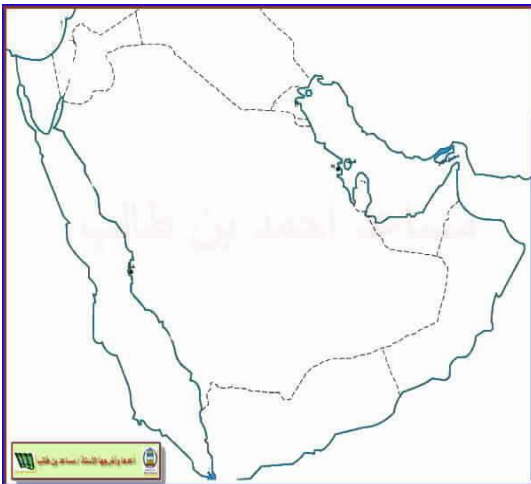
السؤال الثاني: اجبني على الأسئلة التالية

١_ عرفني كلا من

- أ. الصحابي :
- ب. التابعي:

٢_ اكمل الجدول التالي

وجه المقارنة	زهير بن قرضم المعمرى	كعب بن سور الأزدي
المدينة التي ينتمي اليها		
الفترة الزمنية		
الأعمال		



٣_ اقربي المقولة التالية ثم اجبني

"لو أن أهل عمان أتيت ما سبوك و لا ضربوك"

١. قائل هذه العبارة

٢. ارسمي 😊 الدولة يعيش في السكان

التي قبيلت لهم العبارة

٤_ ضعبي المعلومات التالية في مكانها الصحيح في الجدول
(التابعي_الصحابي)

الشخصية	اللقب
زهير بن قرضم المعمرى	
كعب بن سور الأزدي	



كان أدائي في حل أسئلة الدرس





وتعلو همتي .. سأتميز في الإجابة .. الدرس: العمل الاجتماعي



اسئلة تحاورني من ص ٧٠

أولاً: اكمل العبارات التالية

السؤال الأول : اكمل العبارات التالية:

١. الإنسان لا يستطيع العيش منعزل عن الآخرين بسبب
٢. تقديم الخدمات الآخرين بصورة فردية أو من خلال جماعة هو تعريف.....
٣. عمل مشترك يقوم به الأفراد و الجماعات لتحقيق أهداف معينه هو تعريف.....
٤. "وتعاونوا على البر والتقوى ولا تعاونوا على الإثم والعدوان" تحثنا الآية إلى التحلي بخلق.....

السؤال الثاني: اجبني على الأسئلة التالية

اولا : عرفني كلا من:-

١. العمل الاجتماعي
٢. التعاون

ثانيا: علي العبارات التالية

١. الإنسان لا يستطيع العيش بمنعزل عن الآخرين؟

.....

٢. حثنا الدين الإسلامي على التحلي بخلق التعاون؟

.....

ثالثا: اقرئي الآية التالية ثم اجبني

"وتعاونوا على البر والتقوى ولا تعاونوا على الإثم والعدوان"

١. تحثنا الآية على التحلي بخلق؟

٢. ما فائدة التحلي بهذا الخلق؟

.....

اسئلة تحاورني من ص ٨١ إلى ص ٨٥

أولاً: اكمل العبارات التالية

١. عمل مشترك يقوم به الأفراد و الجماعات لتحقيق أهداف معينة هو تعريف
٢. " وتعاونوا على البر والتقوى ولا تعاونوا على الإثم والعدوان " تحثنا الآية على التحلي بخلق.....
٣. توضح الصورة مبدأ.....



٤. رعاية و مساعدة أفراد المجتمع بعضهم بعضا لاسيما الفقراء و الأيتام و كبار السن و الأشخاص ذوي الإعاقة هو تعريف.....
٥. التكافل الاجتماعي ضروري لتماسك.....
٦. حدث إعصار جوف عام.....
٧. توضح الصورة على خلق.....
٨. الفرد الذي يشعر بانتمائه لوطنه ويسهم في خدمته هو تعريف.....
٩. الاساس في بناء المجتمع هي.....
١٠. قامت الأسرة على أسس..... و..... و.....
١١. من الأخلاق الحميدة التي تفرسها الأسرة في ابنتها هي..... و.....
١٢. تفرس المدرسة العمل الاجتماعي لدى الطلاب من خلال.....
١٣. عمل اجتماعي غير ربحي يقوم به الأفراد أو الجماعات لتحقيق المنفعة و الخير للمجتمع هو تعريف.....
١٤. من أمثله الحملات التطوعية التي يقوم بها الطلاب في المجتمع حملات.....



السؤال الثاني : اجيبي على الأسئلة التالية :

اولا : عرفي كلا من :

١. التكافل.....
٢. المواطن الإيجابي.....
٣. العمل التطوعي.....
- ثانيا اذكري فائدتين لكلا من :

أ- التكافل الاجتماعي

- ١-.....
- ٢-.....

ب العمل التطوعي

- ١-.....
- ٢-.....

ثالثا : ضعي كلمة خاطئ/ صحيح بجانب السلوكيات التالية

الوصف	السلوك
	اتناول الطعام ثم أترك الاطباق على المائدة
	اشترك مع افراد اسرتي في تنظيف المنزل
	اقضي كل وقتي في اللعب ومشاهدة التلفاز



رابعاً : ادرسي الصورة التي أمامك ثم اجيبي

١. صفي ما تشاهده في الصورة .

.....
.....

٢. وضح أهمية العمل الذي يقوم به الطلاب؟

.....
.....



خامساً : اقري المقولة التالية ثم اجيبي

إن الحفاظ على البيئة مسؤولية جماعية لا تحدها الحدود السياسية للدول،
ثبت ذلك غير مرة، وعليه فان على الإنسان أينما كان، أن يساهم في الحفاظ
على البيئة

١- حثنا صاحب الجلالة في الخطاب السابق الى

٢- اذكر بعض الاعمال يمكنك القيام بها للحفاظ على البيئة

١-.....

٢-.....



كان أدائي في حل أسئلة الدرس





وتعلو همتي .. سأتميز في الإجابة .. الدرس: مظاهر العمل الاجتماعي



اسئلة تحاورني

أولاً: اكمل العبارات التالية

١. استمد المجتمع العماني ترابطه و تماسكه من.....
٢. من أمثله مواسم الحصاد في المجتمع العماني موسم حصاد.....
٣. يعرف حصاد التمور في المجتمع العماني
٤. اشتراك أفراد القرية في حصاد التمور هو تعريف.....
٥. يظهر تعاون أفراد المجتمع العماني في الاحتفال بالمناسبات..... و.....
٦. أبرز المحاصيل التي يتعاون أفراد المجتمع العماني في حصادها.....
٧. تمثل الصورة قطاف الورد في.....
٨. تمثل الصورة موسم
٩. تعرف السبلة العمانية.....
١٠. يعرف المكان الذي يجتمع فيه أفراد الحي لتدارس القضايا التي تهتم المجتمع.....
١١. تمثل الصورة التي أمامك.....
١٢. تمثل الصورة مساعدات السلطنة.....



السؤال الثاني : اجيبي على الأسئلة التالية

١. ادرسي الصورة التي أمامك ثم اجيبي

- ١_ عرفني موسم الجداد
- ٢_ كيف يتعاون أفراد القرية في هذا الموسم
- ٣_ وضحني ادور كل من في هذا الموسم



٤_ اذكري محاصيل زراعية أخرى يتعاون أفراد المجتمع في حصادها

.....



٢. ادرسي الصورة التي أمامك ثم اجيبي

١. الاسم الثاني للسبلة العمانية /

٢. متى يجتمع أفراد الحي في هذا المكان؟

٣. ما الاهداف التي يحققها أفراد الحي من هذا الاجتماع؟

٣. عبر عن موقعك في الحالات التالية

الموقف / التصرف	الحالة
	مرض أحد الجيران
	حفل زفاف أحد الاقارب



٤. ادرسي الصورة التي أمامك ثم اجيبي

١. ما اسم الهيئة التي يمثلها الشعار الذي أمامك

٢. اذكر بعض الخدمات التي تقوم بها هذه المؤسسة؟

٥- اقري النص الذي أمامك ثم اجيبي

((ان المجتمع العماني يعيش اليوم متغيرات عصره إلا انه لم يفرط في هويته وتراثه بل استطاع أن يجمع بين الطيب من تقاليدِه والطيب من واقع حاضره والحمد لله))

١- من قائل النص الذي أمامك

٢- كيف تعامل العمانيين مع المتغيرات التي تحدث في العالم

٣- قدمي نصيحة للأفراد الذين يفرطون في هويتهم وتقاليدهم

كان أدائي في حل أسئلة الدرس





وتعلو همتي .. سأتميز في الإجابة .. الدرس: مؤسسات العمل الاجتماعي



اسئلة تحاورني من ص ٩٥ و ص ٩٦

أولاً: اكمل العبارات التالية

١. تطور العمل الاجتماعي في عمان منذ عام
٢. الوزارة المسؤولة عن العمل الاجتماعي في السلطنة هي وزارة
٣. معاش شهري يتم صرفه لفئات معينة من المواطنين هو تعريف
- ٤- الوزارات التي تساعد وزارة التنمية الاجتماعية في تقديم الخدمات

اسئلة تحاورني من ص ٩٧ و ص ١٠٠

أولاً: اكمل العبارات التالية

١. يطلق على الأشخاص الذين يعانون من نقص في بعض قدراتهم الحسية أو الجسدية أو الذهنية هو تعريف
٢. المعهد المختص بتعليم الأشخاص ذوي الإعاقة البصرية هو معهد
٣. تمثل الإشارة التي أمامك أن المكان مخصص لفئة



السؤال الثاني : اجيبي على الأسئلة التالية

١. انظري الي الصورة ثم اجيبي

- ١- أئين أشاهد هذه الاشارة ؟
- ٢- ماذا تعني هذه الاشارة ؟
- ٣- ما واجبك تجاه الاشخاص التي تخدمهم هذه الاشارة ؟

٢. ادرسي الصورة التي أمامك ثم اجيبي

١_ بالاستعانة على الصورة وضح اهتمام الدولة بالأسرة العمانية



اسئلة تحاورني من ص ١٠١ و ص ١٠٢

أولاً: اكمل العبارات التالية

١. مؤسسات ينشئها مواطنون و تقدم خدماتها التطوعية لمختلف الفئات هو تعريف

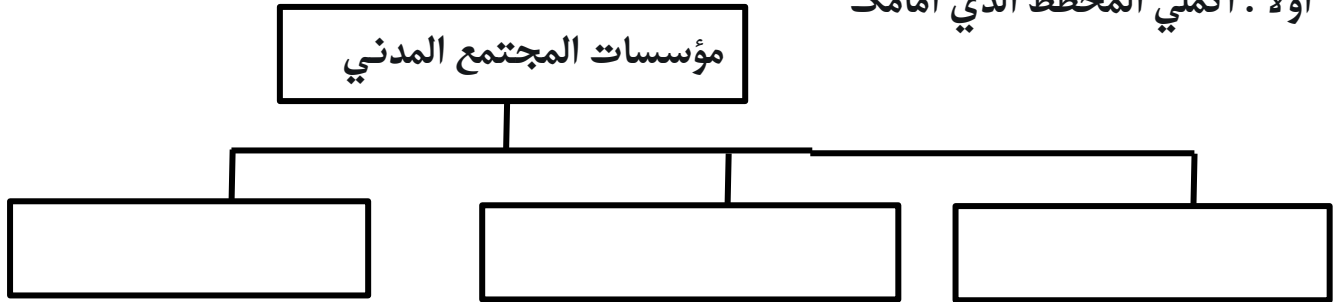
٢. الجمعية المختصة بالاهتمام بالبيئة العمانية هي

٣. تمثل الصورة التي أمامك حملات تنظيف



ثانيا : اجيبي على الأسئلة التالية

اولا : اكمل المخطط الذي أمامك



ثانيا : وضح ادوار المؤسسات التالية

الجمعية	الدور
 <p>جمعية الأطفال أولاً CHILDREN FIRST ASSOCIATION</p>	
 <p>الجمعية العمانية للسرطان oman cancer association</p>	
 <p>جمعية البيئة العمانية</p>	



٢. ادرسي الصورة ثم اجيبي

١_ ما اسم الجائزة التي تمثلها الصورة

.....

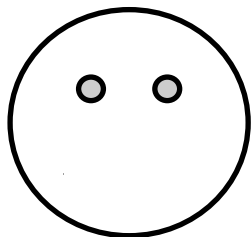
٢_ من الذي أمر بعمل بهذه الجائزة؟

.....

٣_ ما الهدف من عمل الجائزة

.....

٤- ارسمي مشاعرك في الوجه وانت تمارسين العمل التطوعي



كان أدائي في حل أسئلة الدرس

