

تم تحميل هذا الملف من موقع المناهج العُمانية



* للحصول على أوراق عمل لجميع الصفوف وجميع المواد اضغط هنا

<https://almanahj.com/om>

* للحصول على أوراق عمل لجميع مواد الصف الخامس اضغط هنا

<https://almanahj.com/om/5>

* للحصول على جميع أوراق الصف الخامس في مادة اجتماعيات ولجميع الفصول, اضغط هنا

<https://almanahj.com/om/5social>

* للحصول على أوراق عمل لجميع مواد الصف الخامس في مادة اجتماعيات الخاصة بـ الفصل الأول اضغط هنا

<https://almanahj.com/om/5social1>

* لتحميل كتب جميع المواد في جميع الفصول للـ الصف الخامس اضغط هنا

<https://almanahj.com/om/grade5>

* لتحميل جميع ملفات المدرس سلسلة الريادة اضغط هنا

للتحدث إلى بوت على تلغرام: اضغط هنا

https://t.me/omcourse_bot

الدرس الأول : موقع الوطن العربي

موقع المناهج العمانية almanahj.com/om

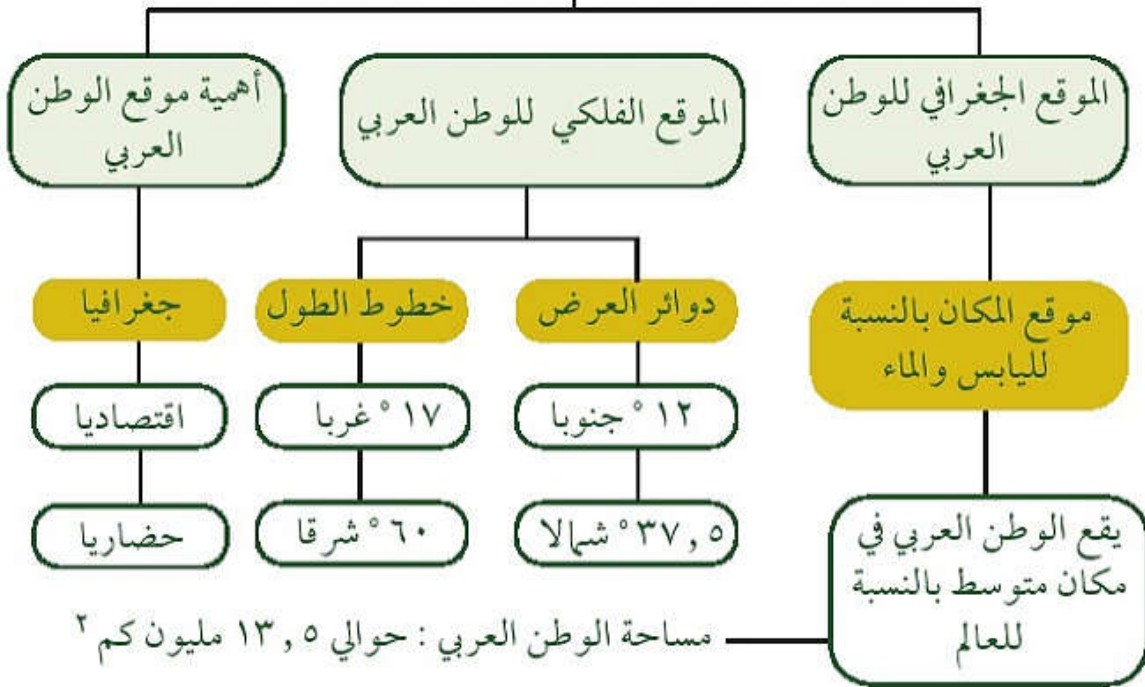
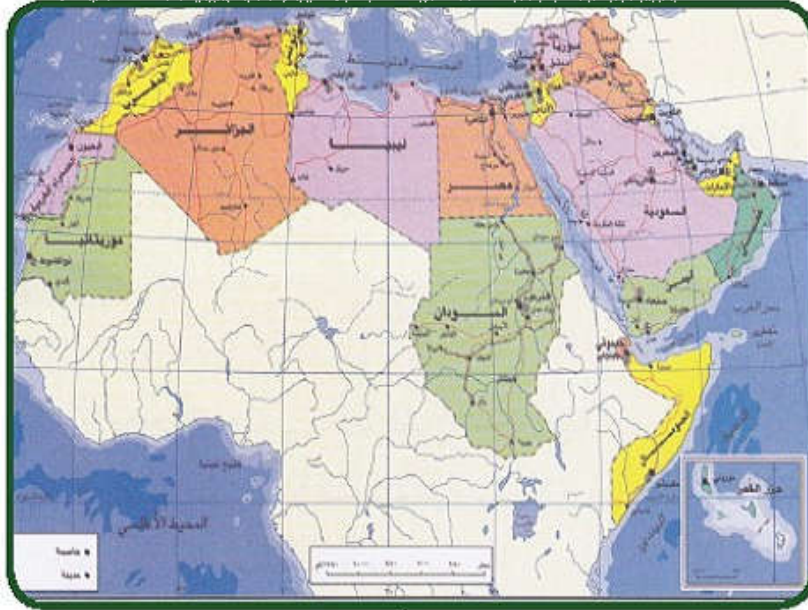
اهداف الدرس

- ١ التعرف على موقع الوطن العربي من الناحية الجغرافية و الفلكية .
- ٢ توقيع دوائر العرض الرئيسية على خريطة الوطن العربي .
- ٣ ادراك مدى أهمية موقع الوطن العربي منالناحية الجغرافية .
- ٤ تنمية المهارات الطلابية من حيث تحليل الأشكال البيانية .
- ٥ تحديد الخصائص والسمات المشتركة بين سكان الوطن العربي .
- ٦ تنشيط المعلومات الأساسية عن سكانومساحة الوطن العربي .
- ٧ استيعاب المفاهيم والمصطلحات والتعميمات الواردة في الدرس .
- ٨ اكتساب القيم والاتجاهات والمهارات الواردة في الدرس .

عناصر الدرس الأول

موقع الوطن العربي

موقع المناهج العمانية almanahj.com/om



الوطن العربي بطاقة تعريفية عن الوطن العربي

التعريف : الوطن العربي يتمثل في المساحات الواسعة من الأرض التي يعيش

عليها العرب . موقع المناهج العُمانية almanahj.com/om

الأهمية : اكتسب الوطن العربي عن طريق موقعه أهمية جغرافية واقتصادية وحضارية عبر العصور .

الخصائص والسمات المشتركة بين سكان الوطن العربي

- ١ الدين الإسلامي
- ٢ اللغة العربية
- ٣ التاريخ المشترك

الموقع الجغرافي للوطن العربي

هو موقع المكان بالنسبة لليابس والماء وللوطن العربي موقع جغرافي مهم على خريطة العالم .



موقع الوطن العربي من العالم

مساحة الوطن العربي ← حوالي ١٣,٥ مليون كم^٢

عدد دول الوطن العربي ← ٢٢ دولة

١ حل نشاط

موقع المناهج العُمانية almanahj.com/om

- ١ أ- يقع الوطن العربي في قارتي آسيا وأفريقيا .
- ب- يطل الوطن العربي على محيطين هما المحيط الأطلسي والمحيط الهندي .
- ج- يبلغ عدد الدول العربية في قارة آسيا ١٢ دولة ويبلغ عدد الدول العربية في قارة افريقيا ١٠ دول .
- ٢ الجزء الإفريقي في الوطن العربي أكبر في المساحة من الجزء الآسيوي .
- ٣ المسطحات المائية بالوطن العربي وبعض الدول العربية التي تطل عليها .



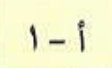



المسطح المائي	بعض الدول العربية التي تطل عليه
الخليج العربي	سلطنة عمان، الامارات العربية المتحدة ، مملكة البحرين ، دولة قطر ، دولة الكويت ، جمهورية العراق
البحر المتوسط	سوريا ، لبنان ، فلسطين ، مصر ، ليبيا ، تونس ، الجزائر ، المغرب
المحيط الأطلسي	المغرب ، موريتانيا
المحيط الهندي	سلطنة عمان ، اليمن ، الصومال ، جزر القمر

الموقع الفلكي

التعريف : هو موقع المكان بالنسبة لخطوط الطول ودوائر العرض

حل نشاط ٢

لمعرفة كيفية تحديد المواقع عن طريق استخدام احداثيات دوائر العرض وخطوط الطول نفذ النشاط التالي .
موقع المناهج العُمانية almanahj.com/om

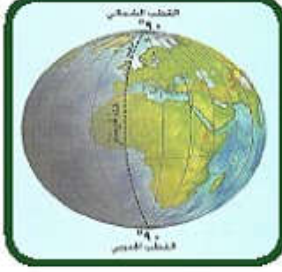
	٤	٣	٢	١	
أ	 أ-٣	 أ-٢	 أ-١		أ
ب	ب-٤	ب-٣	ب-٢	 ب-١	ب
ج	 ج-٤	ج-٣	 ج-٢	ج-١	ج
د	د-٤	د-٣		د-١	د
	٤	٣	٢	١	

خطوط الطول ودوائر العرض

التعريف : هي شبكة وهمية (ليست حقيقية) تُرسم على الخرائط ونماذج الكرة الأرضية وتُستخدم في تحديد المواقع على سطح الكرة الأرضية بدقة عالية .

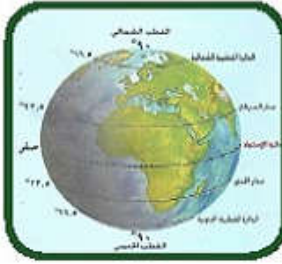
خطوط الطول

موقع المناهج العُمانية almanahj.com/om



الوصف	أنصاف دوائر تلتقي عند القطبين
عددتها	٣٦٠ خطا (١٨٠ خطا شرقي خط جرينتش و ١٨٠ خطا غربي خط جرينتش و تلتقي عند القطبين الشمالي والجنوبي
الخط الرئيسي	خط غرينتش (غرينتش Greenwich) ودرجته (صفر) ويقسم الكرة الأرضية إلى نصفين : شرقي وغربي
الفوائد	تحديد المواقع - معرفة الزمن
المحيط الهندي	سلطنة عمان ، اليمن ، الصومال ، جزر القمر

دوائر العرض



الوصف	دوائر مكتملة تحيط بالكرة الأرضية
عددتها	١٨٠ دائرة عرض ٩٠ دائرة شمالي دائرة الاستواء و ٩٠ دائرة جنوبي دائرة الاستواء
الخط الرئيسي	دائرة الاستواء ودرجتها (صفر) وتقسم الكرة الأرضية إلى نصفين : شمالي وجنوبي
الفوائد	تحديد المواقع - معرفة الزمن
المحيط الهندي	سلطنة عمان ، اليمن ، الصومال ، جزر القمر

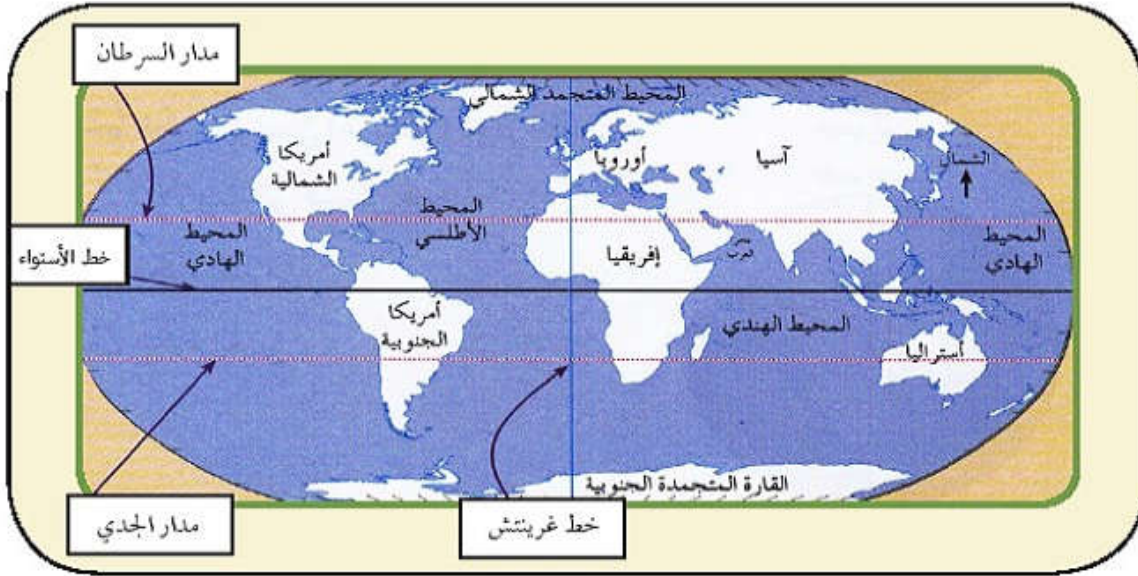
المدارين

مدار السرطان	مدار الجدي
يقع في النصف الشمالي من العالم ويعطى القيمة (٢٣,٥) شمالا	يقع في النصف الجنوبي من العالم ويعطى القيمة (٢٣,٥) جنوبا

موقع المناخ العمانية almanahj.com/om

حل نشاط

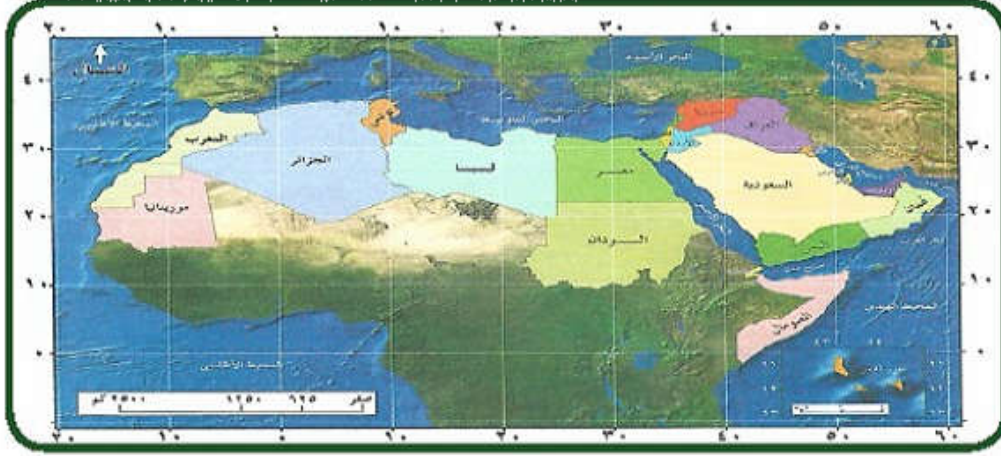
٣



الموقع الفلكي للوطن العربي

بالنسبة إلى دوائر العرض	بالنسبة إلى خطوط الطول
بين دائرتي عرض ١٢° جنوبا (جنوب دائرة الاستواء) و ٣٧,٥° شمالا (شمال دائرة الاستواء)	بين خطي طول ١٧° غربا (غرب خط غرينتش) و ٦٠° شرقا (شرق خط غرينتش)

موقع المناخ العمانية almanahj.com/om

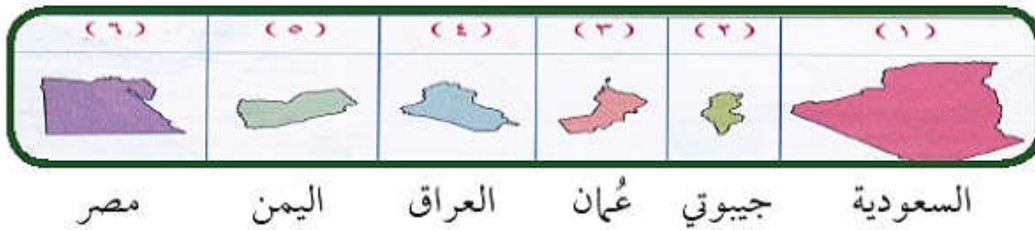


الموقع الفلكي للوطن العربي

٤ حل نشاط




العمود الثاني	العمود الأول
جزر القمر	تمر بها دائرة العرض ١٢ جنوب دائرة الاستواء
سلطنة عمان	تحد الوطن العربي من جهة الشرق عند خط طول ٦٠ شرقاً
الصومال	تمر بها دائرة الاستواء
موريتانيا	يمر بها خط غرينتش

٥ حل نشاط



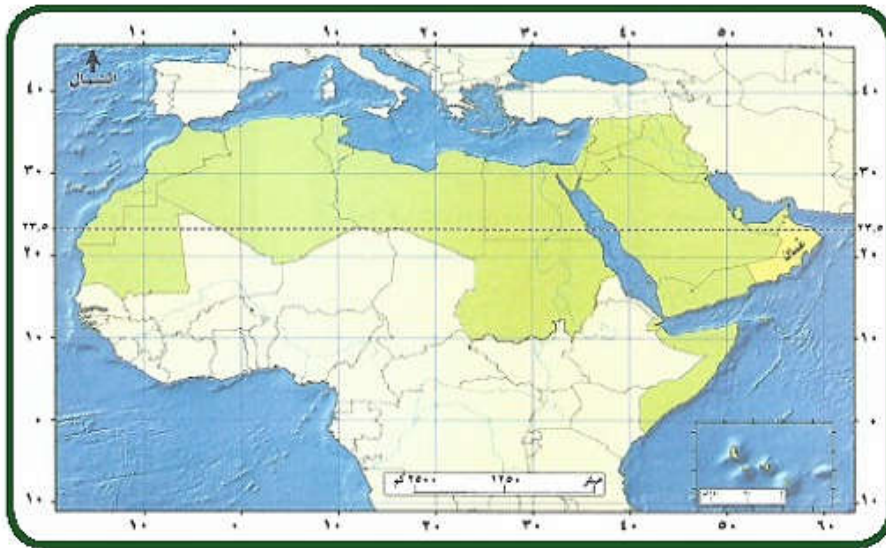
٦ حل نشاط

موقع المناهج العُمانية almanahj.com/om

٣٥	الدولة	العلم	القارة	العاصمة	العملة
١	عمان		آسيا	مسقط	الريال العماني
٢	الأردن		آسيا	الدينار	دينار أردني
٣	المغرب		إفريقيا	الرباط	الدرهم المغربي
٤	جزر القمر		إفريقيا	موروني	فرنك

٧ حل نشاط

سلطنة عُمان دولة عربية انفردت بموقع جغرافي أكسبها مكانة حضارية عبر العصور التاريخية إذ تقع في أقصى الشرق من الوطن العربي وتطل على ثلاثة مسطحات مائية كما تُشرف على مدخل الخليج العربي عبر مضيق هرمز



١ أقصى الشرق .

٢ هرمز .

٣ تطل سلطنة عمان على ثلاثة مسطحات مائية هي .

أ - بحر العرب ب - بحر عمان ج - الخليج العربي

٤ مدار السرطان .

موقع المناهج العُمانية almanahj.com/om

أهمية موقع الوطن العربي

- * جغرافيا : يعتبر الوطن العربي حلقة وصل بين قارات (آسيا وإفريقيا وأوروبا) .
- * اقتصاديا : ساعد على إقامة العلاقات التجارية مع دول العالم .
- * حضاريا : سهل التواصل بين حضارات الوطن العربي والحضارات الأخرى في العالم .

حل نشاط ٨

موقع المناهج العمانية almanahj.com/om



(ب) :

- | | | | | | |
|----|-----------------|----|---------------|---|---------------|
| ١ | مضيق هرمز | ٢ | الخليج العربي | ٣ | المحيط الهندي |
| ٤ | مضيق باب المندب | ٥ | بحر عُمان | ٦ | بحر العرب |
| ٧ | البحر المتوسط | ٨ | قناة السويس | ٩ | مضيق جبل طارق |
| ١٠ | المحيط الأطلسي | ١٠ | البحر الأحمر | | |

(ج)

- | | |
|---|-------------------------------|
| ١ | البحر الأحمر والبحر المتوسط . |
| ٢ | بحر عُمان والخليج العربي . |

مراجعة الدرس الأول موقع الوطن العربي

موقع المناهج العُمانية almanahj.com/om

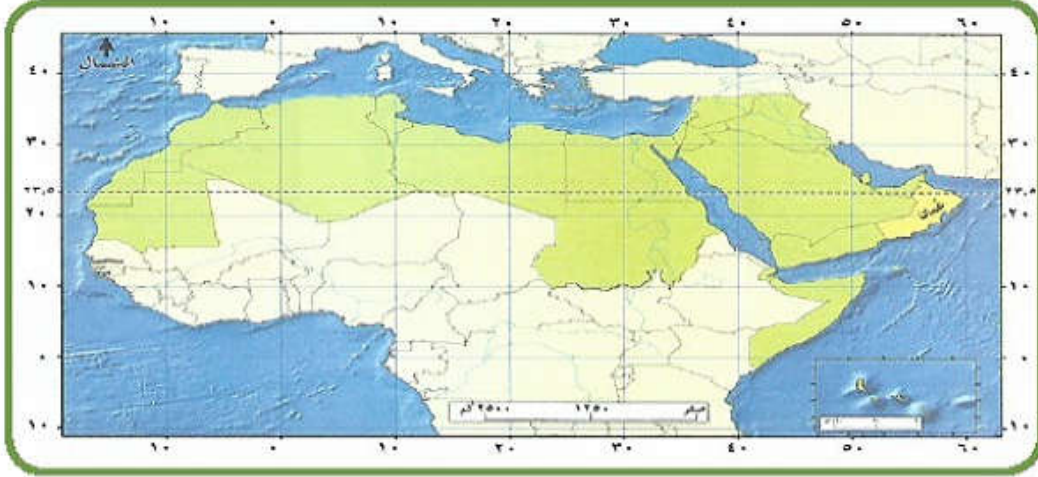
أولا : اختر رمز الإجابة الصحيحة لكل مفردة من المفردات الآتية

- ١ الموقع الذي يتميز به الوطن العربي بالنسبة إلى العالم
 - أ - الشمال
 - ب - الغرب
 - ج - الوسط
 - د - الجنوب
- ٢ عدد دوائر العرض الرئيسية الواقعة في نصف الكرة الشمالي من الكرة الأرضية
 - أ - ٥٠
 - ب - ٧٠
 - ج - ٨٠
 - د - ٩٠
- ٣ يقع الوطن العربي بين خطي طول
 - أ - ١٢° جنوبا و ٣٧°٥ شمالا
 - ب - ٣٧°٥ جنوبا و ١٢° شمالا
 - ج - ١٧° غربا و ٦٠° شرقا
 - د - ٦٠° غربا و ١٧° شرقا
- ٤ تبلغ مساحة الوطن العربي حوالي
 - أ - ١٣,٥ مليون كم ٢
 - ب - ٢٣,٥ مليون كم ٢
 - ج - ٣٣,٥ مليون كم ٢
 - د - ٣٤,٥ مليون كم ٢
- ٥ أكبر دولة مساحة في الوطن العربي
 - أ - السعودية
 - ب - الجزائر
 - ج - مصر
 - د - البحرين
- ٦ الدولة العربية التي تمر بها دائرة العرض ٢٠ شمالا
 - أ - العراق
 - ب - الصومال
 - ج - تونس
 - د - عمان
- ٧ يحد الوطن العربي من جهة الغرب
 - أ - المحيط الهندي
 - ب - المحيط الأطلسي
 - ج - المحيط الهادي
 - د - المحيط القطبي الشمالي

٨ دائرة العرض التي تمر بسلطنة عمان عند النظر إلى خريطة الوطن العربي

التي أمامك

موقع المناهج العُمانية almanahj.com/om



أ- مدار السرطان

ب- دائرة الاستواء

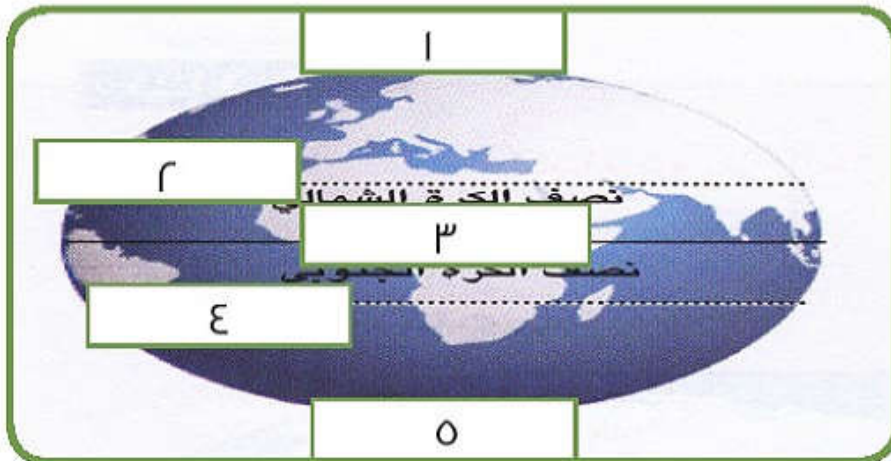
ج- مدار الجدي

د- خط جرينتش

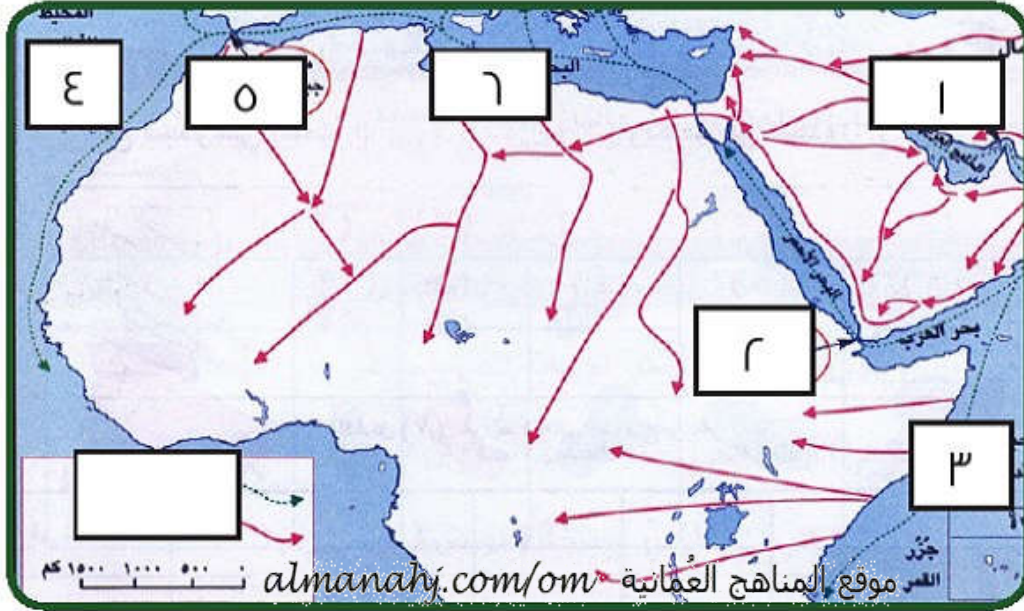
ثانياً : أسئلة متنوعة

١ علل تسمية البحر المتوسط بهذا الاسم ؟

٢ أنظر الشكل الذي أمامك ثم وضح ما تدل عليه الأرقام الموضحة عليه ؟



٢ أنظر الخريطة التي أمامك ثم أجب عن الأسئلة التي تليها ؟



- ١- ما اسم المضيق الذي يعبر عنه الرقم ١
- ٢- مضيق باب المندب يعبر عنه الرقم
- ٣- المحيط الهندي يشير إليه الرقم
- ٤- ما اسم المحيط الذي يشير إليه الرقم ٤
- ٥- ما اسم المضيق الذي يشير إليه الرقم ٥

٤ عدد مميزات الموقع الجغرافي للوطن العربي ؟

٥ ما النتائج التي ترتبت على موقع الوطن العربي الجغرافي ؟

٦ ما الآثار المترتبة على اكتشاف النفط في العصر الحديث بالنسبة لموقع الوطن العربي الجغرافي ؟

إجابة مراجعة الدرس الأول : موقع الوطن العربي

موقع المناهج العُمانية almanahj.com/om
إجابة سؤال الاختيار من متعدد :

المفردة	١	٢	٣	٤	٥	٦	٧	٨
الاختيار الصحيح	ج	د	ج	أ	ب	د	ب	أ

إجابة أسئلة متنوعة :

ج ١ : يسمى بالمتوسط؛ لأنه يتوسط ثلاث قارات هي آسيا إفريقيا وأوروبا

٢ - ٢

ج ٢ : ١ - القطب الشمالي

٤ - مدار الجدي

٣ - دائرة الاستواء

٥ .. القطب الجنوبي

٢ - ٢

ج ٣ : ١ - مضيق هرمز

٤ - المحيط الأطلسي

٣ - ٣

٥ - مضيق جبل طارق

ج ٤ : ١ - أصبح منطقة اتصال بري وبحري بين قارات العالم القديم أوروبا

وآسيا وإفريقيا

٢ - يصل بين الشرق والغرب وبين الشمال والجنوب

٣ - تطل السواحل العربية على عدد من المحيطات والبحار والخلجان المهمة

التي يربط بينها عدد من المضائق البحرية

٤ - يتميز الوطن العربي بتضاريس متنوعة تختلف بين بلد وآخر