

تم تحميل هذا الملف من موقع المناهج العُمانية



*للحصول على أوراق عمل لجميع الصفوف وجميع المواد اضغط هنا

<https://almanahj.com/om>

* للحصول على أوراق عمل لجميع مواد الصف الخامس اضغط هنا

<https://almanahj.com/om/5>

* للحصول على جميع أوراق الصف الخامس في مادة رياضيات ولجميع الفصول, اضغط هنا

<https://almanahj.com/om/5math>

* للحصول على أوراق عمل لجميع مواد الصف الخامس في مادة رياضيات الخاصة بالفصل الثاني اضغط هنا

<https://almanahj.com/om/5math2>

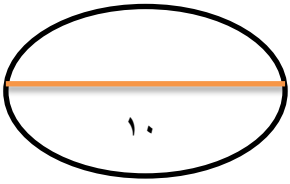
* لتحميل كتب جميع المواد في جميع الفصول للصف الخامس اضغط هنا

<https://almanahj.com/om/grade5>

للتحدث إلى بوت على تلغرام: اضغط هنا

https://t.me/omcourse_bot

almanahj.com/om



الاسم:-.....

اختبار (٢) للصف الخامس

اكمل الفراغات:-

$$\begin{array}{r} \square \square , 8 \square \\ 3 \quad 3 , 4 \quad 5 + \\ \hline 9 \quad 4 , \square 2 \end{array}$$

[١]

حوطي على الإجابة الصحيحة

١٢,٦ لتر = ميليلتر (١٢٦٠٠٠ ١٢٦٠٠ ١٢٦٠ ٠,٠١٢٦)

[١]

اكتب الكسر الغير اعتيادي على صورة كسر عشري

$$\frac{\square}{\square} = \frac{26}{3}$$

[١]

حديقة على شكل مستطيل طولها ٣٠ متر وعرضها ٢٠ متر اكتب مساحة الحديقة؟

مساحة الحديقة

[١]

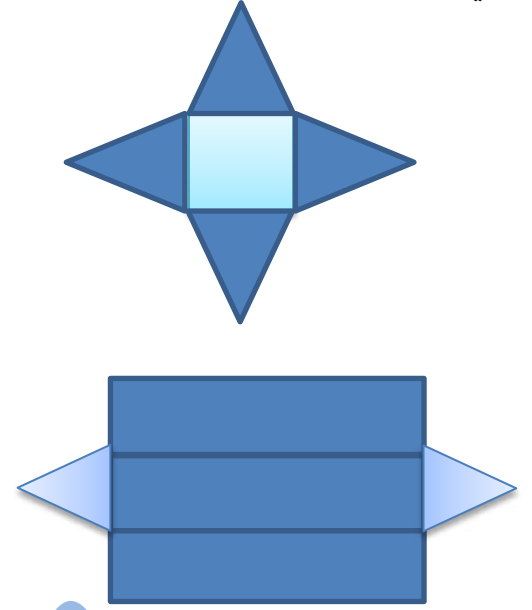
	الشكل
	عدد خطوط التماثل
	رتبة التماثل الدوراني

[١]

صلي من العمود / مايناسب العمود

٦

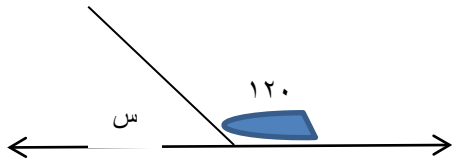
- منشور ثلاثي
- منشور رباعي
- هرم ثلاثي
- هرم رباعي



[١]

في الشكل المقابل حوطي على القياس الصحيح للزاوية س

٧



- ٣٠
- ٤٠
- ٥٠
- ٦٠
- ٧٠

حوطي على نوع الزاوية

- حادّة
- قائمة
- منفرجة
- مستقيمة

[٢]

مستقيمة

منفرجة

قائمة

حادّة

احسبي النواتج التالية:-

٨

..... الإجابة : $\frac{2}{5}$ من ٣٠

..... الإجابة : $\frac{5}{8}$ من ٤٠

[٢]



بالتوفيق

تحياتي / الاستاذة زينب