

تم تحميل هذا الملف من موقع المناهج العُمانية



*للحصول على أوراق عمل لجميع الصفوف وجميع المواد اضغط هنا

<https://almanahj.com/om>

* للحصول على أوراق عمل لجميع مواد الصف الخامس اضغط هنا

<https://almanahj.com/om/5>

* للحصول على جميع أوراق الصف الخامس في مادة اجتماعيات ولجميع الفصول, اضغط هنا

<https://almanahj.com/om/5social>

* للحصول على أوراق عمل لجميع مواد الصف الخامس في مادة اجتماعيات الخاصة بـ الفصل الثاني اضغط هنا

<https://almanahj.com/om/5social2>


* لتحميل كتب جميع المواد في جميع الفصول للـ الصف الخامس اضغط هنا

<https://almanahj.com/om/grade5>

* لتحميل جميع ملفات المدرس علي بن محمد الحسان اضغط هنا

للتحدث إلى بوت على تلغرام: اضغط هنا

https://t.me/omcourse_bot



مذكرة إثرائية لمادة

الدراسات الاجتماعية

2020-2021

الصف الخامس

الفصل الدراسي الثاني

الوحدة الأولى

(جغرافية الوطن العربي البشرية)

أسئلة

إعداد :

علي بن محمد الحسان

للتواصل :

99493923

Ali 47536@moe.om

” مصادر الطاقة في الوطن العربي ”

السؤال الأول : ضع علامة (✓) أو (✗) أمام العبارة المناسبة مع تصحيح ماتحته خط إذا كانت العبارة خطأ :

- ١- () الطاقة عنصر مهم في إحداث التقدم الحضاري وهي في كل مكان حولنا .
- ٢- () تقع ولاية شليم وجزر الحلانيات في محافظة الوسطى . . ظفار
- ٣- () من أهم مصادر الطاقة الغير متجددة في الوطن العربي مصدر الفحم الحجري . النفط

السؤال الثاني : أكمل مايلي بكلمات مناسبة من عندك :

- ١- تنقسم الطاقة إلى نوعين مصادر ومصادر
- ٢- نفذت وزارة التربية والتعليم بالتعاون مع شركة للتنمية مشروعاً للطاقة الشمسية .
- ٣- أكبر الدول العربية إنتاجاً للنفط عام ٢٠١٦ كانت

السؤال الثالث : ضع دائرة حول الإجابة الصحيحة من بين البدائل المعطاه :

- ١- تنصدر دولة ... الدول العربية في إنتاج الغاز الطبيعي .
(سلطنة عمان - قطر - الكويت)
- ٢- يعد ... من مصادر الطاقة المهمة في الوطن العربي نظرا لتوفره بكميات كبيرة .
(النفط - الطاقة الشمسية - الغاز الطبيعي)
- ٣- يعتبر مشروع حقل ... في محافظة الظاهرة من أكبر مشاريع إنتاج الغاز الطبيعي في سلطنة عمان .
(خزان - وهران - ميزان)
- ٤- يعتبر مشروع بولاية شليم وجزر الحلانيات من المشاريع القائمة على الطاقة المتجددة .
(شمس - نور - مرآه)

السؤال الرابع : علل مايلي ” أذكر السبب ” :

س ١ : تسمية الطاقة غير المتجددة بهذا الاسم ؟

ج١ :

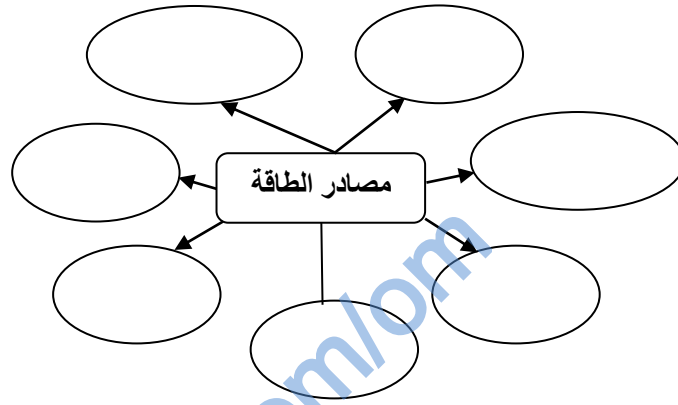
س ٢ : يعد الوطن العربي من المواقع الملائمة لإقامة مشاريع من الطاقة الشمسية ؟

ج٢ :

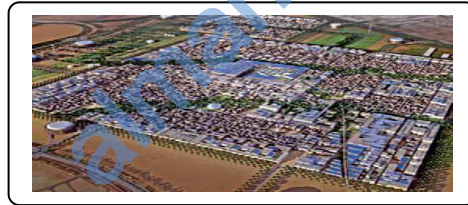
السؤال الخامس : أكمل الجدول التالي بكتابة حقل نفط واحد وآخر ميناء لتصدير النفط في الدول التالية :

| الدولة | حقل نفط | ميناء تصدير نفط |
|------------|---------|-----------------|
| سلطنة عمان | | |
| العراق | | |
| ليبيا | | |

السؤال السادس : أكمل الشكل التالي بكتابة مصادر الطاقة :



السؤال السابع : صل بخط بين إسم المشروع وصورته :



مشروع نور للطاقة الشمسية



مشروع مرآة لتوليد البخار بالطاقة الشمسية



مدينة مصدر للطاقة المتجددة

السؤال الثامن : أجب عن الأسئلة التالية :

س ١ : عرف الطاقة ؟

ج ١ :

س ٢ : ما الفرق بين الطاقة المتجددة والطاقة غير المتجددة ؟

ج ٢ :

س ٣ : " للغاز الطبيعي عدة استخدامات " اذكر ثلاثة منها ؟

ج ٣ :

almanahj.com/om

درس : " الأنشطة الاقتصادية في الوطن العربي "

السؤال الأول : ضع علامة (✓) أو (✗) أمام العبارة المناسبة مع تصحيح ما تحته خط إذا كانت العبارة خطأ :

- ١- () عرف السكان في الوطن العربي الزراعة منذ القدم على ضفاف البحار .
- ٢- () في إطار اهتمام السلطنة بالزراعة فقد وجه جلالة السلطان قابوس "طيب الله ثراه" بتنفيذ مشروع الألف نخله عام ٢٠٠٩ .
- ٣- () يقصد بالمواد الخام هي المواد الطبيعية (زراعية أو حيوانية أو معدنية) غير مصنعة وقابلة للتصنيع .
- ٤- () يعتبر استخراج النفط والغاز والتنقيب عن المعادن من الصناعات التحويلية .

السؤال الثاني : أكمل ما يلي بكلمات مناسبة من عندك :

- ١- من أهم الأنشطة الاقتصادية التي يمارسها السكان في الوطن العربي الزراعة و و
- ٢- ينتج الوطن العربي العديد من المحاصيل الزراعية مثل الحبوب الغذائية و و
- ٣- ساعد توفر النفط والغاز الطبيعي في الوطن العربي على قيام الصناعات الحديثة مثل البتروكيماويات و
- ٤- الصناعات القائمة على البتروكيماويات صناعة البلاستيك ومواد

السؤال الثالث : ضع دائرة حول الإجابة الصحيحة من بين القوسين :

- ١- من أكثر المحاصيل الزراعية إنتاجاً في سلطنة عمان
(الطماطم - التمور - الليمون)
- ٢- يطلق على تغيير شكل وطبيعة المواد الخام إلى شكل آخر تلبية لحاجات الإنسان اسم ...
(صناعة - زراعة - تجارة)
- ٣- إنشأت السلطنة عدداً من المناطق الصناعية وتعد إحدى المناطق المهمة للاستثمار المحلي والعالمى .
(نزوى - صلالة - صحار)
- ٤- حركة الأفراد والجماعات من أماكن إقامتهم إلى أماكن أخرى بغرض أداء مهمة معينة أو زيارة مكان أو بغرض الترفيه .
(التجارة - السياحة - الصناعة)

السؤال الرابع : اختر من بين القوسين الصناعة المناسبة وضعها في مكانها الصحيح في الجدول التالي

- (صناعة المنسوجات الصوفية - صناعة الذهب - صناعة الألبان - صناعة السكر -
صناعة الزيوت النباتية - صناعة الأسلاك الكهربائية)

| زراعية | حيوانية | معدنية |
|--------|---------|--------|
| | | |
| | | |

السؤال الخامس : صنف ما بين القوسين إلى صناعات استخراجية وصناعات تحويلية وضعها في الجدول التالي

(صيد الأسماك - صناعة البلاستيك - استخراج النفط والغاز - صناعة الزجاج - التنقيب عن المعادن -
تعليب الخضار والفواكه - صناعة الأثاث - استخراج اللؤلؤ)

| صناعات تحويلية | صناعات استخراجية |
|----------------|------------------|
| | |
| | |
| | |
| | |

السؤال السادس : من خلال الجدول أجب عن الأسئلة التالية :

| الإنتاج بالآلف طن (عام ٢٠١٤) | | | | | الدولة |
|------------------------------|--------|---------|---------|-------|------------|
| الليمون | التمور | الظماطم | البطاطس | القمح | |
| ٦ | ٣١٧ | ٧٥ | ٥ | ٣ | سلطنة عمان |
| ٢٦ | ١٠ | ٥٩٤ | ٣٦٦ | ٣٩ | الأردن |
| ٢٥٥ | ٤٤١ | ٥٦٧ | ٣٤٧ | ١٩٢ | السودان |
| ٤٤ | ١٩٥ | ١٢٠٠ | ٣٨٥ | ١٥١٣ | تونس |

- ١- أكثر المحاصيل الزراعية إنتاجاً في سلطنة عمان هي وأقلها
- ٢- أكثر الدول العربية إنتاجاً للقمح هي والليمون
- ٣- أقل الدول العربية إنتاجاً للبطاطس هي و التمر
- ٤- ما عدد الأطنان للمحاصيل في الدول التالية : السودان (الظماطم) والأردن (البطاطس) تونس (الليمون)

السؤال السابع : أجب عن الأسئلة التالية :

س ١ : " ساعدت عدة عوامل في تنوع الأنشطة الاقتصادية التي يمارسها السكان في الوطن العربي " أذكر هذه العوامل ؟

ج ١ :

س ٢ : تعد الزراعة من الأنشطة الاقتصادية المهمة في الوطن العربي وذلك لعدة أسباب " أذكر ثلاثة من هذه الأسباب ؟

ج ٢ :

س ٣ : تعد الصناعة من الأنشطة الاقتصادية المهمة في الوطن العربي " لماذا ؟

ج ٣ :

س ٤ : " اهتمت دول الوطن العربية بتطوير قطاع الصناعات الغذائية التي تعتمد على الزراعة " أذكر ثلاثة من هذه الصناعات ؟

ج ٤ :

س ٥ : " تعد السياحة من الأنشطة الاقتصادية المهمة في الوطن العربي " وضح ذلك ؟

ج ٥ :

س ٦ : " هناك عدة عوامل للجذب السياحي في الوطن العربي " أذكر ثلاثة من هذه العوامل ؟

ج ٦ :

س ٧ : " أهتمت الدول العربية بالسياحة حيث أنشأت الخدمات السياحية وتطويرها " أذكر ثلاثة من هذه الخدمات ؟

ج ٧ :

س ٨ : " تزخر سلطنة عمان بمقومات سياحية عديدة جعلتها وجهة سياحية مهمة " وضح ذلك ؟

ج ٨ :