

شكراً لتحميلك هذا الملف من موقع المناهج العمانية



اختبار قصير

[موقع المناهج](#) ← [المناهج العمانية](#) ← [الصف السادس](#) ← [علوم](#) ← [الفصل الثاني](#) ← [الملف](#)

التواصل الاجتماعي بحسب الصف السادس



روابط مواد الصف السادس على تلغرام

[الرياضيات](#)

[اللغة الانجليزية](#)

[اللغة العربية](#)

[التربية الاسلامية](#)

المزيد من الملفات بحسب الصف السادس والمادة علوم في الفصل الثاني

الامتحان الرسمي النهائي بمحافظة الظاهرة	1
الاختبار النهائي الرسمي في جميع المحافظات	2
نموذج إجابة الاختبار النهائي الرسمي في محافظة جنوب الباطنة	3
نموذج إجابة الامتحان الرسمي النهائي بمحافظة الداخلية	4
الامتحان الرسمي النهائي بمحافظة الداخلية	5

اختبار قصير للصف السادس لمادة العلوم


الاسم :

السؤال الاول:

- (1) أ- القوة التي تسحب الاجسام نحو الارض هي (ظلي الاجابة الصحيحة) :
- الجاذبية الارضية الدفع
- السحب الاحتكاك

ب.. اربط بسهم بين العمود أ و ما يناسبه من العمود ب :

عمود (ب)
المتر
نيوتن
الكيلوغرام
عمود (أ)
وحدة قياس الوزن
وحدة قياس الكتلة



تم تحميل هذا الملف من
موقع المناهج العمانية
alManahj.com/om

ج- اذا كانت كتلة أمل ٣٠ كيلوغرام فان وزنها بالنيوتن يساوي.....(1).....



د- الجهاز الموضح بالشكل يستخدم لقياس وزن الجسم .
1- هل يمكن استخدامه لمعرفة كتلة الجسم؟

نعم لا (اختر الاجابة الصحيحة)

فسر اجابتك :

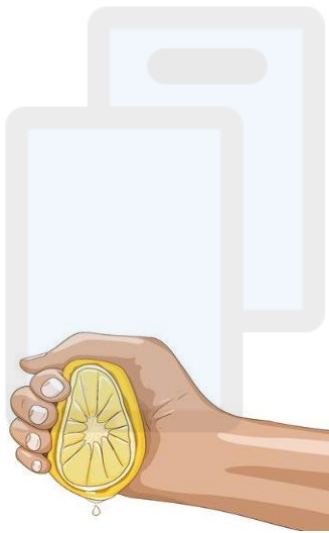
السؤال الثاني

أ -صلي بين المفهوم العلمي العمود (أ) مع ما يناسبه من العمود (ب) :

(2)

العمود (أ)
مقدار قوة جذب الارض للجسم
عندما تكون القوتان أو القوى المؤثرة على جسم باتجاهين متعاكسين في الاتجاه ومتساويين في المقدار
مقدار ما يحتويه الجسم من مادة

العمود (ب)
الاحتكاك
الكتلة
الوزن
القوة المتوازنة



تم تحميل هذا الملف من
موقع المناهج العُمانية

ب- من خلال الشكل الذي أمامك (1):

- القوة المؤثرة على الجسم هي (ظلي الإجابة الصحيحة):
- تغيير الشكل ○ زيادة السرعة
- إيقاف الحركة ○ الشغل

ج- ارسمي مخطط القوى على الأشكال التالية (2)



السؤال الثالث :

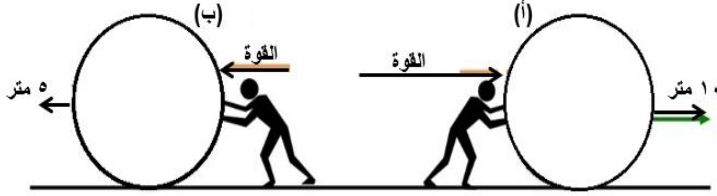
أ- اللعبة التي امامك تمثل فريقان يلعبان لعبة شد الحبل ولم يتغلب احدهما علي الاخر، ضع خطأ أسفل الكلمات الصحيحة لتصبح كل معلومة صحيحة :



- القوى الموضحة هي قوى (دفع \ سحب) (1)
- القوي من كلا الفريقين (في اتجاه واحد \ متعاكسة) (1)

- القوي من كلا الفريقين (متوازنة | غير متوازنة) (1)

ج- في أي الحالتين تتوقع أن يكون الشغل أكبر (1)




د- توقع قيمة الشغل المبذول بعد توقف الكرة (ب)
نتيجة اصطدامها بجدار (ظلّل الإجابة الصحيحة):
(1)

تقل

تزيد

صفر

ثابته



تم تحميل هذا الملف من

موقع المناهج العُمانية
انتهت الاسئلة كل التوفيق طابتي . . .

alManahj.com/om