

تم تحميل هذا الملف من موقع المناهج العُمانية



\*للحصول على أوراق عمل لجميع الصفوف وجميع المواد اضغط هنا

<https://almanahj.com/om>

\* للحصول على أوراق عمل لجميع مواد الصف السادس اضغط هنا

<https://almanahj.com/om/6>

\* للحصول على جميع أوراق الصف السادس في مادة رياضيات ولجميع الفصول, اضغط هنا

<https://almanahj.com/om/6math>

\* للحصول على أوراق عمل لجميع مواد الصف السادس في مادة رياضيات الخاصة بـ الفصل الثاني اضغط هنا

<https://almanahj.com/om/6math2>

\* لتحميل كتب جميع المواد في جميع الفصول للـ الصف السادس اضغط هنا

<https://almanahj.com/om/grade6>

\* لتحميل جميع ملفات المدرس ناصر العبري اضغط هنا

للتحدث إلى بوت على تلغرام: اضغط هنا

[https://t.me/omcourse\\_bot](https://t.me/omcourse_bot)

## مراجعته عامه رقم ١

١. أمامك عشر بطاقاتٍ أعدادٍ. تُمثل كل بطاقةٍ عدد الأوسمة التي نالها عشرة طلابٍ خلال أسبوعٍ.



$$\frac{8+8+7+6+5+5+4+3+2+2}{10} = \frac{50}{10} = 5$$

الوسط الحسابي لعدد الأوسمة الممنوحة للطلاب.

٢. يعرض الجدول التالي الوقت الذي استغرقه خمسة أولادٍ للجري مسافة ٢٠٠ مترٍ.

| الاسم            | خالد | زين | زياد | مروان | عمار |
|------------------|------|-----|------|-------|------|
| الوقت (بالثواني) | ٣٥   | ٢٩  | ٣٢   | ٣٤    | ٣٢   |

الوسيط هو القيم الوسطى بعد ترتيب القيم

$$35 \quad 34 \quad (32) \quad 32 \quad 29$$

ما الوقت الوسيط؟

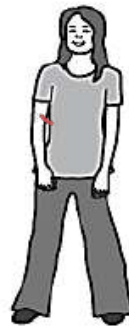
٣. جميلة ترصد النقاط التي تحرزها زميلاتها بإحدى الألعاب الرياضية

١٠، ١٢، ٨، ١٦، ١١، ١٢، ٩، ١٢، ١٥، ١٤، ٤، ٩، ١٢، ١٠

ما هو المنوال للنقاط؟ ..... ١٢ ..... المنوال اكثر الارقام تكرارا

المدى = اكبر رقم - اصغر رقم

$$22 = 134 - 107$$



١٣٤ سم

١٤٢ سم

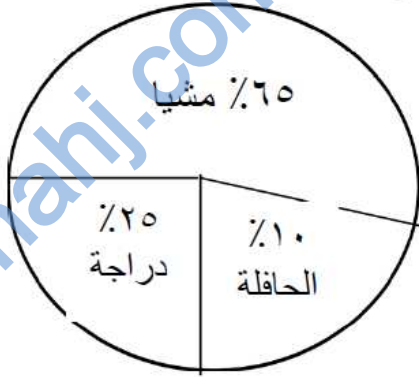
١٥٦ سم

١٤٥ سم

٢٢

احسب مدى الاطوال؟

٥. تم سؤال ٢٠٠ طالب عن وسيلة الذهاب إلى المدرسة وكانت النتائج كالتالي :



**لايجاد عدد كل جزء نضرب النسبة في العدد الكلي**

(أ) كم عدد الطلاب الذين يذهبون إلى المدرسة مشيا؟

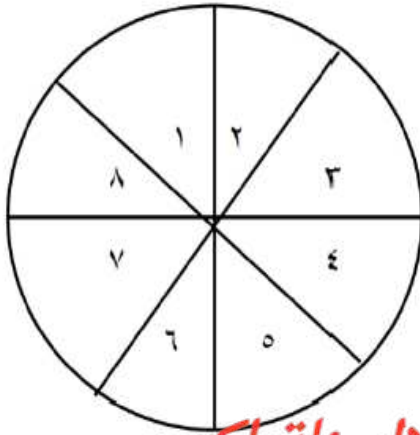
(ب) كم عدد الطلاب الذين يذهبون إلى المدرسة بالدراجة؟

١٣٠ ..... طالبا  $\frac{65}{100} \times 200$

نحذف الاصفار ..... طالبا

**٢٥ % هو ربع العدد ربع ٢٠٠ = ٥٠**  
**او استخدم الضرب  $25 \times 200 = 50$**

٦. يستخدم حسن الدوار الثماني المنتظم صل بخط لتوضيح مدى احتمال حدوث

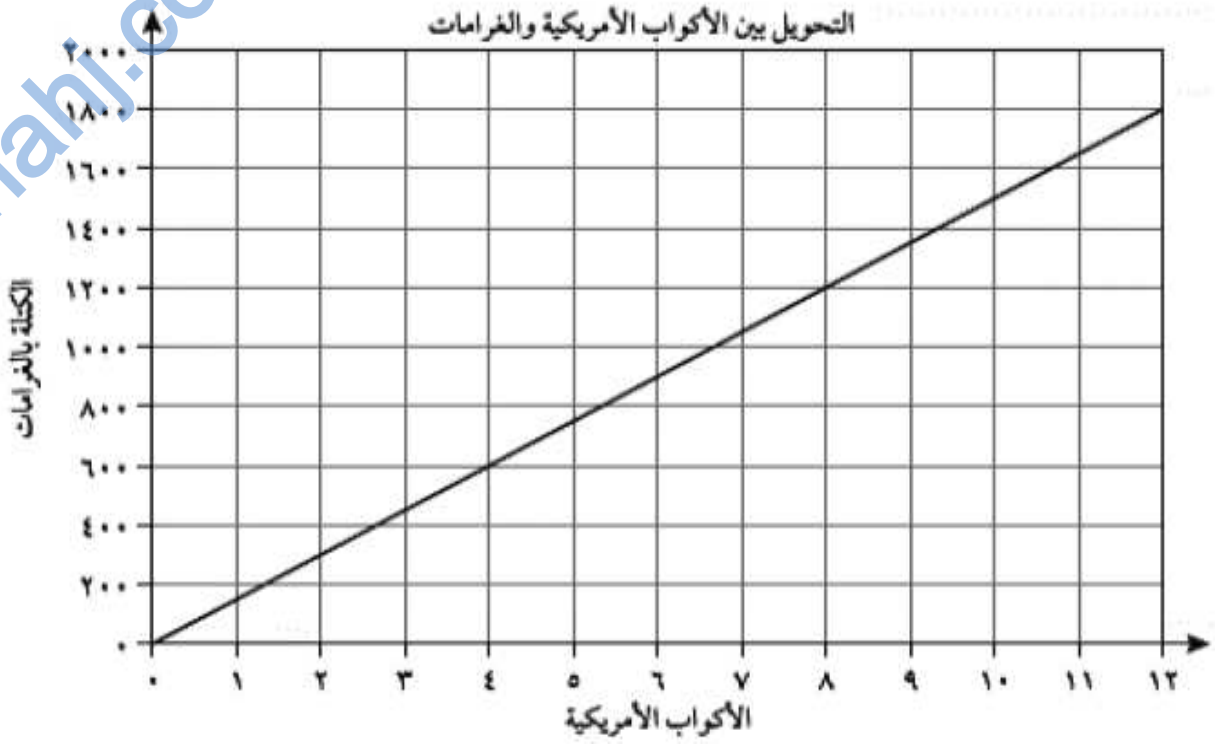


**لحل لاسئلة اكتب احتمالات ثمان اعداد في العجلة**

|             |                         |
|-------------|-------------------------|
| مستحيل      | الأعداد أقل من ١٠       |
| غير مرجح    | ثمانية ارقام ٨٧٦٥٤٣٢١   |
| فرص متساوية | أن يكون العدد ١١        |
| مرجح        | لا يوجد                 |
| مؤكد        | أن يكون العدد فردي ٧٥٣١ |

**اربعة ارقام من ثمانية ارقام اذا نص العدد**

٧. يتحول جدول الرسم البياني الخطي هذا ما بين الأكواب الأمريكية والغرامات



كم غرامًا يعادل ٨ أكواب أمريكية؟

أ. ناصر العبري

معلم رياضيات - مدرسة عباد بن بشر (٥-٩)