

تم تحميل هذا الملف من موقع المناهج العُمانية



\* للحصول على أوراق عمل لجميع الصفوف وجميع المواد اضغط هنا

<https://almanahj.com/om>

\* للحصول على أوراق عمل لجميع مواد الصف السادس اضغط هنا

<https://almanahj.com/om/6>

\* للحصول على جميع أوراق الصف السادس في مادة اجتماعيات ولجميع الفصول, اضغط هنا

<https://almanahj.com/om/6social>

\* للحصول على أوراق عمل لجميع مواد الصف السادس في مادة اجتماعيات الخاصة بـ الفصل الأول اضغط هنا

<https://almanahj.com/om/6social1>

\* لتحميل كتب جميع المواد في جميع الفصول للـ الصف السادس اضغط هنا

<https://almanahj.com/om/grade6>

\* لتحميل جميع ملفات المدرس عمر العزري اضغط هنا

للتحدث إلى بوت على تلغرام: اضغط هنا

[https://t.me/omcourse\\_bot](https://t.me/omcourse_bot)



امتحان مادة : الدراسات الاجتماعية  
للسف : السادس  
للعام الدراسي ١٤٣٩ / ١٤٤٠ هـ - ٢٠١٨ / ٢٠١٩ م  
الدور الاول - الفصل الدراسي الاول

- زمن الامتحان: (ساعة ونصف) • عدد صفحات أسئلة الامتحان: (٨) صفحات.
- الإجابة في الدفتر نفسه.

		اسم الطالب
الصف		المدرسة

التوقيع بالاسم		الدرجة		السؤال
المصحح الثاني	المصحح الأول	بالأرقام	بالحروف	
				١
				٢
				٣
				٤
				٥
مراجعة الجمع	جمعه			المجموع
				المجموع الكلي

(١)

المادة : الدراسات الاجتماعية الصف : السادس الدور الأول - الفصل الدراسي الأول  
-العام الدراسي ٢٠١٨/٢٠١٩ م

أجب عن جميع الأسئلة الآتية

السؤال الأول: ضع دائرة حول رمز الإجابة الصحيحة لكل مفردة من المفردات الآتية: ٢ درجة

١ - ينسب المذهب الإباضي إلى:

(أ) جابر بن زيد. (ب) مسلم بن أبي كريمة. (ج) مازن بن غضوبة. (د) عبدالله بن إياض.

٢- الجدول الصحيح الذي يبيّن الأحداث التاريخية في الدولة الرستمية:

العمل	الشخصية
أسس الدولة الرستمية في المغرب الأوسط	عبدالرحمن بن رستم
نقل الدعوة الإباضية لشمال أفريقيا	سلمة بن سعد
ضعت في عهده الدولة الرستمية	بفضان بن أبي اليقظان

(ب)

العمل	الشخصية
نقل الدعوة الإباضية لشمال أفريقيا	عبدالرحمن بن رستم
أسس الدولة الرستمية في المغرب الأوسط	سلمة بن سعد
ضعت في عهده الدولة الرستمية	بفضان بن أبي اليقظان

(أ)

العمل	الشخصية
نقل الدعوة الإباضية لشمال أفريقيا	بفضان بن أبي اليقظان
ضعت في عهده الدولة الرستمية	سلمة بن سعد
أسس الدولة الرستمية في المغرب الأوسط	عبدالرحمن بن رستم

(د)

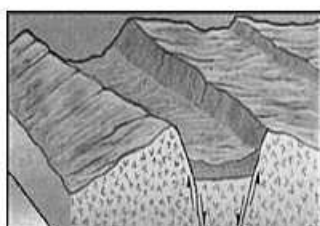
العمل	الشخصية
أسس الدولة الرستمية في المغرب الأوسط	بفضان بن أبي اليقظان
ضعت في عهده الدولة الرستمية	عبدالرحمن بن رستم
نقل الدعوة الإباضية لشمال أفريقيا	سلمة بن سعد

(ج)


٣- إذا علمت أن نسبة اليابس في الكرة الأرضية تشكل ٢٩ % فإن نسبة الماء تشكل:

(أ) ٧١ % (ب) ٧٣ % (ج) ٧٥ % (د) ٧٧ %

٤ - الصورة المعبرة عن المرحلة الثانية من مراحل تكون الجبال الالتوائية:



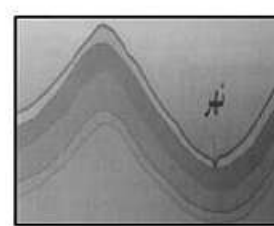
(د)



(ج)



(ب)



(أ)

٥ - الطبقة التي يفضلها الطيارون لقيادة الطائرات:

(أ) الثيرموسفير. (ب) الميزوسفير. (ج) الإستراتوسفير. (د) اتروبوسفير.

(٢)

المادة : الدراسات الاجتماعية الصف : السادس الدور الأول - الفصل الدراسي الأول  
-العام الدراسي ٢٠١٨/٢٠١٩ م

تابع السؤال الأول:

٦- مصدر تلوث المياه السطحية يمثله الرمز (س) في الشكل المقابل ويكون ناجما عن:



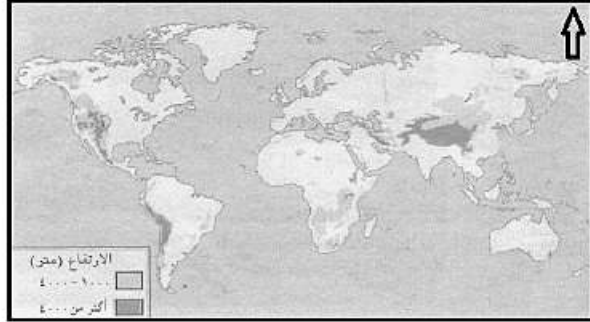
أ) الصناعة.

ب) النفايات المنزلية.

ج) الصرف الصحي.

د) الزراعة.

٧- تقع جبال الروكي بالنسبة لقارة أمريكا الشمالية في الجهة:



أ) الشمالية.

ب) الجنوبية.




ج) الشرقية.

د) الغربية.

٨- الصحابي الذي قام ببناء مسجد المضمار:

أ) أبو زيد الأنصاري. ب) مازن بن غضوبة. ج) مالك بن فهم. د) جابر بن زيد.

٩- شاهد محمد النشرة الجوية وأدرك أنه من المتوقع سقوط أمطار رعدية على محافظة مسقط الصورة المعبرة عما شاهده:



د

ج

ب

أ

(٣)

المادة : الدراسات الاجتماعية الصف : السادس الدور الأول - الفصل الدراسي الأول  
العام الدراسي ٢٠١٨/٢٠١٩ م

تابع السؤال الأول:

١٠- الدولة التي تمثل المغرب الأقصى في الوقت الحالي:

- (أ) ليبيا. (ب) تونس. (ج) المغرب. (د) الجزائر.

١١- الرياح التي تهب على محافظة ظفار صيفا في الخريطة المقابلة:



- (أ) شمالية شرقية. (ب) شمالية غربية.  
(ج) جنوبية شرقية. (د) جنوبية غربية.

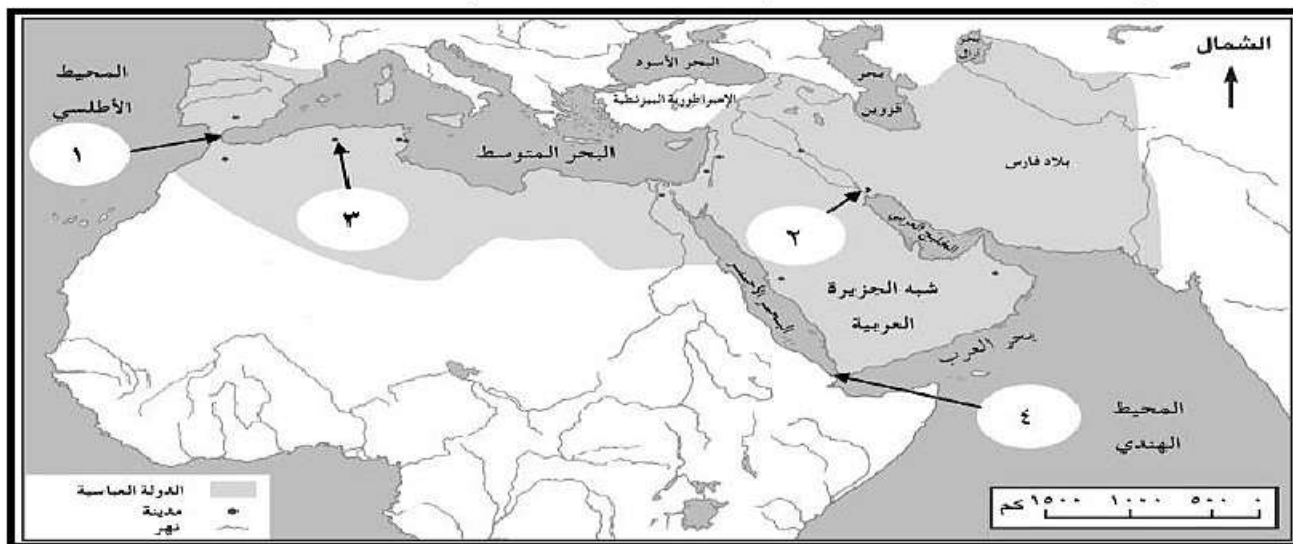
١٢- تمت مبايعة عبيدالله المهدي بالخلافة في العام الهجري:

- (أ) ٢٩٦ (ب) ٢٩٧ (ج) ٢٩٨ (د) ٢٩٩

( ٨ درجات )

السؤال الثاني:

أولاً: أنظر إلى خريطة الدولة العباسية، ثم أجب عن الأسئلة التي تليها:



أ- ما الرقم الذي يشير إلى موقع عاصمة الدولة الرستمية؟ (.....)

ب- ظل على الخريطة المنطقة التي قامت فيها الدولة الأموية في الأندلس باستخدام الرمزالآتي

ج- أكتب الرقم الدال على المضيق الذي عبره الأمويون إلى الأندلس. (.....)

د- ما المدينة التي خرج منها حملة العلم لنشر المذهب الإباضي والمشار إليها بالرقم (٢) (.....)


(٤)

المادة : الدراسات الاجتماعية الصف : السادس الدور الأول - الفصل الدراسي الأول  
العام الدراسي ٢٠١٨/٢٠١٩ م

تابع السؤال الثاني:

ثانياً: انظر إلى الصورة المقابلة، ثم أجب عن الأسئلة التي تليها:-

أ- الجزء الذي يشار إليه بالرمز (ص) في البركان  
الظاهر يسمى .....



ب- استنتج إحدى خصائص التربة المشار إليها  
بالرمز (ع)  
.....  
.....

ثالثاً: أجب عن التالي: -

أ- قارن بين الدولة الأموية في الأندلس ودولة الأغالبة في المغرب الأدنى من حيث:-

أوجه المقارنة	الدولة الأموية في الأندلس	دولة الأغالبة في المغرب الأدنى
المؤسس		
مركزها (عاصمتها)		

ب- علل ما يلي:

١- قبول البربر دعوة أبي عبدالله الشيعي.

٢- اختلاف درجة الحرارة من مكان لآخر على سطح الأرض.

يتبع/٥

(٥)

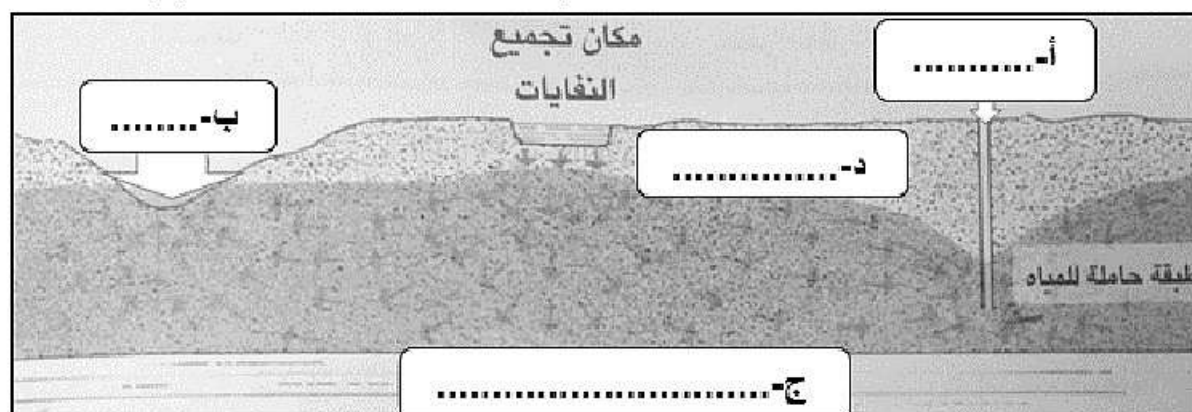
المادة : الدراسات الاجتماعية الصف : السادس الدور الأول - الفصل الدراسي الأول  
العام الدراسي ٢٠١٨/٢٠١٩ م

(٨ درجات)

السؤال الثالث:

أولاً: أدرس الشكل الآتي والذي يوضح تلوث المياه الجوفية، ثم أكتب البيانات التي تشير إليها الأرقام في مواقعها الصحيحة:

(طبقة صخرية غير منفذة للمياه - بئر - وادي - مستوى الماء الجوفي)



ثانياً:

أ- اقرأ النص التالي، ثم أجب عن الأسئلة التي تليه:  
"تتسبب رداءة الطقس في بعض المناطق من العالم أحيانا حدوث اختناقات مرورية بسبب الفيضانات الناجمة عن سقوط أمطار غزيرة وقد تتعطل وسائل النقل كما في سلطنة عمان أحيانا" في ضوء هذه العبارة أجب عما يلي:

١- ما سبب حدوث الإختناقات المرورية الواردة في النص السابق؟

.....

.....

٢- برأيك ما أهمية الاستماع إلى النشرة الجوية في حالة سوء الأحوال الجوية؟

.....

.....

(٦)

المادة : الدراسات الاجتماعية الصف : السادس الدور الأول - الفصل الدراسي الأول  
العام الدراسي ٢٠١٨/٢٠١٩ م

تابع السؤال الثالث:

ب - أذكر سبب واحد لكل من:  
١ - ظهور المشكلات البيئية المختلفة.

.....

٢ - ضعف الدولة العباسية.

.....

(٦ درجات)

السؤال الرابع:

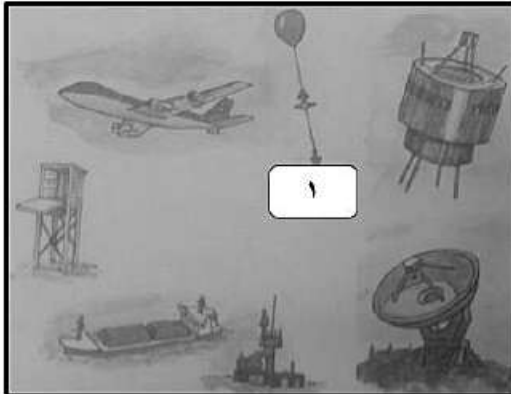
أولاً: انظر إلى الشكل المقابل والذي يمثل مصادر المعلومات التي يتم تجميعها عن الطقس:-

أ- يسمي هذا المصدر المشار إليه بالرقم (١)؟

-البالونات . ( )

أختر الصحيح

-الأقمار الاصطناعية. ( )



ب- فسّر أهميته بالنسبة لمحطات الرصد الجوي؟

.....

ثانياً: ما النتيجة المترتبة على كل من:

أ- ارتفاع نسبة غاز ثاني أكسيد الكربون في الغلاف الجوي.

.....

ب - سوء تعامل الإنسان مع الغلاف الصخري.

.....



(٧)

المادة : الدراسات الاجتماعية الصف : السادس الدور الأول - الفصل الدراسي الأول  
العام الدراسي ٢٠١٨/٢٠١٩ م

تابع السؤال الرابع:

ثالثاً: انسب الشخصيات التاريخية الآتية حسب إنجازاتها في الشكل:

-ابن رشد.

- جوهر الصقلي.

-الصلت بن مالك.

١- انتصف عصره بالاستقرار وأرسل أسطولاً حربياً لتحرير جزيرة سقطرى

٢- فيلسوف وعالم من أهم مؤلفاته كتاب "تهافت التهافت"

(٦ درجات)

السؤال الخامس:

أولاً: صنّف تأثيرات الطقس على سلطنة عمان خلال فصلي الشتاء والصيف:  
(اعتدال الجو - ارتفاع الحرارة - سقوط الأمطار على محافظة ظفار - تشغيل أجهزة التدفئة)

فصل الصيف	فصل الشتاء

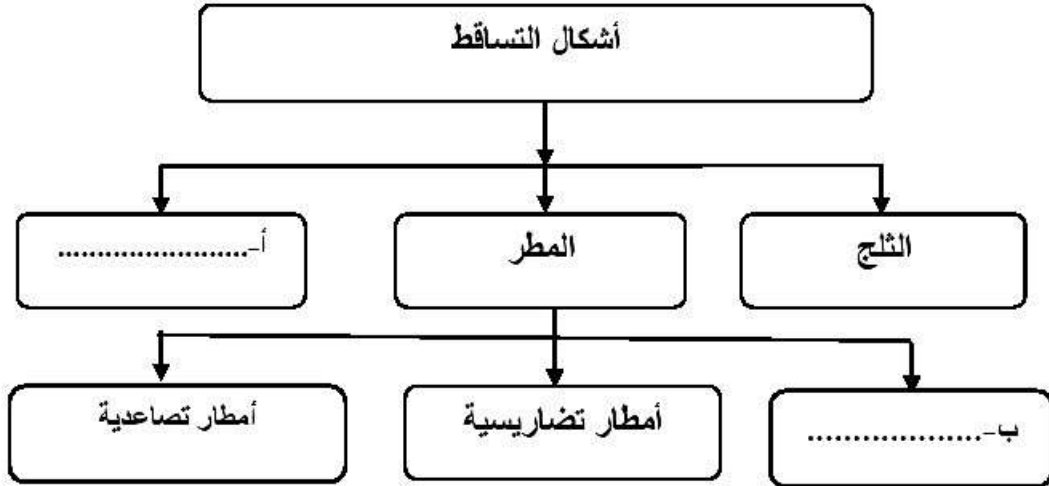
يتبع/٨

(٨)

المادة : الدراسات الاجتماعية الصف : السادس الدور الأول - الفصل الدراسي الأول  
العام الدراسي ٢٠١٨/٢٠١٩ م

تابع السؤال الخامس:

ثانيا: أكمل البيانات المطلوبة في الشكل الآتي:



انتهت الأسئلة مع الدعاء للجميع بالتوفيق والنجاح.



نموذج إجابة امتحان الصف السادس  
للعام الدراسي ١٤٣٩/١٤٤٠ هـ - ٢٠١٨/٢٠١٩ م  
الدور الاول - الفصل الدراسي الاول

المادة: الدراسات الاجتماعية  
الدرجة الكلية: ( ٤٠ ) درجة.  
تنبيه: نموذج الإجابة في ( ٥ ) صفحات.

أولاً: إجابة السؤال الموضوعي:

إجابة السؤال الأول

المستوى المعرفي	الصفحة	الدرجة	الإجابة	البديل الصحيح	المفردة								
معرفة	٦٣	درجة	عبدالله بن إياض.	د	١								
قدرات عليا	٧١ ٧٤ ٨١	درجة	<table border="1"> <thead> <tr> <th>العمل</th> <th>الشخصية</th> </tr> </thead> <tbody> <tr> <td>أسس الدولة الرسمية في المغرب الأوسط</td> <td>عبدالرحمن بن رستم</td> </tr> <tr> <td>نقل الدعوة الإباضية لشمال أفريقيا</td> <td>سلمة بن سعد</td> </tr> <tr> <td>ضمت في عهده الدولة الرسمية</td> <td>يفضان بن أبي اليقطين</td> </tr> </tbody> </table>	العمل	الشخصية	أسس الدولة الرسمية في المغرب الأوسط	عبدالرحمن بن رستم	نقل الدعوة الإباضية لشمال أفريقيا	سلمة بن سعد	ضمت في عهده الدولة الرسمية	يفضان بن أبي اليقطين	ب	٢
العمل	الشخصية												
أسس الدولة الرسمية في المغرب الأوسط	عبدالرحمن بن رستم												
نقل الدعوة الإباضية لشمال أفريقيا	سلمة بن سعد												
ضمت في عهده الدولة الرسمية	يفضان بن أبي اليقطين												
فهم وتطبيق	١٢٨	درجة	٧١%	أ	٣								
فهم تطبيق	٢٨	درجة	<p>(ب)</p>	ب	٤								
معرفة	٩٨	درجة	الإستراتوسفير.	ج	٥								
قدرات عليا	١٣٤ ١٣٥	درجة	الصناعة.	أ	٦								
فهم تطبيق	٢٥	درجة	الغربية.	د	٧								
فهم معرفة	٦٣	درجة	مازن بن غضوبة.	ب	٨								

(٢)

نموذج إجابة امتحان الصف السادس  
للعام الدراسي ١٤٣٩/١٤٤٠ هـ - ٢٠١٨/٢٠١٩ م  
الدور الاول - الفصل الدراسي الأول  
المادة : الدراسات الإجتماعية

تابع أولاً: إجابة السؤال الموضوعي:

تابع إجابة السؤال الأول					
المستوى المعرفي	الصفحة	الدرجة	الإجابة	البديل الصحيح	المفردة
فهم تطبيق	١٢٥	درجة		أ	٩
معرفة	٧١	درجة	المغرب.	ج	١٠
فهم وتطبيق	١٠٨	درجة	جنوبية غربية.	د	١١
معرفة	٨٤	درجة	٢٩٧	ب	١٢
		١٢	المجموع		

ثانياً: إجابة الأسئلة المقالية:

إجابة السؤال الثاني					
الدرجة الكلية: (٨) درجات					
المستوى المعرفي	الصفحة	الدرجة	الإجابة الصحيحة	المفردة	الجزئية
فهم تطبيق	٧٦-٧٤	نصف درجة	الرقم (٣)	أ	أولاً
فهم تطبيق					
	٥٠	نصف درجة	 ملاحظة : يتم تظليل الأندلس	ب	
فهم وتطبيق	٥٥	نصف درجة	الرقم (١)	ج	
فهم وتطبيق	٦٥	نصف درجة	البصرة	د	

( ٣ )

تابع نموذج إجابة امتحان الصف السادس  
للعام الدراسي ١٤٣٩/١٤٤٠ هـ - ٢٠١٨/٢٠١٩ م

الدور الاول - الفصل الدراسي الاول  
المادة : الدراسات الإجتماعية

تابع ثانيا: إجابة الأسئلة المقالية:

الدرجة الكلية: (٥) درجة		تابع إجابة السؤال الثاني					
المستوى المعرفي	الصفحة	الدرجة	الإجابة الصحيحة			المفردة	الجزئية
فهم وتطبيق	٢١	درجة واحدة	قصة البركان أو القصة.			أ	ثانيا
قدرات	٢٣	درجة واحدة	تربة غنية بالمعادن - خصبة تصلح للزراعة (يكتفى بذكر خاصية واحدة)			ب	
قدرات عليا	٥٢ ٥٤ ٧٥	درجتين لكل مفردة نصف درجة	دولة الأغلبية في المغرب الأدنى	الدولة الأموية في الاندلس	وجه المقارنة	أ	ثالثا
			إبراهيم بن الأغلب	عبدالرحمن بن معاوية (عبد الرحمن الداخل)	المؤسس		
			القيروان	قرطبة	عاصمتها		
فهم وتطبيق	٨٤	درجة واحدة	١- لأن البربر كانوا ساخطين على الدولة العباسية - يرغبون في تأسيس دولة يكونوا هم أصحابها (يكتفى بذكر إجابة واحدة)			ب	
فهم وتطبيق	١٠٢	درجة واحدة	٢- بسبب اختلاف في زوايا سقوط أشعة الشمس واختلاف المسافات.				

الدرجة الكلية: (٨) درجات		إجابة السؤال الثالث					
المستوى المعرفي	الصفحة	الدرجة	الإجابة الصحيحة			المفردة	الجزئية
فهم وتطبيق	١٣٦	درجه واحدة	بنر.			أ	أولا
فهم وتطبيق	١٣٦	درجه واحدة	وادي.			ب	
فهم وتطبيق	١٣٦	درجه واحدة	طبقة صخرية غير منفذة للمياه.			ج	
فهم وتطبيق	١٣٦	درجه واحدة	مستوى الماء الجوفي.			د	

(٤)

تابع نموذج إجابة امتحان الصف السادس  
للعام الدراسي ١٤٣٩/١٤٤٠ هـ - ٢٠١٨/٢٠١٩ م  
الدور الاول - الفصل الدراسي الاول  
المادة : الدراسات الاجتماعية

إجابة الأسئلة المقالية:

تابع إجابة السؤال الثالث

المستوى المعرفي	الصفحة	الدرجة	الإجابة الصحيحة	المفردة	الجزئية
معرفة	١٢١	درجة واحدة	١- الفيضانات - سقوط الأمطار - رداءة الطقس ( يكتفى بواحدة)	أ	
قدرات عليا	١٢١	درجة واحدة	٢- لتجنب العديد من المخاطر (أي إجابة تفيد المعنى يذكرها الطالب)		
معرفة	١٢	درجة واحدة	١- تزايد أعداد السكان - الإفراط في استغلال الموارد الطبيعية (يكتفى بذكر إجابة واحدة)	ب	ثانيا
معرفة	٥٠	درجة واحدة	٢- اتساع رقعة الدولة العباسية - صعوبة السيطرة الفعلية على المناطق البعيدة عن مركز الدولة (يكتفى بذكر واحدة)		

تابع ثانيا: إجابة الأسئلة المقالية:

إجابة السؤال الرابع

الدرجة الكلية: (٦) درجات

المستوى المعرفي	الصفحة	الدرجة	الإجابة الصحيحة	المفردة	الجزئية
فهم وتطبيق	١٢٣	درجة واحدة	البالونات.	أ	أولا
فهم وتطبيق	١٢٤	درجة واحدة	رصد وقياس عناصر الطقس المختلفة (أو مايفيد المعنى الصحيح)	ب	
قدرات عليا	٩٦	درجة واحدة	الارتفاع في درجات الحرارة.	أ	ثانيا
قدرات عليا	١٢	درجة واحدة	انجراف التربة وتزايد الانهيارات الأرضية.	ب	

(٥)

تابع نموذج إجابة امتحان الصف السادس  
للعام الدراسي ١٤٣٩/١٤٤٠ هـ - ٢٠١٨/٢٠١٩ م  
الدور الاول - الفصل الدراسي الاول  
المادة : الدراسات الاجتماعية

تابع ثانيا: إجابة الأسئلة المقالية:

تابع إجابة السؤال الرابع					
المستوى المعرفي	الصفحة	الدرجة	الإجابة الصحيحة	المفردة	الجزئية
معرفة	٦٨	درجة واحدة	١- الصلت بن مالك.		ثالثا
معرفة	٥٧	درجة واحدة	٢- ابن رشد.		

إجابة السؤال الخامس						
الدرجة الكلية: (٦) درجات						
المستوى المعرفي	الصفحة	الدرجة	الإجابة الصحيحة		المفردة	الجزئية
قدرات عليا	١٢١	أربع درجات لكل مفردة درجة	فصل الصيف	فصل الشتاء	أ	أولا
			ارتفاع الحرارة.	اعتدال الجو		
			سقوط الأمطار على محافظة ظفار.	تشغيل أجهزة التدفئة.	ب	
معرفة	١٢٩	درجة واحدة	يزد.		أ	ثانيا
معرفة	١١٣	درجة واحدة	أمطار إعصارية (إعصارية).		ب	

نهاية نموذج الإجابة



## امتحان مادة: الدراسات الاجتماعية

للسف: السادس

للعام الدراسي ١٤٣٩/١٤٤٠هـ - ٢٠١٨/٢٠١٩م

الدور الثاني - الفصل الدراسي الاول

- زمن الامتحان: (ساعة ونصف) ● عدد صفحات أسئلة الامتحان: ( ٨ )
- الإجابة في الدفتر نفسه.

		اسم الطالب
الصف		المدرسة

التوقيع بالاسم		الدرجة		السؤال
المصحح الثاني	المصحح الأول	بالحروف	بالأرقام	
				١
				٢
				٣
				٤
				٥
مراجعة الجمع	جمعه			المجموع
				المجموع الكلي



(١)

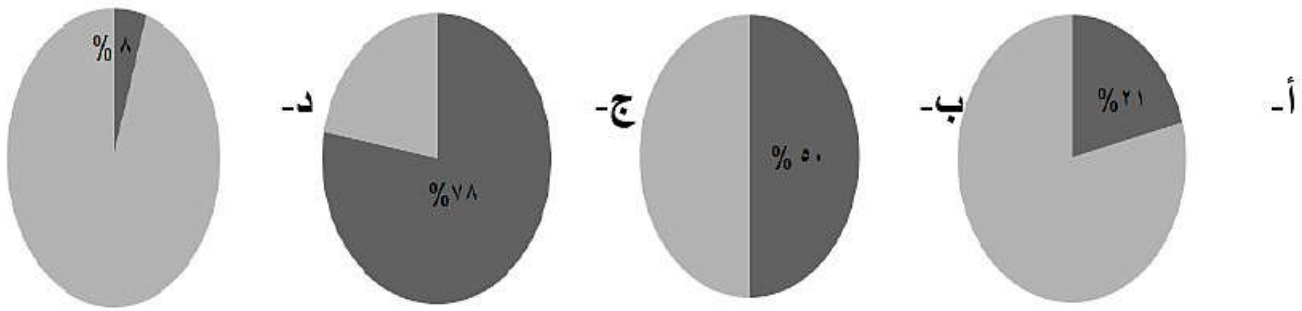
المادة: الدراسات الاجتماعية الصف: السادس - الدور الثاني - الفصل الدراسي الأول  
العام الدراسي ٢٠١٨/٢٠١٩ م

أجب عن جميع الأسئلة الآتية

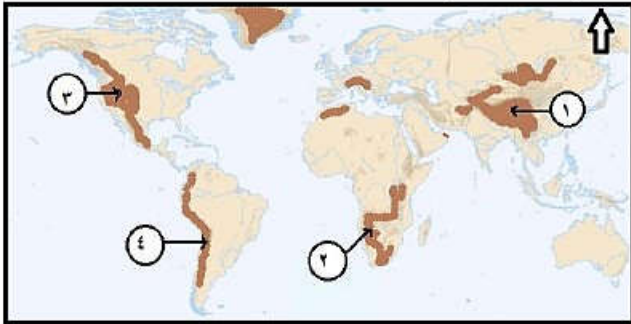
السؤال الأول: ضع دائرة حول رمز الإجابة الصحيحة لكل مفردة من المفردات الآتية: (٢ درجة)

١- اتسعت الدولة العربية الإسلامية في عهد الخلفاء الراشدين لتشمل عدة مناطق ما عدا:  
أ- العراق. ب- بلاد فارس. ج- بلاد الشام. د- الأندلس.

٢- الشكل الصحيح الذي يوضح نسبة غاز النيتروجين في الغلاف الجوي:



٣- الرقم الذي يشير إلى سلسلة جبال الهملايا في الخريطة المقابلة:



أ- ١  
ب- ٢  
ج- ٣  
د- ٤

٤- الشكل الصحيح الذي يوضح أقسام المغرب العربي في الوقت الحالي:

١- المغرب الأدنى	ليبيا - تونس
٢- المغرب الأوسط	الجزائر
٣- المغرب الأقصى	المملكة المغربية

١- المغرب الأدنى	المملكة المغربية
٢- المغرب الأوسط	الجزائر
٣- المغرب الأقصى	ليبيا - تونس

ب

١- المغرب الأدنى	ليبيا - الجزائر
٢- المغرب الأوسط	تونس
٣- المغرب الأقصى	المملكة المغربية

١- المغرب الأدنى	الجزائر - تونس
٢- المغرب الأوسط	ليبيا
٣- المغرب الأقصى	المملكة المغربية

د

(٢)


المادة: الدراسات الاجتماعية الصف: السادس - الدور الثاني - الفصل الدراسي الأول  
العام الدراسي ٢٠١٨/٢٠١٩ م

تابع السؤال الأول:

٥- يطلق على فقدان الرطوبة المائية من خلال المسامات الموجودة في أوراق النباتات:

أ- التبخر. ب- النحت. ج- التسرب. د- النتح.

٦- تمثل الصورة التي أمامك أعظم مساجد المسلمين في الاندلس الذي يوجد في مدينة:



أ- قرطبة. ب- غرناطة.

ج- اشبيلية. د- مالقه.

٧- احدى المشكلات التي يعاني منها الغلاف الصخري:

أ- تدهور الحياة البرية. ب- تلوث الهواء. ج- انجراف التربة. د- تلوث المياه.

٨- المخطط الصحيح الذي يوضح ترتيب العطاء لطبقات الغلاف الجوي ابتداءً من سطح الارض:

١-الاستراتوسفير	ب -
٢-النيرموسفير	
٣-التريبوسفير	
٤-الميزوسفير	

١-الميزوسفير	أ -
٢-الاستراتوسفير	
٣-التريبوسفير	
٤-النيرموسفير	

١-الاستراتوسفير	د -
٢-النيرموسفير	
٣-التريبوسفير	
٤-الميزوسفير	

١-التريبوسفير	ج -
٢-الاستراتوسفير	
٣-الميزوسفير	
٤-النيرموسفير	

(٣)

المادة: الدراسات الاجتماعية الصف: السادس- الدور الثاني - الفصل الدراسي الأول  
العام الدراسي ٢٠١٨/٢٠١٩ م

تابع السؤال الأول:

٩- الدائرة العرضية التي تقسم الكرة الأرضية الى نصفين شمالي وجنوبي:

أ- مدار الجدي. ب- مدار السرطان. ج- دائرة الاستواء. د- الدائرة القطبية.

١٠- الإمام الذي حرّر الجزيرة المشار إليها في الخريطة من الاحباش:



أ- عزان بن تميم. ب- المهنا بن جيفر.

ج- راشد بن النظر. د- الصلت بن مالك.

١١- المدة الزمنية التي دامت فيها الدولة الفاطمية بعد انتقالها إلى مصر:

أ- قرن. ب- قرنين. ج- ثلاثة قرون. د- أربعة قرون.

١٢- تعتبر من محطات الرصد الجوي لجمع بيانات الطقس وتحليلها:



ب-



أ-



د-



ج-

يتبع/٤

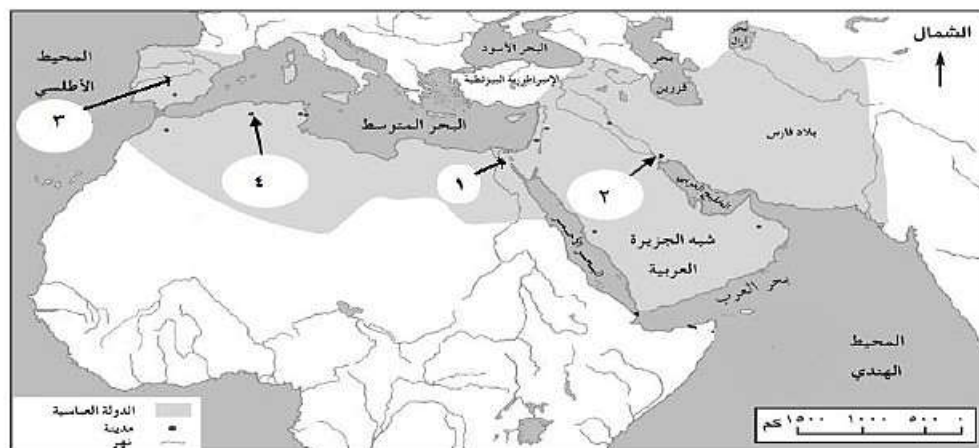
(٤)

المادة: الدراسات الاجتماعية الصف : السادس - الدور الثاني - الفصل الدراسي الأول  
العام الدراسي ٢٠١٨/٢٠١٩ م

(٨ درجات)

السؤال الثاني: أجب عن الاسئلة التالية: -

أولاً: أدرس الخريطة التي أمامك جيداً، ثم أجب عن الاسئلة التي تليها:



أ - ما الرقم الذي يشير الى الدولة الاموية في الاندلس .....

ب - ضع دائرة حول جزيرة صقلية على الخريطة.

ج - ما الرقم الذي يشير الى العاصمة الجديدة في عهد المعز لدين الله الفاطمي .....

د - ما الرقم الذي يشير إلى المدينة التي تلقى فيها حملة العلم والتعليم على يد استاذهم

أبو عبيدة مسلم التميمي .....

ثانياً:

أ - صنف الملوثات التالية حسب مصدرها:

(الاسمدة العضوية، مساحيق الغسيل، مخلفات البناء، المواد الكيماوية السامة)

الصناعة	النفايات المنزلية الصلبة	الزراعة	الصرف الصحي

(٥)

المادة: الدراسات الاجتماعية الصف : السادس - الدور الثاني - الفصل الدراسي الأول  
العام الدراسي ٢٠١٨/٢٠١٩ م

تابع /السؤال الثاني:

ب - رتب الآثار التدميرية للزلازل من الأضعف الى الأقوى بالأرقام (١،٢،٣،٤) حسب قوة الزلزال:

(.....) تنهار المباني وأغصان الأشجار.

(.....) يشعر به الفرد وتتأرجح الأشياء المعلقة.

(.....) دمار شامل .

(.....) تشقق جدران المباني وتتهياً للسقوط والانهار .

ثالثاً: أكتب بين القوسين المصطلح أو المفهوم الصحيح لكل عبارة مما يأتي :

أ - (.....) الاجزاء المرتفعة من الطبقات الصخرية بعد الانثناء.

ب - (.....) الذين تلقوا العلم على يد الإمام ابي عبيدة ،وارسلوا لنشر المذهب الإباضي.

ج - (.....) هزات أرضية قصيرة سريعة متتالية تضرب سطح الارض.

د - (.....) بناء هندسي يقام على مجرى مائي بهدف حجز المياه للاستفادة منها .

(٦)

المادة: الدراسات الاجتماعية الصف : السادس- الدور الثاني - الفصل الدراسي الأول  
العام الدراسي ٢٠١٨/٢٠١٩ م

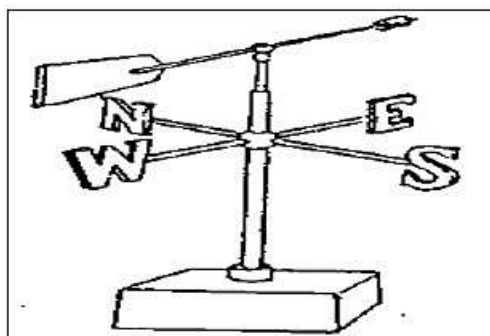
( ٨ درجات )

السؤال الثالث: أجب عن الأسئلة الآتية :  
أولاً: اقرأ النص التالي ثم أجب عن الأسئلة التي تليها:

"كانت عمان من أوائل البلدان في شبه الجزيرة العربية التي دخلت في الاسلام طوعا ، فقد بعث الرسول صلى الله عليه وسلم الصحابي عمرو بن العاص برسالة الى ملكي عمان يومئذ جيفر وعبد ابني الجلندي يدعوهما وقومهما إلى الإسلام ، فأسلما وأسلم الناس "

- أ- لمن أرسلت الرسالة التي حملها الصحابي عمرو بن العاص؟ .....
- ب- من العامل الذي أقره الرسول لجمع الصدقات في عمان؟ .....
- ج- ضع عنواناً مناسباً للنص .....

ثانياً: أدرس الصورة التي أمامك ثم أجب عن الأسئلة الآتية :



- أ- اسم الجهاز .....
- ب- يستخدم في .....

ثالثاً : أكمل المسطرة الزمنية التي توضح الإمامة في عمان :

..... ..... ..... .....	قيام الإمامة الثانية في عمان	انتهاء الإمامة الأولى في عمان	..... ..... ..... .....
٢٨٠ هـ	.....	.....	١٣٢ هـ

(٧)

المادة: الدراسات الاجتماعية الصف : السادس - الدور الثاني - الفصل الدراسي الأول  
العام الدراسي ٢٠١٨/٢٠١٩ م

السؤال الرابع: أجب عن الاسئلة الآتية:- (٦ درجات)

أولاً: قارن بين البركان المخروطي والبركان الغطائي من حيث : درجة الحرارة ، طبيعة الصهير:

وجه المقارنة	البركان المخروطي	البركان الغطائي
درجة الحرارة	.....	.....
طبيعة الصهير	.....	.....

ثانياً: أذكر نتيجة واحدة لكل من :

أ - وفاة هشام الثالث آخر الخلفاء الامويين في الاندلس سنة ٤٢٢ هـ .

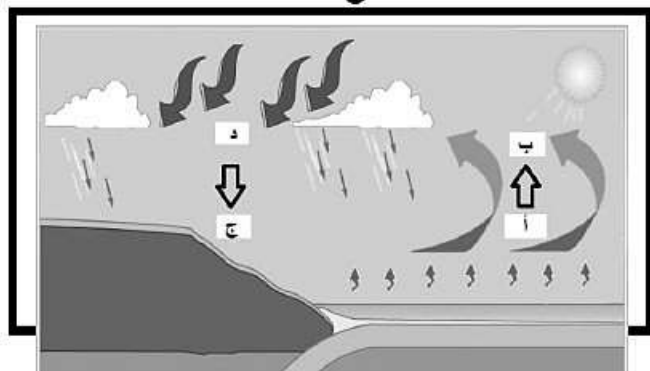
.....

ب - تحلل وتفتت المواد البركانية.

.....

ثالثاً: من خلال الصورة التي أمامك أجب عن الاسئلة الآتية :

أ - ينطبق مفهوم الأمطار الإعصارية على حركة الهواء الدافئ من الموقع:



١- من ( أ ) الى ( ب )

٢- من ( د ) الى ( ج )

ظلل الاجابة الصحيحة.

ب - فسر أجابتك: .....

(٨)

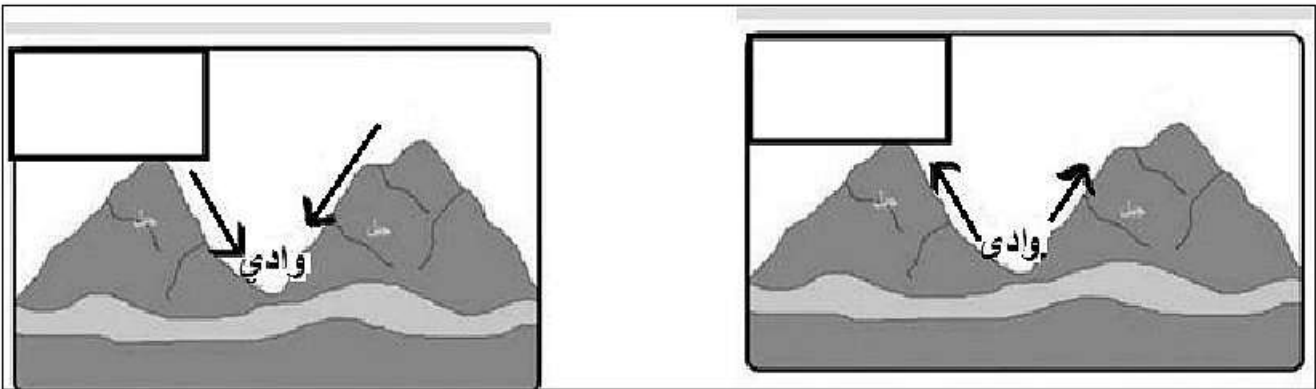
المادة: الدراسات الاجتماعية الصف : السادس الدور الثاني - الفصل الدراسي الأول  
العام الدراسي ٢٠١٨/٢٠١٩ م

السؤال الخامس : أجب عن الأسئلة الآتية :- ( ٦ درجات )

أولا : أنسب الأعمال للشخصيات التاريخية الواردة بين القوسين  
( ابن رشد - الحاكم بأمر الله - الوارث بن كعب - عبدالرحمن بن رستم )

أهم أعماله	الشخصية التاريخية
اتخذ من تاهرت عاصمة له سنة ١٦٠ هـ.	.....
مؤلف كتاب تهافت التهافت.	.....
أنشأ دار الحكمة في القاهرة.	.....
تم تعيينه اماما على عمان سنة ١٧٩ هـ.	.....

ثانيا: أرسم الرموز التي أمامك : ( ) ، ( داخل الاشكال التالية التي توضح فترة حدوث نسيم الوادي ونسيم الجبل :-



انتهت الأسئلة مع الدعاء للجميع بالتوفيق والنجاح.






نمؤذج إجابة امتحان الصف السادس  
للعام الدراسي ١٤٣٩/١٤٤٠ هـ - ٢٠١٨/٢٠١٩ م  
الدور الثاني - الفصل الدراسي الاول

المادة: الدراسات الإجتماعية. الدرجة الكلية: ( ٤٠ ) درجة.  
تنبيهه: نمؤذج الإجابة في ( ٧ ) صفحات.

أولاً: إجابة السؤال الموضوعي:

الدرجة الكلية : ١٢ درجة		إجابة السؤال الأول									
المستوى المعرفي	الصفحة	الدرجة	الإجابة	البديل الصحيح	المفردة						
معرفة	٥٠	درجة	الاندلس	د	١						
فهم وتطبيق	٩٤	درجة		ج	٢						
فهم وتطبيق	٢٥	درجة	١	أ	٣						
قدرات عليا	٧١	درجة	<table border="1"> <tr> <td>١-المغرب الادنى</td> <td>ليبيا - تونس</td> </tr> <tr> <td>٢-المغرب الاوسط</td> <td>الجزائر</td> </tr> <tr> <td>٣-المغرب الأقصى</td> <td>المملكة المغربية</td> </tr> </table>	١-المغرب الادنى	ليبيا - تونس	٢-المغرب الاوسط	الجزائر	٣-المغرب الأقصى	المملكة المغربية	ب	٤
١-المغرب الادنى	ليبيا - تونس										
٢-المغرب الاوسط	الجزائر										
٣-المغرب الأقصى	المملكة المغربية										

( ٢ )

تابع نموذج إجابة امتحان الصف السادس- الدور الثاني - الفصل الدراسي الاول  
للعام الدراسي ١٤٣٩/١٤٤٠ هـ - ٢٠١٨/٢٠١٩ م  
المادة : الدراسات الاجتماعية

تابع أولاً : إجابة السؤال الموضوعي :


تابع إجابة السؤال الاول					
المستوى المعرفي	الصفحة	الدرجة	الإجابة	البديل الصحيح	المفردة
معرفة	١٣٠	درجة	النتج	د	٥
فهم وتطبيق	٥٩	درجة	قرطبة	أ	٦
معرفة	١٢	درجة	انجراف التربة	ج	٧
فهم وتطبيق	٩٧	درجة	١-التربوسفير	ج	٨
			٢-الاستراتوسفير		
			٣-الميزوسفير		
			٤-الثيرموسفير		
معرفة	١٠٤	درجة	دائرة الاستواء	ج	٩
فهم وتطبيق	٦٨	درجة	الصلت بن مالك	د	١٠
معرفة	٨٨	درجة	قرنين	ب	١١
فهم وتطبيق	١٢٣	درجة		ج	١٢
١٢ درجة			المجموع		

تابع نموذج إجابة امتحان الصف السادس- الدور الثاني - الفصل الدراسي الاول

للعام الدراسي ١٤٤٠/١٤٣٩ هـ - ٢٠١٩/٢٠١٨ م

المادة : الدراسات الاجتماعية

ثانيا: إجابة الأسئلة المقالية:

الدرجة الكلية ( ٨ ) درجات			إجابة السؤال الثاني			
المستوى المعرفي	الصفحة	الدرجة	الإجابة الصحيحة	المفردة	الجزئية	
فهم وتطبيق	٥٤	نصف درجة	( ٣ )	أ	أولاً	
فهم وتطبيق	٧٦	نصف درجة	ان يضع الطالب دائرة على جزيرة صقلية	ب		
						
فهم وتطبيق	٨٦	نصف درجة	( ١ )	ج		
فهم وتطبيق	٦٥	نصف درجة	( ٢ )	د		

تابع نموذج إجابة امتحان الصف السادس- الدور الثاني - الفصل الدراسي الاول  
للعام الدراسي ١٤٣٩/١٤٤٠ هـ - ٢٠١٨/٢٠١٩ م  
المادة : الدراسات الاجتماعية

الدرجة الكلية ( ٨ ) درجات		إجابة السؤال الثاني						
الجزئية	الجزئية	الجزئية	الجزئية			الجزئية	الجزئية	
فهم وتطبيق	١٣٣ ١٣٤	درجتان لكل مفردة نصف درجة	الصرف الصحي	الزراعة	النفايات المنزلية الصلبة	الصناعة	أ	ثانياً
فهم وتطبيق	١٧	درجتان لكل مفردة نصف درجة	مساحيق الغسيل	الأسمدة العضوية	مخلفات البناء	المواد الكيميائية السامة	ب	
معرفة	٢٨	نصف درجة	الطيات المحدبة / الجبال.			أ	ثالثاً	
معرفة	٦٥	نصف درجة	حملة العلم			ب		
معرفة	١٦	نصف درجة	الزلازل - الزلازل			ج		
معرفة	١٤٠	نصف درجة	السد			د		
٨ درجات		المجموع						

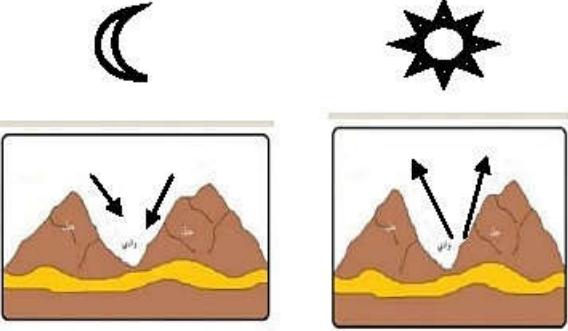
تابع تابع نموذج إجابة امتحان الصف السادس- الدور الثاني - الفصل الدراسي الاول  
للعام الدراسي ١٤٤٠/١٤٣٩ هـ - ٢٠١٩/٢٠١٨ م  
المادة : الدراسات الاجتماعية

الدرجة الكلية ( ٨ ) درجات		إجابة السؤال الثالث											
المستوى المعرفي	الصفحة	الدرجة	الإجابة الصحيحة	المفردة	الجزئية								
معرفة	٦٢	درجة	ملكي عمان جيفر وعبد ابني الجلندي / أهل عمان.	أ	أولاً								
معرفة	٦٢	درجة	عمرو بن العاص	ب									
معرفة	٦٢	درجة	اسلام أهل عمان _ الإسلام في عمان ( بما يفيد المعنى )	ج									
فهم وتطبيق	١٠٦	درجة	دوارة الرياح	أ	ثانياً								
فهم وتطبيق	١٠٦	درجة	تحديد اتجاه الرياح	ب									
قدرات عليا	٦٩	٣ درجات لكل مفردة درجة	<table border="1" style="width: 100%; text-align: center;"> <tr> <td>انتهاء الامامة الثانية في عمان</td> <td>قيام الامامة الثانية في عمان</td> <td>انتهاء الامامة الأولى في عمان</td> <td>قيام الامامة الأولى في عمان / بيعة الجلندي بن مسعود ( يكتفى بواحدة )</td> </tr> <tr> <td>٢٨٠ هـ</td> <td>١٧٧ هـ</td> <td>١٣٤ هـ</td> <td>١٣٢ هـ</td> </tr> </table>	انتهاء الامامة الثانية في عمان	قيام الامامة الثانية في عمان	انتهاء الامامة الأولى في عمان	قيام الامامة الأولى في عمان / بيعة الجلندي بن مسعود ( يكتفى بواحدة )	٢٨٠ هـ	١٧٧ هـ	١٣٤ هـ	١٣٢ هـ		ثالثاً
انتهاء الامامة الثانية في عمان	قيام الامامة الثانية في عمان	انتهاء الامامة الأولى في عمان	قيام الامامة الأولى في عمان / بيعة الجلندي بن مسعود ( يكتفى بواحدة )										
٢٨٠ هـ	١٧٧ هـ	١٣٤ هـ	١٣٢ هـ										
٨ درجات		المجموع											

تابع نموذج إجابة امتحان الصف السادس- الدور الثاني - الفصل الدراسي الاول  
للعام الدراسي ١٤٣٩/١٤٤٠ هـ - ٢٠١٨/٢٠١٩ م

الدرجة الكلية ( ٦ ) درجات			إجابة السؤال الرابع												
المستوى المعرفي	الصفحة	الدرجة	الإجابة الصحيحة			المفردة	الجزئية								
قدرات عليا	٢١	درجتان لكل مفردة نصف درجة	<table border="1"> <tr> <td>البركان الغطائي</td> <td>البركان المخروطي</td> <td>وجه المقارنة</td> </tr> <tr> <td>١٠٠٠ س</td> <td>٧٠ س</td> <td>درجة الحرارة</td> </tr> <tr> <td>مائع</td> <td>لزج</td> <td>طبيعة الصهير</td> </tr> </table>	البركان الغطائي	البركان المخروطي	وجه المقارنة	١٠٠٠ س	٧٠ س	درجة الحرارة	مائع	لزج	طبيعة الصهير			أولاً
البركان الغطائي	البركان المخروطي	وجه المقارنة													
١٠٠٠ س	٧٠ س	درجة الحرارة													
مائع	لزج	طبيعة الصهير													
قدرات عليا	٥٩	درجة	انقسام الاندلس الى مجموعة من الدويلات والامارات _ ظهور دول الطوائف ( يكتفي بذكر مفردة واحدة)			أ	ثانياً								
قدرات عليا	٢٣	درجة	تربة غنية بالمعادن وخصبة صالحة للزراعة			ب									
قدرات عليا	١١٢	درجة	١- $\sqrt{1}$ من (أ) الى (ب)			أ	ثالثاً								
قدرات عليا	١١٣	درجة	لانه أخف وزن من الهواء البارد - بسبب جفاف الهواء الدافئ يكتفي بذكر اجابة واحدة .			ب									
٦ درجات							المجموع								

تابع نموذج إجابة امتحان الصف السادس - الدور الثاني - الفصل الدراسي الاول  
للعام الدراسي ١٤٤٠/١٤٣٩ هـ - ٢٠١٩/٢٠١٨ م

إجابة السؤال الخامس:							
المستوى المعرفي	الصفحة	الدرجة	الإجابة الصحيحة		المفردة	الجزئية	
فهم وتطبيق	٧٤	أربع درجات لكل مفردة درجة.	أهم أعماله			أولاً	
	٥٧		اتخذ من تاهرت عاصمة له سنة ١٦٠ هـ				الشخصية التاريخية
	٨٨		مؤلف كتاب تهافت التهافت				عبدالرحمن بن رستم
	٦٨		أنشأ دار الحكمة في القاهرة				ابن رشد
			تم تعيينه اماما على عمان سنة ١٧٩ هـ				الحاكم بأمرالله
			الوارث بن كعب				
قدرات عليا	١١٠	درجتان لكل مفردة درجة.				ثانياً	
			ملاحظة : أن يضع الرمز المناسب في الشكل المناسب .				
٦			المجموع				

نهاية نموذج الإجابة

