

شكراً لتحميلك هذا الملف من موقع المناهج العمانية



الامتحان النهائي الدور الأول الفترة الصباحية لمحافظة شمال الباطنة

[موقع المناهج](#) ← [المناهج العمانية](#) ← [الصف السادس](#) ← [اجتماعيات](#) ← [الفصل الأول](#) ← [الملف](#)

تاريخ نشر الملف على موقع المناهج: 05:42:36 2024-01-04

التواصل الاجتماعي بحسب الصف السادس



روابط مواد الصف السادس على تلغرام

[الرياضيات](#)

[اللغة الانجليزية](#)

[اللغة العربية](#)

[التربية الاسلامية](#)

المزيد من الملفات بحسب الصف السادس والمادة اجتماعيات في الفصل الأول

[الامتحان النهائي الدور الأول الفترة الصباحية لمحافظة جنوب الباطنة](#)

1

[الامتحان النهائي الدور الأول الفترة الصباحية للمحافظات جنوب الشرقية](#)

2

[الامتحان النهائي الرسمي الدور الأول الفترة الصباحية لمحافظة جنوب الباطنة](#)

3

[اختبار نهائي رسمي في محافظة الداخلية](#)

4

المزيد من الملفات بحسب الصف السادس والمادة اجتماعيات في الفصل الأول

[اختبار نهائي رسمي في محافظة الظاهرة](#)

5

أجب عن جميع الأسئلة الآتية

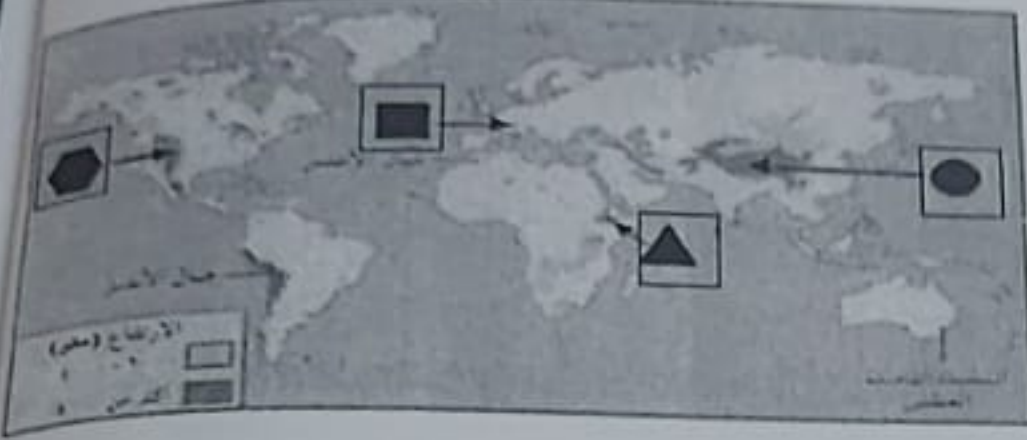
السؤال الأول: ضع دائرة حول رمز الإجابة الصحيحة لكل مفردة من المفردات الآتية:

١- إذا حدث دمار شامل نتيجة زلزال في منطقة ما، فإن درجته على مقياس ريختر:

- (أ) ٦-٥ (ب) ٧-٦ (ج) ٧-٨ (د) أكبر من ٨

٢- الرمز الذي يشير إلى سلسلة جبال الألب في الخريطة المقابلة:

- (أ) ●
(ب) ■
(ج) ▲
(د) ⬡



٣- الصحابي الذي قام ببناء المسجد الذي تشير له الصورة المقابلة:

- (أ) مازن بن غضوبة
(ب) عمر بن الخطاب
(ج) عمرو بن العاص
(د) عثمان بن عفان



٤- العام الهجري الذي انتهت فيه الإمامة الأولى في عمان:

- (أ) ١٣٠ (ب) ١٣٢ (ج) ١٣٤ (د) ١٣٦

٥- تتكون الأندلس في الوقت الحاضر من دولتين هما:

- (أ) بريطانيا وألمانيا (ب) إسبانيا والبرتغال (ج) ألمانيا والبرتغال (د) بريطانيا وإسبانيا

٦- الترتيب الصحيح لغازات الغلاف الجوي حسب نسبتها المئوية من الأكثر إلى الأقل:

النيروجين	النيروجين	النيروجين	النيروجين
الاوكسجين	الاوكسجين	ثاني أكسيد الكربون	الآرجون
ثاني أكسيد الكربون	الآرجون	الآرجون	الاوكسجين
الآرجون	ثاني أكسيد الكربون	الاوكسجين	ثاني أكسيد الكربون

(د)


(ج)

(ب)

(أ)

تابع السؤال الأول:

٧- تُعرف الرياح اليومية في الشكل المقابل، بـ (تسمية):






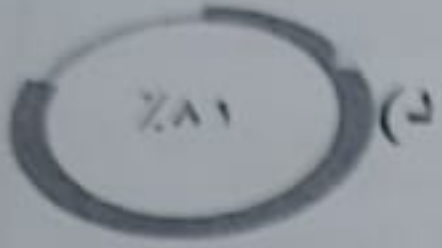
(ب) للبحر

(أ) الجبل

(د) البر

(ج) الوادي

٨- الشكل الصحيح الذي يمثل النسبة المئوية للمياه على الكرة الأرضية:



٩- الطبقة الجوية التي تحترق فيها الشهب والنيازك:

(ب) التيرموسفير

(أ) الميزوسفير

(د) الاستراتوسفير

(ج) التروبوسفير

١٠- توضح الخريطة المقابلة أن سلطنة عمان تتأثر

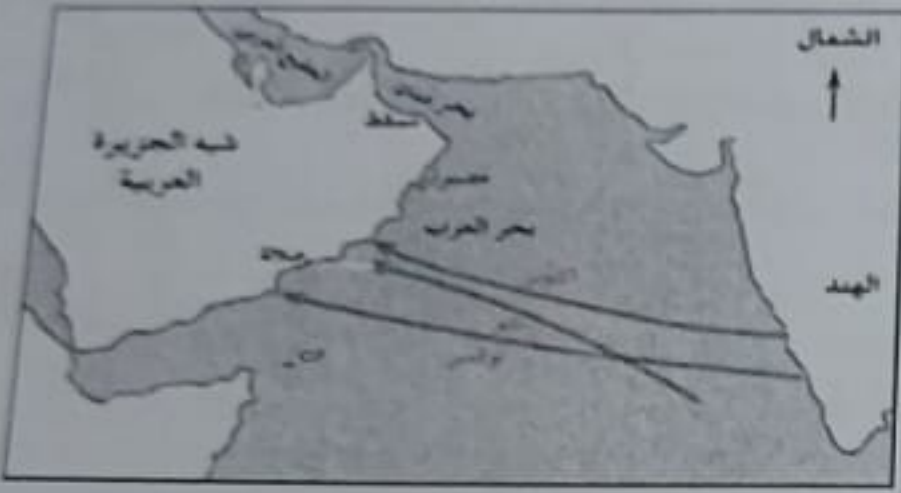
بالأعاصير التي تتكون فوق المحيط:

(ب) المتجمد الشمالي

(أ) الهادي

(د) الهندي

(ج) الأطلسي



١١- الولاية العمانية التي تتأثر بالمنخفضات الجوية التي تتشكل فوق البحر المتوسط في فصل الشتاء:

(د) ثمريت

(ج) هيما

(ب) صلالة

(أ) الجبل الأخضر

١٢- تُظهر خريطة الطقس اليومية المقابلة ان


الأجواء في مدينة مسقط:

(أ) أمطار رعدية

(ب) مشمسة

(ج) غائمة جزئياً

(د) ممطرة



السؤال الثاني: اجب عن الأسئلة الآتية:

أولاً: أمامك شكلين توضيحين لنوعين من الأمطار ، أدرسهما جيداً، ثم اجب عن الأسئلة التي تليهما:



١- سمّ نوع الأمطار المشار له بالرمز (أ).

٢- اشرح باختصار كيفية حدوث الأمطار في النوع المشار له بالرمز (ب).

ثانياً: اكتب اسم المصطلح الدال على العبارات التالية بين القوسين:

١- أحد أغلفة النظام الأرضي الذي يحتوي على موارد طبيعية كالمعادن والنفط (.....)

٢- حالة الجو لفترة زمنية طويلة قد تكون شهراً أو فصلاً أو عدة سنوات (.....)

ثالثاً: ١- فسر كلاً مما يأتي:

(أ) قيام الأمير عبد الرحمن الثالث بتقوية الأسطول البحري في الأندلس.

(ب) يتم التنبؤ بالطقس في الوقت الحاضر بدقة متناهية سواءً لمدة ٢٤ ساعة أو بضعة أيام.

٢- صنف الأحداث التاريخية في الجدول التالي حسب الإمام الذي وقعت في فترة حكمه بوضع إشارة () المكان المناسب لها:

الأحداث التاريخية	عزان بن تميم	محمد بن أبي عفران	الصلت بن مالك	عسان بن عبد
بدأت بانتخابه دولة الإمامة الثانية في عمان				
قام بإنشاء أول أسطول بحري لعمان				
ارسل اسطول بحري لتحرير جزيرة سقطرى من الأحباش				
انتهت باستشهاده دولة الإمامة الثانية في عمان				

(٤)

المادة: الدراسات الاجتماعية - الصف : السادس - الدور الأول - الفصل الدراسي الأول - العام الدراسي ٢٠٢٢/٢٠٢٤م الفترة الصباحية

السؤال الثالث: اجب عن الأسئلة الآتية:

أولاً: اقرأ النص الآتي ، ثم اجب عن الأسئلة التي تليه:

(اهتمت الحكومة الرشيدة اهتماماً كبيراً ببناء السدود لتعزيز المخزون الجوفي في أحواض التصريف المائية السطحية في سلطنة عمان بدلاً من إهدار المياه في البحر أو الصحراء)

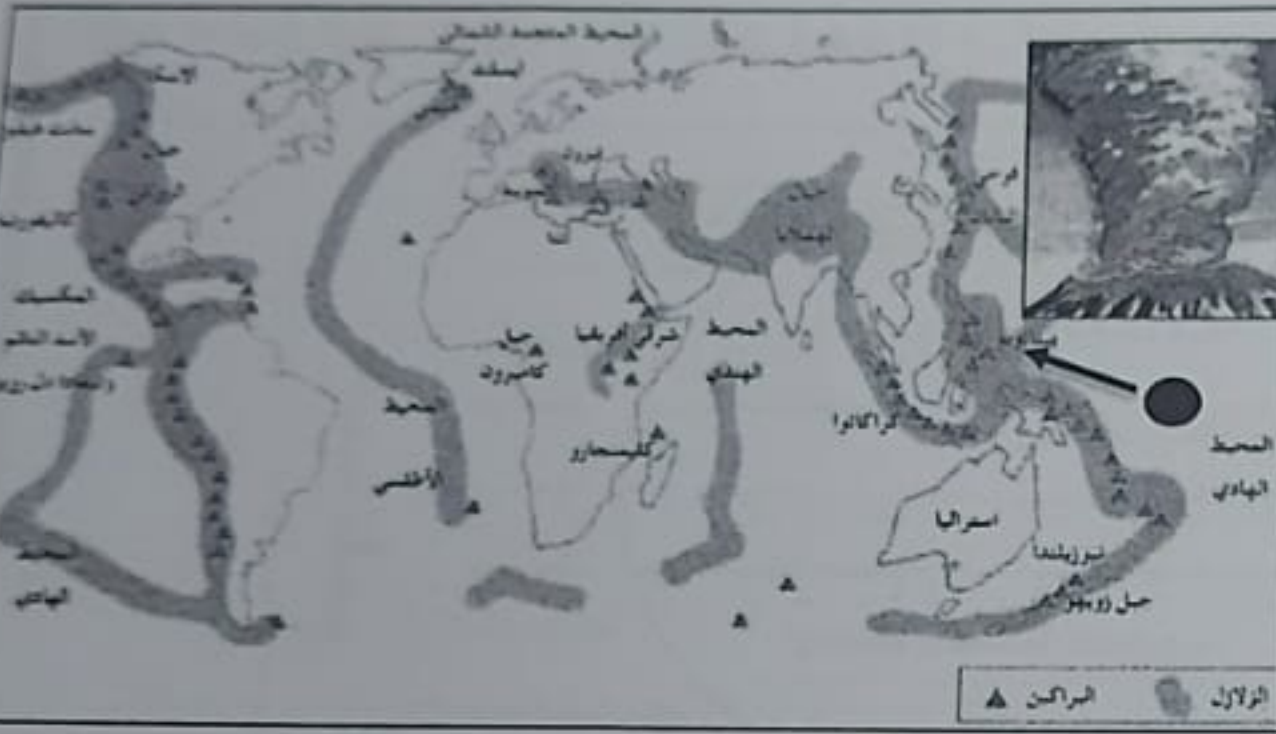
١- ماذا يقصد بالسد؟

٢- استنتج من النص السابق سبب اهتمام سلطنة عمان ببناء السدود.

ثانياً: أمامك خريطة توزيع الزلازل والبراكين في العالم ، ادرسها جيداً ثم اجب عن الأسئلة الآتية:

١- سمّ الدولة التي يقع فيها بركان (بيننا توبو) اِمْسار له بالرمز ● .

٢- فسّر: حدوث الزلازل في المناطق المظللة على الخريطة.



ثالثاً: ١- فرّق في الجدول التالي بين جهاز الأنيمومتر وجهاز الترمومتر من حيث استخدام كليهما.

الأجهزة	استخداماته
أ- الأنيمومتر
ب- الترمومتر

٢- أعطِ مثلاً واحداً لكلٍ من:

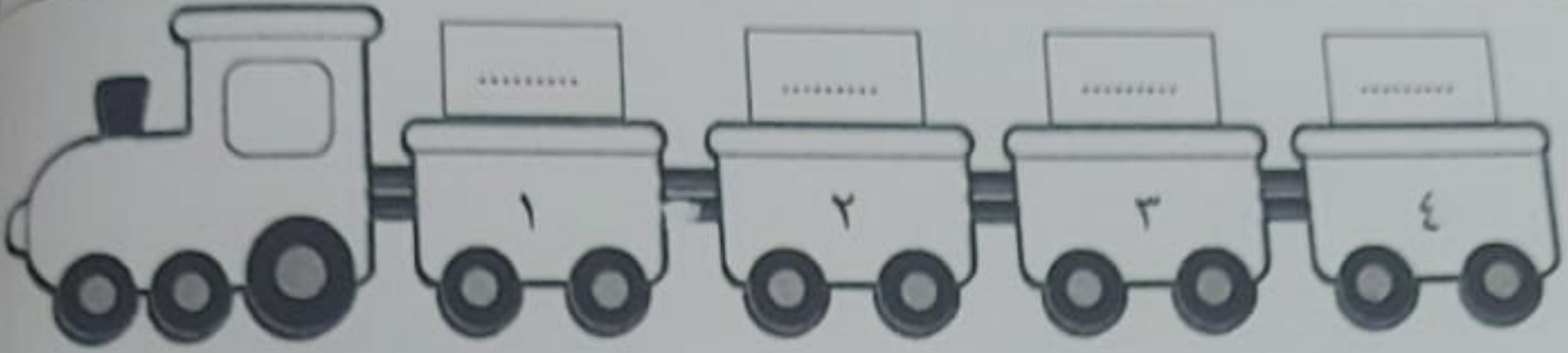
(أ) المعادن الثمينة التي تحتوي عليها الصخور البركانية.

(ب) التدابير الواجب اتخاذها لمواجهة الزلازل.

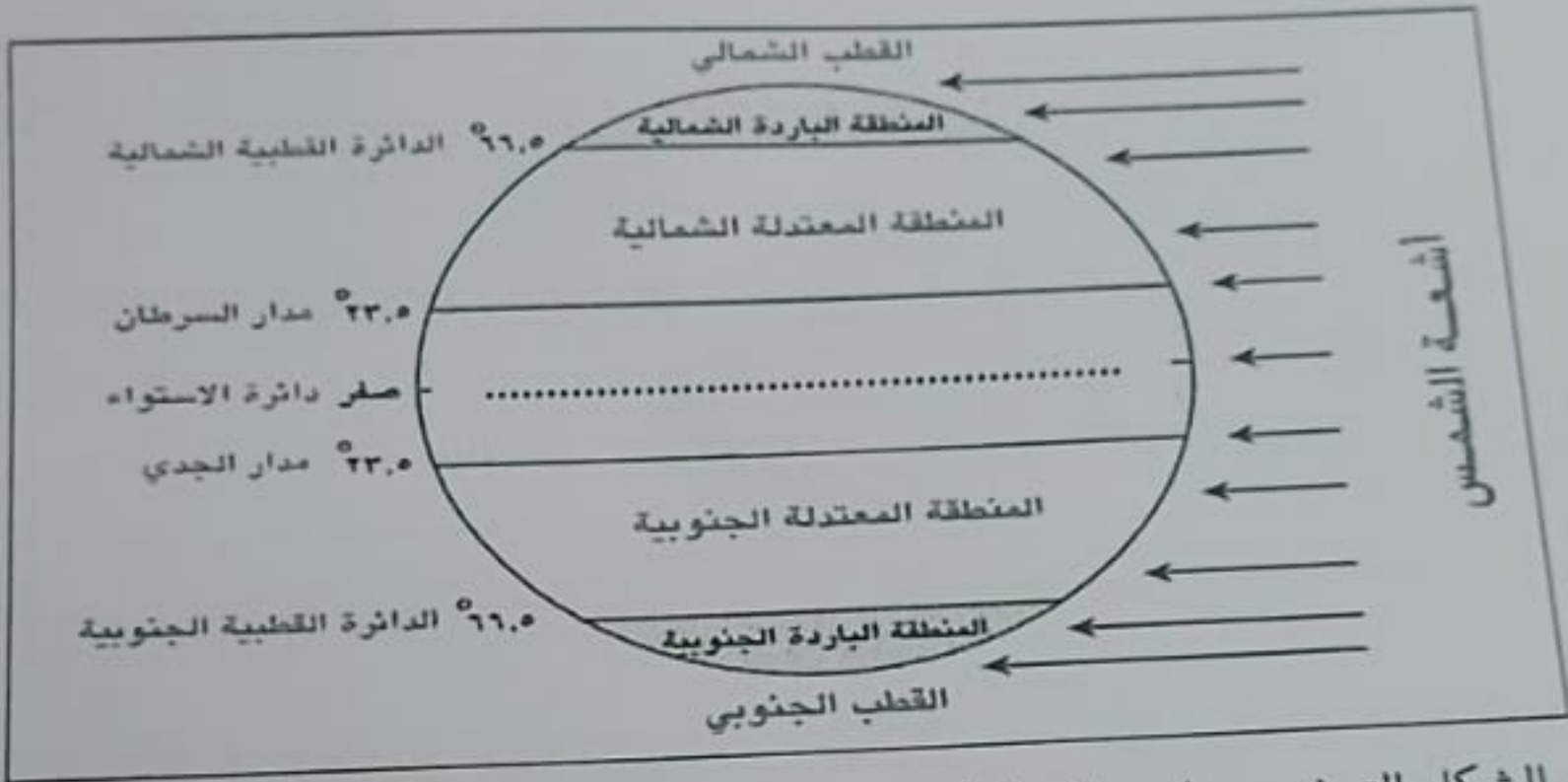
السؤال الرابع: اجب عن الأسئلة الآتية:

أولاً: رتب الاحداث التاريخية التالية من الأقدم إلى الأحدث (١-٢-٣-٤) بوضع رمز الإجابة في العربة المناسبة لها في قطار الزمن:

أ- محاولة شارلمان ملك الفرنجة غزو الأندلس.	ب- انقسام الأندلس إلى مجموعة من دول الطوائف.
ج- إعلان قيام الدولة الأموية في الأندلس.	د- فرار عبد الرحمن بن معاوية من دمشق.



ثانياً: أمامك شكل توضيحي للمناطق الحرارية في العالم، أدرسه جيداً ثم اجب عن الأسئلة التي تليه:



١- اكتب في الشكل التوضيحي اسم المنطقة الحرارية التي تقع بين مدار السرطان ومدار الجدي.

٢- نوع الأشعة التي تسقط على المناطق الباردة:

أشعة عمودية أشعة مائلة

(اختر الإجابة الصحيحة)

ثالثاً: أذكر نتيجة واحدة ترتبت على:

١- تأثر محافظة ظفار بهبوب الرياح الموسمية الصيفية.

٢- زيادة استهلاك المياه من الآبار في المدن الكبرى.

٦

السؤال الخامس: اجب عن الأسئلة الآتية:

أولاً: أمامك خريطتين للرياح الموسمية الصيفية والشتوية، ادرسهما جيداً ثم اجب عن الأسئلة التالية:



- ١- اكتب رمز الخريطة الذي يشير إلى هبوب الرياح الموسمية الصيفية.
- ٢- استنتج من الخريطتين سبب اختلاف اتجاه هبوب الرياح الموسمية بين فصلي الصيف والشتاء.

.....

ثانياً: اعط مثال واحد على:

- ١- الآثار التدميرية الناتجة عن حدوث الأعاصير.

.....

- ٢- مصادر تلوث المياه الناجمة عن الزراعة.

.....

ثالثاً: أمامك جدول يوضح بيانات بعض الدول المستقلة عن الدولة العباسية، ادرسه جيداً ثم اجب عن الأسئلة التي تليه:

اسم الدولة	عاصمتها	الفترة التي حكمت خلالها
الدولة الأموية في الأندلس	قرطبة	١٣٨-٤٢٢ هـ
الإمامة في عمان	١-.....	١٣٢-٢٨٠ هـ

- ١- استخرج من الجدول الدولة الأطول من حيث مدة الحكم؟

- ٢- اكتب في الجدول اسم عاصمة الإمامة في عمان المشار إليها بالرقم (١).

انتهت الأسئلة مع الدعاء للجميع بالتوفيق والنجاح.