

تم تحميل هذا الملف من موقع المناهج العمانية



امتحان تدريبي في محافظة جنوب الباطنة

موقع فايلاتي ← المناهج العمانية ← الصف السادس ← اجتماعيات ← الفصل الأول ← الامتحان النهائي ← الملف

تاريخ إضافة الملف على موقع المناهج: 12:31:06 2025-01-08

ملفات اكتب للمعلم اكتب للطالب | اختبارات الكترونية | اختبارات | حلول | عروض بوربوينت | أوراق عمل
منهج انجليزي | ملخصات وتقارير | مذكرات وبنوك | الامتحان النهائي للمدرس

المزيد من مادة
اجتماعيات:

التواصل الاجتماعي بحسب الصف السادس



صفحة المناهج
العمانية على
فيسبوك

الرياضيات

اللغة الانجليزية

اللغة العربية

التربية الاسلامية

المواد على تلغرام

المزيد من الملفات بحسب الصف السادس والمادة اجتماعيات في الفصل الأول

نموذج إجابة الامتحان التدريبي في محافظة جنوب الباطنة

1

نموذج إجابة الامتحان التدريبي في محافظة الظاهرة

2

امتحان تجريبي مع نموذج الإجابة في محافظة ظفار

3

حصار درس مشاريع اقتصادية عمانية واعدة

4

امتحان تدريبي في محافظة الظاهرة

5



المديرية العامة للتربية والتعليم بمحافظة جنوب الباطنة
دارة القياس والتقويم التربوي
قسم تقويم تعلم مواد العلوم الإنسانية والمهارات الفردية
امتحان تدريبي في مادة الدراسات الاجتماعية للصف السادس
الفصل الدراسي الأول
للعام الدراسي ١٤٤٧/١٤٤٦ هـ ٢٠٢٤ / ٢٠٢٥ م

▪ زمن الامتحان: ساعة ونصف.	▪ عدد صفحات أسئلة الامتحان: ٦ صفحات
▪ الإجابة في دفتر الأسئلة نفسه.	▪ الدرجة الكلية للامتحان: ٤٠ درجة
▪ تُكتب الإجابة بالقلم الأزرق أو الأسود.	

اسم الطالب: _____ الصف: _____

التوقيع بالاسم		الدرجة		السؤال
اسم المراجع	اسم المصحح	بالحروف	بالأرقام	
				أولاً: الأسئلة الموضوعية (١ - ١٢)
				ثانياً: الأسئلة المقالية ١٣
				١٤
				١٥
				١٦
مراجعة الجمع	جمعه			المجموع
				المجموع الكلي

أجب عن جميع الأسئلة الآتية

أولاً/ الأسئلة الموضوعية: ضع دائرة حول رمز الإجابة الصحيحة لكل مفردة من المفردات الآتية (١٢ درجة):

١. الخليفة الراشدي الذي يعود إليه الفضل في محاربة المرتدين عن الدين الإسلامي:

أ. أبو بكر الصديق ب. عمر بن الخطاب ج. علي بن أبي طالب د. عثمان بن عفان



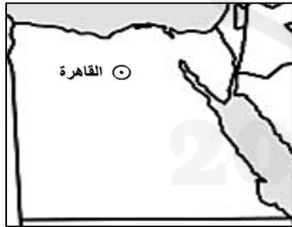
٢. الاسم الجغرافي الذي كُتب بطريقة خاطئة في الشكل الذي أمامك:

أ. محافظة ب. مدينة داخلية ج. سلسلة جبلية د. مدينة ساحلية

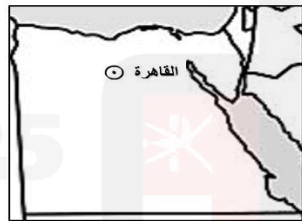
٣. المصطلح الذي يشير إلى القدرة على توفير احتياجات السكان من الغذاء محلياً بصورة مستمرة:

أ. الثروة الغذائية ب. الأمن الغذائي ج. الصناعات الغذائية د. الناتج المحلي

٤. الشكل الذي يمثل الطريقة الصحيحة لكتابة العاصمة المصرية على الخريطة:



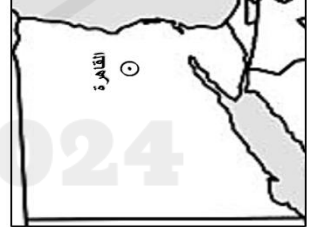
د



ج



ب



أ

٥. المجال الذي برزت فيه الشخصية العمانية (كعب بن سور) في عصر الخلفاء الراشدين:

أ. الاقتصادي ب. الثقافي ج. السياسي د. العسكري

٦. من المؤسسات الحكومية في سلطنة عمان، هدفها إعداد وتطوير القيادات الواعدة:



د



ج




ب



أ

تابع أولاً: الأسئلة الموضوعية:

٧. القائد العماني الذي قام بمواجهة الغساسنة المرتدين من قبيلة آل جفنة في الشام:
أ. عقبه بن النعمان ب. عبد بن الجلندي ج. كعب بن سور د. عرقة البارقي
٨. الكائن البحري الذي تم استزراعها ضمن مشاريع التنوع الاقتصادي الواعدة في محافظة ظفار هو:
أ. الروبيان ب. الصفيح ج. الكنعد د. السردين
٩. أي الرموز التالية مناسب لتمثيل الظاهرة في الصورة أمامك على الخريطة؟



١٠. من المشاريع المشتركة بين سلطنة عمان ودولة الكويت:
أ. محطة مسندم للطاقة
ب. مصفاة الدقم
ج. مجمع لوى لصناعة البوليمر
د. مدينة خزائن الصناعية
١١. الظاهرة التي يتم تمثيلها في الخريطة باستخدام الرموز المساحية:
أ. المناطق الرملية
ب. المجاري المائية
ج. الحدود السياسية
د. السكك الحديدية
١٢. النشاط الاقتصادي الذي يندرج ضمن الأنشطة الخدمية:
أ. الاستزراع السمكي
ب. الصناعات الدوائية
ج. التنقيب عن المعادن
د. التجارة الإلكترونية

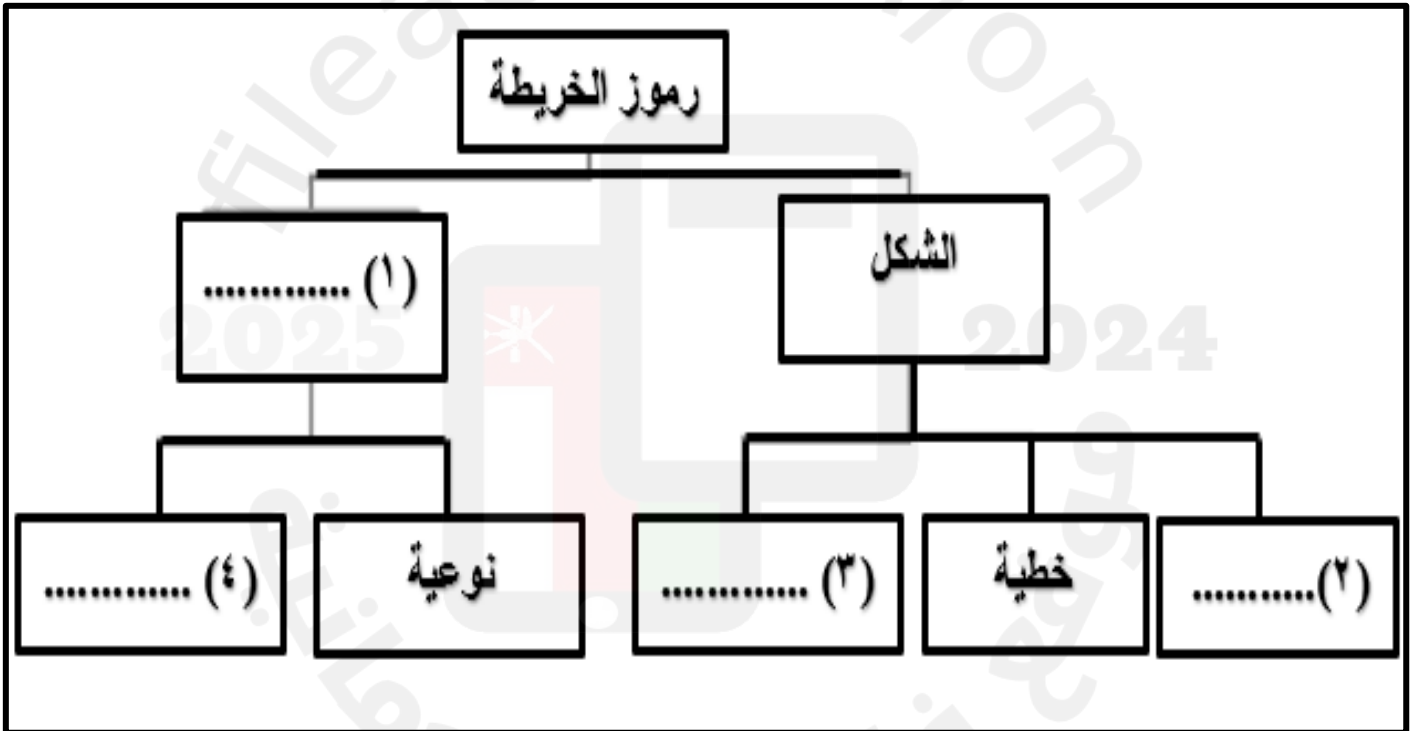
ثانياً: الأسئلة المقالية:

(١٣) (٧ درجات)

أ- اذكر هدفين لذهاب وفد عماني إلى المدينة المنورة بعد وفاة الرسول صلى الله عليه وسلم. (درجتان)

٢- لماذا اعتمدت دولة الخلافة الراشدة على العمانيين بالدرجة الأولى في فتوحاتها البحرية؟ (درجة)

ج- أكمل المخطط أمامك الذي يوضح تصنيف رموز الخريطة. (٤ درجات)



(١٤) (٧ درجات)

(أ) ما الأساس في اختيار حجم الخط عند كتابة الأسماء الجغرافية في الخريطة؟ (درجة)

(ب) اذكر فائدتين للأسماء الجغرافية في الخريطة. (درجتان)

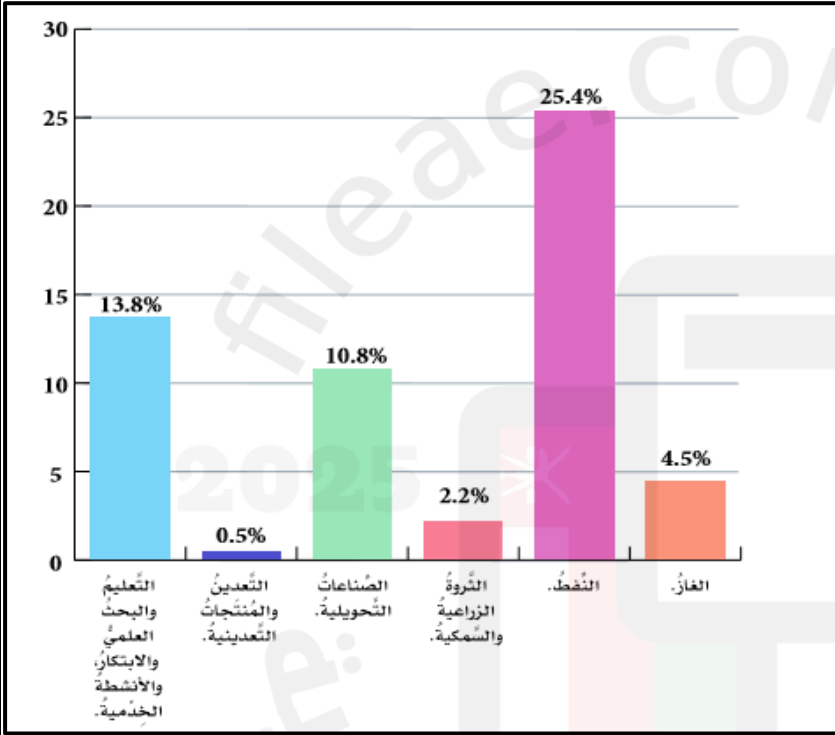
(ج) (٤ درجات)

ادرس الشكل أمامك الذي يتناول نسبة مساهمة بعض القطاعات النفطية وغير النفطية في الناتج المحلي الإجمالي لعام ٢٠٢٣ م ثم أجب عن الأسئلة التي تليه:

١. القطاع الذي يسهم بنسبة (١٠,٨ %) في الناتج المحلي الإجمالي.

٢. إجمالي مساهمة النفط والغاز في الناتج المحلي الإجمالي يساوي:

٣. ما هما القطاعان الأقل مساهمة في الناتج المحلي؟



(١٥) (٧ درجات)

(أ) اقرأ النص التالي واجب عن الأسئلة التي تليه:

(للنخلة دور كبير في حياة العمانيين، وقد أشار جلالة السلطان قابوس طيب الله ثراه إلى هذه الأهمية في كلمة ألقاها عام ٢٠٠٩م حيث قال جلالة السلطان: "بعد التمعن في شؤون الغذاء في بلادنا، وجدنا أن النخلة منذ القدم هي العمود الفقري للأمن الغذائي")

١- ما أهمية النخلة في الاقتصاد العماني كما وردت في كلمة جلالة السلطان قابوس طيب الله ثراه؟ (درجة)

٢- ما اسم المشروع الذي أمر جلالة السلطان قابوس بإنشائه لتحقيق الاكتفاء الذاتي في التمور؟ (درجة)

(ب) أكتب مقابل كل عبارة من العبارات الواردة في الجدول الآتي المفهوم الدال عليها: (درجتان)

المفهوم	العبارة
	مُسَمَّيات الأماكن والظواهر الجغرافية (الطبيعية والبشرية) التي تتضمنها الخريطة.
	مجموعة من السفن تستخدم لأغراض مدنية أو عسكرية.

(ج) أمامك قائمة بمقومات الاقتصاد العماني استخرج من بينها ثلاث مقومات بشرية وقم بوضعها في العمود الثاني من الجدول. (٣ درجات)

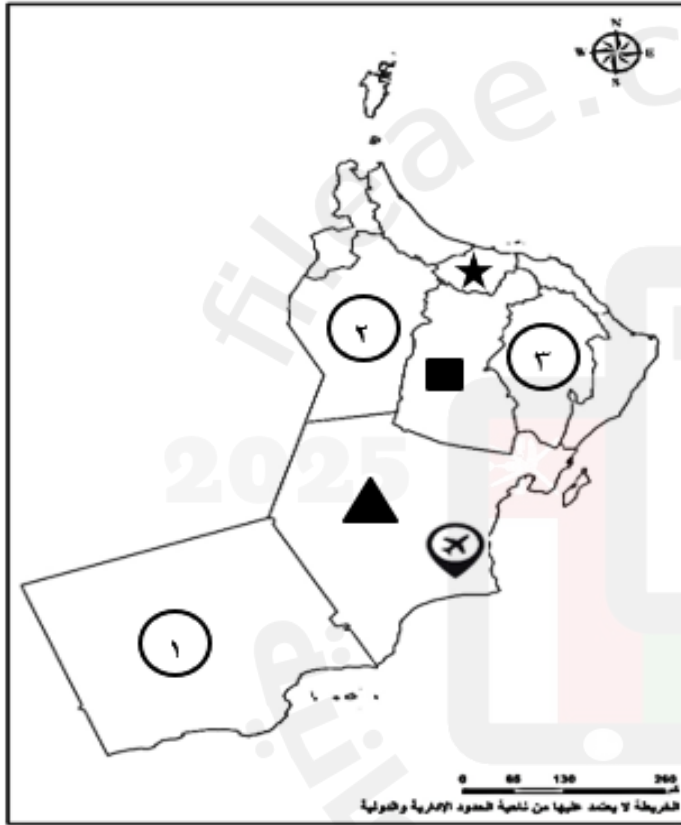
مقومات الاقتصاد العماني	المقومات البشرية للاقتصاد العماني
- الموقع الجغرافي	-
- البنية التحتية	-
- الأمن والاستقرار	-
- أشكال سطح الأرض	-
- القوانين والتشريعات	-

(16) (7 درجات)

(أ) قارن بين الخليفين عمر بن الخطاب وعلي بن أبي طالب حسب الجدول التالي: (٣ درجات)

وجه المقارنة	الخليفة عمر بن الخطاب	الخليفة علي بن أبي طالب
فترة الحكم	١٣-٢٣ هـ
طريقة الاختيار

(ب) ادرس خريطة سلطنة عمان التي أمامك جيدا ثم أجب عن الأسئلة التي تليها: (٤ درجات)



١- الرقم الذي يشير إلى المحافظة التي تقع فيها مزرعة النجد.

.....
.....

٢- وقع على الخريطة (بحر العرب) في مكانه الصحيح.
٣- الرمز الذي يشير إلى المحافظة التي يقع فيها مشروع مدينة خزائن الاقتصادية.

.....
.....

٤- علل: اهتمام سلطنة عمان بتنفيذ المشروع



الاقتصادي الواعد المشار إليه بالرمز

.....
.....
.....

انتهت الأسئلة مع الدعاء للجميع بالتوفيق والنجاح