

شكراً لتحميلك هذا الملف من موقع المناهج العمانية



اختبار قصير أول

موقع المناهج ← المناهج العمانية ← الصف السادس ← اجتماعيات ← الفصل الثاني ← الملف

التواصل الاجتماعي بحسب الصف السادس



روابط مواد الصف السادس على تلغرام

[الرياضيات](#)

[اللغة الانجليزية](#)

[اللغة العربية](#)

[التربية الاسلامية](#)

المزيد من الملفات بحسب الصف السادس والمادة اجتماعيات في الفصل الثاني

الاختبار النهائي الرسمي مسائي	1
الاختبار النهائي الرسمي في محافظة شمال الشرقية	2
اختبارات نهائية سابقة محلولة لدرس احترام العمل وتقدير العاملين	3
اختبارات نهائية سابقة محلولة لدرس إدارة الوقت واحترام المواعيد	4
اختبارات نهائية سابقة محلولة لدرس حقوق المواطن وواجباته	5

اسم الطالب: _____
الصف: _____ الرقم: _____

الاختبار القصير (١) في مادة الدراسات الاجتماعية للصف السادس الأساسي - الفصل الدراسي الثاني

السؤال الأول: أ- ضع دائرة حول رمز الإجابة الصحيحة من بين البدائل المعطاة فيما يلي :

(١)- النظام البيئي السائد في سلطنة عمان هو:

أ-التندرا

ب- الغابات

ج- السافانا

د- الصحراء

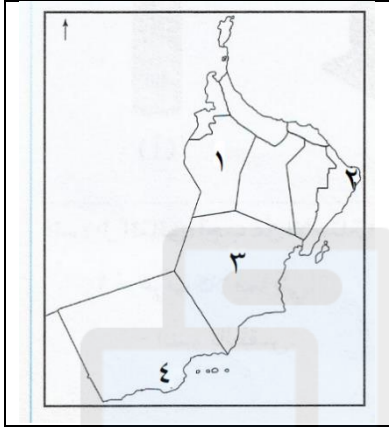
(٢)- الرقم الذي يشير إلى موقع محمية السلاحف في الخريطة أمامك::

أ- ١

ب- ٢

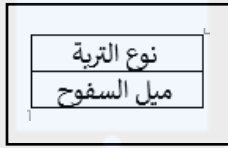
ج- ٣

د- ٤

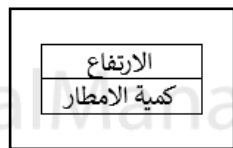


تم تحميل هذا الملف من
موقع المناهج العُمانية

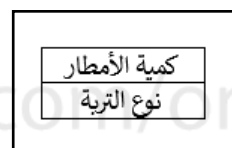
(٣)- السببان اللذان يحددان تأثير عامل التضاريس على النبات :



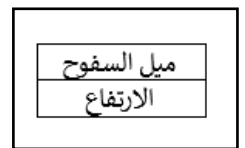
د



ج




ب



أ

(٤)- يشير السهم في الشكل أمامك إلى نوع من الغابات هي :



(أ)- الغابات النفضية

(ب)- الغابات المدارية

(ج)- الغابات الصنوبرية

(د)- غابة عريضة الأوراق

(٥)- أفضل درجة حرارة سيليزية مناسبة لنمو النباتات تتراوح بين :

(أ) - ١٥ و ٢٥

(ب) - ١٥ و ٣٥

(ج) - ١٠ و ٣٥

(د) - ٤٠ و ٥٠

السؤال الثاني: أجب عن الأسئلة التالية:

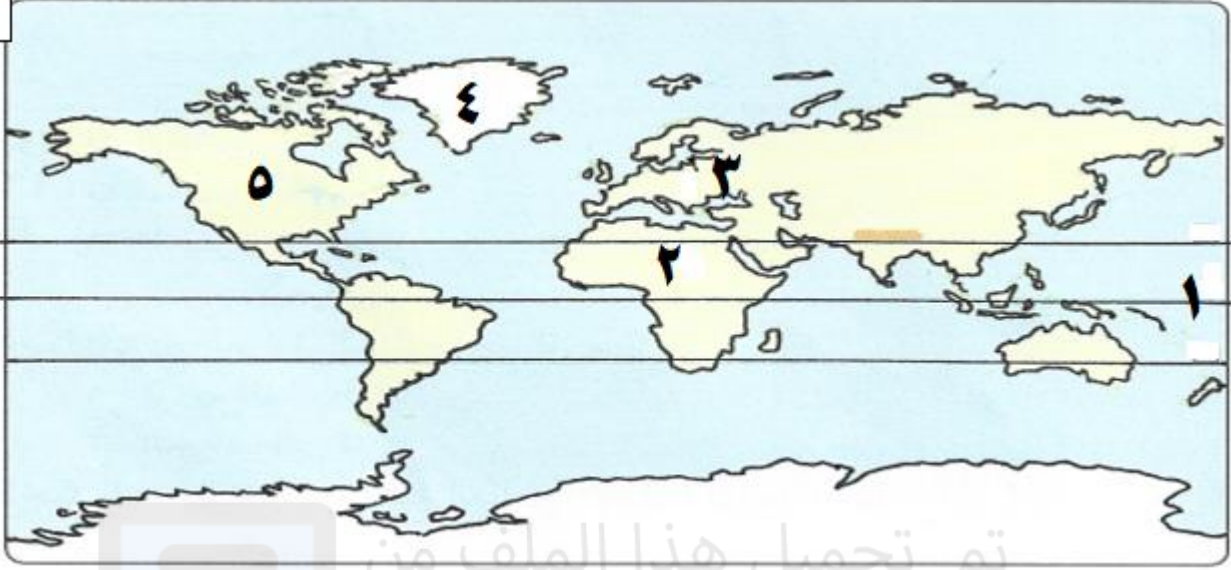
(أ) - صنف فوائد الغلاف الحيوي للإنسان حسب الجدول أمامك.

الأخشاب - الغذاء والجلود - الزراعة - تنمية الثروة الحيوانية

الحيوانات البرية	المراعي	التربة	الغابات الطبيعية

تابع السؤال الثاني: (ب)- ادرس خريطة العالم التالية ، ثم اجب عن الأسئلة التي تليها :

٤



١- ظلل على الخريطة القارة التي عقد فيها مؤتمر قمة الأرض العالمي.

٢- استنتج من الخريطة ما يلي:

(أ) اسم دائرة العرض الرئيسية المشار إليها بالرقم (١) ؟

(ب) القارة التي تضم مساحات من الغابات المدارية المطيرة والمشار إليها بالرقم (٢) ؟

٣- استخرج من الخريطة الرقم الذي يشير إلى القارة التي لا تظهر فيها الغابات المدارية المطيرة ()

٤- ضع علامة (/) أمام الإجابة الصحيحة فيما يلي:

- النظام البيئي الذي يظهر في المنطقة المشار إليها بالرقم (٤):

() الغابات الصنوبرية () التندرا () الصحراء

السؤال الثالث: (أ) - اعط مثلا واحدا لكل مما يأتي :

٤

١- فوائد الغابات المدارية المطيرة: _____

٢- خصائص التربة الخصبة: _____

(ب)- ادرس الصورة التي أمامك جيدا ثم اجب عن الأسئلة التي تليها:

١- ما المشكلة البيئية التي تواجه الحيوانات البرية في العالم؟

٢- اقترح حلا مناسباً لهذه المشكلة؟

