

شكراً لتحميلك هذا الملف من موقع المناهج العمانية



الاختبار النهائي الرسمي في محافظة شمال الباطنة

[موقع المناهج](#) ← [المناهج العمانية](#) ← [الصف السادس](#) ← [اجتماعيات](#) ← [الفصل الثاني](#) ← [الملف](#)

تاريخ نشر الملف على موقع المناهج: 06:06:07 2023-05-18

التواصل الاجتماعي بحسب الصف السادس



روابط مواد الصف السادس على تلغرام

[الرياضيات](#)

[اللغة الانجليزية](#)

[اللغة العربية](#)

[التربية الاسلامية](#)

المزيد من الملفات بحسب الصف السادس والمادة اجتماعيات في الفصل الثاني

الاختبار النهائي الرسمي مسائي	1
الاختبار النهائي الرسمي في محافظة شمال الشرقية	2
اختبارات نهائية سابقة محلولة لدرس احترام العمل وتقدير العاملين	3
اختبارات نهائية سابقة محلولة لدرس إدارة الوقت واحترام المواعيد	4
اختبارات نهائية سابقة محلولة لدرس حقوق المواطن وواجباته	5

المادة: الدراسات الاجتماعية الصف: السادس الدور الأول - الفصل الدراسي الثاني -
 العام الدراسي ٢٠٢٢/٢٠٢٣ م

تابع السؤال الأول: أجب عن جميع الأسئلة الآتية:

٥) الرقم الصحيح الذي يشير إلى الأعمال التي تحتاج إلى خبيرة وتأهيل دراسي متوسط:

الأعمال	م
الطائفة - المحفر	١
صناعة الأجهزة والسيارات	٢
صناعة الطائرات والمحركات	٣
السياحة - الحداثة	٤

٦) يبلغ عدد القارات التي تظهر فيها بيئة المسافنا:

- ٥ (د) ٤ (ج) ٣ (ب) ٢ (أ)

٧) المفهوم الدال على تطبيق القول مع الفعل والواقع:

- العمل (أ) الصق (ب) التكافل (ج) المساواة (د)

٨) الجدول الذي يبين الأمثلة الصحيحة لعوامل انجراف التربة:

عوامل	النتيجة
الرياح - الرياح	١
التيارات البحرية - زيادة هطول الأمطار	٢
التيارات البحرية - قلة التغير في تيارات - قلة هطول	٣

عوامل	النتيجة
الرياح - الرياح	١
التيارات البحرية - زيادة هطول الأمطار	٢
التيارات البحرية - قلة التغير في تيارات - قلة هطول	٣

(ب)

(أ)

عوامل	النتيجة
الرياح - الرياح	١
التيارات البحرية - زيادة هطول الأمطار	٢
التيارات البحرية - قلة التغير في تيارات - قلة هطول	٣

عوامل	النتيجة
الرياح - الرياح	١
التيارات البحرية - زيادة هطول الأمطار	٢
التيارات البحرية - قلة التغير في تيارات - قلة هطول	٣

(د)

(ج)

٩) الغاز الذي تطلقه النباتات أثناء عملية التمثيل الضوئي:
 (أ) ثاني أكسيد الكربون (ب) الأكسجين (ج) الهيدروجين (د) النيتروجين

- ١٠) العام الميلادي الذي خصص ليكون عامًا للتراث العالمي:
 ١٩٩١ (أ) ١٩٩٢ (ب) ١٩٩٣ (ج) ١٩٩٤ (د)

المادة: الدراسات الاجتماعية الصف: السادس الدور الأول - الفصل الدراسي الثاني -
 العام الدراسي ٢٠٢٢/٢٠٢٣ م

أجب عن جميع الأسئلة الآتية:

السؤال الأول: ضع دائرة حول رمز الاجابة الصحيحة لكل مفردة من المفردات الآتية:

- ١- الدولة التي عقد فيها المؤتمر العالمي "قمة الأرض" عام ١٩٩٢ م:
 (أ) البرازيل (ب) الأرجنتين (ج) فنزويلا (د) البيرو

- ٢- تدل الآية الكريمة "وانقض" (١) إن الأرض لن يفسد (٢) إلا اثنين دائماً وغيراً المصطفى وتراضوا يتحقق وتراضوا يفتن (٣) على أهمية:
 (أ) العمل (ب) الوقت (ج) الصق (د) الأمثلة

٣- البيئة التي ينتمي اليها الحيوان الواضع في الصورة المقابلة:



- (أ) الاستوائية (ب) الصحراوية (ج) التندرا (د) المسافنا

٤- الجدول الصحيح للمقارنة بين البيئة الاستوائية والصحراوية:

الصحراوية	الاستوائية	وهي
تقل هطول الأمطار	تقل هطول الأمطار	١
تقل كثافة الغطاء النباتي	تقل كثافة الغطاء النباتي	٢
تقل كثافة الغطاء النباتي	تقل كثافة الغطاء النباتي	٣

الصحراوية	الاستوائية	وهي
تقل هطول الأمطار	تقل هطول الأمطار	١
تقل كثافة الغطاء النباتي	تقل كثافة الغطاء النباتي	٢
تقل كثافة الغطاء النباتي	تقل كثافة الغطاء النباتي	٣

(ب)

(أ)

الصحراوية	الاستوائية	وهي
تقل هطول الأمطار	تقل هطول الأمطار	١
تقل كثافة الغطاء النباتي	تقل كثافة الغطاء النباتي	٢
تقل كثافة الغطاء النباتي	تقل كثافة الغطاء النباتي	٣

الصحراوية	الاستوائية	وهي
تقل هطول الأمطار	تقل هطول الأمطار	١
تقل كثافة الغطاء النباتي	تقل كثافة الغطاء النباتي	٢
تقل كثافة الغطاء النباتي	تقل كثافة الغطاء النباتي	٣

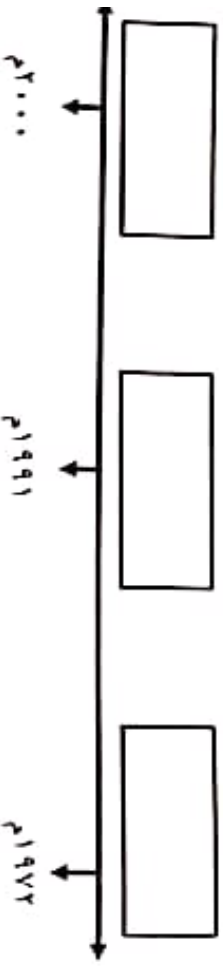
(د)

(ج)

المادة : الدراسات الاجتماعية الصف : السادس الدور الأول - الفصل الدراسي الثاني-
العام الدراسي ٢٠٢٢/٢٠٢٣ م

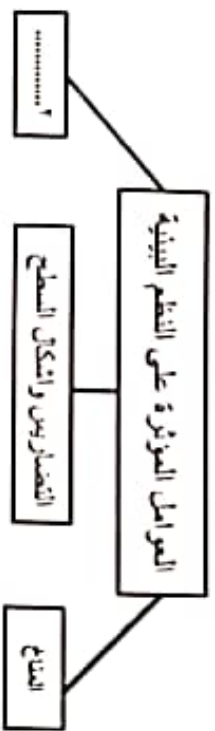
تابع السؤال الثاني: أجب عن جميع الأسئلة الآتية:

- (٢) انقل أرقام الأحداث التاريخية الآتية إلى المسطرة الزمنية في موقعها الصحيح:
- ١- صدور الاستراتيجية الوطنية وخطة عمل الترويج الأحيائي بسلطنة عمان.
 - ٢- منح جائزة السلطان قابوس للبيئة لمركز البحوث البيئية في العميك.
 - ٣- عقد أول مؤتمر عالمي للبيئة تحت رعاية الأمم المتحدة.



السؤال الثالث: أجب عن جميع الأسئلة الآتية:

أولاً) انظر إلى خريطة المفاهيم وأجب عن الأسئلة الآتية:



١- استخرج العامل الذي من خلاله تحدد كميات الأمطار وطول فترة الجفاف من السنة نوعية النباتات الطبيعية (.....).

٢- يشير الرقم (٢) في خريطة المفاهيم إلى (.....).

ثانياً) أ) علل الآتي:

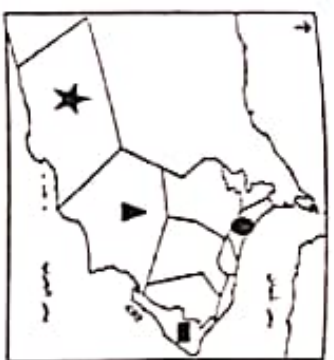
- ١- زيادة العمالة الوطنية الفعالة من سنة إلى أخرى في القطاعين العام والخاص.
- ٢- تعرض الكثير من المناطق الرعوية في العالم إلى الرعي الجائر.

المادة : الدراسات الاجتماعية الصف : السادس الدور الأول - الفصل الدراسي الثاني-
العام الدراسي ٢٠٢٢/٢٠٢٣ م

تابع السؤال الأول: أجب عن جميع الأسئلة الآتية:

(١١) الرمز الصحيح الذي يشير إلى المحافظة التي توجد بها محمية السلاحف:

- أ) (ب) (ج)
- د)



(١٢) يبلغ عدد المراكز والمعاهد الخاصة لتدريب القوى العاملة في السلطنة حتى نهاية عام ٢٠٠٠م:

- أ) ١٦٣ (ب) ١٦٤ (ج) ١٦٥ (د) ١٦٦

السؤال الثاني: أجب عن جميع الأسئلة الآتية:

أولاً) أ) عدد اثنين من:
١) المشاريع الرائدة التي وضعتها حكومة السلطنة لتحفيز الشباب على العمل في القطاع الخاص.

٢) أسباب تدوير الغابات المدارية المطيرة.



ب) الصورة التي أمامك تمثل أحد أساليب صيانة التربة، ادرسها جيداً، ثم أجب عن الأسئلة الآتية:

- ١- سم الأضروب الواضح في الصورة.
- ٢- أعط تعريفاً لهذا الأضروب.

ثانياً) أ) بم تفسر/ تقيم ميدالية جون فيليبس التذكارية إلى السلطان قابوس بن سعيد- طيب الله ثراه- عام ١٩٩٦م.

المادة : الدراسات الاجتماعية الصف : السادس الدور الأول - الفصل الدراسي الثاني -
العام الدراسي ٢٠٢٢/٢٠٢٣ م

تابع السؤال الرابع: أجب عن جميع الأسئلة الآتية:

ثانياً اقرأ الجدول الآتي بين تطور أعداد العمال المواطنين والوافدين في القطاع الخاص خلال السنوات من ١٩٩٧ - ٢٠٠٠م، ثم أجب عن الأسئلة التي تليه:

البيان	السنة	١٩٩٧م (ألف عامل)	١٩٩٨م (ألف عامل)	١٩٩٩م (ألف عامل)	٢٠٠٠م (ألف عامل)
العمالة الوطنية	٣٤	٤٦	٥٠	٥٣	
العمالة الوافدة	٤٩٤	٤٨٣	٤٧٥	٤٨١	

١- اعم الميلاوي الذي احتل المرتبة الثانية من حيث أعداد العمالة الوافدة في القطاع الخاص (.....).

٢- رتب أعداد العمالة الوطنية ترتيباً حسب السنوات من عام ١٩٩٧ - ٢٠٠٠م.

السؤال الخامس: أجب عن جميع الأسئلة الآتية:

أولاً) استبدل العبارات الآتية في الجدول بالمفهوم / المصطلح الدال عليها:

المفهوم/ المصطلح	العبارات
١	كل ما يستحقه المواطن من الدولة والمجتمع والأسرة ضمن نطاق الشرعية والقانون.
٢	الوقت المأمض لدى الفرد بعد إنجاز الأعمال الرئيسية والمهمة.
٣	حفظ حقوق الناس من أقوال، وأسرار، وودائع، وأموال.

بفتح

المادة : الدراسات الاجتماعية الصف : السادس الدور الأول - الفصل الدراسي الثاني -
العام الدراسي ٢٠٢٢/٢٠٢٣ م

تابع السؤال الثالث: أجب عن جميع الأسئلة الآتية:

ب) صنف في الجدول الآتي أقوال السلطان قابوس - طيب الله ثراه- إلى حقوق وواجبات وذلك بوضع إشارة (✓) على الجانب الذي تنتمي إليه:

الواجبات	الحقوق
١	أقوال السلطان قابوس (طيب الله ثراه)
٢	"على الأسمان أيضاً كان، أن يساهم في الحفاظ على البيئة"
٣	"على كل مواطن أن يكون حرساً أميناً على مكتسبات أوطان وسخر آتاه"
٤	"القائمهم هو المعلم حتى تحت ظل الشجر"
	"إنه ليمعتنا أن نرى المواطن القمعي يتمتعاً بأمر عارية الصحة الكريمة"

ثالثاً) اقرأ النص الآتي، ثم أجب عن الأسئلة التي تليه:

"إن البيئة لا تعرف الحدود السياسية للدول، وعلى دول العالم أن تتضافر جهودها للبدء الأخطار المحدقة بالبيئة على كوكب الأرض لضمان استمرار الحياة، وفي هذا الصدد تم عقد العديد من المؤتمرات التي تعنى بالبيئة بهدف حمايتها وصون مواردها الطبيعية".

١- استخلص القضية التي تتناولها النص السابق

٢- استنتج من النص سبباً واحد أدى اهتمام دول العالم بالقضية التي تحدث عنها النص

السؤال الرابع: أجب عن جميع الأسئلة الآتية:

أولاً) من خلال التفرقة السابقة،

أكمل الجدول الآتي:



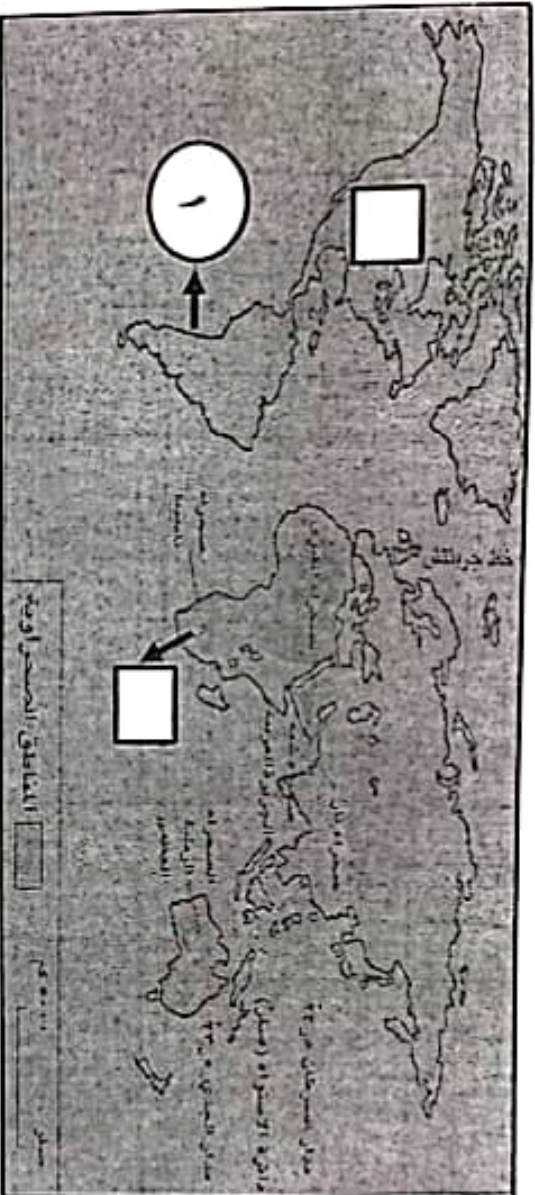
اسم المشكلة	نوع المشكلة	مقترح يقلل منها
.....
.....

بفتح

(٧)
المادة : الدراسات الاجتماعية الصف : السادس الدور الأول - الفصل الدراسي الثاني
العام الدراسي ٢٠٢٢ / ٢٠٢٣ م

تابع السؤال الخامس: أجب عن جميع الأسئلة الآتية:

ثانياً) أمامك خريطة الصحارى الحارة في العالم، ادرسها جيداً، ثم أجب عن الأسئلة التي تليها:



- ١- سم الصحراء المشار إليها بالرقم (١)
- ٢- ظل المربع الصحيح الدال على صحراء كلهاري.
- ٣- ما الجهة الرئيسية التي تقع فيها الصحراء الكبرى بالنسبة لقارة أفريقيا.....

(انتهت الأسئلة مع الاعاء للجميع بالتوفيق والنجاح)