

تم تحميل هذا الملف من موقع المناهج العمانية



الملف مذكرة مراجعة شاملة مع الحل لدرسي نشأه الجبال والدولة الأموية بالأندلس

[موقع المناهج](#) ← [المناهج العمانية](#) ← [الصف السادس](#) ← [اجتماعيات](#) ← [الفصل الأول](#)

روابط مواقع التواصل الاجتماعي بحسب الصف السادس



روابط مواد الصف السادس على تلغرام

[الرياضيات](#)

[اللغة الانجليزية](#)

[اللغة العربية](#)

[التربية الاسلامية](#)

المزيد من الملفات بحسب الصف السادس والمادة اجتماعيات في الفصل الأول

[امتحان وإجابة الأسئلة الرسمية للفصل الدراسي الأول الدور الأول 20162017](#)

1

[أسئلة الوحدة الاولى مع الحل](#)

2

[الدروس المحذوفة](#)

3

[تحميل كتاب الطالب](#)

4

[تحميل أنشطة لدروس الوحدة الاولى](#)

5

أولاً: درس نشأة الجبال :

القسم الأول:

- 1/ من أمثله الجبال شديده الأرتفاع بالعالم جبال الهملايا / جبال الألب / جبال الروكي / جبال الأنديز جبال الأطلس / المرتفعات الأثيوبية / السلسله الفاصله العظمى.
- 2/تكونت تلك الجبال نتيجة عمليات باطنيه كالالتواءات والصدوع .
- 3/ تقع جبال الهملايا بقاره آسيا
- 4/ تقع جبال الألب بقاره اوربا
- 5/ تقع جبال الأطلس بقاره افريقيا
- 6/ تقع تقه جبال المرتفعات الأثيوبية بقاره افريقيا
- 7/ تقع جبال الروكي بقاره أمريكا الشماليه
- 8/ تقع جبال الأنديز بقاره أمريكا الجنوبيه
- 9/ تقع جبال السلسله الفاصله العظمى بقاره استراليا .
- 10/ تظهر الجبال الشاهقه في العالم على حدود الصفائح الأرضيه.
- 11/ يطلق على الرواسب التي تتكدس أفقيا في قيعان البحار الكبيره بالصخور الرسوبيه .
- 12/ يطلق على الأجزاء المرتفعه من الطبقات الصخريه بعد الأنتناء بالطيه المحديه
- 13/ يطلق على الأجزاء المنخفضه من الطبقات الصخريه بعد الطي بالطيه المقعره
- 14/ يطلق على فعل الأنهار والأوديه والجليد الذي يغير معالم السطح في مناطق المحدثات والمقعرات بـالنحت .
- 15/ تقع جبال الروكي بالنسبه لقاره أمريكا الشماليه في الجهه الغربيه.



القسم الثاني:

- 1/ فسر كيف تكونت الجبال .
- نتيجة عمليات باطنيه كالالتواءات والصدوع .

إعداد / كوثر المسهلي

2/ ماذا يحدث عند تصادم صفيحتين أرضيتين .

تتعرض الطبقات الصخرية التي تقع بينهما إلى ضغط هائل يؤدي إلى إنشاء تلك الطبقات وتكون الطيات "جبال".

3/ أشرح كيف نشأت الجبال الألتوانية ؟

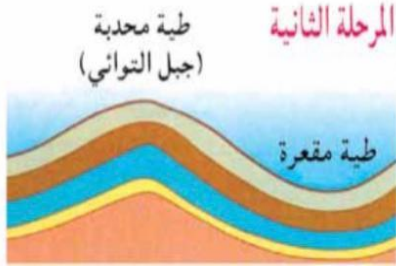
المرحلة الأولى

تتكسد الرواسب أفقياً في قيعان البحار الكبيرة ويطلق على هذه الطبقات اسم (الصخور الرسوبية)



المرحلة الثانية

تتعرض الطبقات الصخرية إلى الطي والانهيار فترتفع أجزاء منها يطلق عليها اسم الطيات المحدبة في حين تسمى الأجزاء المنخفضة بالطيات المقعرة .



المرحلة الثالثة

تتعدل الطيات المحدبة التي شكلت الجبال الألتوانية بفعل النحت المائي والجليدي فتتحول المحدبات إلى جبال وتكون المقعرا بطون الأنهار والأودية .

ملاحظه تتم هذه المراحل ببطء شديد وعبر ملايين السنين .

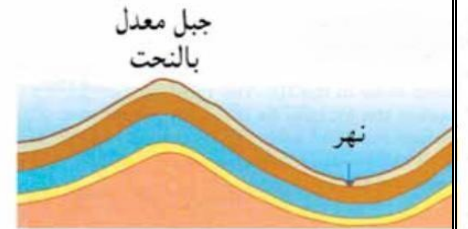
4/ رتب مراحل نشأة الجبال الألتوانية :



(2)



(1)



(3)

إعداد/ كوثر المسهلي

ثانياً: درس الدولة الأموية بالأندلس (138 - 422هـ)

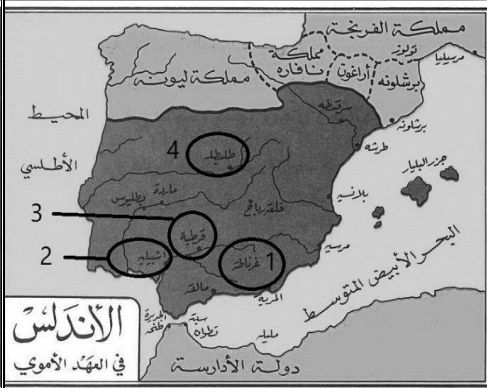
القسم الأول:

- 1/ تضم الدولة العربية الإسلامية في عهد الخلفاء الراشدين كلا من شبه الجزيرة العربية ، العراق ، مصر ، بلاد الشام ، بلاد فارس
- 2/ زاد اتساع الدولة العربية الإسلامية في العهد الأموي فأصبحت تضم الى جانب مناطق الخلفاء الراشدين كلا من شمالي أفريقيا ، الأندلس ، بلاد ماوراء نهر جيحون .
- 3/ اختبأ عبدالرحمن بن معاوية عند أخواله في مدينة تاهرت
- 4/ دخل عبد الرحمن بن معاوية الأندلس فالتف حوله أنصاره .
- 5/ تمكن عبدالرحمن بن معاوية دخول قرطبة ظافراً أواخر سنة 138 هـ .
- 6/ كانت الأندلس من أوائل البلدان التي أستقلت عن الدولة العباسية
- 7/ الأمير الأموي الذي أعلن نفسه خليفه وتلقب بأمرير المؤمنين الناصر لدين الله عبدالرحمن الثالث .
- 8/ صاحب أول محاولة طيران بالتاريخ عباس بن فرناس .
- 9/ أخرج الخلفاء الأمويين هشام الثالث توفي سنة 422هـ
- 10/ كان يحكم غرناطة اسرة **بنو الأحمر** واستمر حكمهم قرابه قرنين ونصف القرن .
- 11/ اخر إماره سقطت بيد الأسيبان غرناطه
- 12/ سقطت الأندلس بيد الأسيبان بمساعده فرنسا سنة 897هـ .
- 13/ يحتوي القرن الواحد على 100 سنة . " مائه سنة "
- 14/ انقسمت الأندلس إلى مجموعه من الإمارات والدويلات وعلى كل إماره أمير عرفت هذه الدول بدول الطوائف .
- 15/ تمثل دوله أقامها بنو الأحمر واستمرت قرابه قرنين ونصف القرن **غرناطه والمشار لها بالرقم (1)**

القسم الثاني:

علل /ضعف الدول العباسية في السيطرة على كل المناطق .

بسبب امتداد حدود الدولة من الصين شرقاً إلى المحيط الأطلسي غرباً لذا كان من الصعب على الدولة أثناء ضعفها بسط سيطرتها الفعلية على كل تلك المناطق .



إعداد/كوثر المسهلي

غرباً "المحيط الأطلسي"

شرقاً "الصين"

علل/ فرار عبدالرحمن من بلاد الشام وتوجهه لشمال أفريقيا .

ليختبأ عند خواله وليكون قريبا من الأندلس ليمهد لدخولها .

علل/ اختيار عبدالرحمن بن معاوية الأندلس لإقامه دوله الأمويين فيها .

وذلك لأنه يوجد بها أنصار الأمويين .

علل/ تسميه عبدالرحمن بن معاوية بـ"الداخل" .

لأنه زحف قرطبه ودخلها ظافرا "منتصرا" واستعاد دولة الأمويين .

علل/ تسميه الأندلس بهذا الاسم .

لأنها تشتق من كلمه اندولسيا وعربها العرب بعد ذلك إلى الأندلس .

علل/ محاوله شارلمان غزو الأندلس .

لانه يطمع في طرد المسلمين منها وضمها إلى دولته .

علل/ اهتمام عبدالرحمن الناصر " الثالث " بتقويه الأسطول الأندلسي .

لحمائه الموائى الأندلسيه .

علل/مجيئ السفراء والوفود من أوربا إلى قرطبه في عهد عبدالرحمن الناصر .

وذلك لتوطيد العلاقات معها نظرا لقوتها وصلابتها .

دلل/ ازدهرت الحركة العلميه بالأندلس .

كثرت دور العلم والمكتبات وانتشرت المدارس / تردد الأوروبيون على حلقات العلم بالأندلس .

علل / سبب وجود دول الطوائف بالأندلس مده طويله من الزمن .

بفضل المساعدة التي قدمها المرابطون ثم الموحدون الذين قدموا من المغرب ودخلو الأندلس .

علل/ كانت دوله غرناطه أخر دوله سقطت بيد الاسبان .

لانها كانت تعتمد على مساعده ملوك بني مرين في المغرب لها .

القسم الثالث:

حدود الدوله العربيه الإسلاميه :

العهد	المناطق
الخلفاء الراشدين	شبه الجزيرة العربيه ، العراق ، مصر ، بلاد الشام ، بلاد فارس
الخلافه الأمويه	بالإضافه الى المناطق السابقه المناطق التاليه : شمالى أفريقيا ، الأندلس ، بلاد ماوراء نهر جيحون .
الخلافه العباسيه	حافظوا في البدايه على وحده الدوله الإسلاميه ولكنها بعد ذلك عانت من الضعف ففقدت بعض مناطقها .

إعداد/ كوثر المسهلي

اكمل الجدول التالي لنماذج من الدول الإسلامية المستقلة عن الدولة العباسية :

اسم الدولة	مركز عاصمتها	الفترة التي حكمت فيها	مدته حكمها بالسنوات	ترتيبها حسب مدة الحكم
الدولة الأموية بالأندلس	قرطبة	422-138 هـ	284	1
الإمامه في عمان	نزوى	280-132 هـ	148	4
الدولة الرستمية في المغرب الأوسط	تاهرت	296-160 هـ	136	5
دولة الأدارسه في المغرب الأقصى	فاس	375-172 هـ	203	3
دولة الأغالبه في المغرب الأدنى	القيروان	296-184 هـ	112	6
الدولة الفاطمية في مصر	القاهره	567-297 هـ	270	2

اكتب أسماء الدول الواردة بالجدول وفق القرن التي قامت فيه :

القرن الثالث الهجري	القرن الثاني الهجري
الفاطميه	الأمويه بالأندلس
	الإمامه بعمان
	الرستمية
	الأدارسه
	الأغالبه

ملاحظه للإستفاده : لحل هذا السؤال يحتاج معرفه القرن "القرن يحتوي على منه سنه)

مثلا سنه 422 هـ تندرج بالقرن الخامس وذلك بأخذ آخر رقم "4" وجمعه مع الرقم "1" فيصير الناتج خمسة أي القرن الخامس وهكذا .

مثال آخر : سنه 897 هـ بالقرن التاسع (9=1+8)

مثال آخر : سنه 2021 م بالقرن الواحد والعشرون تم أخذ آخر رقمين (21=1+20) لان السنوات هنا صارت بالآلاف لذا يتم أخذ آخر رقمين.

اكمل الجدول التالي :

اسم العالم	من مؤلفاته	موضوعه العلمي
ابن رشد	تهافت التهافت	الفلسفه
ابن عبدالبر	جامع بيان العلم وفضله	مفسر تربوي
ابن عدي ربه	العقد الفريد	الأدب العربي
أبو القاسم الزهراوي	التصريف لمن عجز عن التأليف	الطب

إعداد/كوثر المسهلي

جدول لدوله المرابطون والموحدون :

موقعه الزلاقه	موقعه الأرك	
المرابطون "بالمغرب العربي"	الموحدون "بالمغرب العربي"	الدوله
479هـ	591هـ	السنة
يوسف بن تاشفين	أبو يوسف يعقوب بن عبد المؤمن	القائد المسلم
الأسبان	الأسبان	العدو
أدى ذلك إلى الحفاظ على الوجود العربي الإسلامي بالأندلس ثلاثمائة سنة		النتيجه

القسم الرابع:

البطاقه التعريفيه :

عبدالرحمن بن معاويه بن هشام بن عبدالملك بن مروان	الاسم
1/ الداخل لأنه زحف قرطبه ودخلها طافرا "منتصرا" واستعاد دولة الأمويين.	ألقابه
2/ صقر قریش لأنه عبر البحر وقطع القفر ووصل بلدا أعجميا منفردا بنفسه وأقام ملكا عظيما فيها بحسن تدبيره .	قصته بإختصار
أمير أموي استطاع الهروب من ملاحقه الجيوش العباسيه لأفراد البيت الأموي فتوجه لشمالى أفريقيا وأختبأ عند خواله البربر بمدينة تاهرت ثم اتجه لمدينه سبتة ليكون قريبا من الأندلس ثم استطاع بعدها دخول قرطبه بالأندلس منتصرا عام 138هـ فألتف حوله الأنصار بالتالى استطاع إعاده امجاد الأمويين بالأندلس من جديد بعد أن انهارت بالمشرق "دمشق" فأسس دوله أمويه وراثيه بالأندلس استمرت حوالي 3 قرون.	



د/ من الخليفه العباسي الذي حاول إعاده الأندلس إلى سياده الدوله العباسيه ، وهل نجح في تلك المحاوله ؟

أبو جعفر المنصور "ثاني الخلفاء العباسيين / لم ينجح .

ذ/ عين على الخريطه موقع كلا من : قرطبه ، القيروان ، دمشق ، تاهرت ، سبتة ، مضيق جبل طارق ، الأندلس .

إعداد / كوثر المسهلي



1



مضيق جبل طارق

2



سنته

3

إعداد/ كوثر المسهلي

تم إدراج مجموعه من
الخرائط موزع عليها
المناطق

4



هـ / تتبع على الخريطة خط سير عبدالرحمن بن معاوية من بداية رحلته إلى نهايتها .



إعداد: كوثر المسهلي

القسم الخامس:



- 1/ ما أهم أعمال عبدالرحمن بن معاوية ؟
- 1/ وطد الأمن بالأندلس.
- 2/ أفضل محاوله شالمان في غزو الأندلس.
- 3/ اهتم بالعاصمه قرطبه وزينها .
- 4/ بنى جامع قرطبه .



- 2/ ما اهم أعمال عبدالرحمن الثالث ؟

- 1/ تقوية الأسطول .
- 2/ بنى مدينة الزهراء غربي قرطبه.
- 3/ ارتفعت في عهده مكانة الأندلس بالخارج.
- 4/ مجئ السفراء والوفود من أوروبا لقرطبه لتحظى بود الخليفة .



- 3/ ماذا صار للأندلس بعد وفاة هشام الثالث 422هـ؟

انقسام الأندلس إلى مجموعه من الإمارات والدويلات حيث استقل كل أمير بولايته عرفت باسم "دول الطوائف".



- 4/ ترمز الصورة لشخصيه عباس بن فرناس.
- وكان صاحب أول محاولة طيران بالتاريخ.

إعداد/ كوثر المسهلي



شكل (١١) توزيع السلاسل الجبلية الكبرى في العالم

المسطره الزمنيه للأحداث:

