

تم تحميل هذا الملف من موقع المناهج العمانية



## ملخص شرح درس رموز الخريطة

[موقع المناهج](#) ⇨ [المناهج العمانية](#) ⇨ [الصف السادس](#) ⇨ [اجتماعيات](#) ⇨ [الفصل الأول](#) ⇨ [الملف](#)

تاريخ إضافة الملف على موقع المناهج: 05:56:28 2024-09-05

إعداد: خيرية بنت صالح العبرية

## التواصل الاجتماعي بحسب الصف السادس



اضغط هنا للحصول على جميع روابط "الصف السادس"

## روابط مواد الصف السادس على تلغرام

[الرياضيات](#)

[اللغة الانجليزية](#)

[اللغة العربية](#)

[التربية الاسلامية](#)

## المزيد من الملفات بحسب الصف السادس والمادة اجتماعيات في الفصل الأول

[كتاب المادة منهج جديد 2024](#)

1

[نموذج إجابة الامتحان النهائي الدور الأول الفترة الصباحية  
لمحافظة جنوب الباطنة](#)

2

[اختبار نهائي رسمي في محافظة ظفار](#)

3

[الامتحان النهائي الدور الأول الفترة الصباحية لمحافظة شمال  
الباطنة](#)

4

## المزيد من الملفات بحسب الصف السادس والمادة اجتماعيات في الفصل الأول

[الامتحان النهائي الدور الأول الفترة الصباحية لمحافظة جنوب  
الباطنة](#)

5

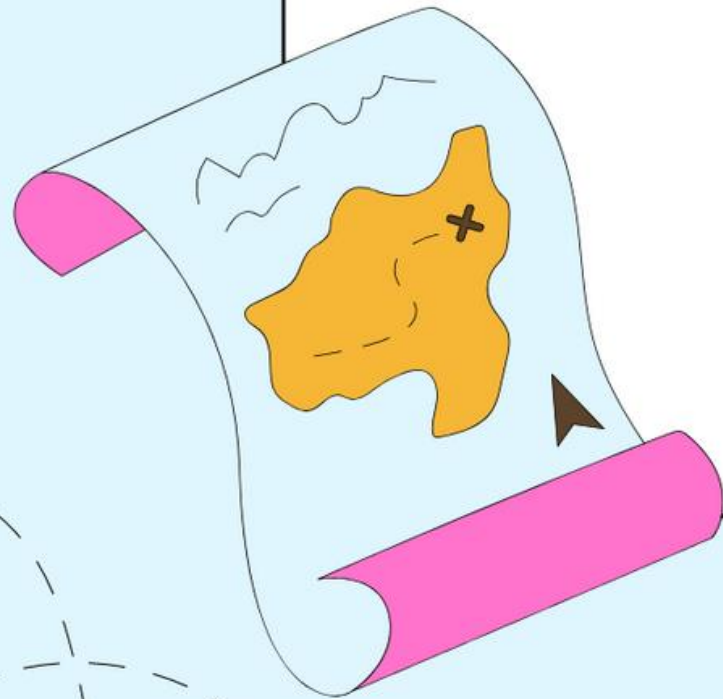
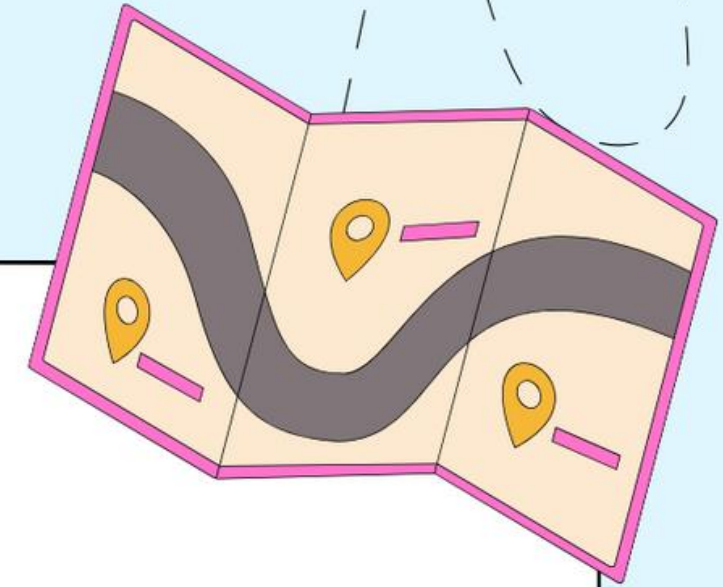
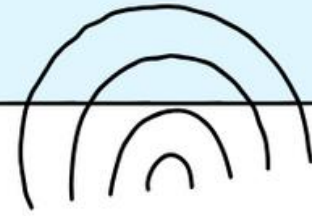
# رموز الخريطة

2025

2024

إعداد المعلمة / خيرية بنت صالح العبرية  
مدرسة فاطمة بنت الخطاب للتعليم الأساسي (5-9)

الله



# أهداف الدرس

- يعرف مفهوم رموز الخريطة.
- يتعرف أنواع الرموز (النقطية ، الخطية ، المساحية) وأهميتها.
- يميز بين الرموز النوعية والرموز الكمية .
- يمثل بعض الظواهر الجغرافية على خريطة سلطنة عمان باستخدام رموز مناسبة.
- يدرك أهمية رموز الخريطة في قراءة الخريطة.



ما الظواهر الجغرافية  
الواضحة في الشكل ؟ وكيف  
يتم تمثيلها في الخريطة؟

جبال - بحر - ملاهي - منتزه -  
طرق - سهل - محمية سلاحف



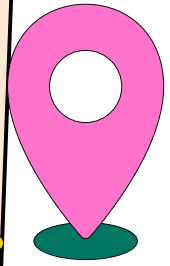
يتم تمثيلها باستخدام الرموز



# مفهوم رموز الخريطة

مجموعة من الأشكال  
والخطوط والألوان تُرسم  
على الخريطة لتمثيل  
الظواهر الجغرافية  
الموجودة على سطح  
الأرض.

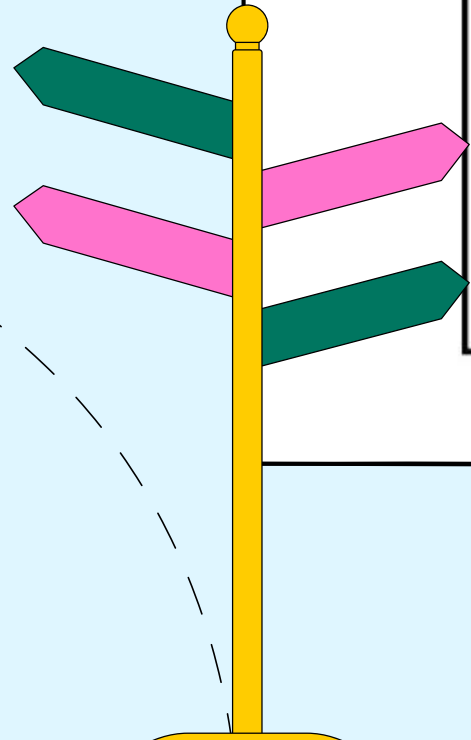
تتضمن الخرائط مجموعة من الرموز  
التي تظهر بأشكال ورسوم تصويرية  
مختلفة تعبر عن الظواهر الجغرافية  
(الطبيعية والبشرية) وتوضع دلالات  
الرموز وألوانها غالبا في مفتاح الخريطة



# نموذج من مفتاح الخريطة

llll

	عاصمة		مطار
	كتبان رملية		طريق مرصوف
	سبخة		طريق ممهد
	انتشار الوادي		الحدود الدولية
			ولاية
			نيابة
			ميناء



























## ابحث



ابحث ومجموعتك في مصادر التعلم المختلفة عن أمثلة لبعض الظواهر الطبيعية والبشرية التي يتم تمثيلها في الخريطة باستخدام الرموز، ثم اعرضوا ما توصلتم إليه أمام زملائكم في الصف.

### بعض الرموز المستخدمة في الخرائط الجغرافية

	حقل نفط		نهر		الحدود السياسية الدولية
	مطار		وادي		الحدود غير المعينة
	ميناء		بئر ماء		الطرق المعبدة
	سكان		بحيرة		الطرق غير المعبدة
	فواكه		مستنقع		السكك الحديدية
	إبل		صحراء رملية		الطرق البحرية
	أغنام		واحة		مدن متفاوتة الأحجام
	أسماك		قمة جبل		عواصم متفاوتة الأحجام

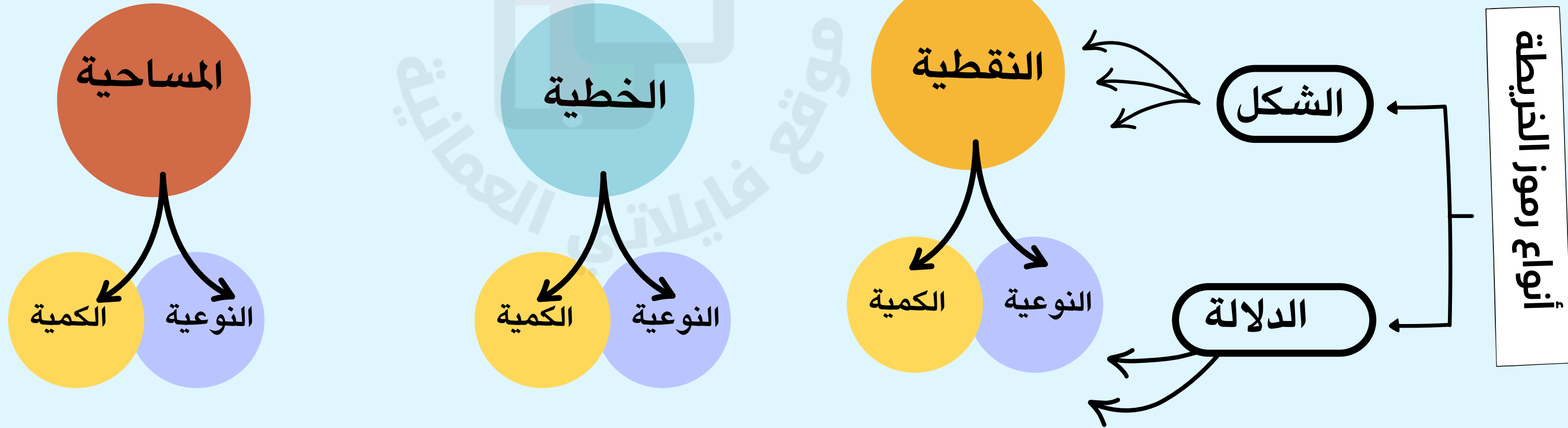






# أنواع رموز الخريطة

تتنوع الرموز المستخدمة في الخرائط إذ يعتمد اختيار الرمز المناسب على الظاهرة الجغرافية التي يعبر عنها واصنف الرمز و بطريق مختلفة أهمها:






# أنواع رموز الخريطة من حيث الشكل

## الرموز النقطية

تستخدم لتمثيل الظواهر الجغرافية التي تدلُّ على معالم وأماكن محددة



ولاية	عاصمة	مطار	ميناء

## الرموز الخطية

تستخدم لتمثيل الظواهر الجغرافية التي تتميز بخاصية الحركة والاستمرار.

الحدود الدوليَّة	الحدود الإداريَّة	طريق	وادي

## الرموز المساحية

تستخدم لتمثيل الظواهر الجغرافية التي تشغل مساحة واسعة.

كثبان رملية	بحار ومحيطات	سبخة	منطقة مزروعة



## نافذة المعرفة

تختلف بعض أشكال الرموز المُستخدمة في الخرائط من دولة إلى أخرى، وذلك حسب المواصفات المتبعة لدى الجهة المسؤولة عن رسم الخرائط في تلك الدول.

fileae.com/lom


موقع فايلاتي العماني



استنتج

بالاستعانة بالأطلس المدرسي وخريطة سلطنة عُمان الواردة في نهاية الكتاب، أكمل بيانات الجدول الآتي:

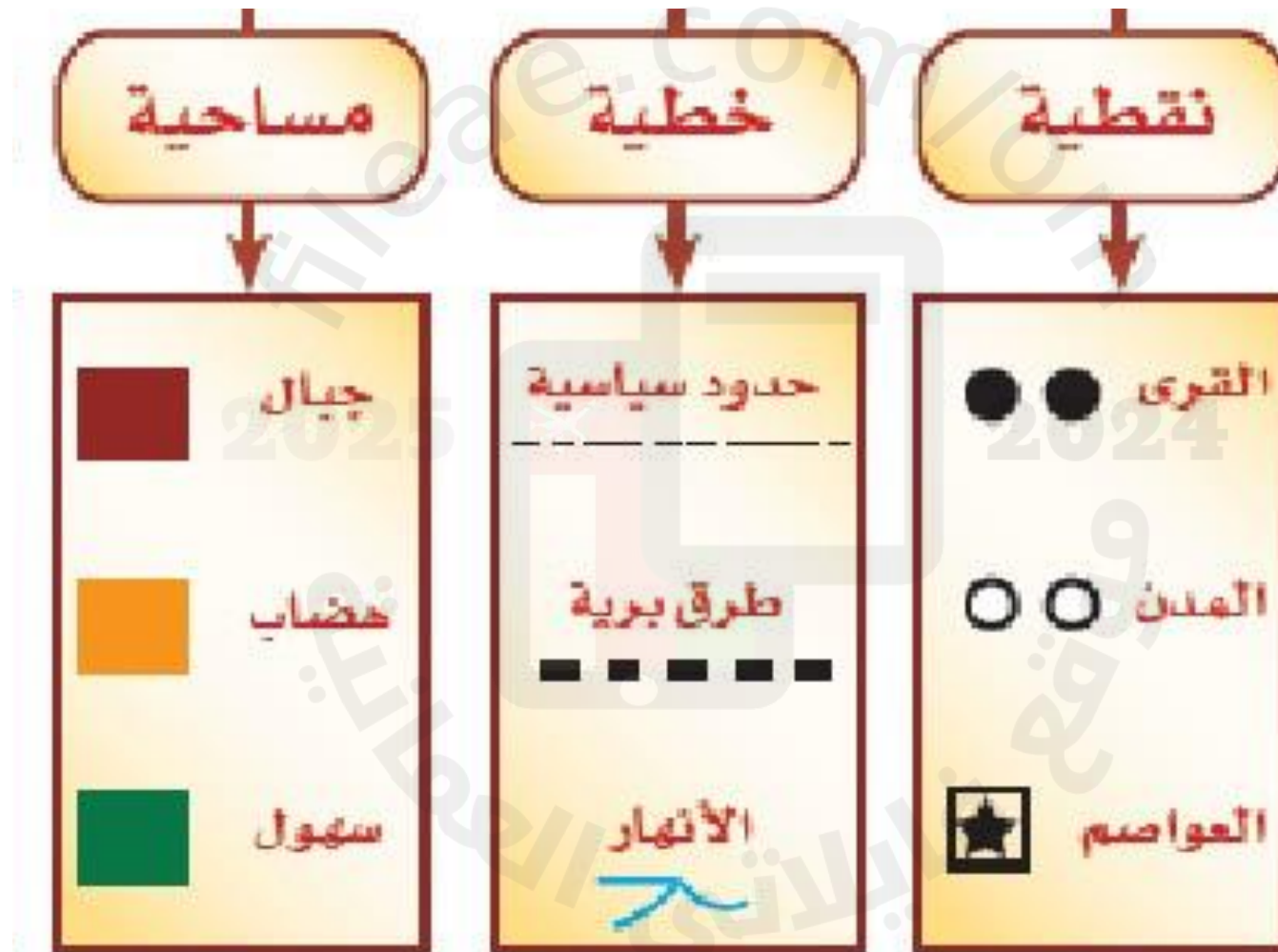
شكل الرمز في الخريطة	نوع الرمز المناسب	اسم الظاهرة	صورة الظاهرة
	نقطي	بئر نفطي	
	نقطي	قلعة	
	خطي	طريق	
	مساحي	كتبان رملية	



## ابحث

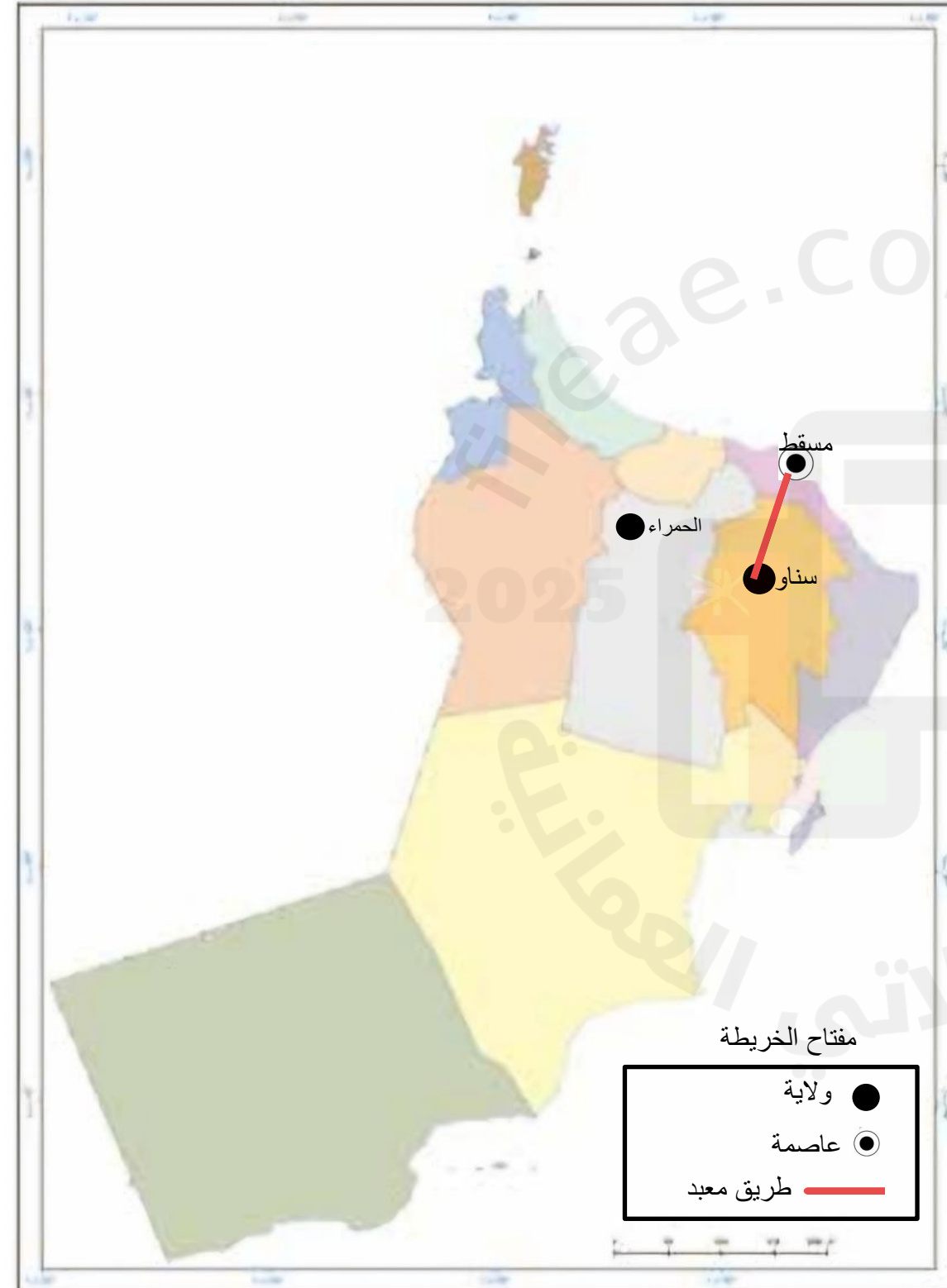


بالاستعانة بمصادر التّعلّم المختلفة، ابحث عن رموز (نقطيّة، خطيّة، مساحيّة) لظواهر جغرافيّة أخرى، ثمّ اعرض ما توصلت إليه أمام زملائك في الصفّ.





بالاستعانة بخريطة سلطنة عُمان الواردة في نهاية الكتاب المدرسي:



مَثَّلْ على الخريطةِ المقابلةِ  
الظواهرَ الجغرافيَّةَ  
(العاصمةَ، ولايتَكَ، طريقًا  
بينَ مسقطَ وسنَّاءِ)  
مستخدماً الرَّمزَ المناسبَ.

صمِّم مفتاحًا للخريطةِ  
يتضمَّنُ رموزَ الظواهرِ  
الجغرافيَّةِ التي وقَّعتَها  
ودلالاتها.



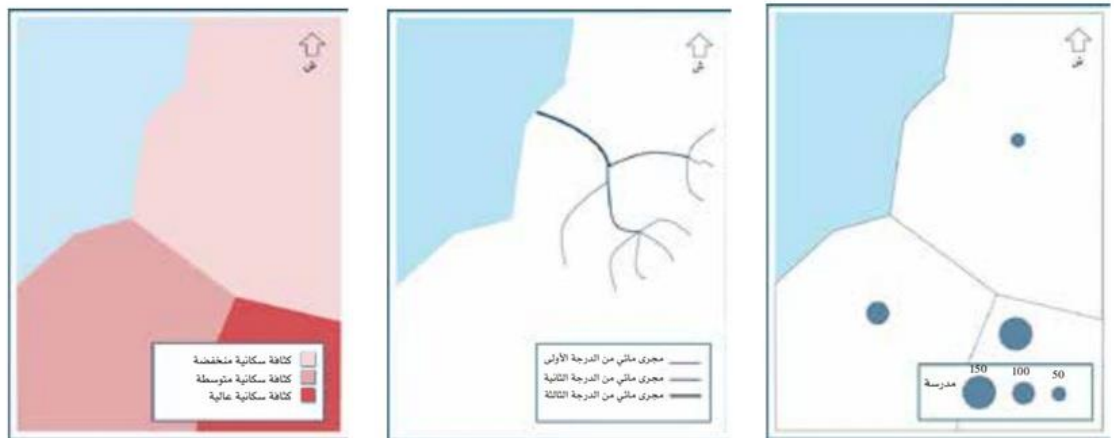
# أنواع رموز الخريطة من حيث الدلالة

## الرموز الكمية

## الرموز النوعية

الرموز التي توضح كم ظاهرة مُعيَّنة أو حَجْمها، حيث تُعطي النقطة أو الخط أو المساحة مدلولاً كمياً فتظهر بأحجام مختلفة أو تدرجات لونية، ومن الأمثلة على-  
الرموز النقطية الكمية: توزيع عدد المدارس، وعلى-  
الرموز الخطية الكمية المجاري المائية، وعلى الرموز-  
المساحية الكمية: الكثافة السكانية

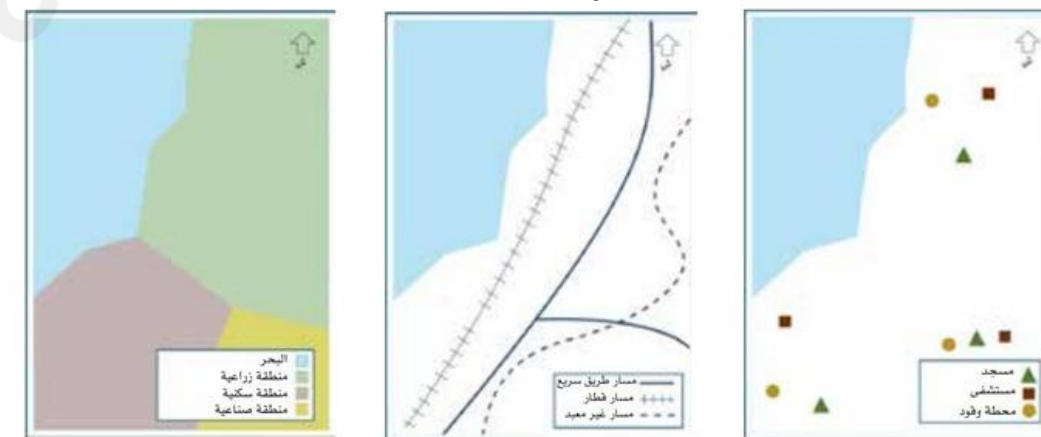
الرموز التي توضح الاختلاف في نوع الظاهرة الجغرافية، فمثلاً: الرموز النُقطيَّة تُستخدم لتمثيل العواصم والمدن، وتمثل الرموز الخطية الحدود السياسية والأنهار، أما الرموز المساحية فتمثل المناطق الرملية والمستطحات المائية



رمزٌ مساحيٌّ كميٌّ.

رمزٌ خطيٌّ كميٌّ.

رمزٌ نُقطيٌّ كميٌّ.



رمزٌ مساحيٌّ نوعيٌّ.

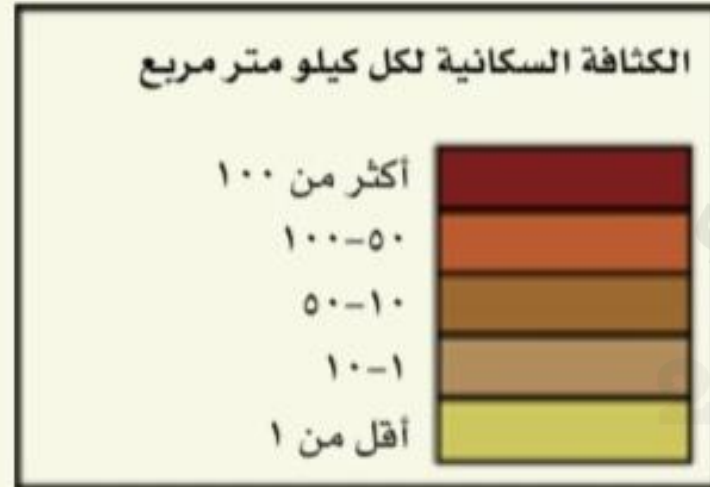
رمزٌ خطيٌّ نوعيٌّ.

رمزٌ نُقطيٌّ نوعيٌّ.

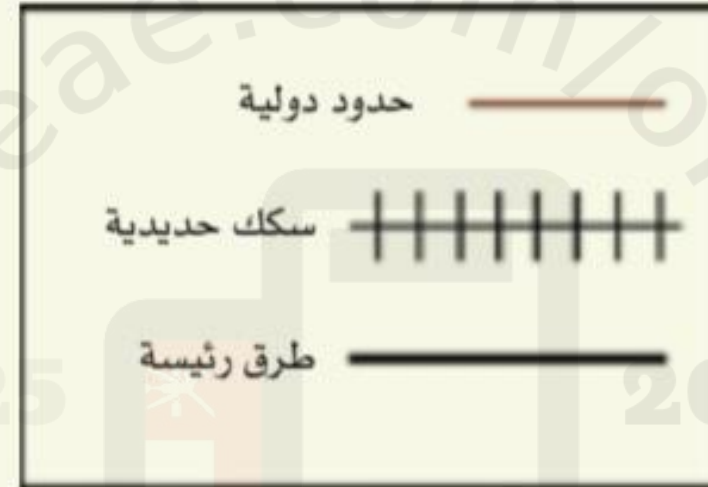


أمامك مجموعة من الرموز المستخدمة في مفتاح الخريطة، صنفها وفق الآتي، بكتابة الرمز الصحيح أسفل كل منها:

- أ- رموز نقطية نوعية. ج- رموز خطية نوعية. هـ - رموز مساحية نوعية.  
ب- رموز نقطية كمية. د- رموز خطية كمية. و- رموز مساحية كمية.



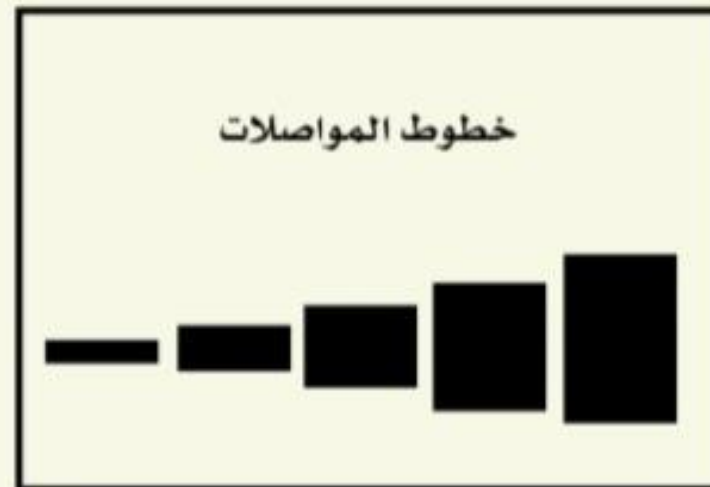
رموز مساحية كمية



رموز خطية نوعية



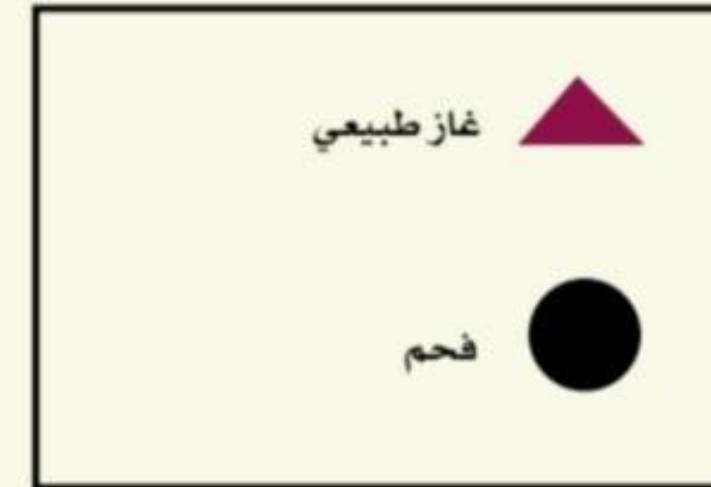
رموز نقطية كمية



رموز خطية كمية



رموز مساحية نوعية



رموز نقطية نوعية



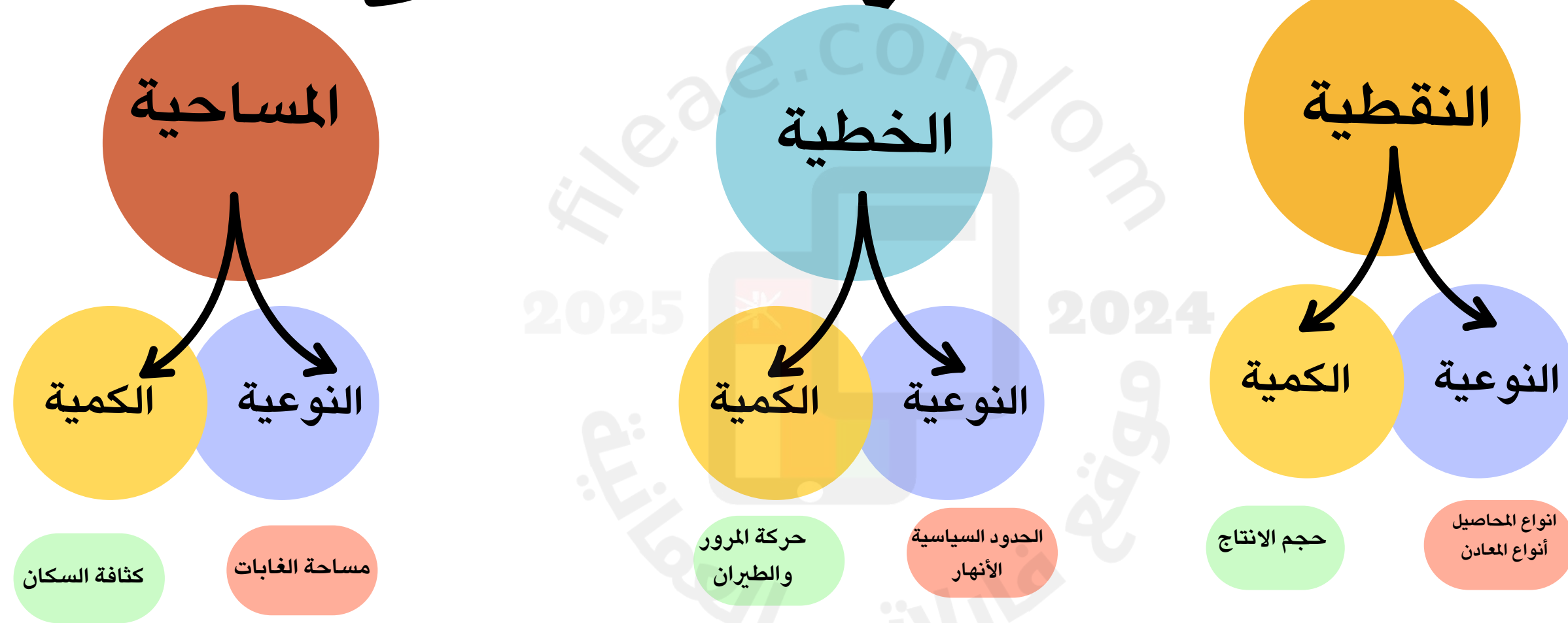
بالاستعانة بالأطلس المدرسي، ابحث ومجموعتك عن خرائط تم تمثيل ظواهرها الجغرافية برموز مختلفة، ثم أكمل الجدول الآتي:

أنواع الرموز	عنوان الخريطة
رموز نقطية نوعية	سلطنة عمان - التراث والسياحة صفحة ١٠٤
رموز خطية كمية	العالم / المواصلات صفحة ٥١
رموز مساحية نوعية	الوطن العربي: الأقاليم النباتية ص ٧٣
رموز مساحية كمية	الوطن العربي-المعدل السنوي للأمطار ص ٧٢



في ضوءِ دراستِكَ لأنواعِ الرُّمُوزِ، ارسمْ خريطةً ذهنيَّةً موضحةً فيها: أنواعَ الرُّمُوزِ، وأمثلةً على الظواهرِ الجغرافيَّةِ التي يتمُّ تمثيلُها بتلكِ الرُّمُوزِ.

## أنواع رموز الخريطة



الشكل

الدلالة

مثال

# أهمية رموز الخريطة

تساعد في قراءة  
الخريطة وفهمها.

تسهل تمثيل الظواهر  
الجغرافية في  
الخرائط.

تقلل من التفاصيل في  
الخريطة



ناقش



إمكانية قراءة الخريطة، وفهمها دون وجود دلالات للرموز الواردة فيها.

صعوبة قراءة الخريطة وعدم معرفة المسافات والارتفاعات والمواقع  
والظواهر الجغرافية





عُرِضَتْ عَلَيْكَ خَرِيطَةٌ لِمَبْنَى مَدْرَسِيٍّ، مَوْضَحٌ عَلَيْهَا جَمِيعُ مَرَاغِقِ الْمَدْرَسَةِ بِتَفَاصِيلَ كَثِيرَةٍ مُتَدَاخِلَةٍ (مَسْمِيَّاتٍ، صُورٍ، أَشْكَالٍ)، وَطُلِبَ مِنْكَ إِعَادَةُ رَسْمِهَا، مَا التَّعْدِيلَاتُ الَّتِي تَقْتَرِحُهَا لِتُصَبِّحَ الْخَرِيطَةَ أَكْثَرَ وَضُوحًا، وَتَحَقِّقَ الْفَائِدَةَ الْمَرْجُوءَةَ مِنْهَا؟

تحويل الصور والأشكال إلى رموز ليسهل قراءتها وفهمها من خلال مفتاح الخريطة

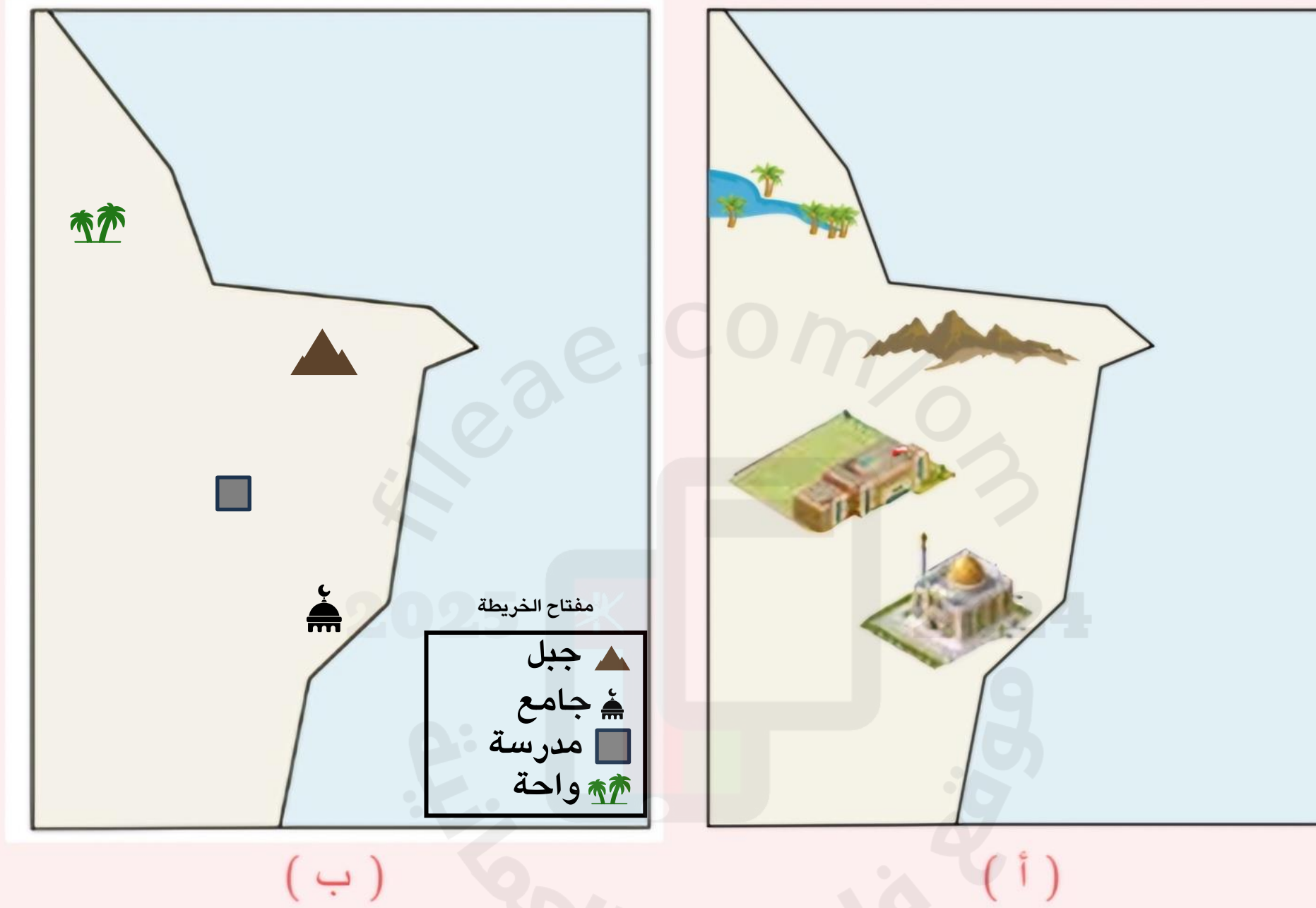
2025

2024

موقع فايلاتي العماني



ادرس الخريطة (أ)، ثمّ أجب عن الأسئلة التالية:

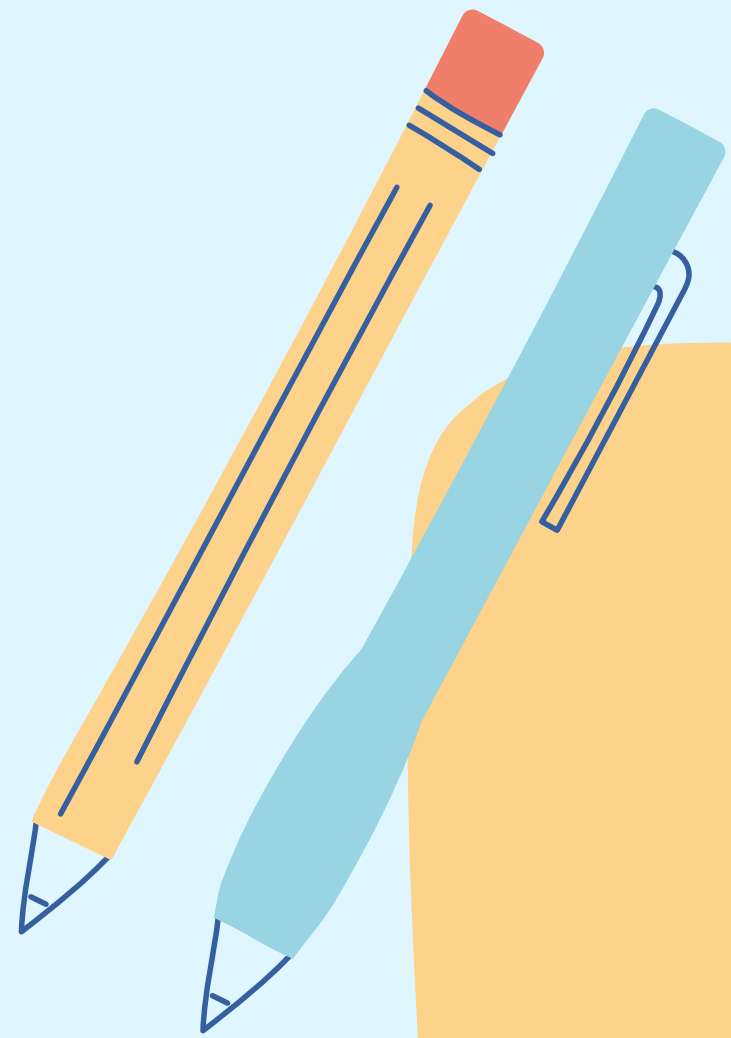


١- أعدّ تمثيل الظواهر الجغرافية الواردة في الخريطة (أ) إلى الخريطة (ب)، مستخدماً رموزاً مناسبة.

٢- صمّم مفتاح رسم مناسب للخريطة (ب).







نعم بحمد الله

2025

2024

موقع فايلاتي العماني

