

شكراً لتحميلك هذا الملف من موقع المناهج العمانية



نموذج أسئلة الاختبار الرسمي لمحافظة الظاهرة متبوع بالحل

[موقع المناهج](#) ← [المناهج العمانية](#) ← [الصف السادس](#) ← [اجتماعيات](#) ← [الفصل الأول](#) ← [الملف](#)

تاريخ نشر الملف على موقع المناهج: 09:56:04 2023-01-10

التواصل الاجتماعي بحسب الصف السادس



روابط مواد الصف السادس على تلغرام

[الرياضيات](#)

[اللغة الانجليزية](#)

[اللغة العربية](#)

[التربية الاسلامية](#)

المزيد من الملفات بحسب الصف السادس والمادة اجتماعيات في الفصل الأول

[نموذج إجابة الامتحان النهائي الدور الأول الفترة الصباحية
لمحافظة جنوب الباطنة](#)

1

[اختبار نهائي رسمي في محافظة ظفار](#)

2

[الامتحان النهائي الدور الأول الفترة الصباحية لمحافظة شمال
الباطنة](#)

3

[الامتحان النهائي الدور الأول الفترة الصباحية لمحافظة جنوب
الباطنة](#)

4

المزيد من الملفات بحسب الصف السادس والمادة اجتماعيات في الفصل الأول

[الامتحان النهائي الدور الأول الفترة الصباحية للمحافظات جنوب الشرقية](#)

5

(١)

المادة : الدراسات الاجتماعية - الصف السادس - الدور : الأول - الفصل الدراسي الأول - للعام الدراسي ٢٠٢٢ / ٢٠٢٣ م

أجب عن جميع الأسئلة التالية :
السؤال الأول: ضع دائرة حول رمز الإجابة الصحيحة لكل مفردة من المفردات الآتية :

١- الخريطة التي تظهر فيها جبال الأنديز في موقعها الصحيح :



(د)



(ج)



(ب)



(أ)

٢- يتكون البركان الغطائي إذا كان الصهير :

أ- لزجا ودرجة حرارته ٧٠٠ س.

ب- مائعا ودرجة حرارته ١٠٠٠ س.

د- مائعا ودرجة حرارته ٧٠ س.

ج- لزجا وحرارته ١٠٠ س.


٣- الشكل الصحيح الذي يمثل النسبة المئوية للمياه واليابسة في الكرة الأرضية :



(د)



(ج)



(ب)



(أ)

٤- ضعفت الإمامة في عهد الامام عزان بن تميم الخروصي نتيجة :

أ- الغزو الفارسي ب- اختلاف القبائل العمانية ج- الصراع على السلطة د- الغزو الأموي

٥- الصورة التي أمامك تمثل أحد المساجد القديمة في عمان هو مسجد :

أ- سعال

ب- الحصن

ج- المضمار

د- الشريعة



ت.

تابع السؤال الأول :
٦- الجدول الذي يحتوي على الأحداث الصحيحة :

مبايعة الامام الجلندي بن مسعود بالإمامة عام ١٥٠ هـ
سقوط الدولة الأموية ١٩٠ هـ

(ب)

مبايعة الامام الجلندي بن مسعود بالإمامة عام ١٣٢ هـ
سقوط الدولة الأموية عام ١٣٢ هـ


(أ)

مبايعة الامام الجلندي بن مسعود بالإمامة عام ١٨٠ هـ
سقوط الدولة الأموية عام ١٤٢ هـ

(د)

مبايعة الامام الجلندي بن مسعود بالإمامة عام ١٦٠ هـ
سقوط الدولة الأموية ٢٣٢ هـ

(ج)

٧- الرمز التالي () في النشرة الجوية يستخدم للدلالة على ان الجو :
أ- مشمس ب- غائم ج) غائم جزئيا د- ممطر

٨- إذا كانت درجة الحرارة حسب النظام السيليزي (صفر) فإنها تساوي بالنظام
الفهرنهايتي:

أ- 32 ف ب- 212 ف ج- 0 ف د- 100 ف

٩- العبارة الصحيحة التي تدل على مفهوم المناخ :

١- حالة الجو في مدينة صلالة خلال الساعات القادمة صحو بوجه عام .

٢- يتوقع هطول أمطار في مدينة عبري .

٣- مدينة مسقط صيفها حار وشتاءها دافئ.

٤- تظهر صور الأقمار الصناعية تأثر المناطق الشمالية من السلطنة بمنخفض جوي خلال
ربيع القادمين .

تابع السؤال الأول :

١٠- يوجد غاز الأوزون في طبقة :

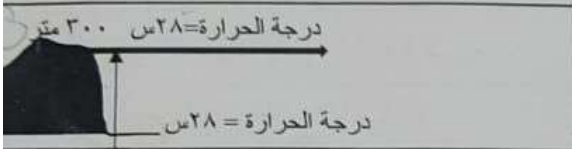
- أ- التروبوسفير ب- الاستراتوسفير ج- الميزوسفير د- التيرموسفير

١١- الرقم الذي يشير إلى المحافظة التي يوجد بها سد صحنوت :

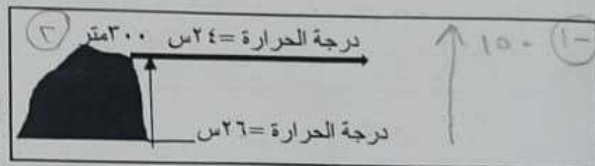
- أ- (١) ب- (٢) ج- (٣) د- (٤)



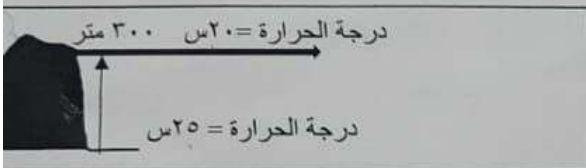
١٢- إذا علمت أن درجة الحرارة تنخفض بمقدار درجة واحدة كلما ارتفعنا ١٥٠ متر عن سطح الأرض) فإن الشكل الصحيح الذي يعبر عن هذه العلاقة :



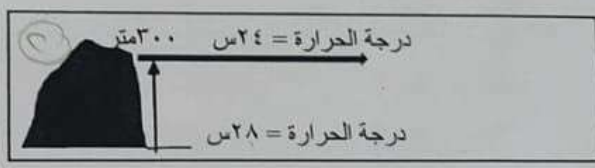
(ب)



(أ)



(د)



(ج)

السؤال الثاني : أجب عن الأسئلة التالية :

أولا: فسر الآتي :

١- أهمية الغلاف الصخري ؟

.....

.....

(٤)

المادة : الدراسات الاجتماعية - الصف السادس - الدور : الأول - الفصل الدراسي الأول - للعام الدراسي ٢٠٢٢ / ٢٠٢٣ م

تابع / السؤال الثاني :

٢-نسبة غاز ثاني أكسيد الكربون في الجو غير ثابتة؟

ثانيا : انقل رمز العبارة الصحيحة في الجدول الذي أمامك والتي تعبر عن قوة الزلزال على مقياس ريختر :

- أ- شعر أحمد بحدوث هزة أرضية حيث شاهد الأشياء المعلقة تتأرجح والأشجار تتمايل.
 ب- تتحدث وسائل الإعلام في اليابان عن حدوث زلزال أدى إلى دمار شامل .
 ج- أصدر مركز رصد الزلازل بجامعة السلطان قابوس بيانا بحدوث زلزال في ولاية خص ولكن لم يشعر به السكان .
 د- سافر أحد الاشخاص إلى مدينة طهران فرأى تشققات في جدران المباني وأصبح مهياًة للسقوط بسبب زلزال حدث فيها سابقا .

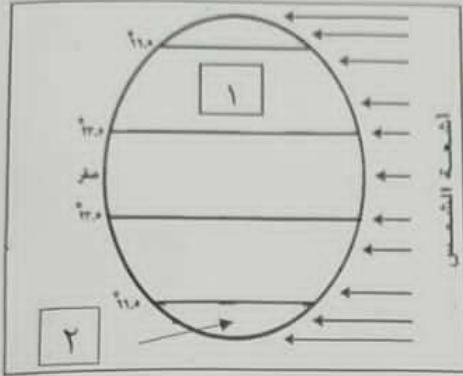
رمز العبارة	قوة الزلزال حسب مقياس ريختر
	أقل من ٣,٥
	٣,٥ - ٥
	٥ - ٦
	أكبر من ٨

ثالثا: أكمل الجدول التالي بما يناسب :

العام الذي وقعت فيه	قائد المسلمين في المعركة	اسم المعركة	طرفي المعركة
٥٤٧٩ هـ	المرابطون الاسبان
.....	أبويوسف يعقوب بن عبدالمؤمن	الموحدون الاسبان

يُنَبِّ

السؤال الثالث : أجب عن الأسئلة الآتية :
أولاً: ادرس الشكل الذي أمامك والذي يمثل المناطق الحرارية في العالم ثم أجب عن
الأسئلة :



١- ارسم دائرة الاستواء في موقعها الصحيح؟
٢- سم المناطق الحرارية المشار إليها
بالأرقام (١) و(٢)؟

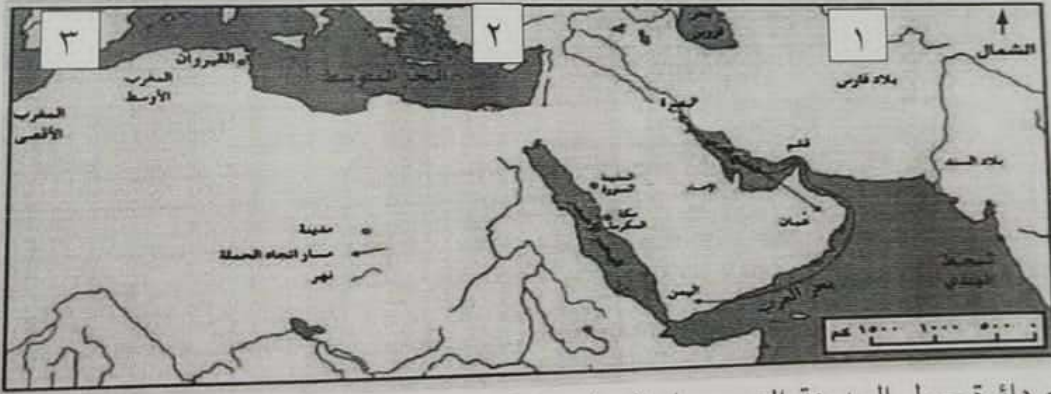
(١)

(٢)

ثانياً: أنسب الأعمال الواردة في الجدول للشخصيات التالية:
(عبدالرحمن الثالث - عبدالرحمن بن معاوية)

الشخصيات	الأعمال
	بناء جامع قرطبة
	بناء مدينة الزهراء في الأندلس

ثالثاً : ادرس الخريطة التالية جيداً ثم أجب عن الأسئلة :



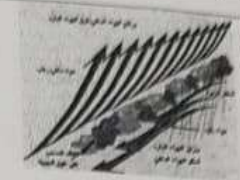


١- ضع دائرة حول المدينة التي وصل إليها حملة العلم غرباً ؟
٢- ارسم على الخريطة مسار الطريق البري الذي يربط عمان بمدينة البصرة قديماً ؟
٣- الرقم الذي يشير إلى موقع الأندلس () .

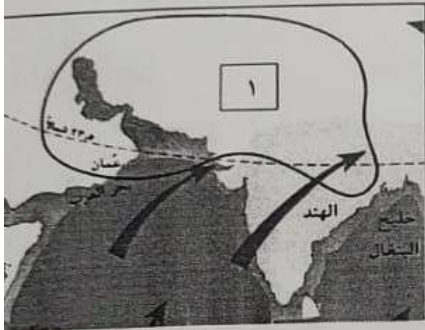
(٦)

المادة : الدراسات الاجتماعية - الصف السادس - الدور: الأول - الفصل الدراسي الأول - للعام الدراسي ٢٠٢٢ / ٢٠٢٣

السؤال الرابع : أجب عن الأسئلة الآتية :


الشكل	نوع الأمطار	المناطق التي تحدث فيها
		
		
		

ثانيا : ادرس الخريطة التالية ثم أجب عن الأسئلة :
١- في أي فصل تهب الرياح التي تشير إليها الخريطة ؟



٢- وضح أهمية هذه الرياح للعمانيين قديما ؟

- ما نوع الضغط الجوي في المنطقة المشار إليها بالرقم (١) ؟



السؤال الخامس : أجب عن الأسئلة الآتية:

أولا : بالاستعانة بالشكل البياني الذي أمامك

أجب عن الأسئلة الآتية :

١- تشكل مياه الأنهار والبحيرات وبخار الماء

ما نسبته ١ % من أشكال المياه الواردة في الشكل أمامك .

في ضوء ذلك مثل بيانيا نسبة المياه التي تظهر على

شكل جليد ؟

٢- كم تبلغ نسبة المياه الجوفية ؟

يت

(٧)

المادة : الدراسات الاجتماعية - الصف السادس - الدور: الأول - الفصل الدراسي الأول - للعام الدراسي ٢٠٢٢

تبع / السؤال الخامس :

٣- يمثل الشكل البياني المياه : أ- العذبة ب- المالحة ضع علامة (٧) .

ثانيا : صنف أنواع الملوثات الواردة ما بين قوسين في الجدول حسب مصدرها :
(المبيدات الحشرية - المواد الكيماوية السامة - الورق وعلب الصفيح)


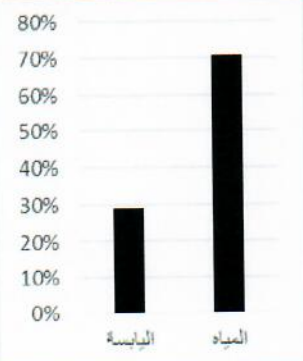
المنزل	الزراعة	الصناعة
.....

انتهت الأسئلة مع الدعاء للجميع بالتوفيق والنجاح.




نموذج إجابة امتحان الصف السادس
للعام الدراسي 1445/1444 هـ - 2023/2022 م
الدور الأول - الفصل الدراسي الأول

أولاً: إجابة السؤال الموضوعي (12 درجة):

الصفحة	الدرجة	الإجابة	البديل الصحيح	المفردة
25	1		د	1
21	1	مائعا ودرجة حرارته 1000س.	ب	2
128	1		د	3
70	1	- اختلاف القبائل العمانية	ب	4
63	1	المضمار	ب	5
66-53	1	مبايعة الامام الجلندي بن مسعود بالإمامة عام 132هـ سقوط الدولة الأموية عام 132هـ	أ	6

نموذج إجابة امتحان الصف السادس
للعام الدراسي 1445/1444 هـ - 2023/2022 م
الدور الأول - الفصل الدراسي الأول

تابع السؤال الأول:

125	1	غائم جزئياً	ج	7
105	1	32 ف	أ	8
101	1	مدينة مسقط صيفها حار وشتاءها دافئ.	ج	9
98	1	الاستراتوسفير	ب	10
142	1	(4)	د	11
97	1	<p>درجة الحرارة = 24س 300متر</p>  <p>درجة الحرارة = 26س</p>	أ	12
12		المجموع		

نموذج إجابة امتحان الصف السادس
للعام الدراسي 1445/1444 هـ - 2023/2022 م
الدور الأول - الفصل الدراسي الأول

الصفحة	الدرجة	الإجابة الصحيحة	المفردة	الجزئية
124	1	بسبب ارتباطه الوثيق بالظواهر التضاريسية والتربة ولكونه يحتوي على موارد طبيعية هامة كالمعادن والنفط والمياه.	1	اولا
15	1	بسبب تزايد عمليات احتراق الفحم والنفط والتلوث في المدن الصناعية .	2	
17	1	(ج)	1	ثانيا
17	1	(أ)	2	
17	1	(د)	3	
17	1	(ب)	4	

60	لكل مفردة نصف درجة	العام	قائد المسلمين	المعركة	ثالثا
			يوسف بن تاشفين	الزلاقة	
		591هـ		الأرك	

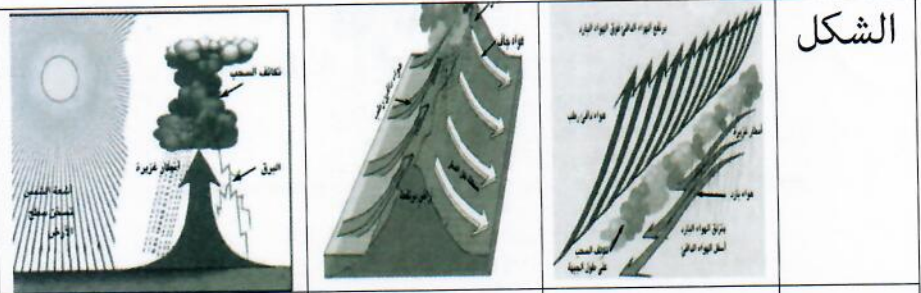
يتبع 4

تابع نموذج إجابة امتحان الصف السادس للعام الدراسي 1445/1444 هـ - 2023/2022 م
الدور الأول- الفصل الدراسي الأول
المادة : الدراسات الاجتماعية
السؤال الثالث: (8 درجات)

الصفحة	الدرجة	الإجابة الصحيحة	المفردة	الجزئية
103	1 درجتان لكل مفردة درجة	(1) يرسم دائرة الاستواء في موقعها الصحيح. (1) المنطقة المعتدلة الشمالية (2) المنطقة الباردة الجنوبية	1 2	أولا
57	درجتان لكل مفردة درجة	1- عبدالرحمن بن معاوية 2- عبدالرحمن الثالث	1	ثانيا
65	1	يضع دائرة حول مدينة القيروان	1	ثالثا
64	1	يرسم مساراً بين عمان والبصرة يمر عبر الاحساء	2	
65	1	رقم (3)	3	

(4)

تابع نموذج إجابة امتحان الصف السادس
للعام الدراسي 1445/1444 هـ - 2023/2022م
الدور الأول - الفصل الدراسي الأول
المادة : الدراسات الاجتماعية
السؤال الرابع : (6 درجات)


الصفحة	الدرجة	الإجابة الصحيحة	المفردة	الجزئية
112-111	ثلاث درجات لكل مفردة نصف درجة	 <p>الشكل</p> <p>نوع الامطار</p> <p>تصاعدية</p> <p>تضاريسية</p> <p>اعصارية</p> <p>المناطق التي تحدث فيها</p> <p>المناطق الاستوائية</p> <p>المناطق المرتفعة</p> <p>المناطق التي يظهر فيها مناخ البحر المتوسط وما شابهها</p>	1	أولا
109	درجة	الصيف	1	ثانيا
108	درجة	التجارة البحرية مع شرقي افريقيا واسيا - الرحلات البحرية - او بما يفيد المعنى	2	
109	درجة	منخفض	3	

يتبع (6)

(5)

تابع نموذج إجابة امتحان الصف السادس
للعام الدراسي 1445/1444 هـ - 2023/2022 م
الدور الأول- الفصل الدراسي الأول
المادة : الدراسات الاجتماعية

السؤال الخامس: (6 درجات):

الصفحة	الدرجة	الإجابة الصحيحة	المفردة	الجزئية						
128	1	 <p>90% 80% 70% 60% 50% 40% 30% 20% 10% 0%</p> <p>79% الجليد المياه الجوفية أنهار وبحيرات وبخار ماء</p>	1	اولا						
128	1	%20	2							
128	1	(I) المياه العذبة	3							
133	ثلاث درجات لكل مفردة درجة	<table border="1"><tr><td>المنزل</td><td>الزراعة</td><td>الصناعة</td></tr><tr><td>الورق وعلب الصفيح</td><td>المبيدات الحشرية</td><td>المواد الكيماوية</td></tr></table>	المنزل	الزراعة	الصناعة	الورق وعلب الصفيح	المبيدات الحشرية	المواد الكيماوية		ثانيا
المنزل	الزراعة	الصناعة								
الورق وعلب الصفيح	المبيدات الحشرية	المواد الكيماوية								

نهاية نموذج الإجابة