

تم تحميل هذا الملف من موقع المناهج العُمانية



* للحصول على أوراق عمل لجميع الصفوف وجميع المواد اضغط هنا

<https://almanahj.com/om>

* للحصول على أوراق عمل لجميع مواد الصف السادس اضغط هنا

<https://almanahj.com/om/6>

* للحصول على جميع أوراق الصف السادس في مادة رياضيات ولجميع الفصول, اضغط هنا

<https://almanahj.com/om/6math>

* للحصول على أوراق عمل لجميع مواد الصف السادس في مادة رياضيات الخاصة بـ الفصل الأول اضغط هنا

<https://almanahj.com/om/6math1>

* لتحميل كتب جميع المواد في جميع الفصول للـ الصف السادس اضغط هنا

<https://almanahj.com/om/grade6>

* لتحميل جميع ملفات المدرس ضئينة الفزارية اضغط هنا

للتحدث إلى بوت على تلغرام: اضغط هنا

https://t.me/omcourse_bot

المساحة والمحيط (١) + تمييز المضلعات

انجازي السابع

١٥ دقيقة
تُميزني



اسم الذكية : من الصف : سادس ()

أجيب عن جميع الأسئلة التالية في المكان المخصص للإجابة: موقع المناهج العُمانية almanahj.com/om

(١) لديك البطاقات التالية :



انقل البطاقة المناسبة منها في مكانها الصحيح لجعل العبارات التالية صحيحة :

أ (مُضَعَّ رُبَاعِيّ فِيهِ ضَلْعَانِ مُتَقَابِلَانِ مُتَوَازِيَانِ فَقَط .

ب (مُضَعَّ رُبَاعِيّ فِيهِ كُلُّ ضَلْعَيْنِ مُتَقَابِلَيْنِ مُتَوَازِيَيْنِ، وَكُلُّ الأضلاع فِيهِ مُتطَابِقَةٌ فِي الطول، وَكُلُّ زواياها قائمة .

ج (هو مضلع رباعي فيه ضلعان متجاوران متطابقان والضلعان الآخران متطابقان أيضاً .

[٢]

(٢) يقول فهد :

المربع والمستطيل والمعين
هي متوازيات أضلاع



خطأ

صواب

هل ما قاله فهد صحيح ؟

[١] فسر إجابتك _____



٣ (اكتب سبباً واحداً يجعل الشكل المقابل غير مضلع .
الإجابة : _____

[١]

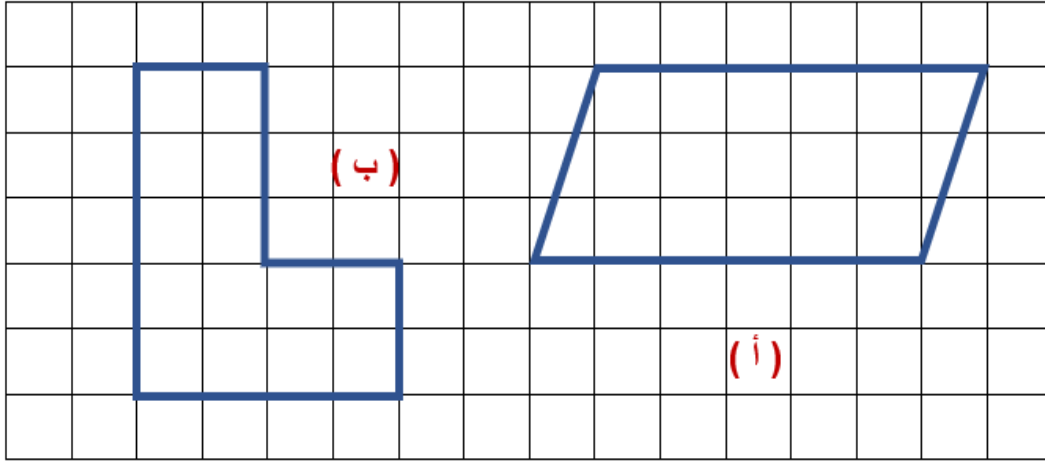
المساحة والمحيط (١) + تمييز المضلعات

انجازي السابع

١٥ دقيقة
تُميزني



موقع المناهج العُمانية almanahj.com/om

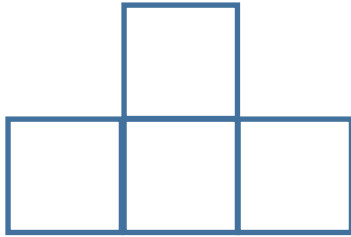


٤ (الشكل المقابل
يتكون من وحدات
مربعة متساوية المساحة.

اكمل ما يلي :

- أ (مساحة الشكل (أ) = _____ وحدة مربعة . [١]
ب (محيط الشكل (ب) = _____ وحدة طول . [١]

٥ (الشكل المقابل يتكون من مربعات متساوية المساحة مساحة كلٍّ منها ٩ سم^٢ .
احسب محيط الشكل .



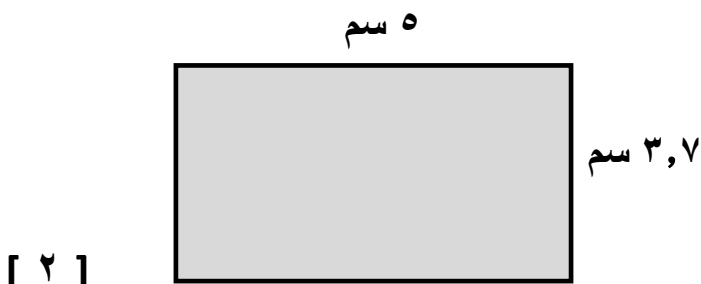
الإجابة _____ سم . [١]

٦ (أمامك مستطيل أبعاده ٥ سم ، و ٣,٧ سم .

أوجد ما يلي :

مساحة المستطيل = _____ سم^٢

محيط المستطيل = _____ سم



[٢]

تأكدي بأنه بالجد والاجتهاد والإصرار والعزيمة ستحققين النجاح والتفوق

