

تم تحميل هذا الملف من موقع المناهج العمانية



## الامتحان النهائي الرسمي الدور الأول الفترة الصباحية في محافظة جنوب الباطنة

[موقع المناهج](#) ⇨ [المناهج العمانية](#) ⇨ [الصف السادس](#) ⇨ [اجتماعيات](#) ⇨ [الفصل الثاني](#) ⇨ [الملف](#)

تاريخ إضافة الملف على موقع المناهج: 2024-06-06 09:44:23

## التواصل الاجتماعي بحسب الصف السادس



اضغط هنا للحصول على جميع روابط "الصف السادس"

## روابط مواد الصف السادس على تلغرام

[الرياضيات](#)

[اللغة الانجليزية](#)

[اللغة العربية](#)

[التربية الاسلامية](#)

## المزيد من الملفات بحسب الصف السادس والمادة اجتماعيات في الفصل الثاني

[الامتحان النهائي الرسمي الدور الأول بمحافظة ظفار](#)

1

[الامتحان النهائي الرسمي الدور الأول بالمحافظات مسقط والداخلية وشمال الشرقية ومسندم](#)

2

[مواصفات الورقة الامتحانية](#)

3

[ملخص شامل في الوحدة الرابعة بطريقة سؤال وحواب](#)

4

## المزيد من الملفات بحسب الصف السادس والمادة اجتماعيات في الفصل الثاني

[ملخصات وأنشطة مع نماذج اختبارية للمادة](#)

5

(١)  
تابع امتحان الصف السادس / المادة: الدراسات الاجتماعية الفصل الدراسي الثاني  
الدور: الأول - العام الدراسي ١٤٤٥ هـ - ٢٠٢٣ / ٢٠٢٤ م

أجب عن جميع الأسئلة الآتية

السؤال الأول: ضع دائرة حول رمز الإجابة الصحيحة لكل مفردة من المفردات الآتية:

١٢

(١) العامل المناخي الذي يساهم في انجراف التربة :

أ- إزالة الغابات      ب- الرياح      ج- ميل السفوح      د- الرعي الجائر

(٢) الصفة التي تشير إليها الآية ، قال الله تعالى "إن الله يأمركم أن تؤدوا الأمانات إلى أهلها" :

أ- العمل      ب- الوقت      ج- الأمانة      د- الصدق

(٣) العامل الذي يؤثر في نوعية وكثافة النباتات الطبيعية في الشكل المقابل:

أ - قلة المطر      ب - ميل السفوح

ج - ارتفاع الحرارة      د - هبوب الرياح

(٤) المجال الذي تختص به الجائزة الواضحة في الصورة المقابلة:

أ - الثقافي      ب - البيئي

ج - الاقتصادي      د - الأمني

(٥) الشهر الذي هطلت فيه أكبر كمية من الأمطار في الشكل البياني المقابل:

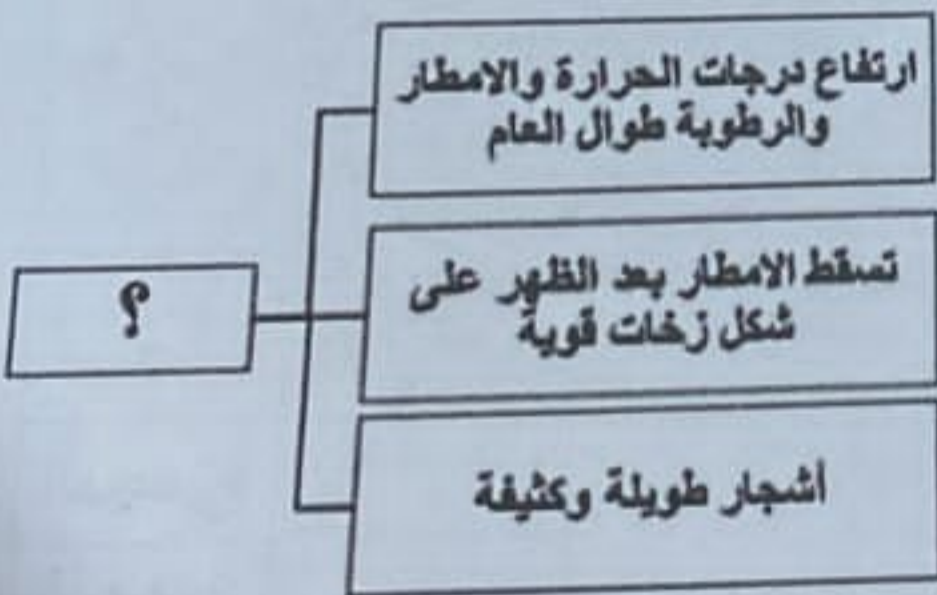
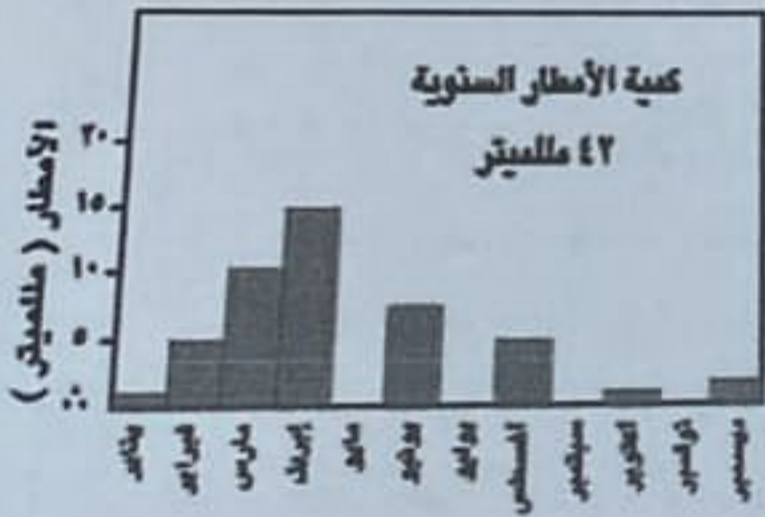
أ - فبراير      ب - مارس

ج - أبريل      د - مايو

(٦) النظام البيئي الذي يعبر عنه الشكل المقابل :

أ- الغابات      ب- الحشائش

ج- الصحاري      د- التندرا



(٢)  
تابع امتحان الصف السادس / المادة: الدراسات الاجتماعية الفصل الدراسي الثاني  
الدور: الأول - للعام الدراسي ١٤٤٥ هـ - ٢٠٢٣ / ٢٠٢٤ م

تابع السؤال الأول:



٧) المحمية التي يشير إليها الرقم (١) في الخريطة المقابلة:

ب - المها العربية

أ - السليل الطبيعية

د - السلاحف

ج - الديمانيات

٨) المهنة التي عمل بها النبي داود عليه السلام:

د-صنع الدروع

ج-الخياطة

ب-التجارة

أ-رعي الغنم


٩) الصورة التي تعبر عن أحد واجبات المواطن تجاه الدولة :



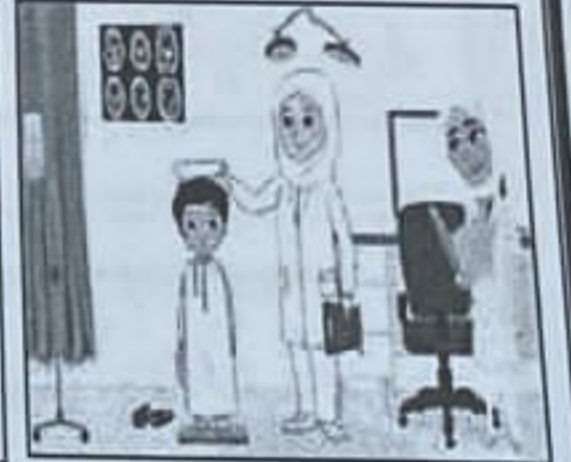
د-



ج-



ب-



أ-

١٠) العام الميلادي الذي صدر فيه النظام الأساسي في سلطنة عمان:

د-١٩٩٨

ج-١٩٩٧

ب-١٩٩٦

أ-١٩٩٥

١١) متطلبات المهنة الظاهرة في الصورة المقابلة :

ب - تأهيل دراسي عالي

أ- خبرة وتأهيل دراسي عالي

د - لا يحتاج إلى تأهيل دراسي

ج- تأهيل دراسي متوسط



١٢) النظام البيئي الذي يظهر في سلطنة عمان:

د - التندرا

ج - الصحراوي

ب - الحشائش المعتدلة

أ - الغابات النفضية

(٣)  
تابع امتحان الصف السادس / المادة: الدراسات الاجتماعية الفصل الدراسي الثاني  
الدور: الأول للعام الدراسي ١٤٤٥ هـ - ٢٠٢٣ / ٢٠٢٤ م

السؤال الثاني:

أولاً: أكتب أمام كل من العبارات الآتية المصطلح الصحيح :

المصطلح	العبرة	م
.....	منطقة محددة جغرافياً بهدف حماية ما تشتمل عليه من حيوانات أو نباتات معرضة للانقراض	١
.....	الشخص الذي يعيش على أرض الوطن ويحمل جنسيته.	٢

ثانياً : صنّف أقوال السلطان قابوس بن سعيد - طيّب الله ثراه - الواردة في الجدول التالي إلى:  
(حقوق المواطن / واجبات المواطن)

.....	على كل مواطن أن يكون حارساً أميناً على مكتسبات الوطن ومنجزاته .	١
.....	إنه ليسعدنا أن نرى المواطن العُماني متمتعاً بالرعاية الصحية الكاملة.	٢

ثالثاً: اقرأ العبارة الآتية ثم أجب عن الأسئلة التالية :

( اتفق عمر وخالد على الذهاب إلى مزرعة جدهم بعد صلاة العصر ، ولكن عمر تخلف عن مواعده وذهب للعب كرة القدم بدون إبلاغ خالد ، ف شعر خالد بالحزن ).

١- ما رأيك في تصرف عمر؟

.....  
.....

٢- اعط مثالين لبعض المواعيد التي تحرص على التقييد بها.

أ- .....  
ب- .....

٣- لو كنت في مكان عمر كيف ستتصرف؟

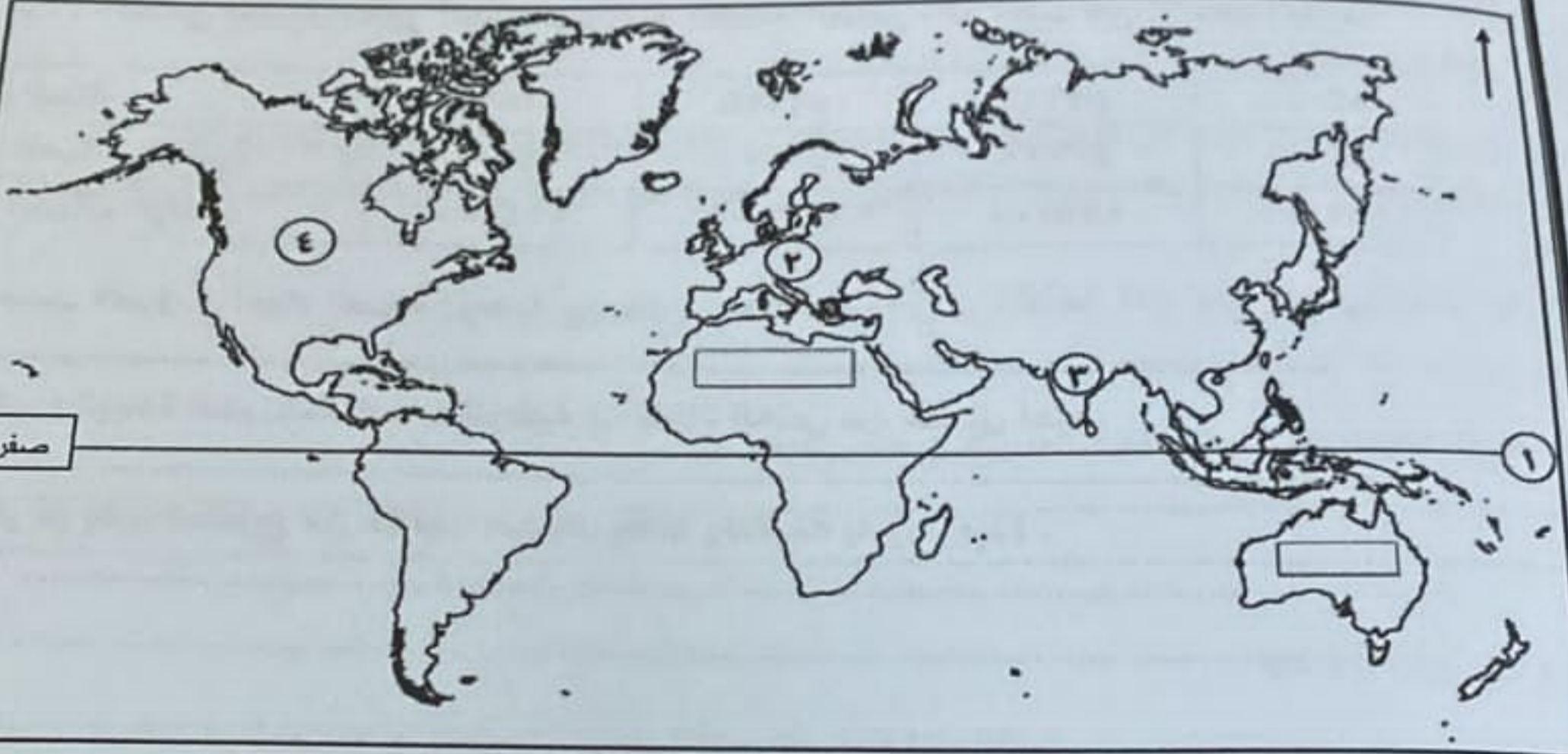
.....  
.....

(٤)  
تابع امتحان الصف السادس / المادة: الدراسات الاجتماعية الفصل الدراسي الثاني  
الدور: الأول للعام الدراسي ١٤٤٥ هـ - ٢٠٢٣ / ٢٠٢٤ م

السؤال الثالث:

أولاً: ادرس خريطة العالم الصماء أمامك، ثم أجب عن الأسئلة التالية:

٨



(١) ما اسم دائرة العرض المشار إليها بالرقم (١)؟ .....

(٢) ما الرقم الذي يشير إلى:

أ- الدولة التي بلغت فيها نسبة الغابات المدمرة ٩٥ % . (.....)

ب- القارة التي لا توجد بها صحراء . (.....)

(٣) أكتب الصحراء الكبرى في المستطيل الذي يمثل موقعها الصحيح على الخريطة .

ثانياً: ادرس الشكل المقابل ثم أجب عن الأسئلة الآتية:

١- ما اسم النبات الواضح في الشكل ؟

.....

٢- ما البيئة التي ينتمي إليها هذا النوع من النباتات؟

.....

٣- اكتب طريقتين لتكيف هذا النبات مع البيئة .

أ- .....

ب- .....



(٥)  
تابع امتحان الصف السادس / المادة: الدراسات الاجتماعية الفصل الدراسي الثاني  
الدور: الأول للعام الدراسي ١٤٤٥ هـ - ٢٠٢٣ / ٢٠٢٤ م

السؤال الرابع:

أولاً: ١- استعن بجدول تطور أعداد العمالة في القطاع الخاص ، ثم أجب عن الأسئلة التالية:

السنة	١٩٩٧ م	١٩٩٨ م	١٩٩٩ م	٢٠٠٠ م
العمالة الوطنية	٣٤٠٠٠	٤٦٠٠٠	٥٠٠٠٠	٥٣٠٠٠
العمالة الوافدة	٤٩٤٠٠٠	٤٨٣٠٠٠	٤٧٥٠٠٠	٤٨١٠٠٠

أ- احسب الفارق في أعداد العمالة الوطنية بين عامي (١٩٩٧-٢٠٠٠ م).

ب- فسر / الزيادة التدريجية للعمالة الوطنية في القطاع الخاص من سنة إلى أخرى.

٢- اذكر طريقتين تستطيع من خلالهما استغلال وقتك وتنظيمه بصورة جيدة .

ثانياً: أكتب كلمة ( مرغوب ) أو ( غير مرغوب ) أمام السلوكيات الآتية :

١	كثرة التأخر عن موعد الدوام المدرسي
٢	إقامة الصلاة في مواعيدها
٣	يقدّر أحمد العاملين مهما كانت وظيفته
٤	الكتابة على جدران المدرسة

السؤال الخامس :

أولاً: اذكر نتيجة واحدة لكل من:

١- ممارسة الانسان للصدق في حياته.

٢- توفر مساحة كبيرة من الغابات والنباتات الطبيعيه .

ثانياً: دلل على اهتمام سلطنة عمان بحماية البيئة والمحافظة على التنوع الأحيائي

(٦)

تابع امتحان الصف السادس / المادة: الدراسات الاجتماعية الفصل الدراسي الثاني  
الدور: الأول للعام الدراسي ١٤٤٥ هـ - ٢٠٢٣ / ٢٠٢٤ م

تابع السؤال الخامس :

ثانيا : اقرأ النص الآتي ثم أجب عن الأسئلة التالية :

( تتعرض بيئة السافانا إلى عدد من المشكلات منها ما يتعلق بزيادة أعداد حيوانات الرعي مقارنة مع كميات الأعشاب التي يوفرها المرعى وبقاء حيوانات الرعي في المرعى لفترة طويلة مما يمنع تجدد النباتات الرعوية وإعادة نموها )  
١- سمّ المشكلة التي تعاني منها بيئة السافانا .

٢- ما النتيجة المترتبة على الرعي لفترات طويلة في نفس المرعى ؟

٣- اقترح حلا لهذه المشكله .

انتهت الأسئلة مع الدعاء للجميع بالتوفيق والنجاح