

## شكراً لتحميلك هذا الملف من موقع المناهج العمانية



## أسئلة الاختبار الرسمي جنوب الباطنة

[موقع المناهج](#) ← [المناهج العمانية](#) ← [الصف السادس](#) ← [اجتماعيات](#) ← [الفصل الأول](#) ← [الملف](#)

تاريخ نشر الملف على موقع المناهج: 06:56:48 2023-01-09

## التواصل الاجتماعي بحسب الصف السادس



## روابط مواد الصف السادس على تلغرام

[الرياضيات](#)

[اللغة الانجليزية](#)

[اللغة العربية](#)

[التربية الاسلامية](#)

## المزيد من الملفات بحسب الصف السادس والمادة اجتماعيات في الفصل الأول

[اختبار قصير أول نموذج ثاني](#)

1

[اختبار قصير أول](#)

2

[ملخص شامل للمادة](#)

3

[مراجعة الدرسين نشأة الجبال والدولة الأموية في الأندلس](#)

4

[مراجعة الوحدة الثالثة الغلاف الجوي والمائي](#)

5

(١)

امتحان الصف الثامن المادة: الدراسات الاجتماعية - الفصل الدراسي الأول - الدور الأول  
للعام الدراسي ١٤٤٣ / ١٤٤٤ هـ - ٢٠٢٢ / ٢٠٢٣ م

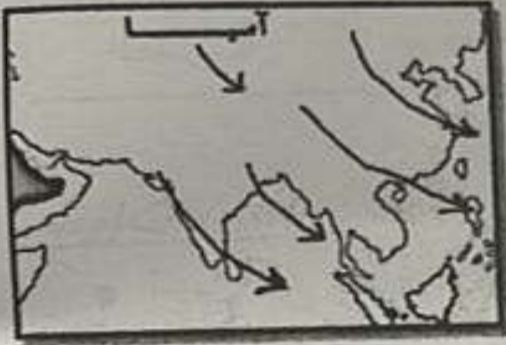
أجب عن جميع الأسئلة الآتية

السؤال الأول: ضع دائرة حول رمز الإجابة الصحيحة لكل مفردة من المفردات الآتية:

١ - الإقليم المناخي الذي يتميز بسقوط أشعة الشمس عليه بصورة مائلة، واختلاف طول الليل والنهار بين الصيف والشتاء:

أ- الاستوائي      ب- القطبي البارد      ج- الموسمي      د- البحر المتوسط


٢ - الخريطة الصحيحة التي توضح اتجاه الرياح الموسمية التي تتأثر بها قارة آسيا في فصل الشتاء:



ج-



أ-



د-



ب-

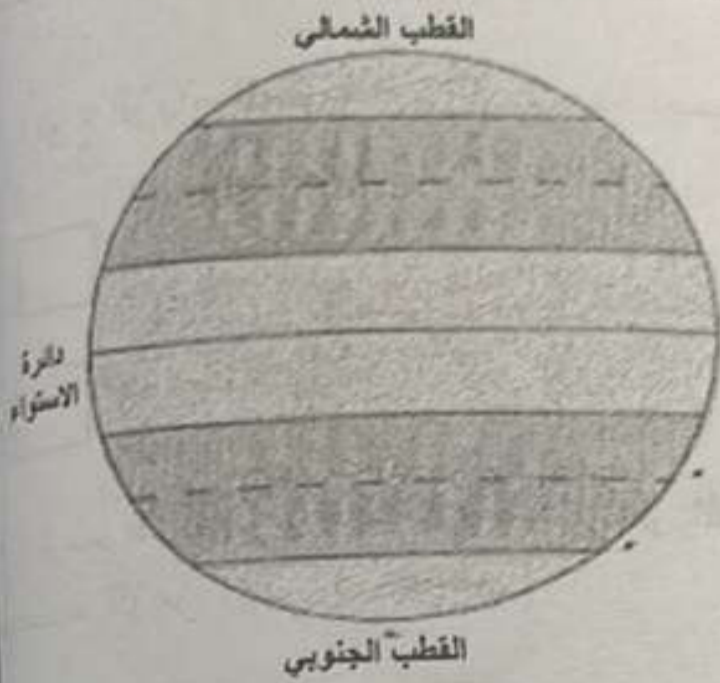
٣ - رقم الباب في النظام الأساسي للدولة الذي يتضمن نظام الحكم سلطاني قائم على أساس العدل والشورى والمساواة:

أ- الأول      ب- الثاني      ج- الثالث      د- الرابع

٤ - الدولة التي عقدت اتفاقاً مع السيد سعيد بن سلطان في العام الميلادي ١٨٣٩ م:

أ- فرنسا      ب- بريطانيا      ج- الولايات المتحدة      د- الهند

تابع السؤال الخامس: تهيأ لكتابتك رموز المناطق الحرارية التالية في مكانها الصحيح في الشكل:



- (أ) المنطقة الحارة  
(ب) المنطقة المعتدلة الجنوبية  
(ج) المنطقة المعتدلة الشمالية  
(د) المنطقة الباردة الشمالية

ثالثاً: انسخ الشخصيات العمانية حسب الإنجاز الذي قامت به في الجدول الآتي:

العمل	الشخصية العمانية التاريخية
بنى قصر بيت العجائب في زنجبار.	١
اتخذ من زنجبار عاصمة ثانية لإمبراطوريته.	٢
قاد مقاومة العمانيين ضد الفرس في صحار.	٣
مبعوثاً للولايات المتحدة عام ١٨٤٠ م.	٤

٦


انتهت الأسئلة مع الدعاء للجميع بالتوفيق والنجاح.

امتحان الصف الثامن المادة: الدراسات الاجتماعية - الفصل الدراسي الأول - الدور الأول  
 للعام الدراسي ١٤٤٣ / ١٤٤٤ هـ - ٢٠٢٢ / ٢٠٢٣ م

(٨)

السؤال الرابع:

امامك شكل لأحد أنواع الرياح اليومية، ادرسها ثم أجب عن الأسئلة الآتية:



١- نوع الرياح اليومية التي توضحها الصورة:

نسيم الجبل

(اختر الإجابة الصحيحة)

نسيم الوادي

٢- ارسم اتجاه الرياح بشكل صحيح في الشكل  
 مستخدماً الرمز الآتي: ( → )



السؤال الخامس: أجب عن الأسئلة التالية:

أولاً:

١- أمامك خريطة لشبه الجزيرة العربية، ادرسها جيداً، ثم أجب عن الأسئلة التي تليها:



١- ارسم على الخريطة خط سير سفينة الرحماني لنجدة البصرة.

٢- سمي مسطحين مائيتين مرت بهما الحملة:

- ١- .....
- ٢- .....

(٧)  
امتحان الصف الثامن المادة: الدراسات الاجتماعية - الفصل الدراسي الأول - الدور الأول  
للعام الدراسي ١٤٤٣ / ١٤٤٤ هـ - ٢٠٢٢ / ٢٠٢٣ م

تابع السؤال الثالث:

ثالثاً: اكتب مقابل كل عبارة من العبارات الواردة في الجدول الآتي المفهوم الدال عليها:

العبارة	المفهوم
١- تجمع كبير من قطرات الماء المتطايرة في الجو بالقرب من سطح الأرض.	
٢- رأي الآخرين ومشورتهم في أمور تخص الدولة والمجتمع.	
	٨

السؤال الرابع: أجب عن الأسئلة التالية:

أولاً:

قارن بين مجلس الشورى ومجلس الدولة من حيث:

المجلس	سنة الإنشاء	كيفية اختيار الأعضاء
مجلس الشورى	.....	.....
مجلس الدولة	.....	.....

ثانياً: فسر ما يلي:

أ- سقوط الأمطار في محافظة ظفار في فصل الصيف.

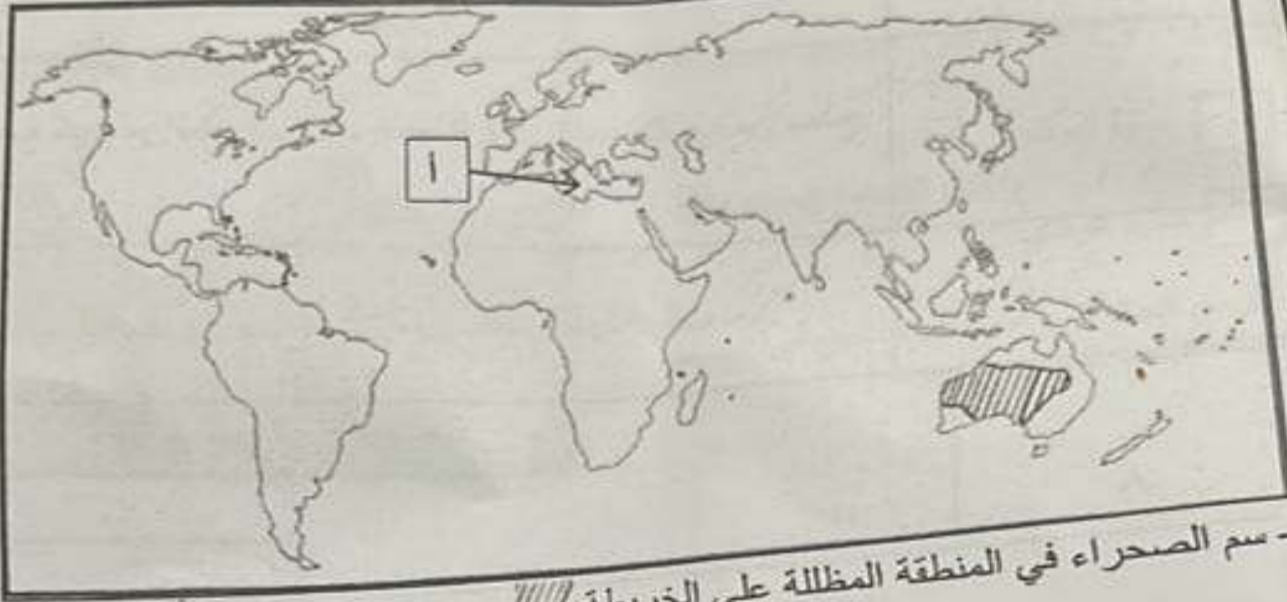
ب- ارتبطت عمان بعلاقات حسنة مع الدولة العثمانية.

يتبع

(٦)  
امتحان الصف الثامن المادة: الدراسات الاجتماعية - الفصل الدراسي الأول - الدور الأول  
للعام الدراسي ١٤٤٣ / ١٤٤٤ هـ - ٢٠٢٢ / ٢٠٢٣ م

تابع السؤال الثالث:

ثانياً: أمامك خريطة العالم، ادرسها جيداً، ثم أجب عن الأسئلة التي تليها:



- ١ - سم الصحراء في المنطقة المظلمة على الخريطة //
- ٢ - نوع الإقليم المناخي في المناطق المظلمة على المسطح المائي المشار إليه بالرمز (١)

ثالثاً:

١ - صنف الصادرات والواردات الآتية (الكافور - اللؤلؤ - البخور - الأرز) المتبادلة في عهد السيد سعيد بن سلطان بين الهند وعمان:

من عمان (الصادرات)	من الهند (الواردات)
.....	.....

يتبع //


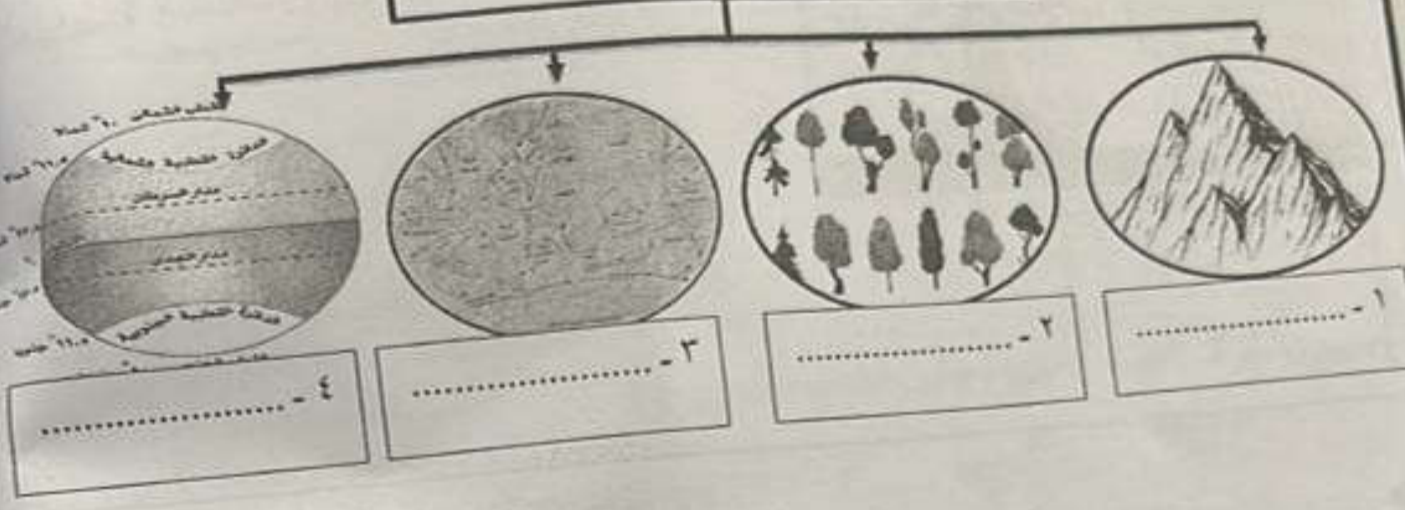
(5)

امتحان الصف الثامن المادة: الدراسات الاجتماعية - الفصل الدراسي الأول - الدور الأول  
للعام الدراسي ١٤٤٣ / ١٤٤٤ هـ - ٢٠٢٢ / ٢٠٢٣ م

تابع السؤال الثاني:

٣ - أكمل المخطط الآتي بكتابة الإجابة الصحيحة في الفراغ.

العوامل المؤثرة في الطقس و المناخ



السؤال الثالث: أجب عن الأسئلة التالية:

أولاً:

قرأ عمر المادة (١٣) من النظام الأساسي للدولة، فوجد في بنودها ما يلي:  
(التعليم ركن أساسي لتقدم المجتمع، ترعاه الدولة، وتسعى لنشره وتعميمه، يهدف إلى رفع المستوى الثقافي، وتنمية التفكير العلمي ومهارة البحث، وإيجاد جيل قوي في بنيته وأخلاقه، يعتز بأمته ووطنه وترائه ويحافظ على إنجازاته)  
١ - في أي باب من أبواب النظام الأساسي للدولة قرأ عمر هذه المادة؟  
.....  
.....

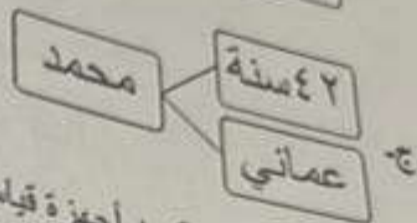
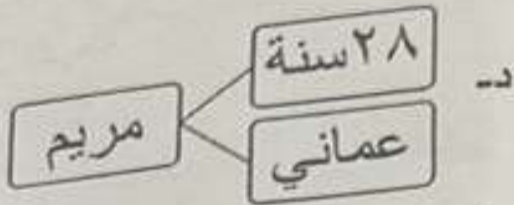
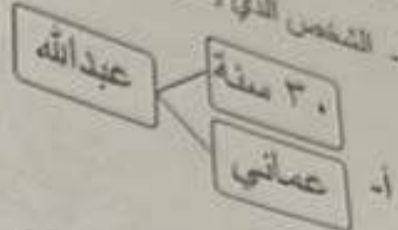
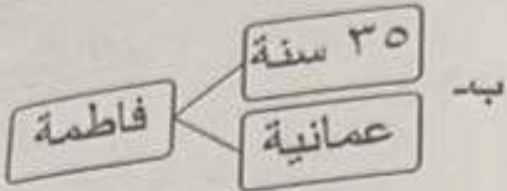
٢ - استخرج من النص أهمية التعليم للفرد.  
.....  
.....

٣ - ما دورك كطالب علم في مجال التعليم؟  
.....  
.....

يتبع/٦

تابع / السؤال الأول:

٨- الشخص الذي يحق له العضوية في مجلس الدولة:



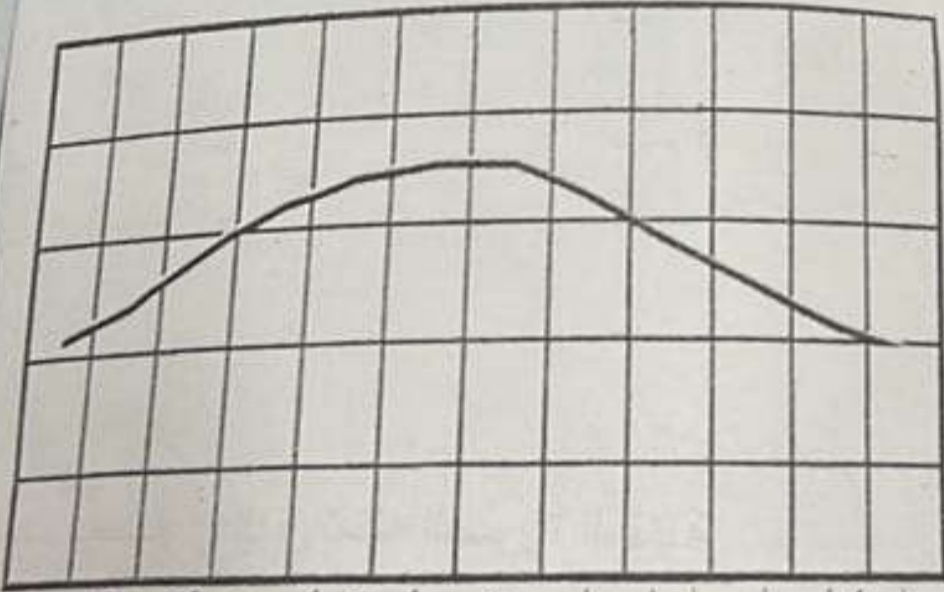
٩- جميع الأجهزة الآتية من أجهزة قياس الضغط الجوي ما عدا:

- أ- الباروجراف
- ب- البارومتر
- ج- المايكروباروجراف
- د- الترمومتر

١٠- الرقم الصحيح للمرسوم السلطاني الذي صدر بموجبه النظام الأساسي للدولة:

- أ- ٩٩/١٠١
- ب- ٩٨/١٠١
- ج- ٩٧/١٠١
- د- ٩٦/١٠١

١١- يبلغ المدى الحراري السنوي في مسقط حسب الشكل المقابل:



- أ- ٥°س
- ب- ١٥°س
- ج- ١٥°س
- د- ٢٠°س

يناير فبراير مارس أبريل مايو يونيو يوليو أغسطس سبتمبر أكتوبر نوفمبر ديسمبر



(٢)  
امتحان الصف الثامن المادة: الدراسات الاجتماعية - الفصل الدراسي الأول - الدور الأول  
للعام الدراسي ١٤٤٣ / ١٤٤٤ هـ - ٢٠٢٢ / ٢٠٢٣ م

تابع / السؤال الأول

٥- الجدول الصحيح الذي يوضح الأعمال الداخلية للإمام أحمد بن سعيد :

نقل العاصمة إلى مسقط
أوجد رجال الشرطة
شيد حصن البريمي

(ب)

اتخذ الرستاق عاصمة له
أوجد رجال الشرطة
شيد حصن البريمي

(أ)

اتخذ الرستاق عاصمة له
أوجد رجال الشرطة
أخضع جزيرتي قشم وهرمز

(د)

اتخذ الرستاق عاصمة له
أوجد رجال الشرطة
أرسي القواعد الإدارية والقضائية في البلاد

(ج)



٦ - في الخريطة المقابلة الرقم الذي يشير على المحافظة العمانية التي بدأ فيها أول رصد جوي منظم

ب - ٢

أ - ١

د - ٤

ج - ٣



٧ - المعلم الحضاري الذي تمثله الصورة المقابلة:

ب- بيت البركة

أ- قصر المتوني

د- قصر العلم

ج- قصر العجائب

يتبع / ٣