

شكراً لتحميلك هذا الملف من موقع المناهج العمانية



نموذج أسئلة الاختبار الرسمي (الداخلية)

[موقع المناهج](#) ← [المناهج العمانية](#) ← [الصف السادس](#) ← [اجتماعيات](#) ← [الفصل الأول](#) ← [الملف](#)

تاريخ نشر الملف على موقع المناهج: 2023-01-11 06:56:56

التواصل الاجتماعي بحسب الصف السادس



روابط مواد الصف السادس على تلغرام

[الرياضيات](#)

[اللغة الانجليزية](#)

[اللغة العربية](#)

[التربية الاسلامية](#)

المزيد من الملفات بحسب الصف السادس والمادة اجتماعيات في الفصل الأول

[نموذج إجابة الامتحان النهائي الدور الأول الفترة الصباحية
لمحافظة جنوب الباطنة](#)

1

[اختبار نهائي رسمي في محافظة ظفار](#)

2

[الامتحان النهائي الدور الأول الفترة الصباحية لمحافظة شمال
الباطنة](#)

3

[الامتحان النهائي الدور الأول الفترة الصباحية لمحافظة جنوب
الباطنة](#)

4

المزيد من الملفات بحسب الصف السادس والمادة اجتماعيات في الفصل الأول

[الامتحان النهائي الدور الأول الفترة الصباحية للمحافظات جنوب الشرقية](#)

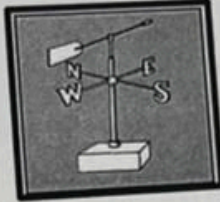
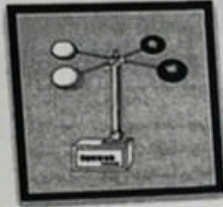
5

تابع السؤال الأول:

٦- المحيط الذي تتكون فوقه الأعاصير التي تتأثر بها سلطنة عُمان:

- أ- الهادي
ب- الهندي
ج- الأطلسي
د- المتجمد الشمالي

٧- الجهاز الذي يقيس سرعة الرياح:



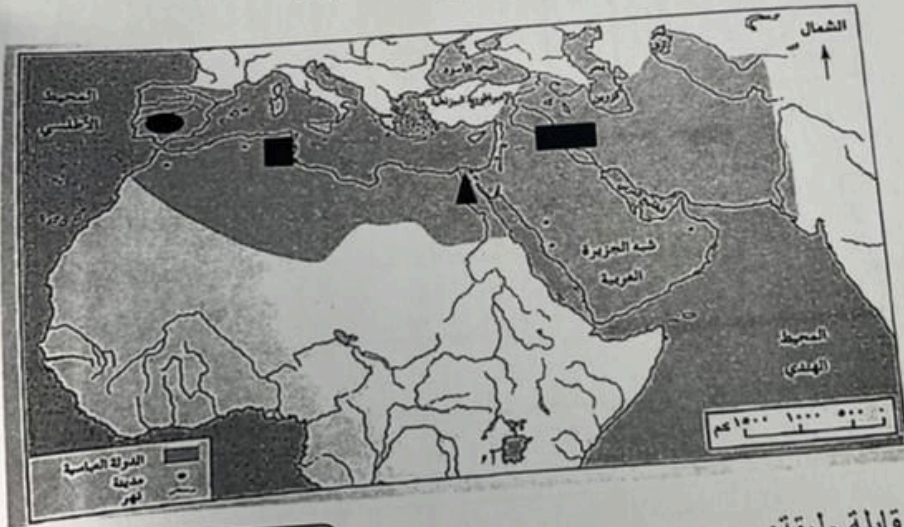
(د)

(ج)

(ب)

(أ)

٨- الرمز الصحيح الذي يشير إلى موقع مدينة قرطبة على الخريطة المقابلة:



أ- ■

ب- ▲

ج- ■

د- ●

٩- تصف البطاقة التعريفية المقابلة طبقة:

- أ- التروبوسفير
ب- الاستراتوسفير
ج- الميزوسفير
د- الثيرموسفير

١٠- الغلاف الواضح في الصورة المقابلة:

- أ- الجوي
ب- المائي
ج- الصخري
د- الحيوي

- ١- يصل سمكها إلى ٣٢ كيلومتر
٢- تحتوي على غاز الأوزون



ينبع /

تابع السؤال

١١- أول

أ- سمانزل

١٢- دولة

أ- اليابان

السؤال

أولاً: عدد

١

٢

٣

ثانياً: أدر

العباسية

١

٢

٣

٤

٥

٦

٧

٨

٩

١٠

١١

١٢

١٣

١٤

١٥

١٦

١٧

١٨

١٩

٢٠

٢١

٢٢

٢٣

٢٤

٢٥

٢٦

٢٧


٢٨

أجب عن جميع الأسئلة الآتية

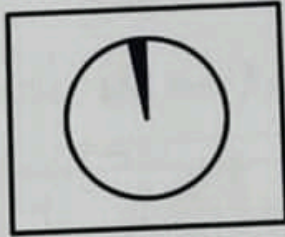
السؤال الأول: ضع دائرة حول رمز الإجابة الصحيحة لكل مفردة من المفردات الآتية:

- ١- عندما يحدث دمار شامل للمنطقة تكون قوة الزلزال بمقياس ريختر:
أ- (٥ - ٦) ب- (٦ - ٧) ج- (٧ - ٨) د- أكبر من ٨
- ٢- أطلق لقب صقر قریش على:


- أ- أبو جعفر المنصور ب- عبدالرحمن بن معاوية ج- عبدالرحمن الثالث د- هشام الثالث
- ٣- الشكل الصحيح الذي يمثل نسبة توزيع الماء المالح والعذب على الكرة الأرضية:




(د)



(ج)




(ب)



(أ)

٤- يصنف التلوث الواضح في الصورة المقابلة ضمن الملوثات:

- أ- الزراعية
ب- الصناعية
ج- المنزلية
د- الإشعاعية



٥- التوزيع الصحيح للنسب المئوية التي تمثلها بعض الغازات من حجم الهواء في الغلاف الجوي:

أ	النيتروجين ٧٨	الأكسجين ٢١	ثاني أكسيد الكربون ٠,٠٣
ب	الأكسجين ٢٥	النيتروجين ٧٨	ثاني أكسيد الكربون ٠,٠٣
ج	ثاني أكسيد الكربون ٠,٨٥	الأكسجين ٢١	النيتروجين ٧٨
د	النيتروجين ٨٧	الأكسجين ٣٠	ثاني أكسيد الكربون ٠,١٧

المادة: الدراسات الاجتماعية الصف: السادس الدور الأول - الفصل الدراسي الأول -
 (٣)
 العام الدراسي ٢٠٢٢/٢٠٢٣ م

تابع السؤال الأول:

١١- أول مدينة عُمانية يدخلها الإسلام:

أ- سمائل

ب - يهلاء

١٢- دولة يطلق على أعاصيرها اسم التايفون:

أ - اليابان

ب- الصين

ج - نزوى

د- ازكي

ج- الهند

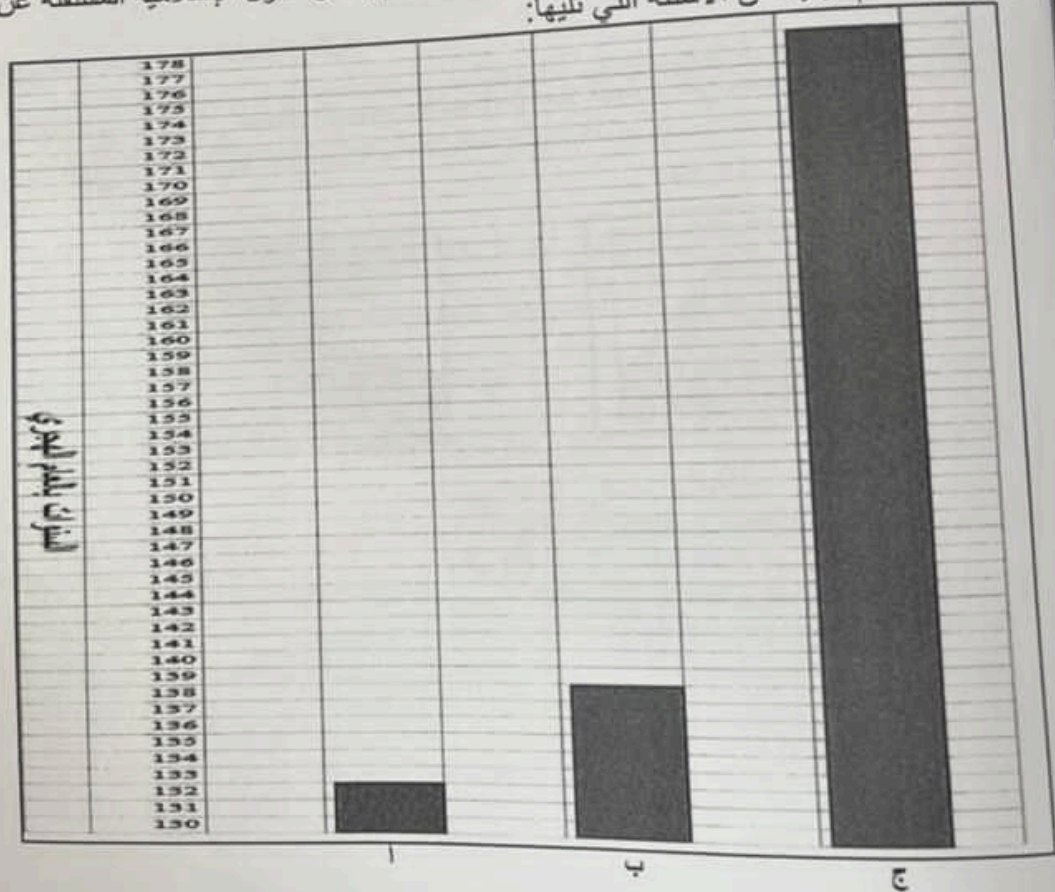
د- كوريا

السؤال الثاني: أجب عن جميع الأسئلة الآتية:
 أولاً: عدد اثنين من:

١- مصادر بيانات الطقس

٢- أنواع الأمطار




ثانياً: أدرس الأعمدة البيانية الآتية التي توضح سنوات قيام بعض الدول الإسلامية المستقلة عن الدولة العباسية جيداً، ثم أجب عن الأسئلة التي تليها:



أ- استخراج رمز الدولة التي قامت في الاندلس (.....)

ب - اكتب اسم الدولة المشار إليها بالرمز (ج).....

ثانياً: أ) الخرائط الأتية توضح مسار حالة مدارية تعرضت لها أجزاء من سلطنة عُمان في عام ٢٠٠٧م ادرسها جيداً، ثم أجب عن الأسئلة التي تليها:



- ١- ما اسم الحالة المدارية الواضحة في الخرائط؟
- ٢- رتب الخرائط التي أمامك حسب حركة الحالة المدارية من بدايتها إلى نهايتها بوضع الأرقام (١-٢-٣) في المربعات الموجودة أسفل الخرائط.
- ٣- اكتب اثنين من الآثار التي نجمت عن هذه الحالة المدارية.

.....
.....



ب) اكتب المفهوم /المصطلح المناسب لكل عبارة بين القوسين:

- ١- كتل صخرية شديدة الحرارة تقذفها البراكين أثناء ثورانها (.....).
- ٢- كلمة اشتقها العرب من واندلسيا وهي قبائل أوروبية استقرت في أسبانيا والبرتغال (.....).

(٤)
المادة: الدراسات الاجتماعية الصف: السادس الدور الأول - الفصل الدراسي الأول -
العام الدراسي ٢٠٢٢/٢٠٢٣ م

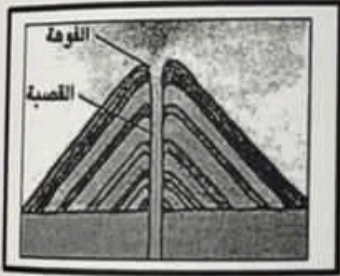
تابع السؤال الثاني:

ثالثاً: - صنف الصور حسب الطبقات الجوية الآتية (التروبوسفير / الثيرموسفير / الاستراتوسفير) التي تنتمي إليها:


	
.....(٢)(١)

السؤال الثالث: أجب عن جميع الأسئلة الآتية:

أولاً: ادرس أشكال البراكين التي أمامك، ثم ضع علامة (✓) أمام العبارة التي تصف خصائصها التي
اليها في الجدول الآتي:



(ب)



(أ)

شكل (ب)	شكل (أ)	خصائص الأشكال البركانية
		١- شكلي بركان مخروطي
		٢- صهيري مانع