

تم تحميل هذا الملف من موقع المناهج العُمانية



\*للحصول على أوراق عمل لجميع الصفوف وجميع المواد اضغط هنا

<https://almanahj.com/om>

\* للحصول على أوراق عمل لجميع مواد الصف السادس اضغط هنا

<https://almanahj.com/om/6>

\* للحصول على جميع أوراق الصف السادس في مادة رياضيات ولجميع الفصول, اضغط هنا

<https://almanahj.com/om/6math>

\* للحصول على أوراق عمل لجميع مواد الصف السادس في مادة رياضيات الخاصة بـ الفصل الثاني اضغط هنا

<https://almanahj.com/om/6math2>

\* لتحميل كتب جميع المواد في جميع الفصول للـ الصف السادس اضغط هنا

<https://almanahj.com/om/grade6>

\* لتحميل جميع ملفات المدرس ناصر العبري اضغط هنا

للتحدث إلى بوت على تلغرام: اضغط هنا

[https://t.me/omcourse\\_bot](https://t.me/omcourse_bot)

## مراجعه عامه رقم ١

١. أمامك عشر بطاقاتٍ أعدادٍ. تُمثّل كلُّ بطاقةٍ عدد الأوسمة التي نالها عشرة طلابٍ خلال أسبوعٍ.



الوسط الحسابي لعدد الأوسمة الممنوحة للطلاب. ....

٢. يعرض الجدول التالي الوقت الذي استغرقه خمسة أولادٍ للجري مسافة ٢٠٠ مترٍ.

الاسم	خالد	زين	زياد	مروان	عمار
الوقت (بالثواني)	٣٥	٢٩	٣٢	٣٤	٣٢


..... ما الوقت الوسيط؟

٣. جميلة ترصد النقاط التي تحرزها زميلاتها لإحدى الألعاب الرياضية

١٠، ١٢، ٩، ٤، ١٤، ١٥، ١٢، ٩، ١٢، ١١، ١٦، ٨، ١٢، ١٥

..... ما هو المنوال للنقاط؟

٤. هنا اطوال الأشخاص



١٣٤ سم

١٤٢ سم

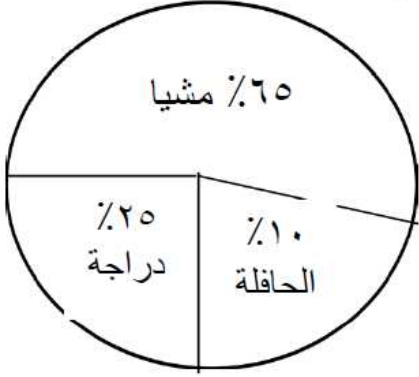
١٥٦ سم

١٤٥ سم

احسب مدى الاطوال؟

.....

٥. تم سؤال ٢٠٠ طالب عن وسيلة الذهاب إلى المدرسة وكانت النتائج كالتالي :



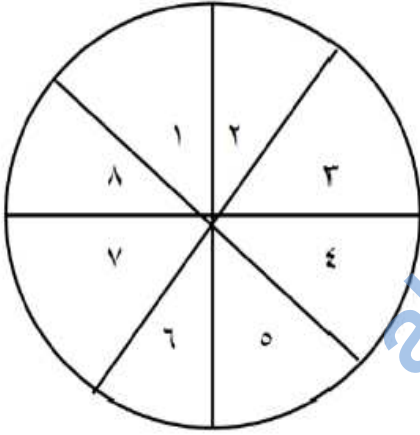
(أ) كم عدد الطلاب الذين يذهبون إلى المدرسة مشيا؟

..... طالبا

(ب) كم عدد الطلاب الذين يذهبون إلى المدرسة بالدراجة؟

..... طالبا

٦. يستخدم حسن الدوار الثماني المنتظم  
صل بخط لتوضيح مدى احتمال حدوث



مستحيل

الأعداد أقل من ١٠

غير مرجح

أن يكون العدد ١١

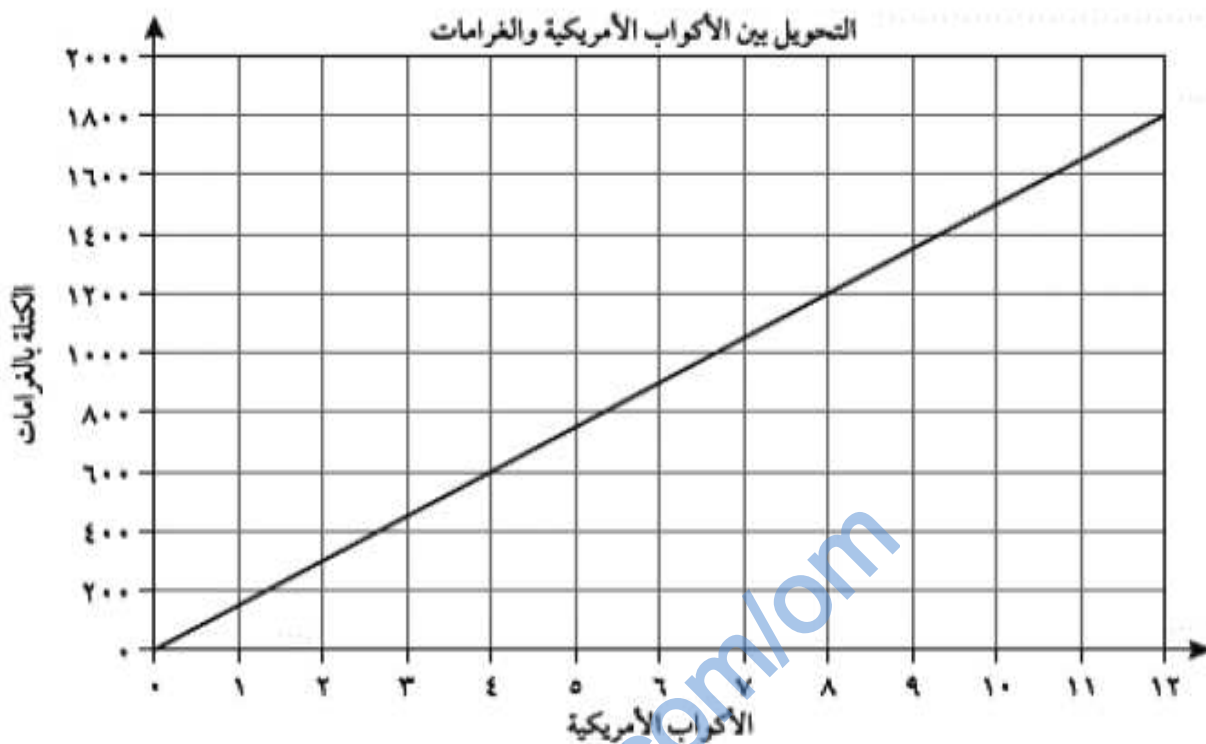
فرص متساوية

مرجح

أن يكون العدد فردي

مؤكد

٧. يتحول جدول الرسم البياني الخطي هذا ما بين الأكواب الأمريكية والغرامات.



كم غرامًا يعادل ٨ أكواب أمريكية؟

أ. ناصر العبري

معلم رياضيات - مدرسة عباد بن بشر (٥-٩)