

شكراً لتحميلك هذا الملف من موقع المناهج العمانية



اختبار نهائي رسمي في محافظة ظفار

[موقع المناهج](#) ← [المناهج العمانية](#) ← [الصف السادس](#) ← [اجتماعيات](#) ← [الفصل الأول](#) ← [الملف](#)

تاريخ نشر الملف على موقع المناهج: 06:03:08 2024-01-04

التواصل الاجتماعي بحسب الصف السادس



روابط مواد الصف السادس على تلغرام

[الرياضيات](#)

[اللغة الانجليزية](#)

[اللغة العربية](#)

[التربية الاسلامية](#)

المزيد من الملفات بحسب الصف السادس والمادة اجتماعيات في الفصل الأول

[الامتحان النهائي الدور الأول الفترة الصباحية لمحافظة شمال الباطنة](#)

1

[الامتحان النهائي الدور الأول الفترة الصباحية لمحافظة جنوب الباطنة](#)

2

[الامتحان النهائي الدور الأول الفترة الصباحية للمحافظات جنوب الشرقية](#)

3

[الامتحان النهائي الرسمي الدور الأول الفترة الصباحية لمحافظة جنوب الباطنة](#)

4

المزيد من الملفات بحسب الصف السادس والمادة اجتماعيات في الفصل الأول

[اختبار نهائي رسمي في محافظة الداخلية](#)

5

تابع السؤال الأول

١٠- درجة التجمد في النظام الفهرنهايتي :

أ- صفر

ب- ٣٢

ج- ٢١٢

د- ١٠٠

١١- المخطط الذي يمثل الترتيب الصحيح لفترات حكم الأئمة في عهد الإمامة في عُمان من ١٢٢هـ إلى ١٧٩هـ من الأقدم إلى الأحدث:

١-

١- محمد بن أبي عفان

٢- الجلندي ابن مسعود

٣- الوارث بن كعب الخروصي

ب-

١- الجلندي ابن مسعود

٢- الوارث بن كعب الخروصي

٣- محمد بن أبي عفان

ج-

١- الجلندي ابن مسعود

٢- محمد بن أبي عفان

٣- الوارث بن كعب الخروصي

د-

١- الوارث بن كعب الخروصي

٢- محمد بن أبي عفان

٣- الجلندي ابن مسعود

- النسبة المئوية التي يغطيها الماء للكرة الأرضية :

أ- ٤١%

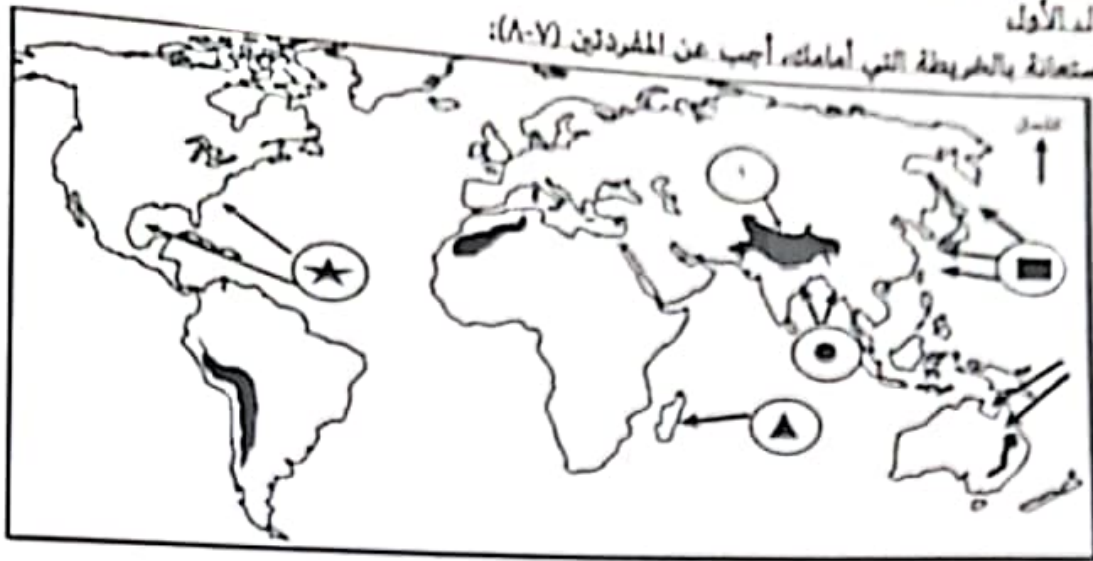
ب- ٥١%

ج- ٦١%

د- ٧١%

تابع السؤال الأول

بالاستعانة بالخريطة التي أمامك، أجب عن المشردين (٧-٨):



د- الروكي

٧- الرمز الذي يشير إلى موقع الأعاصير في اليابان والذي يطلق عليه اسم (التايفون).



ج- الأطلس



ب- الألب



٨- الرقم (١) يشير إلى جبال:


أ- الهملايا

٩- جدول الرموز الصحيح لمصادر تلوث المياه السطحية حسب الصورة أمامك:



ص	ص
الصناعة	الزراعة

ب-



ص	ص
الصناعة	الصرف الصحي

أ-

ص	ص
الصرف الصحي	الزراعة

د-

ص	ص
الصناعة	الزراعة

ج-

تابع السؤال الرابع:
ثانياً: اذكر واحداً مما يأتي:
١- فوائد البراكين.

٢- مصادر بيانات الطقس.

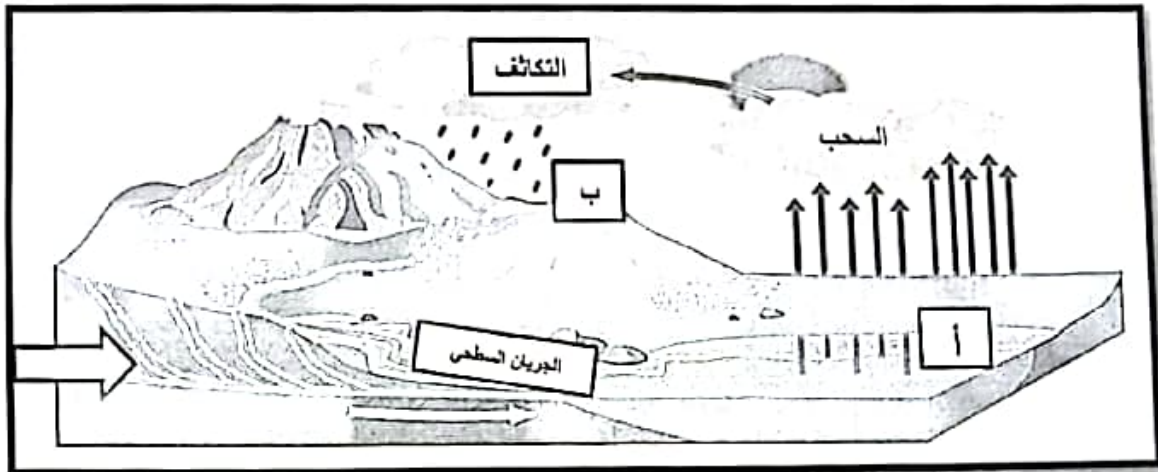
السؤال الخامس:

أولاً:

١- اعط مثالين فقط على مظاهر ازدهار الحركة العلمية في عصر الدولة الاموية في الاندلس.

ب- لماذا اهتمت سلطنة عُمان ببناء السدود؟ (يكتفي باثنان فقط)

ثانياً: ادرس شكل الدورة المائية التي أمامك، ثم أجب عن الأسئلة الآتية:



١- الرمز الذي يشير إلى مرحلة (التبخر) في الدور المائية (.....).

٢- سم نوع المياه التي تتسرب إلى باطن الأرض في الجزء المشار إليه بـ () (.....).

انتهت الأسئلة مع الدعاء للجميع بالتوفيق والنجاح


أجب عن جميع الأسئلة

السؤال الأول: ضع دائرة حول رمز الإجابة الصحيحة لكل مفردة من المفردات الآتية:

١- آخر خلفاء الدولة الأموية في الأندلس:
أ- هشام الثالث ب- عبد الرحمن بن معاوية ج- معاوية بن أبي سفيان د- عبد الرحمن الثالث

٢- الصورة التي أمامك توضح نوع من أنواع الأمطار:

أ- إعصارية
ب- تضاريسية
ج- تصاعدية
د- حمضية



٣- الغاز الذي تبلغ نسبته ٢١% وهو من الغازات المكونة للغلاف الجوي:

أ- النيتروجين ب- ثاني أكسيد الكربون ج- الأرجون د- الأوكسجين

٤- درجة قوة الزلزال وفق مقياس ريختر الذي تتشقق عنده جدران المباني و تنهيا للسقوط والانهار:

أ- ٥-٦ ب- ٦-٧ ج- ٧-٨ د- أكثر من ٨

٥- الرمز الذي يستخدم في تمثيل حالة الجو الممطر في خرائط الطقس:



٦- إمام أسس المذهب الإباضي:

أ- عبد الله بن أباض
ب- أبو عبيدة مسلم بن أبي كريمة
ج- جابر بن زيد
د- مازن بن غضوبة

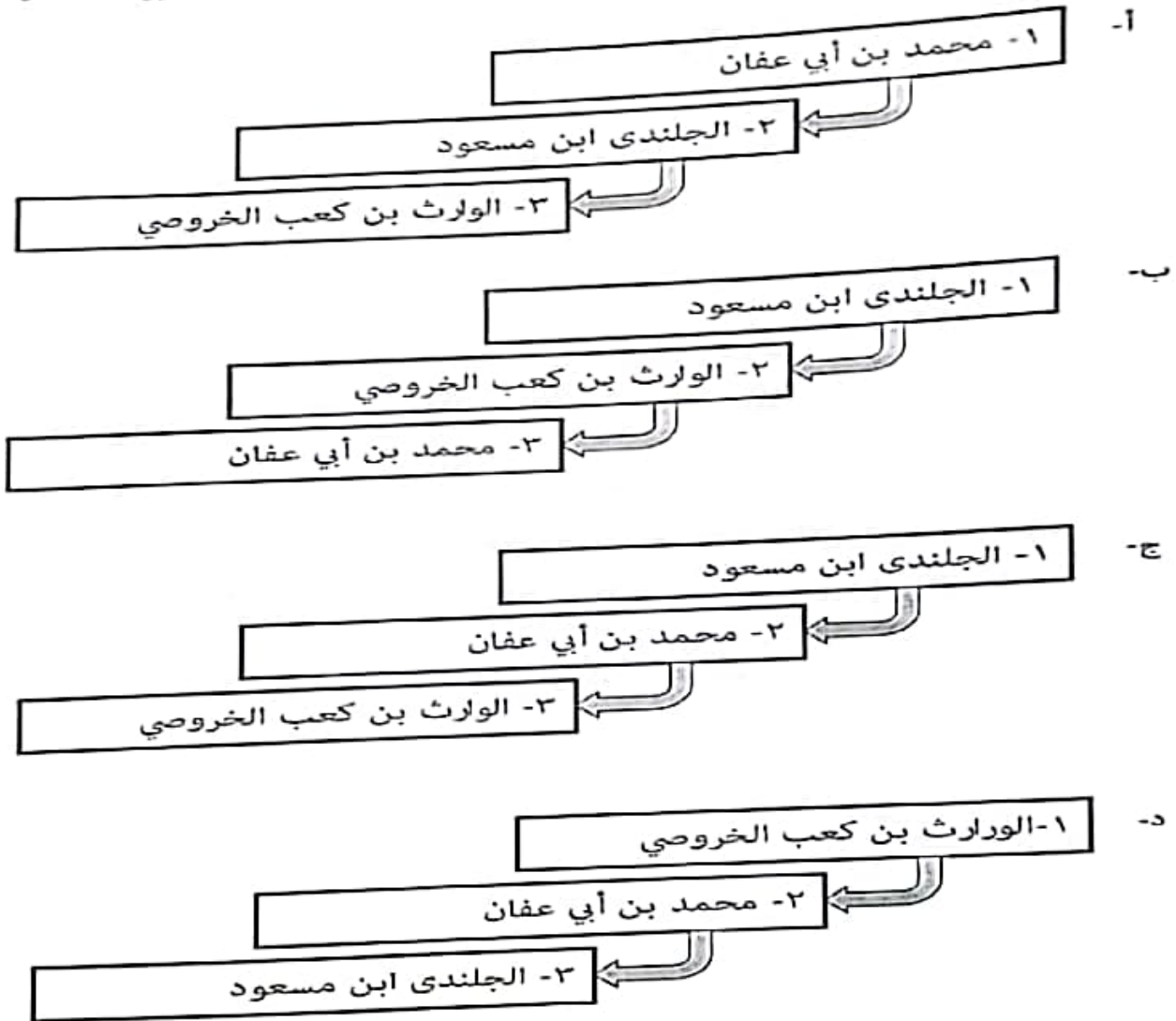
١٠- درجة التجمد في النظام الفهرنهايتي :
أ- صفر

ب- ٣٢

ج- ٢١٢

د- ١٠٠

١١- المخطط الذي يمثل الترتيب الصحيح لفترات حكم الأئمة في عهد الإمامة في عُمان من ١٣٢هـ إلى ١٧٩هـ من الأقدم إلى الأحدث:



١٢- النسبة المئوية التي يغطيها الماء للكرة الأرضية :

أ- ٤١%

ب- ٥١%

ج- ٦١%

د- ٧١%

تابع السؤال الأول

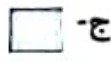
- بالاستعانة بالخريطة التي أمامك، أجب عن المشردين (٧-٨):



٧- الرمز الذي يشير إلى موقع الأعاصير في اليابان والذي يطلق عليه اسم (التايفون).



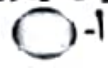
د-



ج-



ب-



أ-

٨- الرقم (١) يشير إلى جبال :


د- الروي

ج- الأطلس

ب- الألب

أ- الهملايا

٩- جدول الرموز الصحيح لمصادر تلوث المياه السطحية حسب الصورة أمامك:



س	ص
الصناعة	الزراعة

ب-

س	ص
الصرف الصحي	الصناعة

أ-

س	ص
الصرف الصحي	الزراعة

د-

س	ص
الزراعة	الصناعة

ج-

السؤال الثاني:

٨

أولاً: اكتب اسم المفهوم أو المصطلح الدال على العبارات الآتية:

المفهوم/المصطلح	العبرة	٢
.....	صخور مكونة للقشرة الأرضية وتحيط بالكرة الأرضية إحاطة تامة.	١
.....	عبارة عن مناطق ذات ضغط جوي شديد الانخفاض وتتكون فوق المحيطات المدارية الدافئة.	٢
.....	دولة بسطت سلطانها على المغرب وفي سنة ٤٧٩هـ دخل زعيمها يوسف بن تاشفين إلى الأندلس، وانتصر على الأسبان في موقعة الزلاقة.	٣

ثانياً:

أ- اعط تفسيراً لما يلي:

١- تسمية العُثمانيين قائد الجيش العباسي لعمان محمد بن نور بمحمد بن بور.

٢- اهتمام الأمير عبدالرحمن الثالث بتقوية الأسطول الأندلسي.

ب- ادرس الشكل الذي يوضح زاوية سقوط الشمس على سطح الأرض جيداً، ثم أجب عن الأسئلة الآتية:

١- اتجاه زاوية سقوط الشمس في المنطقة

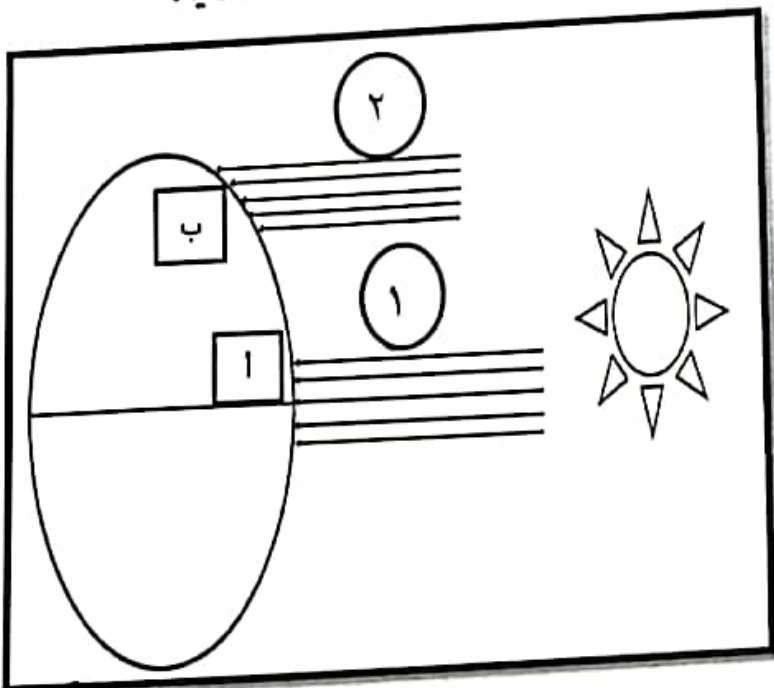
المشار إليها بالرقم (٢)

٢- أكثر المناطق حرارة مقارنتها بمناطق

أخرى بالكرة الأرضية.

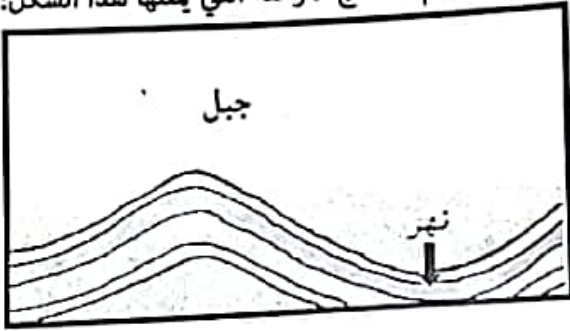
ب ١

(ضع علامة ✓ بجانب المنطقة الصحيحة)



تليق السؤال الثاني:

ج- ادرس الشكل التوضيحي لأحد مراحل نشأة الجبال الالتوائية أمامك، ثم استنتج المرحلة التي يمثلها هذا الشكل:



المرحلة الثانية



المرحلة الثالثة

(ضع علامة ✓ بجانب المرحلة الصحيحة)

السؤال الثالث:

أولاً:

١- "يتم مواجهة أخطار الزلازل بتوفير واتخاذ إجراءات وتدابير، وضع الاجراء أمام الصورة التي تناسبه:



ب- كيف يؤثر الطقس على حياتنا اليومية؟ (يكتفي باثنان فقط)

ثانياً:

١- ادرس خريطة مسارات الأعاصير التي تؤثر على بعض محافظات

سلطنة عُمان جيداً، ثم أجب عن الأسئلة الآتية:

١- مسار الإعصار المشار إليه بالرقم (١) تتأثر به السلطنة في

شهر (.....)

٢- اقترح حلاً واحداً لمواجهة خطر الفيضانات التي تسببها الأعاصير.





تابع السؤال الثالث:

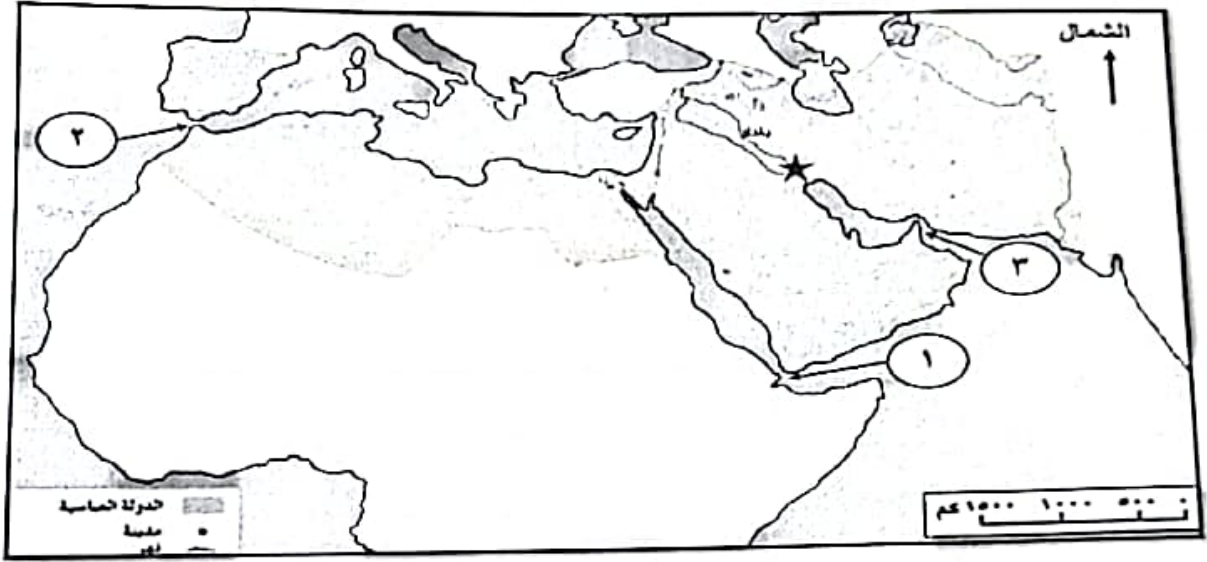
ب- " يعتبر غاز ثاني أكسيد الكربون الغاز الوحيد الذي ترتفع نسبته في الجو " ، علل ذلك.

٦

السؤال الرابع:

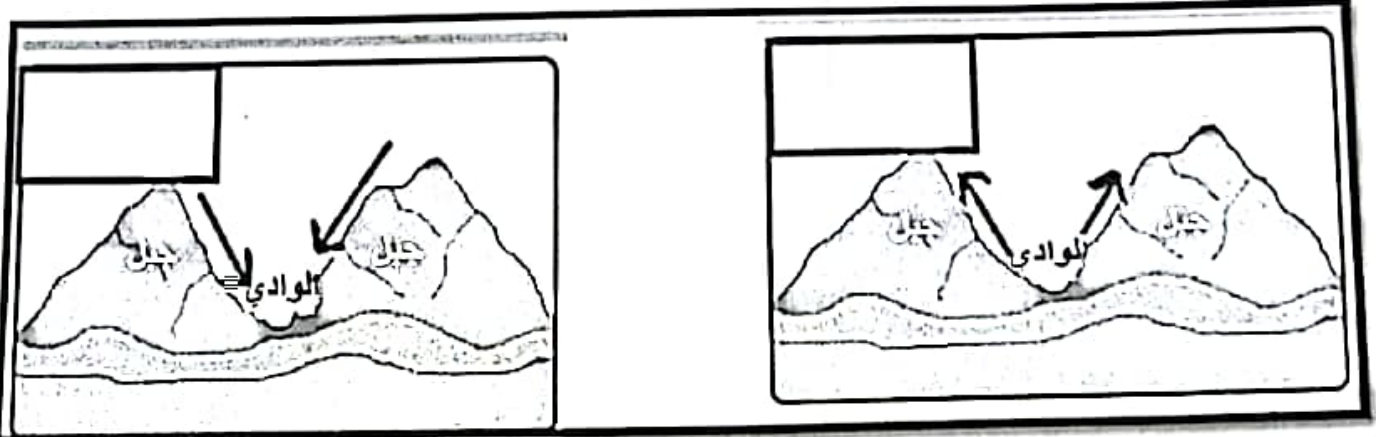
أولاً:

١- ادرس الخريطة التي أمامك جيداً، ثم أجب عن الأسئلة الآتية:



- ١- الرقم الذي يشير إلى المضيق الذي عبره عبدالرحمن بن معاوية إلى الأندلس (.....).
- ٢- سم المدينة التي يشير إليها بالرمز (★) (.....).

ب- ارسم الرموز التي أمامك (☀ / ☾) والتي توضح فترة حدوث نسيم الوادي ونسيم الجبل داخل الأشكال الآتية :



يتبع / ٧

أولاً: اكتب اسم المفهوم أو المصطلح الدال على العبارات الآتية:

المفهوم/المصطلح	العبرة	م
.....	صخور مكونة للقشرة الأرضية وتحيط بالكرة الأرضية إحاطة تامة.	١
.....	عبرة عن مناطق ذات ضغط جوي شديد الانخفاض وتتكون فوق المحيطات المدارية الدافئة.	٢
.....	دولة بسطت سلطانها على المغرب وفي سنة ٤٧٩هـ دخل زعيمها يوسف بن تاشفين إلى الأندلس، وانتصر على الأسبان في موقعة الزلاقة.	٣

انياً:

اعط تفسيراً لما يلي:

١- تسمية العُمانيين قائد الجيش العباسي لعُمان محمد بن نور محمد بن بور.

٢- اهتمام الأمير عبدالرحمن الثالث بتقوية الأسطول الأندلسي.

- ادرس الشكل الذي يوضح زاوية سقوط الشمس على سطح الأرض جيداً، ثم أجب عن الأسئلة الآتية:

١- اتجاه زاوية سقوط الشمس في المنطقة

المشار إليها بالرقم (٢)

٢- أكثر المناطق حرارة مقارنتها بمناطق

أخرى بالكرة الأرضية.

ب أ

ع علامة ✓ بجانب المنطقة الصحيحة)

